



Coimisiún na Scrúduithe Stáit

An Ardteistiméireacht Fheidhmeach, 2008

Speisialachas Gairme– Innealtóireacht (240 marc)

Dé Luain 9 Meitheamh, 2008

Maidin 9:30 – 11:00

Treoirlínte Ginearálta d'Iarrthóirí

1. Scríobh do **scrúduimhir** sa spás seo.
2. Freagair **gach** ceist as Roinn 1.
3. Freagair **trí cheist ar bith** as Roinn 2.
4. Scríobh do chuid freagraí sna spásanna atá ann dóibh agus bíodh sceitsí san áireamh de réir mar is cuí.
5. Tabhair suas an páipéar seo i ndeireadh an scrúdaithe.
6. Má thugann tú faoi Cheist 7, freagair **dhá thopaic ar bith**.

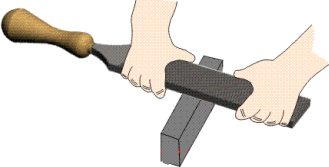

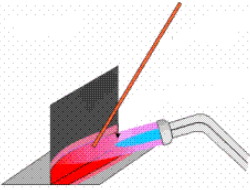


<i>Don Fheitheoir amháin</i>	<i>Don Scrúdaitheoir amháin</i>	
<i>Stamp an Ionaid</i>	1. Iomlán na n-iomlán bun leathanaigh	
	2. Iomlán na gceisteanna dícheadaithe ar fad	
	3. Marc iomlán a bronnadh (1 lúide 2)	
	4. Bónasmharc don fhreagairt trí Ghaeilge (más cuí)	
	5. Marc iomlán a bronnadh má bhíonn Bónas Gaeilge i gceist (3 + 4)	
	<p>Nóta: Ní mór go mbeadh an marc i gcolún 3 (nó i gcolún 5 má bhronntar Bónas Gaeilge) agus an marc iomlán ar an liopa i ndeireadh na scripte cothrom le chéile.</p>	

Roinn 1 (90 Marc)
Freagair gach ceann de na trí cheist

Roinn 1 C1.

45 marc

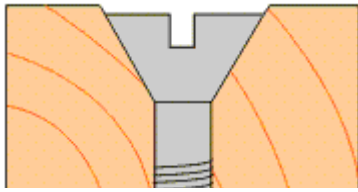
Tabhair freagraí gearra ar **chúig cinn déag ar bith** díobh seo a leanas:
 (tá sé ceadaithe sceitsí a úsáid chun do fhreagraí a mhíniú)

CEIST	FREAGRA
<p>(a) Ainmnigh agus luaigh cuspóir theicníc an líofa a thaispeántar anseo?</p> 	<p>Ainm na teicníce _____</p> <p>Cuspóir _____</p> <p>_____</p>
<p>(b) Sainaithin an uirlis láimhe a thaispeántar agus luaigh úsáid oiriúnach dó.</p> 	<p>Ainm _____</p> <p>Úsáid oiriúnach _____</p> <p>_____</p>
<p>(c) Luaigh feidhm amháin atá ag an bpróiseas ceangail a thaispeántar thíos.</p> 	<p>Feidhm _____</p> <p>_____</p> <p>_____</p>
<p>(d) Sainaithin an uirlis a thaispeántar agus luaigh úsáid oiriúnach dó.</p> 	<p>Uirlis _____</p> <p>Úsáid _____</p> <p>_____</p>
<p>(e) Ainmnigh próiseas ceangail amháin a thaispeántar i struchtúr an droichid thíos agus mol fáth a n-úsáidtear é.</p> 	<p>Ainm _____</p> <p>Fáth _____</p> <p>_____</p>

CEIST

FREAGRA

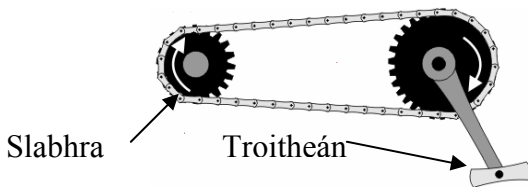
(f) Ainmnigh an scriú a thaispeántar agus luaigh cá háit ar féidir é a úsáid.



Ainm _____

Úsáid _____

(g) Mol ábhair oiriúnacha don slabhra agus don troitheán sa mheicníocht rothair a thaispeántar.



Ábhar oiriúnach don slabhra

Ábhar oiriúnach don troitheán

(h) Cuir tic sa bhosca ceart chun an dá phríomh-mhiotal a thaispeántar a úsáidtear chun sádar a dhéanamh.



Luaidhe + Iarann

Stán + Airgead

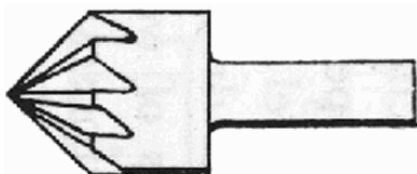
Stán + Luaidhe

(i) Luaigh réamhchúram sábháilteachta **amháin** atá le comhlíonadh nuair a úsáidtear preabshábh leictreach, mar a thaispeántar.



Réamhchúram sábháilteachta

(j) Ainmnigh an uirlis a thaispeántar agus luaigh an úsáid a bhaintear as.

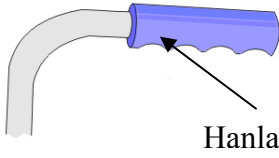


Ainm _____

Úsáid _____

CEIST	FREAGRA
-------	---------


(k) Luaigh ábhar oiriúnach a úsáidtear chun hanla an tralaí a thaispeántar a dhéanamh, agus tabhair fáth **amháin** leis an rogha sin agat.



Hanla

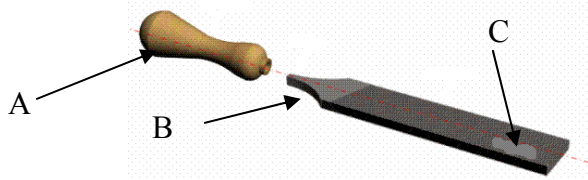
Ábhar _____
Fáth _____

(l) Luaigh réamhchúram sábháilteachta **amháin** a chaithfear a chomhlíonadh nuair a úsáidtear an uirlis a thaispeántar.




Réamhchúram Sábháilteachta

(m) Ainmnigh **dhá pháirt ar bith** de chuid an líomháin láimhe a thaispeántar.




A _____
B _____
C _____

(n) Sainaithin an cnó a thaispeántar agus luaigh úsáid oiriúnach dó.



Ainm _____
Úsáid _____

(o) Mol ábhar oiriúnach le haghaidh an píopa a thaispeántar thíos.

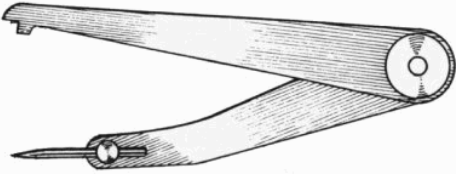


Píopa

Ábhar le haghaidh an Píopa _____


CEIST	FREAGRA
-------	---------

(p) Cad é cuspóir an chailpéir chorrchosaigh a thaispeántar anseo?




Cuspóir _____

(q) Ainmnigh an rud atá marcáilte ‘A’ a úsáidtear chun an roth a choinneáil ar an acastóir.



Ainm _____


(r) Cad a léiríonn an tsiombail sábháilteachta seo agus cá háit a n-úsáidfí í?



Léiríonn an tsiombail _____

 Cá háit a n-úsáidfí í? _____


(s) Sainaithin an uirlis a thaispeántar agus luaigh úsáid oiriúnach dó.



Ainm _____

 Úsáid _____

(t) Ainmnigh an uirlis a thaispeántar agus luaigh úsáid a bhaintear as sa seomra innealtóireachta.

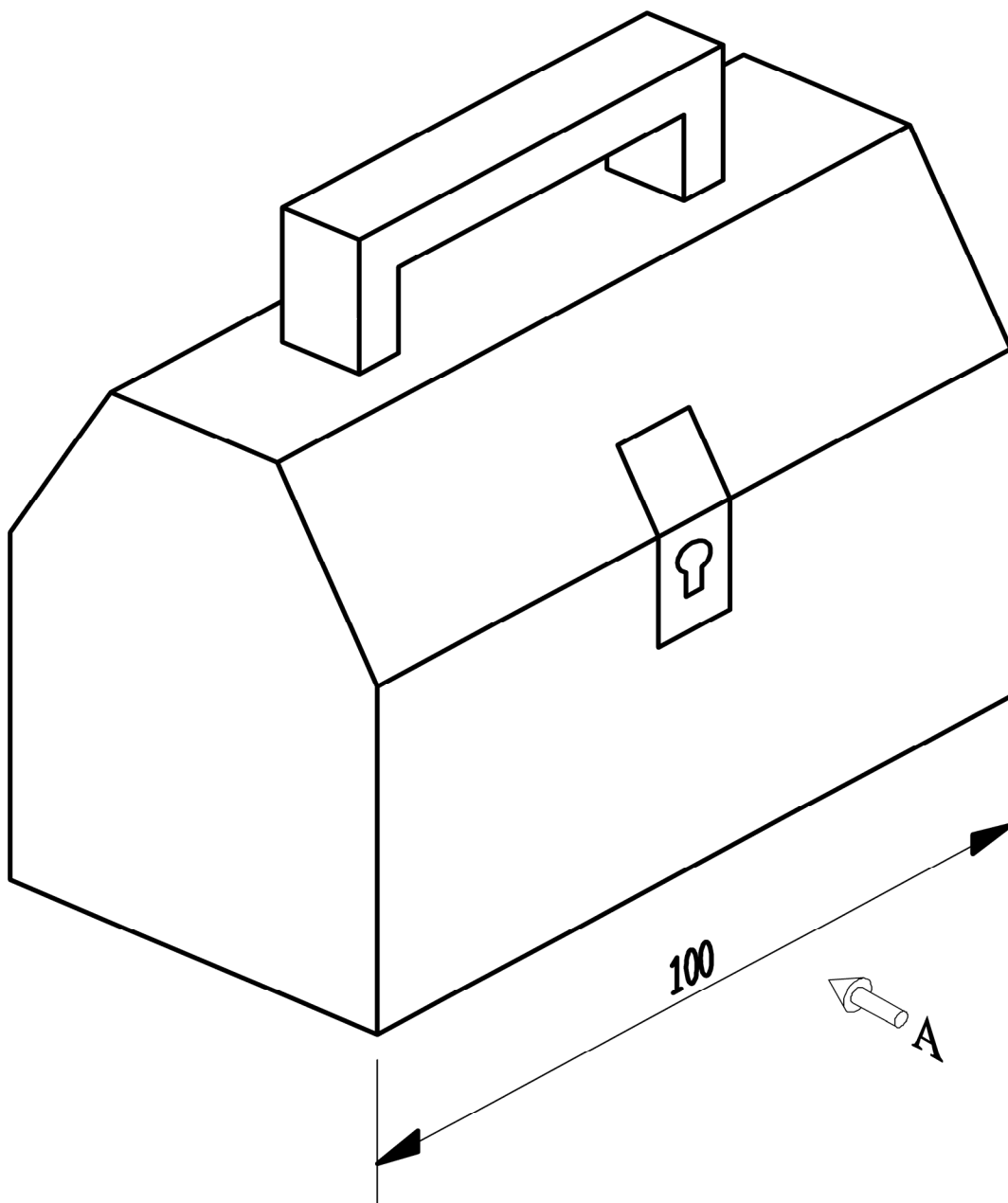


Ainm _____
 Úsáid _____

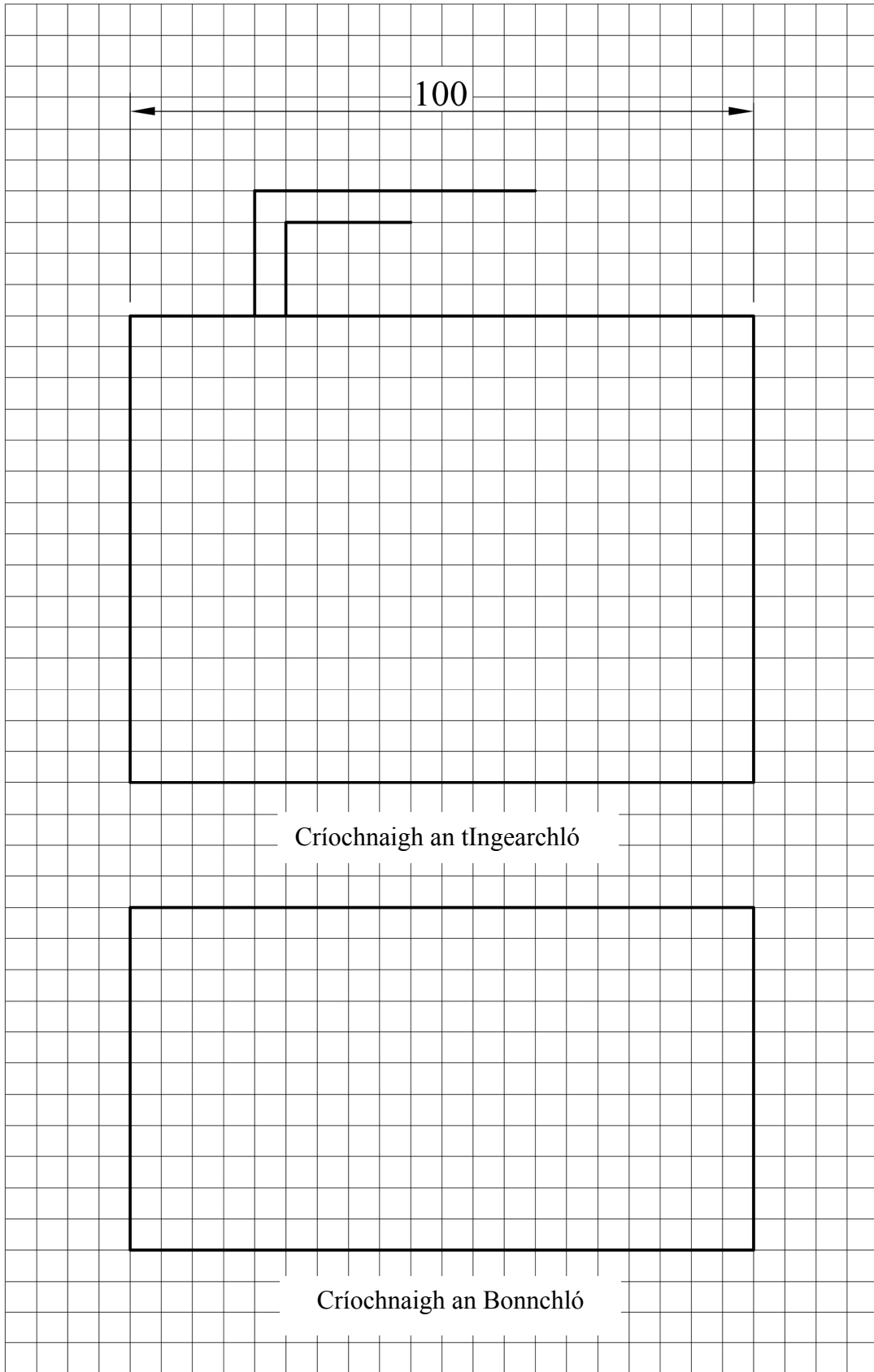
Taispeántar amharc pictiúrtha de bhosca uirlisí anseo thíos.

Tarraing an dá amharc seo a leanas den bhosca uirlisí ar an bpáipéar greille thall:

- (a) Aghaidhchló sa treo ina bhfuil an tsaighead ‘A’.
- (b) Plean a theilgtear ó ón aghaidhchló (a).
- (c) Taispeántar toise amháin ar an amharc pictiúrtha.
Cuir isteach **trí** thoise eile ar do líníocht sa pháipéar greille thall.



Nóta: Tá gach cearnóg greille 5 mm ar fad.



(a) Ainmnigh an dá phróiseas innealtóireachta a thaispeántar thíos agus luaigh sampla **amháin** de réamhchúram maith sábháilteachta atá á chomhlíonadh i **ngach** cás.

A



B



Ainm an phróisis innealtóireachta

Réamhchúram sábháilteachta

A _____

B _____

(b) Taispeánann an léaráid oibreoir ag úsáid siséil sa cheardlann agus neamhshuim á déanamh aige de chúrsaí sábháilteachta. Luaigh **dhá** réamhchúram sábháilteachta ba chóir a chomhlíonadh nuair a bhaintear úsáid as siséal.

Réamhchúram Sábháilteachta 1 _____

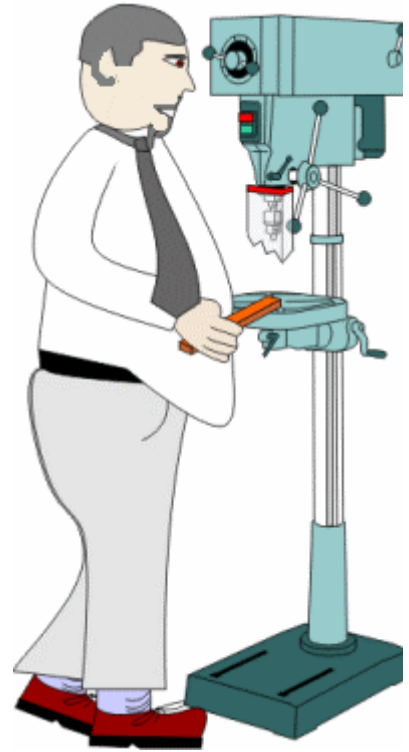
Réamhchúram Sábháilteachta 2 _____



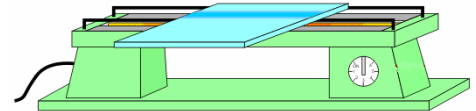
(c) Déan cur síos ar **dhá** réamhchúram sábháilteachta **ar bith** ba chóir don oibreoir a úsáideann an meaisín druileála a thaispeántar, a chomhlíonadh.

Réamhchúram Sábháilteachta 1 _____

Réamhchúram Sábháilteachta 2 _____



(d) Luaigh réamhchúram sábháilteachta **amháin** ba chóir a chomhlíonadh nuair a úsáidtear an stiall téitheoir a thaispeántar chun plaistigh a lúbadh.



(e) Faightear na siombailí sábháilteachta thíos i gceardlann innealtóireachta.

Tabhair míniú achomair ar **gach** ceann de na siombailí a thaispeántar.

A



Siombail A _____

B

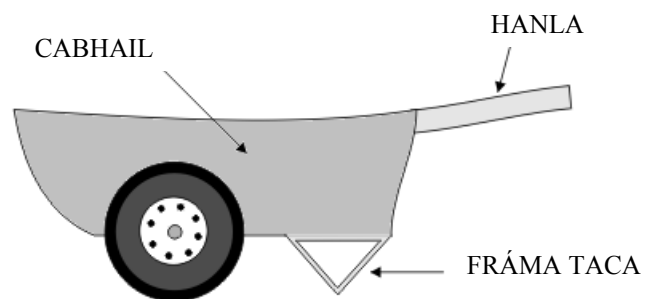


Siombail B _____

Ba chóir sceitse den **réiteach deiridh** le haghaidh bhrac taca/bhraic thaca an dréimire a tharraingt thíos i nGreille B.

Greille B - RÉITEACH DEIRIDH

(b) Dearadh an barra rotha thíos le haghaidh obair sa ghairdín.

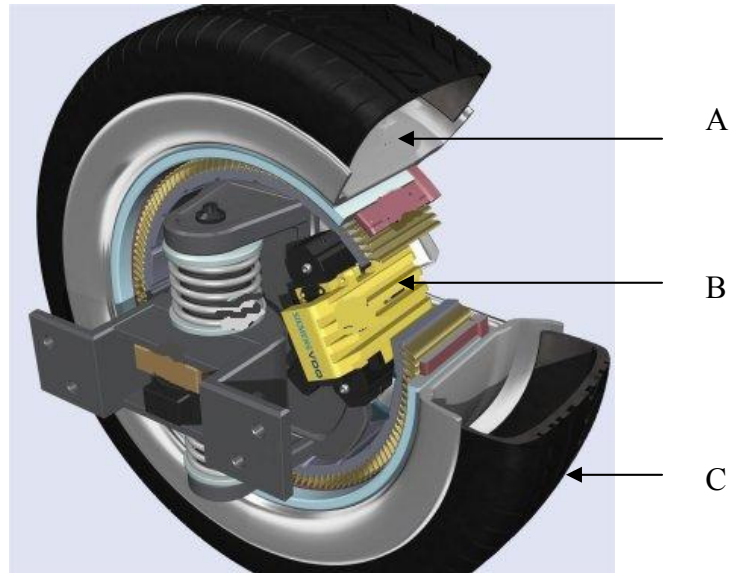


(i) Mol ábhar oiriúnach le cabhail an bharra rotha a dhéanamh as.

(ii) Tabhair fáth leis an rogha sin agat.

(iii) Ar bhonn an ábhair atá roghnaithe agat, mínigh cén chaoi ina bhféadfá an fráma taca a cheangal de chabhail an bharra rotha.

- (a) Taispeántar léaráid thrasghearrtha de roth cairr thíos. Sainaithe agus déan cur síos ar fheidhm na trí páirteanna a bhfuil na lipéid, A, B agus C.



(i) Páirt A – Ainm _____

Feidhm Pháirt A _____

(ii) Páirt B – Ainm _____

Feidhm Pháirt B _____

(iii) Páirt C - Ainm _____

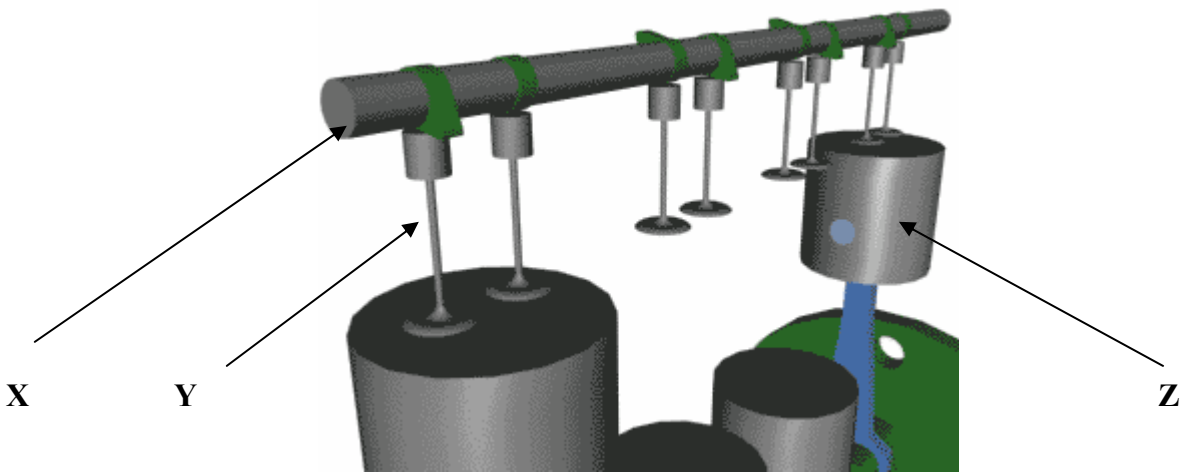
Feidhm Pháirt C _____

(b) Tabhair fáth **amháin** a mhíneodh róthéamh inneall an chairr thíos.



Fáth _____

(c) Tá trí ghnáth-chomhbhall a úsáidtear in inneall cairr lipéadaithe le X, Y agus Z. Sainaithin na **trí** chomhbhall agus mínigh feidhm **gach** cinn díobh.



Páirt	Ainm an chomhbhail	Feidhm
X		
Y		
Z		

Modúl na gCóras

(Áirítear **dhá thopaic ar bith** mar mhodúl iomlán)

Freagair **dhá cheann ar bith** as na cúig thopaic seo a leanas.

Topaic (a) – Dearadh Ríomhchuidithe (CAD)

Topaic (b) – Leictreachas

Topaic (c) – Leictreonaic

Topaic (d) – Meicníochtaí

Topaic (e) – Neomataic

(a) Taispeántar líníocht CAD d’fháinne eochrach thíos. Liostaigh **ceithre** ordú CAD atá riachtanach chun an líníocht a tháirgeadh.



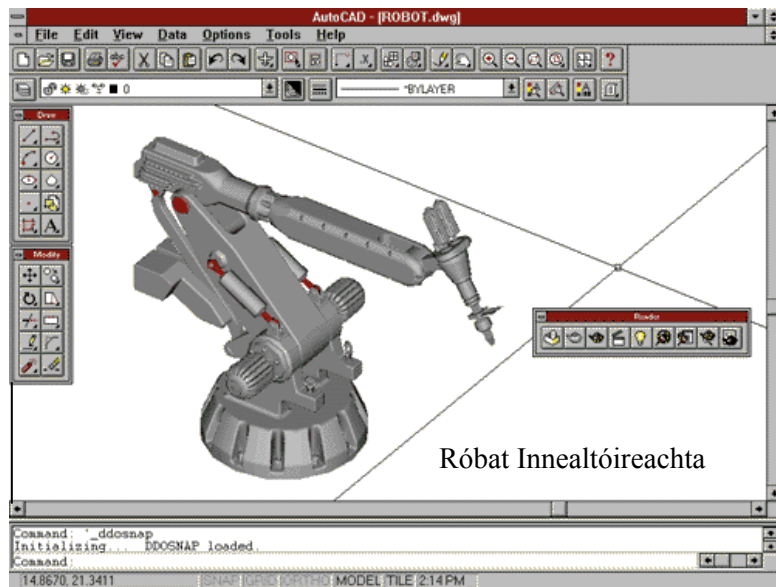
Ordú 1 _____

Ordú 2 _____

Ordú 3 _____

Ordú 4 _____

(b) Pacáiste CAD a tháirgeann an róbat innealtóireachta a thaispeántar thíos. Mínigh an gnáthamh atá i gceist chun téacs a chur isteach ar líníocht CAD.



Gnáthamh _____

- (a) Taispeántar gineadóir ar dheis. Mínigh go hachomair an chaoi ina n-oibríonn an gineadóir.



Miniú _____

- (b) Ainmnigh ceithre cinn ar bith de na comhbhaill a thaispeántar thíos, agus luaigh úsáid oiriúnach do gach ceann acu.



Ainm _____
 Úsáid _____




Ainm _____
 Úsáid _____



Ainm _____
 Úsáid _____



Ainm _____
 Úsáid _____




Ainm _____
 Úsáid _____



Ainm _____
 Úsáid _____

(a) Ainmnigh na trí chomhbhall a thaispeántar agus luaigh úsáid oiriúnach le gach ceann díobh.



Ainm _____

Úsáid _____



Ainm _____

Úsáid _____



Ainm _____

Úsáid _____

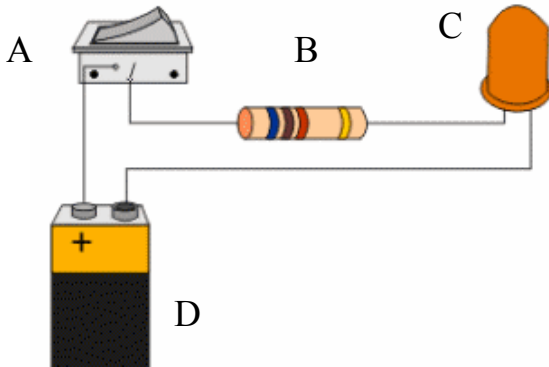
(b) Sainaithin an uirlis a thaispeántar agus mínigh an úsáid a bhaintear as sa leictreonaic.



Ainm _____

Úsáid _____

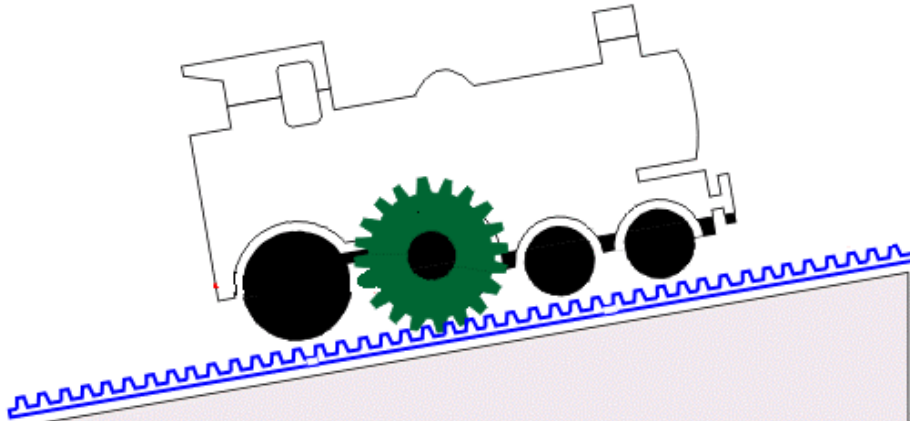
(c) Sainaithin gach ceann de na comhbhaill leictreonacha a thaispeántar agus scríobh do chuid freagraí sa tábla atá ann dóibh.



	Ainm an Chomhbhaill Leictreonaigh
A	
B	
C	
D	

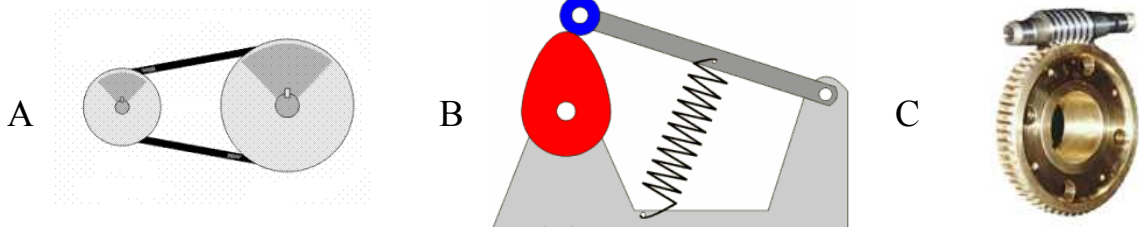
(d) Mínigh an chaoi a n-oibríonn an ciorcad thuas.

- (a) Taispeánann an léaráid traein agus meicníocht a chabhraíonn léi gluaiseacht suas an cnoc. Mínigh an chaoi ina n-oibríonn an mheicníocht.



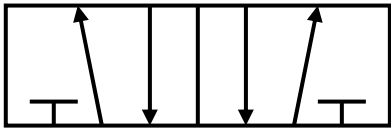
Míniú _____

- (b) Sainaithin na trí mheicníocht ‘A’, ‘B’ agus ‘C’ a thaispeántar thíos agus luaigh úsáid **amháin** le haghaidh gach ceann díobh.



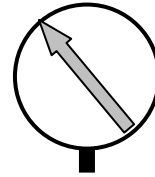
	Ainm	Úsáid
Meicníocht A		
Meicníocht B		
Meicníocht C		

(a) Ainmnigh trí cinn ar bith de na siombailí neomatacha a thaispeántar agus luaigh úsáid oiriúnach le haghaidh gach ceann díobh.



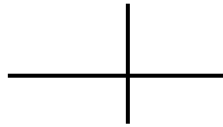
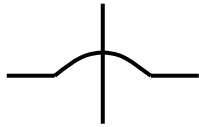
Ainm _____

Úsáid _____




Ainm _____

Úsáid _____



Ainm _____

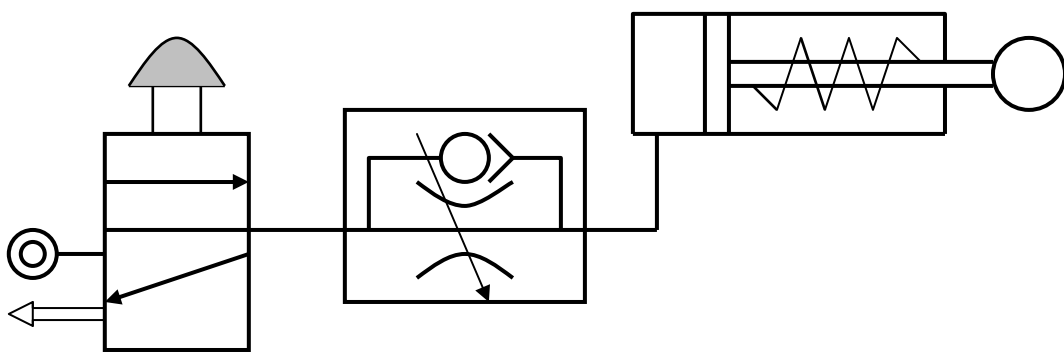
Úsáid _____



Ainm _____

Úsáid _____

(b) Mínigh an chaoi ina n-oibríonn an ciorcad neomatach thíos.



Míniú

Leathanach Bán

Leathanach Bán

Leathanach Bán

Don scrúdaitheoir amháin		
Ceist	Marc	Iomlán
Roinn 1		
1		
2		
3		
Roinn 2		
4		
5		
6		
7 (a)		
7 (b)		
7 (c)		
7 (d)		
7 (e)		
Iomlán		