



Coimisiún na Scrúduithe Stáit

An Ardeistiméireacht Fheidhmeach, 2007

Speisialachas Gairme – Innealtóireacht (240 marc)

Dé Luain 11 Meitheamh, 2007

Maidin 9.30 a.m. – 11.00 a.m.

Treoracha Ginearálta d'Iarrthóirí

1. Scríobh **do scrúduimhir** sa spás seo.
2. Freagair **gach** ceist as Roinn 1.
3. Freagair **trí cheist ar bith** as Roinn 2.
4. Scríobh na freagraí sna spásanna cuí agus bíodh sceitsí leo mar a oireann.
5. Tabhair an páipéar seo don fheitheoir ag deireadh an scrúdaithe.
6. Má thugann tú faoi Cheist 7 a fhreagairt, freagair dhá thopaic ar bith.






<i>Don Fheitheoir amháin</i>	<i>Don Scrúdaitheoir amháin</i>	
<i>Stampa an Ionaid</i>	1. Suim na n-iomlán bun leathanaigh	
	2. Comhiomlán na gceisteanna dícheadaithe	
	3. Marc iomlán a bronnadh (1 lúide 2)	
	4. Marc bónais don fhreagairt trí Ghaeilge (más cuí)	
	5. Marc iomlán a bronnadh agus bónas don Ghaeilge (3 móide 4)	
Nóta : Ní mór don mharc i sraith 3 (nó sraith 5 má bronnadh bónas Gaeilge) a bheith cothrom leis an marc iomlán ar an liopa ag deireadh na scrípte.		

Roinn 1 (90 Marc)
Freagair na trí cheist ar fad

Roinn 1 C1.

45 marc

Tabhair freagraí gonta ar **chúig cinn déag ar bith** díobh seo a leanas:
(is féidir sceitsí a tharraingt chun do chuid freagraí a mhíniú).

CEIST	FREAGRA
<p>(a) Cén cuspóir atá ag an rannadóir spriongaithe a thaispeántar anseo?</p> 	<p>Cuspóir _____</p> <p>_____</p> <p>_____</p>
<p>(b) Luaigh réamhchúram sábháilteachta amháin is cóir a chur i bhfeidhm sula n-úsáidtear druilire láimhe leictreach.</p> 	<p>Réamhchúram _____</p> <p>_____</p>
<p>(c) Luaigh fáth amháin le masc táthúcháin a úsáid mar a thaispeántar thíos.</p> 	<p>Fáth _____</p> <p>_____</p>
<p>(d) Sainaithin an uirlis a thaispeántar agus luaigh an úsáid a bhaintear aisti.</p> 	<p>Uirlis _____</p> <p>Úsáid _____</p> <p>_____</p>
<p>(e) Luaigh fáth tábhachtach amháin a ndéantar boscaí bruscair rothacha as plaisteach.</p> 	<p>Fáth _____</p> <p>_____</p> <p>_____</p>

CEIST	FREAGRA
-------	---------


(f) Ainmnigh an uirlis thíos agus luaigh úsáid oiriúnach dó.



Ainm _____

Úsáid _____

(g) Ainmnigh **dhá pháirt ar bith** den cheanglóir a thaispeántar ag A, B agus C.



A _____

B _____

C _____

(h) Cuir tic sa bhosca ceart a le cur in iúl cén dá mhíotal a úsáidtear chun an hanla dorais práis a thaispeántar a dhéanamh.



Luaidhe + Iarann

Copar + Sinc

Stán + Airgead

(i) Luaigh réamhchúram sábháilteachta **amháin** is cóir a chur i bhfeidhm agus deimheas mar a thaispeántar, á úsáid.



Réamhchúram _____

(j) Luaigh ábhar oiriúnach a úsáidtear chun pillíní coscáin mar a thaispeántar, a dhéanamh.



Pillíní coscáin

Ábhar _____

CEIST

FREAGRA

(k) Ainmnigh ábhar oiriúnach a úsáidtear chun cabhail an fhóin phóca a thaispeántar a dhéanamh, agus luaigh fáth **amháin** le do rogha ábhar.



Ábhar _____


Fáth _____

(l) Luaigh cén áit ar féidir an cineál seo bataire a úsáid.



Úsáid _____

(m) Ainmnigh **dhá pháirt ar bith** den chasúr a thaispeántar.



A _____

B _____

C _____

(n) Ainmnigh an castaire a thaispeántar agus luaigh úsáid oiriúnach dó.



Ainm _____

Úsáid _____

(o) Ainmnigh miotal oiriúnach a úsáidtear chun an bhéalmhír druileála a thaispeántar a dhéanamh, agus luaigh fáth **amháin** le do rogha miotal.




Ainm an mhiotail _____

Fáth _____

CEIST	FREAGRA
-------	---------


(p) Ainmnigh an tomhsaire a thaispeántar agus luaigh an úsáid a bhaintear as.



Ainm _____

Úsáid _____


(q) Luaigh fáth **amháin** a n-úsáidtear prás do pionnaí na plocóide a thaispeántar.



Pionna práis

Fáth _____


(r) Cad a chiallaíonn an tsiombail sábháilteachta seo agus cén áit a n-úsáidfí í?



Ciallaíonn sí seo _____

D'úsáidfí í _____


(s) Sonraigh an uirlis a thaispeántar agus luaigh úsáid oiriúnach di.



Ainm _____

Úsáid _____

(t) Luaigh fáth **amháin** a n-úsáidtear iarann teilgthe i monarú bhís an innealtóra a thaispeántar.

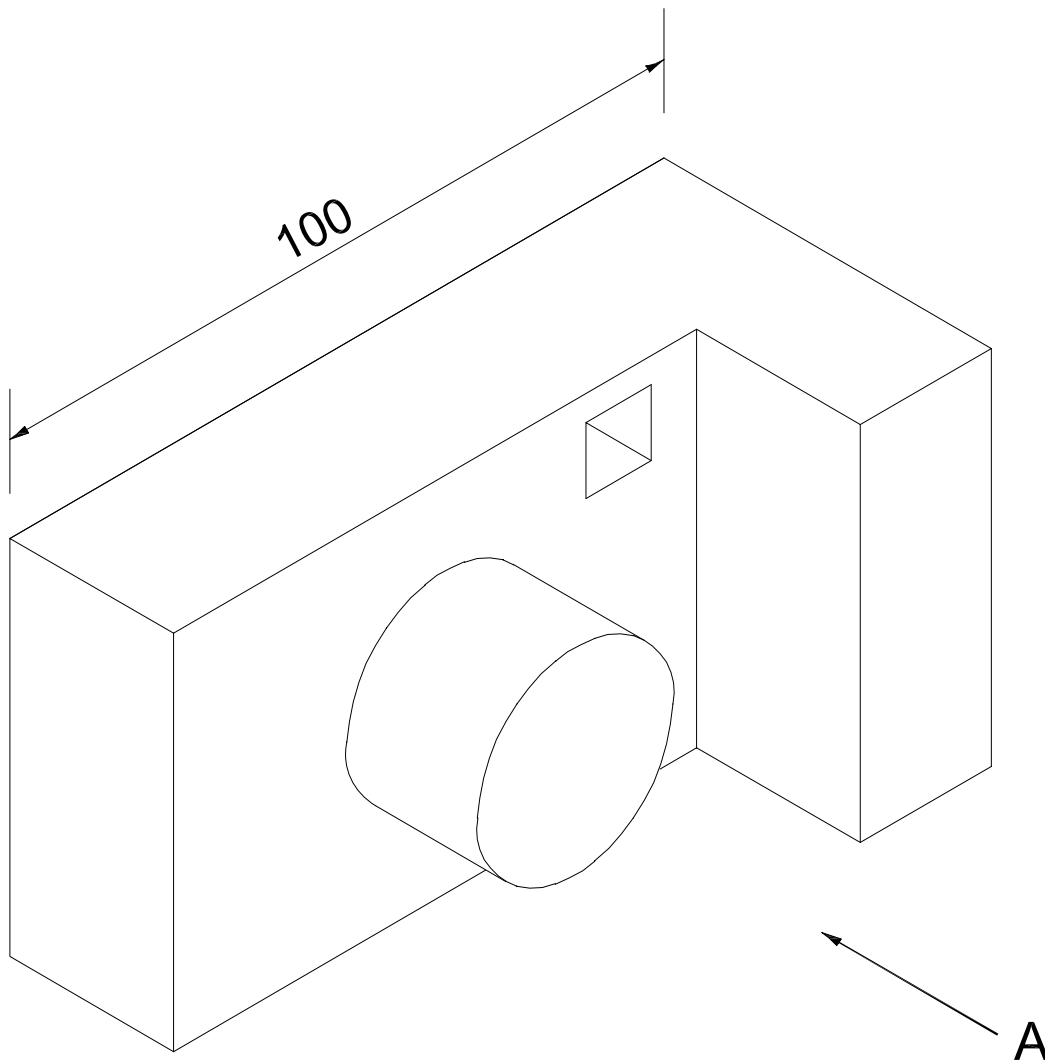


Fáth _____

Taispeántar radharc pictiúrtha de cheamara digiteach anseo thíos.

Tarraing an **dá** radharc seo a leanas den cheamara digiteach ar an bpáipéar greille thall:

- (a) Aghaidhchló sa treo ina bhfuil an tsaighead ‘A’.
- (b) Plean a theilgtear ó radharc (a).
- (c) Taispeántar toise amháin sa radharc pictiúrtha. Cuir isteach **trí** thoise eile i do léaráid ar an bpáipéar greille thall.



Nóta : Tá taobh gach cearnóige ar an ngreille 5 mm ar fad.

100



Críochnaigh an tAghaidhchló

Críochnaigh an Bonnchló

(a) Ainmnigh **dhá cheann ar bith** de na hearraí sábháilteachta a thaispeántar thíos, agus luaigh úsáid oiriúnach don dá cheann díobh.

A



B



C



Ainm an earra sábháilteachta	Úsáid oiriúnach
A _____ _____	A _____ _____
B _____ _____	B _____ _____
C _____ _____	C _____ _____

(b) Taispeántar meaisín druileála sa léaráid. Luaigh **dhá** réamhchúram sábháilteachta is cóir a chur i bhfeidhm agus meaisín druileála á úsáid.

Réamhchúram Sábháilteachta 1 _____

Réamhchúram Sábháilteachta 2 _____



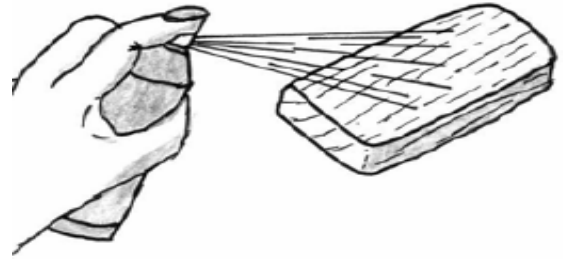
(c) Luaigh **dhá dhainséar ar bith** a ghabhann le húsáid péinteanna aerasóil agus luaigh na réamhchúraim shábháilteachta is cóir a chur i bhfeidhm i ngach cás.

Dainséar _____

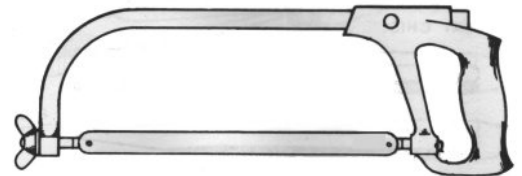
Réamhchúram shábháilteachta _____

Dainséar _____

Réamhchúram shábháilteachta _____



(d) Luaigh réamhchúram shábháilteachta **amháin** is cóir a chur i bhfeidhm agus sábh miotail á úsáid chun miotal a ghearradh.



(e) Bíonn na siombailí shábháilteachta anseo thíos le feiceáil i gceardlann innealtóireachta. Tabhair míniú achomair ar **gach ceann** de na siombailí a thaispeántar.

A



Siombail A _____

B



Siombail B _____

Roinn 2 (150 Marc)
Freagair trí cheist ar bith.

Roinn 2 C4.

50 marc

- (a) Déan dearadh, sna spásanna a chuirtear ar fáil, ar bhrac taca oiriúnach chun an teilifiseán a chrochadh ar bhalla coincréite.
Ba chóir go dtaispeánfadh an dearadh **gach ceann** díobh seo a leanas go soiléir:
- (i) taca boinn don teilifiseán;
 - (ii) an chaoi a bhfeisteofar an brac de bhalla coincréite.

Tarraing i nGreille A sceitsí de **smaointe éagsúla** a bhí agat don bhrac taca.

Tarraing i nGreille B sceitse den **toradh deiridh** don bhrac taca.



Teilifiseán



Is cóir sceitsí de **smaointe éagsúla** don bhrac taca a tharraingt i nGreille A.

Greille A – SMAOINTE

Is cóir sceitse den **toradh deiridh** don bhrac taca teilifíseáin a tharraingt i nGreille B.

Greille B – TORADH DEIRIDH

(b) Iarrtar ort an coimeádán do cheap nótaí a thaispeántar thíos a dhéanamh.

(i) Luaigh ábhar oiriúnach chun an coimeádán ceap nótaí a mhonarú.

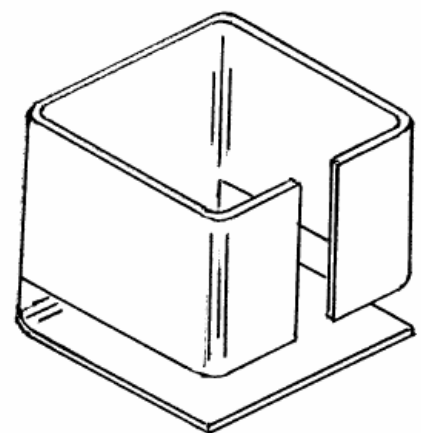
(ii) Luaigh fáth le do rogha ábhar.

(iii) Liostaigh **trí chéim** i bpróiseas monaraithe an choimeádán ceap nótaí bunaithe ar do rogha ábhar.

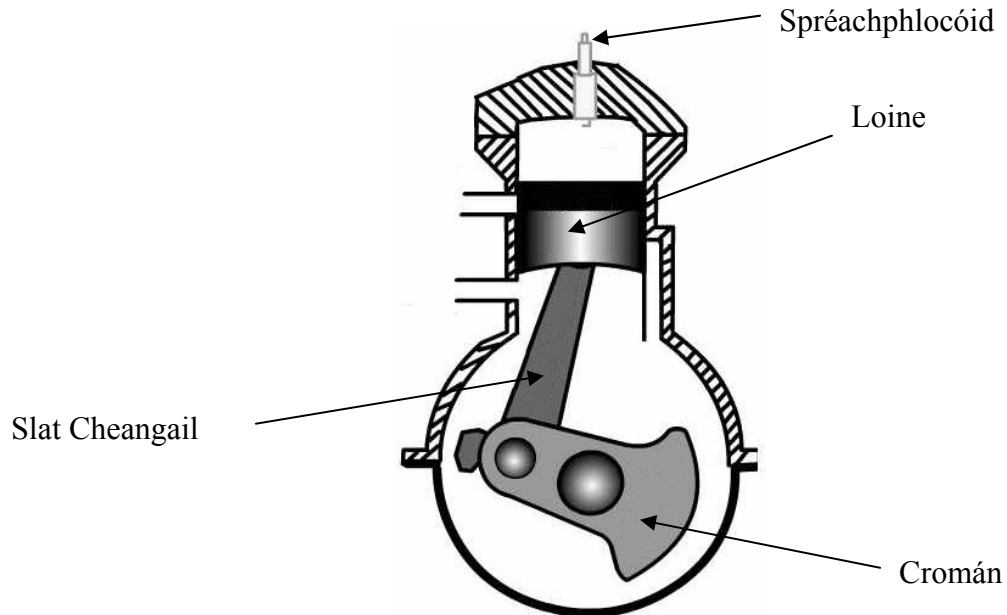
Céim 1 _____

Céim 2 _____

Céim 3 _____



- (a) Taispeántar thíos léaráid d'inneall peitрил dhá bhuille, agus lipéid ar na príomhpháirteanna. Déan cur síos ar fheidhm **trí pháirt ar bith** de na páirteanna a bhfuil lipéad orthu:
(i) Slat Cheangail; **(ii)** Spréachphlocóid; **(iii)** Loine; **(iv)** Cromán.



(i) Slat Cheangail _____

(ii) Spréachphlocóid _____


(iii) Loine _____

(iv) Cromán _____

(b) Mínigh cén fáth ar gá meascán de ghásailín agus d'ola (ola dhá bhuille) a úsáid mar bhreosla in inneall dhá bhuille.

(c) Luaigh míbhuntáiste **amháin** a bhaineann le hinneall dhá bhuille i gcomparáid le hinneall ceithre bhuille.


(d) Tá na lipéid X, Y agus Z ar thrí chomhpháirt choitianta i ngluaisrothar. Sainaithin na **trí** chomhpháirt agus mínigh an fheidhm atá ag **gach ceann** díobh.



	Ainm na Comhpháirte	Feidhm
X		
Y		
Z		

(a) Cruthaítear an babhla a thaispeántar thíos as diosca copair cothrom. Baintear úsáid as máilléad agus mála gainimh san obair. Déan cur síos achomair ar **cheithre cinn ar bith** de na príomhchéimeanna i dtáirgeadh an bhabhla.

(Úsáid sceitsí mar is cuí.)



Céim 1 _____

Céim 2 _____

Céim 3 _____

Céim 4 _____

Modúl na gCóras

(Is ionann modúl iomlán agus **dhá thopaic ar bith**)

Freagair **dhá cheann ar bith** de na cúig thopaic seo a leanas:

Topaic (a) – Dearadh Ríomhchuidithe (CAD)

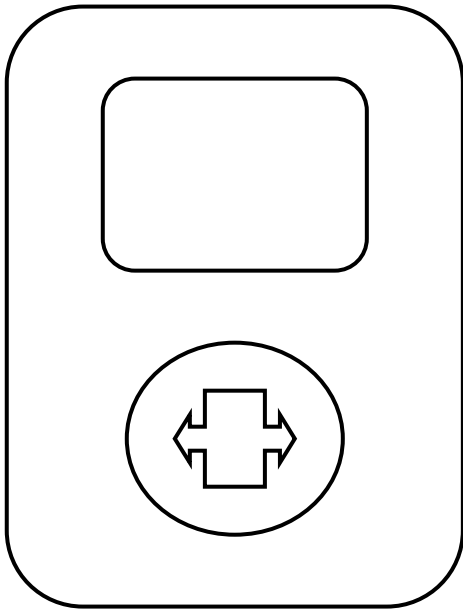
Topaic (b) – Leictreachas

Topaic (c) – Leictreonaic

Topaic (d) – Meicníochtaí

Topaic (e) – Neomataic

- (a) Taispeántar léaráid CAD de sheinnteoir ceoil digiteach. Liostaigh ceithre cinn ar bith de na horduithe CAD is gá chun an léaráid a chur i gcrích.



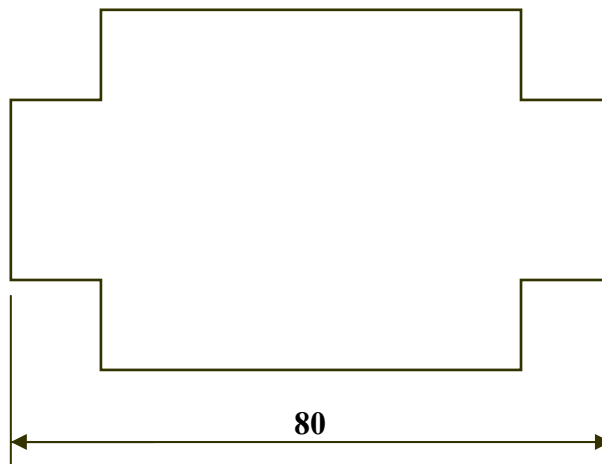
Ordú 1 _____

Ordú 2 _____

Ordú 3 _____

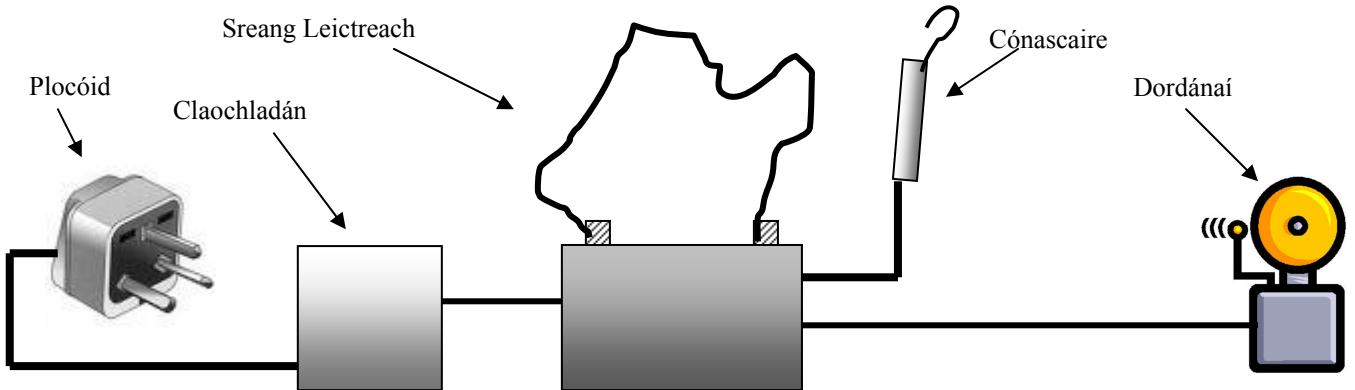
Ordú 4 _____

- (b) Tá an léaráid thíos 80 mm ar a fad mar a thaispeántar. Mínigh an gnás chun an toise a thaispeántar a chur isteach le pacáiste CAD.



Gnás _____

(a) Taispeántar léaráid de chluiche dordánaí leictreach (cluiche láimhe socra). Míniú go hachomair an chaoi a n-oibríonn an cluiche nuair a bhaintear úsáid as na páirteanna leictreacha a thaispeántar.



Míniú _____

(b) Ainmnigh ceithre cinn ar bith de na comhpháirteanna a thaispeántar thíos agus luaigh úsáid oiriúnach do gach ceann díobh.



Ainm _____

Úsáid _____



Ainm _____

Úsáid _____



Ainm _____

Úsáid _____



Ainm _____

Úsáid _____



Ainm _____

Úsáid _____



Ainm _____

Úsáid _____

(a) Ainmnigh na trí chomhpháirt a thaispeántar agus luaigh úsáid do gach ceann díobh.



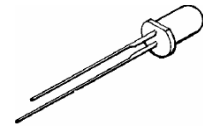
Ainm _____

Úsáid _____



Ainm _____

Úsáid _____



Ainm _____

Úsáid _____

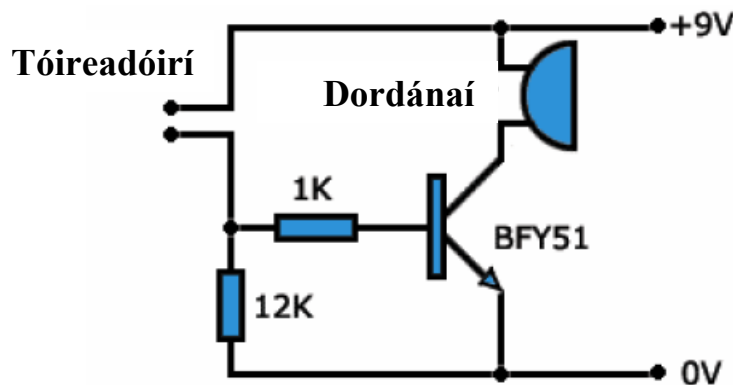
(b) Cén cuspóir atá ag na bandaí daite a thaispeántar ar an bhfriotóir thíos?



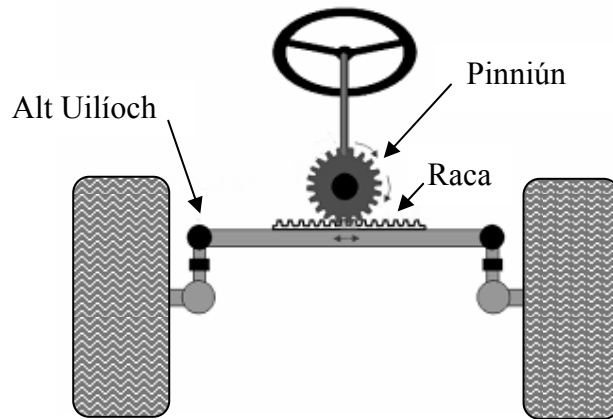
Bandaí daite

Cuspóir na mbandaí _____


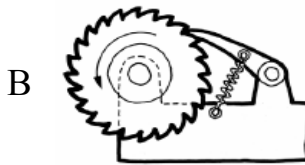
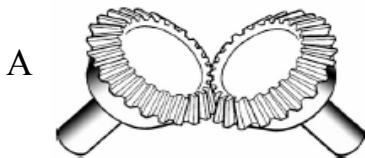
(c) Tá teach in aice le habhainn a sceitheann ina tuile. Taispeántar thíos ciorcad a ceapadh chun rabhadh inchloiste a thabhairt má thagann uisce isteach san íoslach. Mínigh an chaoi a n-oibríonn an ciorcad.



(a) Taispeánann an léaráid thíos feithicil agus a córas stiúrtha. Mínigh an chaoi a gcuireann an mheicníocht seo ar chumas na rothaí casadh go díreach.

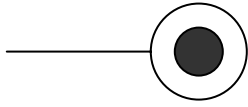


(b) Sainithin na trí mheicníocht A, B agus C a thaispeántar thíos agus luaigh úsáid amháin le gach ceann díobh.




	Ainm	Úsáid
Meicníocht A		
Meicníocht B		
Meicníocht C		

(a) Ainmnigh **ceithre cinn ar bith** de na siombailí neomatacha a thaispeántar thíos agus luaigh úsáid oiriúnach le **gach ceann** díobh.



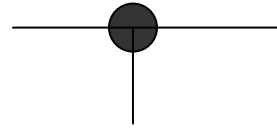
Ainm _____

Úsáid _____



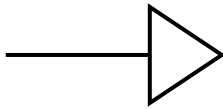
Ainm _____

Úsáid _____



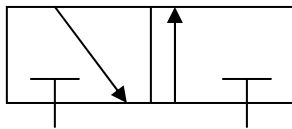
Ainm _____

Úsáid _____



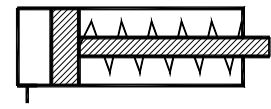
Ainm _____

Úsáid _____



Ainm _____


Úsáid _____



Ainm _____

Úsáid _____

(b) Ainmnigh an **dá** chomhpháirt neomatacha a thaispeántar thíos, agus luaigh na feidhmeanna atá acu.

Comhpháirt	Ainm	Feidhm (Úsáid)
		

(c) Luaigh réamhchúram sábháilteachta **amháin** is cóir a chur i bhfeidhm agus aer comhbhrúite á úsáid.

Réamhchúram sábháilteachta _____

LEATHANACH BÀN

LEATHANACH BÀN

LEATHANACH BÀN

Don scrúdaitheoir amháin		
Ceist	Marc	Iomlán
Roinn 1		
1		
2		
3		
Roinn 2		
4		
5		
6		
7 (a)		
7 (b)		
7 (c)		
7 (d)		
7 (e)		
Iomlán		