



An Ardteistiméireacht Fheidhmeach 2010

Speisialachas Gairme Cúrsa Ceardaíochta agus Dearaidh

Scrúdu Scríofa (40% de na marcanna iomlána)

Dáta: Déardaoin 17 Meitheamh
Tráthnóna, 2.00 – 3.30

Scríobh **do scrúduimhir** sa spás seo



Treoracha

Tá ocht gceist ar an bpáipéar seo.
Bain triail as ceithre cheist ar bith.

Don Fheitheoir amháin	Don Scrúdaitheoir amháin		
<div style="border: 1px solid black; width: 100%; height: 100%; display: flex; align-items: center; justify-content: center;">Stampa an Ionaid</div>	Ceist 1		
	Ceist 2		
	Ceist 3		
	Ceist 4		
	Ceist 5		
	Ceist 6		
	Ceist 7		
	Ceist 8		
	Iomlán		
	Lúide mor-iomlán na gceisteanna/ceiste nár ceadaíodh		
	Iomlán		
	Bónas don Ghaeilge		
	Mór iomlán		

Faisean agus Teicstílí

Ceist 1 (40 marks)

Freagair **(a)**, **(b)** and **(c)**.

(a) Déan cur síos ar na saghsanna puipéid seo a leanas:

puipéad máireoigín

puipéad slaite

puipéad scátha

Bain úsáid as sceitsí chun do fhreagra a léiriú.

1. Puipéad máireoigín

2. Puipéad slaite

3. Puipéad scátha

(b) Ba chóir go mbeadh a charachtar soiléir don lucht féachana ón gculaith atá á caitheamh ag an bpuipéad.

1. Cleasghleacaí
2. Ceoltóir
3. Rinceoir



(c) Liostaigh na hábhair agus an trealamh a bheadh ag feastáil uait chun do dhearadh a dhéanamh.

Faisean agus Teicstílí

Ceist 2 (40 marks)

Freagair **(a)**, **(b)** and **(c)**.

- (a)** Is ceardaíocht ársa í Baitíc a úsáideann fabraic, céir agus ruaim. Is gnéithe tábhachtacha den bhaitíc iad patrún, déanamh marcanna agus dath. Déan plé ar an mbaitíc atá léirithe thíos, faoi na ceannteidil seo.



Patrún _____

Déanamh marcanna _____

Dath _____

(b) Liostaigh na hábhair agus an trealamh a bheadh ag feastáil uait chun bailtíc a dhéanamh.

(c) Mínigh na céimeanna a leanfá chun bailtíc a dhéanamh. Bain úsáid as sceitsí chun do fhreagra a léiriú.

Cumarsáid Ghrafach agus Cló

Ceist 3 (40 marks)



Freagair (a), (b) and (c).

(a) Agus clúdach leabhair á dhearadh aige, tugann an dearthóir grafaicí clónna agus íomhánna difriúla le chéile chun scéal an leabhair a dhéanamh soiléir. Insíonn an leabhar thíos scéal faoi vaimpíirí agus conriochtaí a chónaíonn taobh le daoine.



Cén fáth, dar leat, ar roghnaigh an dearthóir an híomhá seo chun an scéal a shoiléiriú?

(b) Roghnaigh ceann amháin díobh sin a leanas agus pléigh é faoi na ceannteidil seo a leanas:



1. Leagan amach

2. Litreoireacht

3. Dath

(c) Cad atá i gcomhpháirt ag na híomhánna seo go léir? Bain úsáid as sceitsí chun cabhrú leat do fhreagra a mhíniú.

Cumarsáid Ghrafach agus Cló

Ceist 4 (40 marks)

Freagair (a), (b) and (c).

(a) Déantar pacáistiú a dhearadh chun táirgí a dhéanamh tarraingteach i dtreo is go mbeidh tionchar aige ar an rud a cheannaímid. Déan staidéar ar an dá phacáiste atá léirithe thíos. Tá an táirge céanna á dhíol acu ach ar shlite difriúla.



Cé acu ceann a chosnaíonn níos mó, dar leat,? Tabhair 2 chúis. Bain úsáid as sceití chun cabhrú leat do fhreagra a mhíniú.

(b) Cé acu ceann nach ndéanann díobháil don timpeallacht, dar leat,? Tabhair 2 chúis le do fhreagra.

1. _____

2. _____

(c) Déan comparáid idir an litreoireacht agus an scéim dathanna ar an dá tháirge.

Litreoireacht : táirge 1 _____

Litreoireacht : táirge 2 _____

Scéim dathanna : táirge 1 _____

Scéim dathanna : táirge 2 _____

Staidéar 3-Thoiseach

Ceist 5 (40 marks)

Freagair **(a)**, **(b)** and **(c)**.

Sa chóimeáil, déanann ealaíontóirí saothair ealaíne as bailiúchán de rudaí atá bailithe le chéile acu. Déan staidéar ar an sampla seo de dhealbhoireacht chóimeála ag Picasso agus freagair iad seo a leanas:



(a) An féidir leat teideal a mholadh don dealbhóireacht seo?
Tabhair chúis le do fhreagra.

(b) Ainmnigh na 2 rud is féidir leat a fheiceáil sa dealbhóireacht seo.

(c) Pléigh an dealbhóireacht seo faoi na ceanteidil seo leanas. Bain úsáid as sceitsí chun do fhreagra a léiriú.

Ceapachán _____

Uigeacht _____


Struchtúr _____

Staidéar 3-Thoiseach

Ceist 6 (40 marks)

Freagair **(a)**, **(b)** and **(c)**.

(a) Is ábhair choitianta iad páipéar agus cárta chun samhail 3T a thógáil. San fhótagraf seo, rinne mic léinn páipéar a fhilleadh agus a dhathú chun róbat a chruthú.



Liostaigh na hábhair agus an trealamh a bheadh uait chun an róbat seo a dhéanamh.

(b) Déan cur síos ar na céimeanna a leanfá chun an róbat seo a dhéanamh. Bain úsáid as sceitsí chun cabhrú leat do fhreagra a mhíniú.

Céim 1 _____

Céim 2 _____

Céim 3 _____

(c) Déan sceitse de do dhearadh féin chun róbat a dhéanamh as páipéar agus cárta. Ba chóir an dearadh a bheith oiriúnach don bhealach isteach i halla scoile.

Staidéir Lionsabhunaithe


Ceist 7 (40 marks)

Freagair **(a)**, **(b)** and **(c)**.

(a) Samhlaigh go bhfuil do ghnó fótagrafaíochta féin á bhunú agat, agus go mbeidh tú ag déanamh portráidí de theaghlaigh agus fótagraif do phasanna.

Déan liosta den trealamh agus de na hábhair a bheadh ag teastáil uait.

(b) Sa spás thíos déan sceitse den leagan amach a bheadh ar do stiúideo agus taispeáin conas a leagfá amach an trealamh.



(c) Tabhair 2 chúis le do rogha leagan amach.

Staidéir Lionsabhunaithe

Ceist 8 (40 marks)

Freagair **(a)**, **(b)** and **(c)**.

(a) Mínigh na téarmaí fótagrafaíochta seo a leanas:

Bain úsáid as sceitsí chun cabhrú leat do fhreagra a léiriú.

Lionsa leathanuilleach _____

Súmlionsa _____

Lionsa teileafótach _____

(b) Tá gluaiseacht le feiceáil in Íomhá 1 agus in Íomhá 2 araon thíos. Mínigh conas a fhaightear an mhaisíocht gheamhach (doiléir).



Íomhá 1



Íomhá 2

Íomhá 1

Íomhá 2

(c) Cé acu fótagraf is fearr leat? Tabhair 2 chúis le do fhreagra.

LEATHANACH BÁN

LEATHANACH BÁN

LEATHANACH BÁN