



An Ardteistiméireacht Fheidhmeach 2008

Speisialachas Gairme Cúrsa Ceardaíochta agus Dearaidh

Scrúdu Scríofa (40% de na marcanna iomlána)

Dáta: Déardaoin 12 Meitheamh
Tráthnóna, 2.00 – 3.30

Scríobh **do scrúduimhir** sa spás seo



Treoracha

Tá ocht gceist ar an bpáipéar seo.
Bain triail as ceithre cheist ar bith.

Don Fheitheoir amháin	Don Scrúdaitheoir amháin		
<div style="border: 1px solid black; width: 100%; height: 100%; display: flex; align-items: center; justify-content: center;">Stampa an Ionaid</div>	Ceist 1		
	Ceist 2		
	Ceist 3		
	Ceist 4		
	Ceist 5		
	Ceist 6		
	Ceist 7		
	Ceist 8		
	Iomlán		
	Lúide mor-iomlán na gceisteanna/ceiste nár ceadaíodh		
	Iomlán		
	Bónas don Ghailge		
	Mór iomlán		

Faisean agus Teicstílí

Ceist 1 (40 marc)

Freagair **(a)**, **(b)** agus **(c)**.

(a) Déan dearadh do pháipéar balla do bhialann bunaithe ar na híomhánna atá léirithe thíos.





(b) Tá dhá athphatrún léirithe thuas.

Cé acu is fearr leat?

Bain úsáid as na ceannteidil seo a leanas chun na fáthanna le do fhreagra a mhíniú.

Dath

Cruth

Líne

(c) Luaigh úsáidí don dá dhearadh seo.

Faisean agus Teicstílí

Ceist 2 (40 marc)

Freagair **(a)**, **(b)** agus **(c)**.




- (a)** Tá sé socraithe ag baill de chlub peile feisteas an chlub, atá léirithe thuas, a athdearadh.
Conas ab fhéidir an dearadh a fheabhsú?
Bain úsáid as na ceannteidil seo a leanas mar chúnaimh le do fhreagra.

Dath

Cruth

Fabraic

(b) Sceitseáil do dhearadh don fheisteas do do chlub áitiúil féin.



(c) Cé acu feisteas is fearr leat?

Tá cead agat foireann nó spórt ar bith de do rogha féin a ainmniú.

Luaigh fáthanna le do fhreagra.

Cumarsáid Ghrafach agus Cló

Ceist 3 (40 marc)

Freagair **(a)**, **(b)** agus **(c)**.



(a) Baintear úsáid as na comharthaí bóthair thuas chun tiománaithe a chur san airdeall mar gheall ar dhainséir rompu amach. Cad a chiallaíonn gach comhartha díobh?

1. _____


2. _____

3. _____

4. _____

(b) Cad iad na gnéithe tábhachtacha a bhaineann le dearadh comhartha bóthair?
Luigh fáthanna le do fhreagra.

(c) Déan dearadh ar chomhartha bóthair do dhá dhainséar díobh seo a leanas:
tuilte, duilliúr ar an mbóthar, crann tite, ainmhithe fiáine ag trasnú an bhóthair,
tonnta móra, craein lastuas.



(b) Úsáideann Banksy stionsail chun a chuid graifítí a chruthú.
Liostaigh na bunábhair agus an trealamh is gá chun stionsai a déanamh.

(c) Cad a chiallaíonn an focal 'tag' in ealaín graifítí? Sceitseáil sampla de.

Staidéar 3-Thoiseach

Ceist 5 (40 marc)

Freagair **(a)**, **(b)** agus **(c)**.

(a) Baineann an pobal coitianta taitneamh as ealaín phoiblí agus déantar í a dhearadh go minic do shuíomh ar leith.

Déan comparáid idir an dá shaothar ealaíne seo faoi na ceannteidil seo a leanas:



Ábhar _____

Bunábhair _____


Foirm _____

Scála _____

(b) Cé acu saothar is fearr leat?

Luaigh fáthanna le do fhreagra.

(c) Déan píosa dealbhóireachta poiblí a dhearadh don taobh amuigh d'ospidéal a léireoidh an obair chúraim a dhéanann na daoine atá ag obair ann.



Liostaigh na bunábhair a d'úsáidfeá chun an píosa dealbhóireachta a dhéanamh.

Staidéar 3-Thoiseach

Ceist 6 (40 marc)

Freagair **(a)**, **(b)** agus **(c)**.

- (a)** Tá mórán feidhmeanna ag cathaoireacha sa ghnáthshaol laethúil, mar shampla, chun sosa, chun oibre agus chun ite. Déan staidéar ar na léaráidí den dá chathaoir thíos agus déan comparáid eatarthu faoi na ceannteidil seo a leanas:



Bunábhair

Feidhm

Uigeacht

(b) Cé acu cathaoir is fearr leat? Luaigh fáthanna.

(c) Déan dearadh ar chathaoir a bheadh oiriúnach do do sheomra ealaíne.



An mbeadh do dhearadh ar an gcathaoir oiriúnach do do theach cónaithe?
Luaigh fáthanna le do fhreagra.

(b) Cén fáth, dar leat, a gcruthódh ealaíontóir fótamontáis in áit fótagraf a ghlacadh?
Bain úsáid as na ceanteidil seo a leanas mar chúnamh le do fhreagra.

Cumadóireacht

Amharcpointe

Patrún

(c) Conas a dhéanfá íomhána éagsúla a chomhcheangal ar do ríomhaire?

Staidéir Lionsabhunaithe

Ceist 8 (40 marc)

Freagair **(a)**, **(b)** agus **(c)**.

(a) Déan staidéar ar na fótagraif seo a leanas agus luaigh na feabhais a d'fhéadfaí a chur orthu.

1 _____



2 _____



3 _____



(b) Míniú na téarmaí fótagrafaíochta seo a leanas agus na feidhmeanna atá acu.
Úsáid sceitsí chun do fhreagra a mhíniú.

Tríchosach

Lionsa

Nochtadh

Luas comhla

(c) Ainmnigh trí ghné a lorgófá i gceamara digiteach a bheadh á cheannach agat.

LEATHANACH BÁN

LEATHANACH BÁN

LEATHANACH BÁN