



Scrúdú an Teastais Shóisearaigh, 2014

Teicneolaíocht

Gnáthleibhéal

Dé Céadaoin, 18 Meitheamh

Tráthnóna, 2:00 - 4:00

Treoracha:

1. Freagair **Roinn A** (ceisteanna gearrfhreagraí). 80 marc
2. Freagair **dhá** cheist as **Roinn B**. 80 marc
3. Tabhair an páipéar seo don Fheitheoir i ndeireadh an scrúdaithe.
4. Scríobh do scrúduimhir sa bhosca thíos.

Uimhir an Ionaid


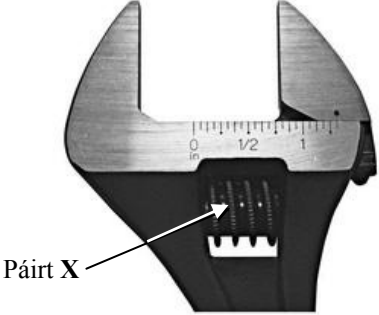

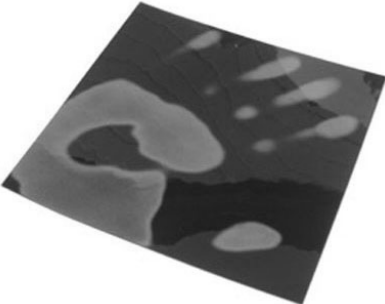

Scrúduimhir


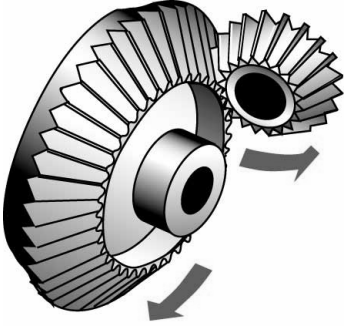



1.	Iomlán na n-iomlán ag deireadh na leathanach	
2.	Iomlán na marcanna ar cheist (eanna) dícheadaithe	
3.	Iomlán na marcanna a bronnadh (1 lúide 2)	
4.	Bónas i gcomhair freagairt trí Ghaeilge (más cuí)	
5.	Iomlán na marcanna a bronnadh má tá bónas i gceist (3+4)	
	Nóta: Ní mór na marcanna i sraith 3 (nó sraith 5 más cuí an Bónas trí Ghaeilge) a bheith cothrom leis na marcanna sa bhosca Móriomlán ar an script	




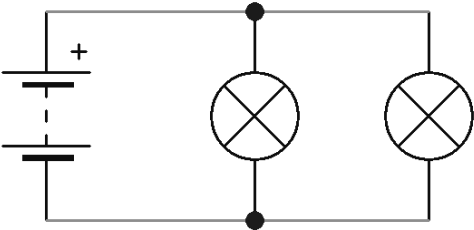

Marc Iomlán	
Ceist	Marc
Roinn A	
Roinn B	C 1
	C 2
	C 3
	C 4
Iomlán	
Grád	

Roinn A – 80 Marc. Freagair sé cheist déag ar bith sa roinn seo.

<p>1.</p> 	<p>Is é cruth na feiste tráchta a thaispeántar ná:</p>	<p>Sorcóireach</p>	
		<p>Cónúil</p>	
		<p>Pirimideach</p>	
<p>2.</p> 	<p>Tomhaistear toilleadh tiomántáin chrua sheachtraigh de ghnáth ina:</p>	<p>Ghigibhearta</p>	
		<p>Chilibhearta</p>	
		<p>Bhearta</p>	
<p>3.</p> 	<p>Is é an feidhmchlár bogearraí a éilíonn úsáid ceamara gréasáin ná:</p>	<p>Microsoft Word</p>	
		<p>Skype</p>	
		<p>SolidWorks</p>	
<p>4.</p> 	<p>Úsáidtear plaisteach do tháirgí leictreacha toisc gurb é atá ann ná:</p>	<p>Seoltóir</p>	
		<p>Toilleoir</p>	
		<p>Inslitheoir</p>	
<p>5.</p> 	<p>Is é a thugtar ar an bpróiseas brataithe cruach chun meirgiú a chosc ná:</p>	<p>Sádráil</p>	
		<p>Galbhánú</p>	
		<p>Táthú</p>	

<p>6.</p> 	<p>Úsáidtear rubar chun bandaí rosta a dhéanamh toisc go bhfuil sé:</p>	Leaisteach	
<p>7.</p>  <p>Páirt X</p>	<p>Is é atá i bpáirt X i gceann an rinse incheartaithe ná:</p>	Giar Péiste	
<p>8.</p> 	<p>Is é atá sa mhír a thaispeántar ná:</p>	Béalmhír	
<p>9.</p> 	<p>Athraíonn ábhair theirmeachrómachacha mar fhreagra ar athruithe uirthi seo:</p>	Solas	
<p>10.</p> 	<p>Úsáidear LEDeanna i dtóirsí faoi láthair toisc:</p>	Go n-úsáideann siad fíorbheagán fuinnimh	
		Go bhfuil cuma dheas orthu	
		Go n-éiríonn siad te	

<p>11.</p> 	<p>Is é atá san fhórsa síos a dhéanann teach agus é ag gníomhaíochtú ar an talamh ná:</p>	<p>Fiaradh</p>	
<p>12.</p> 	<p>Is iad atá sna míreanna a thaispeántar ná:</p>	<p>Beibhealghiaranna</p>	
<p>13.</p> 	<p>Is é a dhéanann loiní in inneall ná:</p>	<p>Frithingiú</p>	
<p>14.</p> 	<p>Is é a thugtar ar an bhfórsa a thiontaíonn fuinneamh cinéiteach cairr ina fhuinneamh teasa sna coscáin ná:</p>	<p>Lúbadh</p>	
<p>15.</p> 	<p>Déantar tagairt go minic don fhuinneamh a tháirgeann feistí amhail cealla gréine mar seo:</p>	<p>Fuinneamh gorm</p>	
		<p>Fuinneamh glas</p>	
		<p>Fuinneamh dearg</p>	

<p>16.</p> 	<p>Is é a thugtar go minic ar mhicrishiiseanna ná CIanna (IC an Bhéarla). Seasann CI do:</p>	Ciorcad Idirnáisiúnta	
<p>17.</p> 	<p>Is é atá ag an mbolgán solaispárlach ar fhuinneamh ná:</p>	Vatacht níos ísle ná ag an ngnáthbholgán solais	
<p>18.</p> 	<p>Tá cos fhada an toilleora:</p>	Diúltach	
<p>19.</p> 	<p>Tá na bolgáin sa chiorcad seo:</p>	Treocheangailte	
<p>20.</p> 	<p>Ba é a d'airg an bonn neomatach rothair ná:</p>	Harry Ferguson	
		John Boyd Dunlop	
		John Philip Holland	

(a) Taispeántar íomhá de chluiche caitheamh fáinní.

12 mharc

- (i) Roghnaíodh prás mar ábhar don tslat.
Luaigh cúis leis an rogha sin.

Cúis: _____

- (ii) Ainmnigh adhmaid a bheadh oiriúnach don bhonn agus tabhair cúis le do rogha.

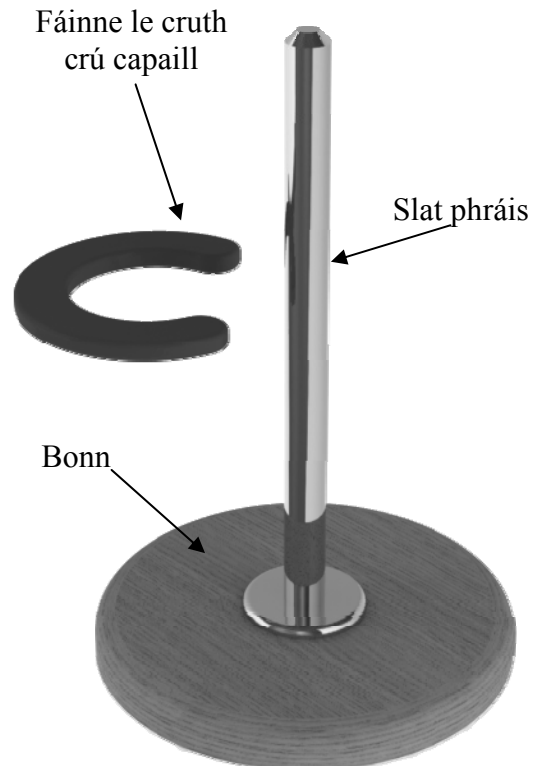
Adhmaid: _____

Cúis: _____

- (iii) Is gá fáinne nach ndéanfaidh dochar don adhmaid ná don phrás. Ainmnigh ábhar oiriúnach don fháinne agus luaigh airí amháin atá ag an ábhar sin.

Ábhar: _____

Airí: _____




Cluiche Caitheamh Fáinní

- (b) (i) Ainmnigh uirlis is féidir a úsáid chun an snáithe ag deireadh na slaite a ghearradh. Luaigh cúis gur modh oiriúnach é snáithe chun an tslat a cheangal den bhonn.

8 marc

Uirlis: _____

Cúis le snáithe a úsáid: _____



- (ii) Úsáideadh bonn le trastomhas mór. Mol cúis leis sin.

Cúis leis an mbonn mór: _____


Ceist 1

12 mharc

- (c) (i) Taispeántar bonn malartach don chluiche ina bhfuil ceithre chúinne agus iad fillte síos. Ainmnigh ábhar oiriúnach don bhonn sin agus mínigh an modh chun na cúinní a lúbadh.

Ábhar: _____

Modh chun an lúbadh a dhéanamh: _____



Bonn Malartach

- (ii) Déan sceitse lipéadaithe den modh malartach chun an tslat phráis a cheangal leis an mbonn a thaispeántar thuas.


Modh Ceangailte

- (d) Taispeántar an t-ábhar chun an bonn malartach a dhéanamh.

8 marc

- (i) Tarraing na línte go léir is gá chun na lúba ag na ceithre chúinne a mharcáil amach.
- (ii) Caithfidh marcáil amach na línte lúibe ag na ceithre chúinne a bheith díreach mar a chéile. Luaigh cúis leis sin.

Cúis: _____




12 mharc

(a) Taispeántar íomhá de mheicníocht a úsáidtear chun teannas a chur sa líon ar chúirt leadóige.

(i) Luaigh **dhá** chúis a bhfuil an mheicníocht seo oiriúnach don ghnó sin.

1. _____

2. _____



Teannasóir Lín

(ii) Úsáidtear hanla cromáin chun an mheicníocht a chasadh. Ainmnigh **dhá** fheiste/mheicníocht eile a úsáideann hanla cromáin.

Feiste 1: _____

Feiste 2: _____

(iii) Mol athrú amháin a d'fhéadfaí a dhéanamh ar an cromán chun go mbeidh sé níos éasca an mheicníocht a chasadh.

Athrú: _____

(b) (i) Úsáideann leagan den meicníocht thuas mótar in ionad hanla cromáin. Úsáideann sé freisin lasc dhá phol dhébhealaigh (lasc DPDT). Luaigh cúis a bhfuil gá leis an lasc DPDT seo chun an mótar a rialú.

Cúis: _____



Mótar

(ii) Mol modh chun an mótar a stopadh go huathoibríoch nuair a bhíonn an líon teanntaithe go hiomlán.

Freagra: _____



Lasc DPDT

8 marc

Ceist 2

- (c) Bíonn sreanga raicéad leadóige i dteannas. Is é sin a dhéanann ceann an raicéad leadóige láidir.

8 marc

Ainmnigh agus sceitseáil gléas eile (as spórt nó eile) a úsáideann teannas chun é a dhéanamh láidir.



Raicéad Leadóige

- (d) As adhmaid a dhéantaí na seanraicéid leadóige. Sa lá inniu is as plaistigh speisialta nó snáithín carbóin a dhéantar na raicéid.

6 mharc

Luaigh **dhá** chúis gur éirigh déantóirí as adhmaid a úsáid chun na raicéid a dhéanamh.

Cúis 1: _____

Cúis 2: _____



Raicéad Adhmaid

- (e) (i) Úsáidtear fuinseog chun camáin a dhéanamh. Luaigh cúis **amháin** a n-úsáidtear fuinseog.

6 mharc

Freagra: _____

- (ii) Mol buntáiste **amháin** a bhaineann le hadhmaid seachas plaisteach a úsáid don ghnó seo.

Buntáiste: _____



(a) Is mian le cuideachta a tháirgeann grianphainéil, solas oíche páiste a thabhairt dá gcuid custaiméirí le haghaidh fógraíochta. Soilsíonn dhá sholas LED painéal taispeána. Tá lógó a sheasann don chuideachta curtha air an painéal.

(i) Tá an painéal taispeána imrithe (*tinted* i mBéarla). Mínigh an téarma ‘imrithe’.

Freagra: _____

(ii) Úsáidtear LDR i gciorcad rialaithe an tsolais oíche. Mínigh an téarma LDR agus abair cén fáth a bhfuil gá leis.

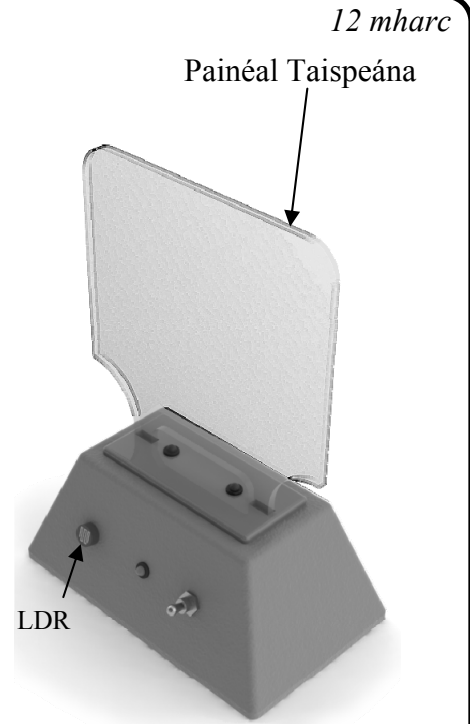
LDR: _____

An fáth a bhfuil gá leis: _____

(iii) Ainmnigh ábhar oiriúnach don phainéal taispeána imrithe agus luaigh cúis le do rogha.

Ábhar: _____

Cúis le do rogha: _____



Solas Oíche

(b) (i) Taispeántar leath den phainéal taispeána imrithe. Críochnaigh líníocht an phainéil taispeána sa spás atá ann di.

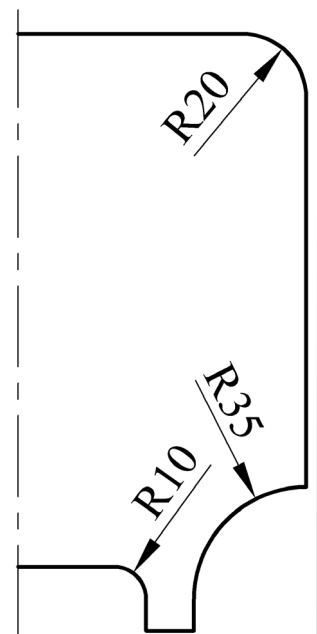
(ii) Soilsíonn dhá sholas dhearga LED an painéal taispeána. Mínigh an téarma LED.

LED: _____

(iii) Liostaigh **dhá** chéim is gá chun bailchríoch mhín a chur ar chiumhaiseanna an phainéil taispeána.

Céim 1: _____

Céim 2: _____




8 marc

Ceist 3

- (c) (i) Folúsmhúnláíodh bosca ciorcaid an tsolais óiche. Sa spás thíos déan sceitse den mhúnla is gá chun an cruth seo a fhoirmiú.

12 mharc



Bosca Ciorcaid

- (ii) Úsáidtear Polaistírín Ardtuinsimh (HIPS) chun an bosca ciorcaid a dhéanamh. Liostaigh **dhá** airí thábhachtacha a bhaineann leis an ábhar seo a dhéanann oiriúnach é d'fholúsmhúnlú.

Airí 1: _____

Airí 2: _____


- (iii) Úsáidtear LED ar an bpainéal tosaigh mar *threoir sholas*. Cén gnó a bhíonn ag treoir sholas?

Freagra: _____

- (d) Éilíonn an chuideachta a tháirgeann na grianphainéil lógó a bheith eitseáilte isteach sa phainéal taispeána imrithe. Sa spás thíos, déan sceitse de do dhearadh don lógó sin.

8 marc

Dearadh Lógó



(a) 12 mharc

Tá ról níos mó agus níos mó á imirt ag an teicneolaíocht leictreonach i gcúrsaí spóirt. Déan cur síos ar **thrí** úsáid nua-aimseartha don teicneolaíocht sin i gcúrsaí spóirt.

1. _____

2. _____


3. _____

(b) 12 mharc

(i) Úsáideann an meaisín rámhaíochta slabhrathiomáint. Luaigh **dhá** chúis le slabhrathiomáint a úsáid don ghnó seo.

Cúis 1: _____

Cúis 2: _____



(ii) Is féidir leis an suíochán sleamhnú siar agus ar aghaidh, mar a thaispeántar, chun freagairt do ghluaiseacht an duine a úsáideann é. Mol bealach chun an ghluaisne mhín seo a fháil.

Freagra: _____

(iii) Ainmnigh **dhá** mheaisín eile a úsáideann slabhrathiomáint.

Meaisín 1: _____ Meaisín 2: _____

(c) 16 mharc

(i) Mol buntáiste féideartha **amháin** agus míbhuntáiste féideartha **amháin** a bhaineann le giniúint cumhacht ghaoithe.

Buntáiste: _____

Míbhuntáiste: _____

(ii) Luaigh **dhá** chúis a n-úsáidtear snáithín carbóin chun lanna tuirbíní gaoithe a dhéanamh.

Cúis 1: _____

Cúis 2: _____

