



**A** SCRÚDÚ AN TEASTAIS SHÓISEARAIGH, 2002  
 GRAFAIC THEICNIÚIL — ARDLEIBHÉAL  
 DÉARDAOIN, 13 MEITHEAMH — MAIDIN, 9.30 - 12.30  
 IOMLÁN NA MARCANNA 400 (Roinn A agus B)

UIMHIR SCRÚDAITHE



STAMPA AN IONAIID



**TREORACHA**

- (a) Freagair deich gceist ar bith de na ceisteanna le freagraí gearra i Roinn A (120 marc) agus úsáid á baint as na spásanna atá ann dóibh. Tá na ceisteanna uile i Roinn A ar aon mharc.
- (b) Freagair ceithre cheist ar bith as na sé cheist atá i Roinn B (280 marc). Tá na ceisteanna uile i Roinn B ar aon mharc.
- (c) Ní mór an uimhir scrúdaithe a scríobh go soiléir sa spás atá ann di thuas agus ar gach bileog pháipéir a úsáidtear.
- (d) Ní mór na línte tógála uile a thaispeáint go soiléir.
- (e) Tá na toisí uile ina milliméadair.
- (f) Cuir ar ais an leabhar freagraí seo (Roinn A) i ndeireadh an scrúdaithe.

**Don Scrúdaitheoir Amháin**

**CEIST** **MARC**

**Roinn A (Iomlán)**

**Roinn B Ceist 1**

**Ceist 2**

**Ceist 3**

**Ceist 4**

**Ceist 5**

**Ceist 6**

**IOMLÁN**      **⇒**


**GRÁD**        **⇒**

**RABHADH**

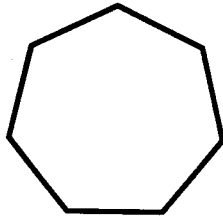
**TABHAIR AN LEABHAIR FREAGRAÍ SEO AR AIS  
 I NDEIREADH AN SCRÚDAITHE  
 NÓ CAILLFEAR MARCANNA.**

1. Lión isteach mar is ceart na lipéid do gach léaráid agus roghnaigh iad ón tábla a thugtar.

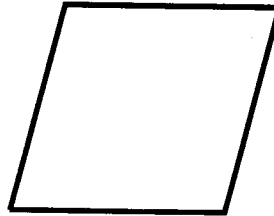
TÁBLA			
Nónagán	Cearnóg	Heipteagán	Rombas



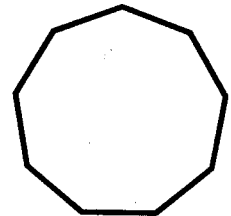
\_\_\_\_\_



\_\_\_\_\_

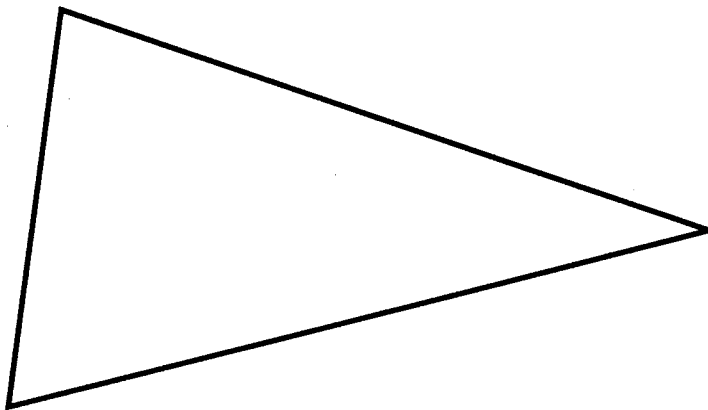


\_\_\_\_\_

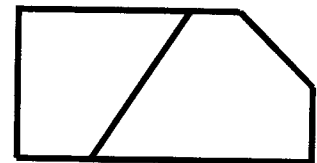
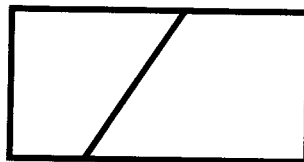



\_\_\_\_\_

2. Inscríobh ciorcal sa triantán a thaispeántar. Aimsigh na pointí teagmhála.



3. Liostaigh na hordaithe CAD a bhaintear úsáid as leis an bhfíor a chur in eagar mar a thaispeántar sa seiceamh thíos.

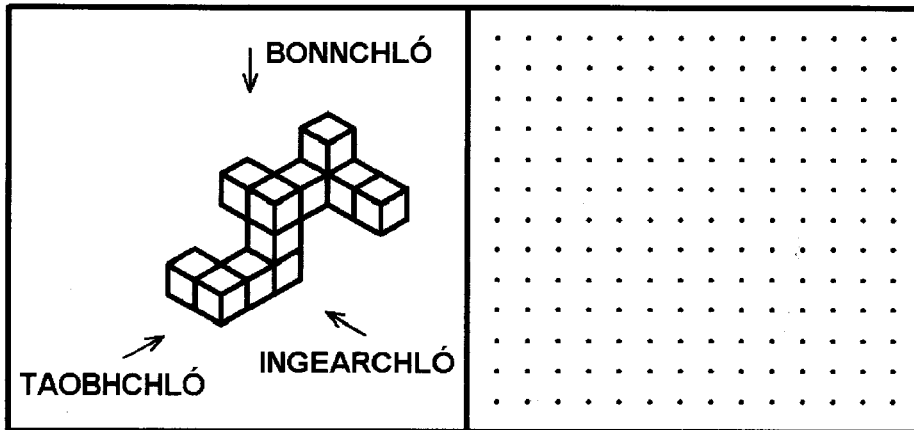


Eagar Ordaithe a úsáidtear:

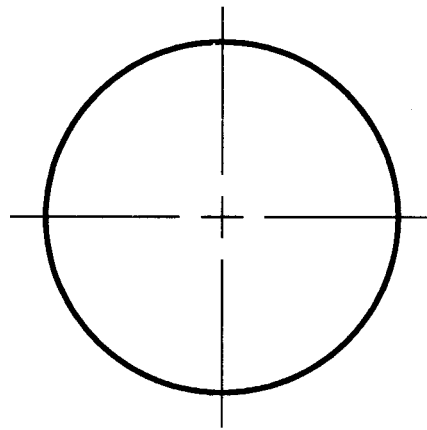
\_\_\_\_\_

\_\_\_\_\_

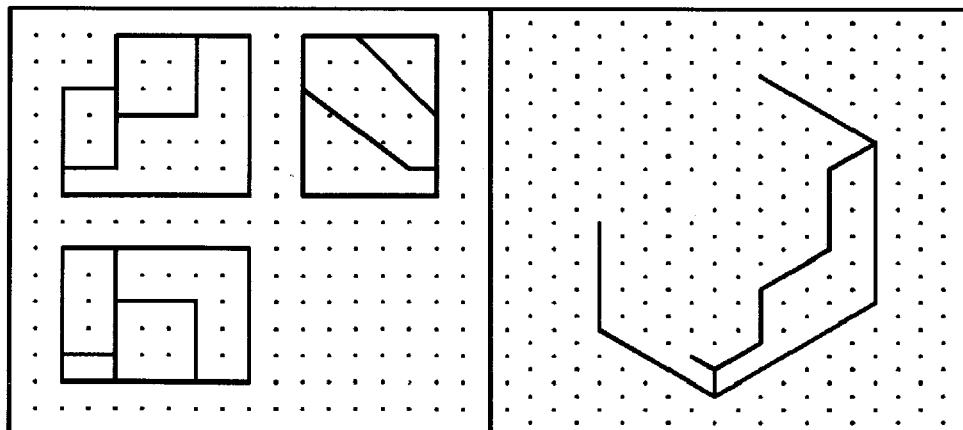
4. Ag baint úsáide as an ngréille chearnógach, déan sceitse de na clónna ortagrafacha ag féachaint i dtreo na saighead.



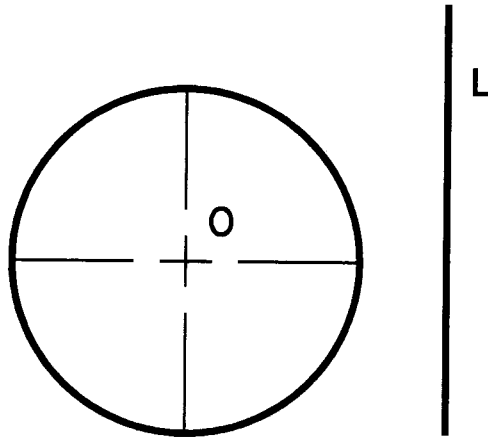
5. Inscríobh peinteagán rialta sa chiorcal a thaispeántar. Taispeáin na tógálacha is gá.



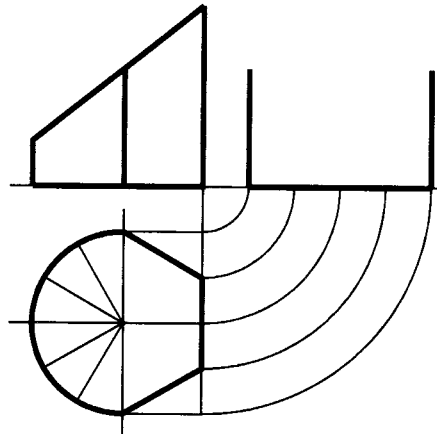
6. Taispeántar trí chló ortagrafacha d'earra áirithe ar an ngréille chearnógach. Taispeántar an sceitse pictiúrtha neamhiomlán den earra ar an ngréille isiméadrach. Críochnaigh an sceitse pictiúrtha.




7. Taispeántar ciorcal leis an lárphointe O agus líne L. Aimsigh pointe P atá 10mm ó imlíne an chiorcail agus atá 15mm ón líne L.




8. Taispeántar an t-ingearchló, an bonnchló agus an taobhchló neamhiomlán de dhlúthóg bharrscoite. Críochnaigh an taobhchló.



9. Roinn an líne a thugtar sa chóimheas 2:3:4


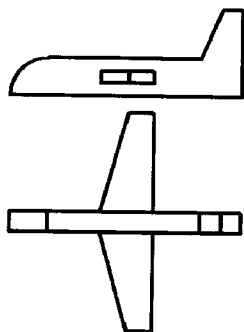


10. Taispeántar an mhór-ais  $V_1$ —  $V_2$  de éilips áirithe agus pointe P a luíonn ar an gcuar. Tarraing an mhion-ais agus taispeáin a suíomh agus a fad.




11. Taispeántar an t-ingearchló agus an bonnchló de mhionsamhail eitleáin.


Deán sceitse pictiúrtha saorláimhe den mhionsamhail eitleáin sa spás a chuirtear ar fáil.



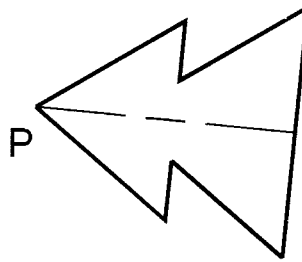
12. Maisigh an sceitse a thaispeántar den truicail bhréagáin le scáthú a chur uirthi.



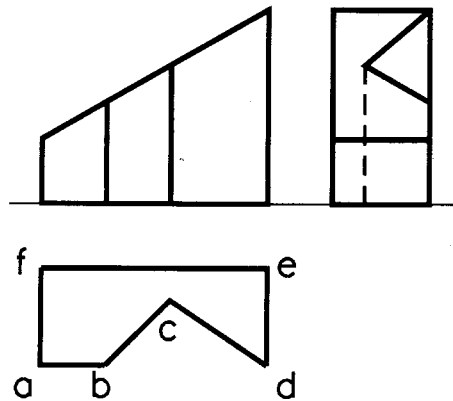
13. Athraigh an dronuilleog a thugtar go cearnóg den achar céanna.



14. Rothlaigh an fhíor a thugtar ar tuathal trí  $60^\circ$  thar an pointe P.



15. Taispeántar na clónna ortagrafacha de dhlúthóg dheilbhithe. Innéacsaiheadh an dromchla barr claonta sa bhonnchló. Innéacsaiheadh an dromchla seo san ingearchló agus sa taobhchló.



**B** 533  
SCRÚDÚ AN TEASTAIS SHÓISEARAIGH, 2002  
GRAFAIC THEICNIÚIL — ARDLEIBHÉAL  
DÉARDAOIN, 13 MEITHEAMH — MAIDIN, 9.30 - 12.30

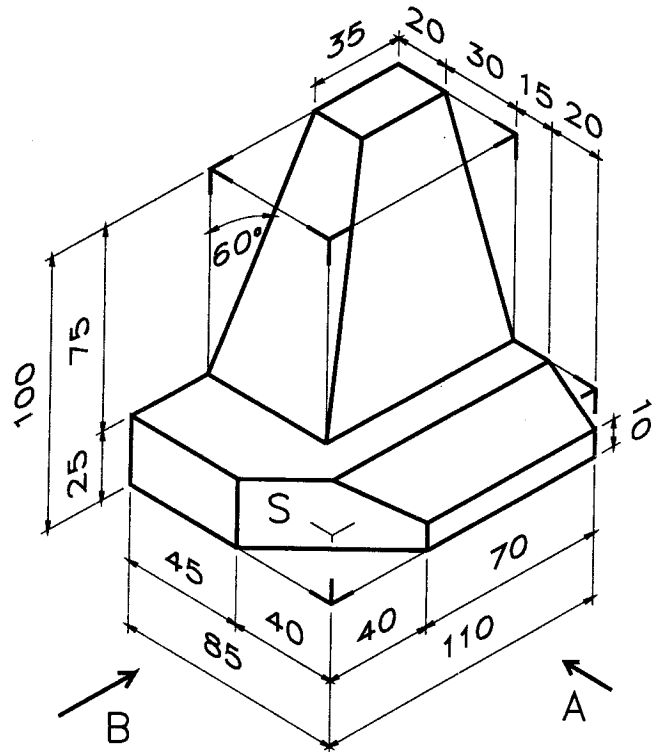
**ROINN B — 280 MARC**

**TREORACHA DON ROINN B**

- (a) Freagair ceithre cheist ar bith.
- (b) Tá na ceisteanna uile sa Roinn seo ar aon mharc.
- (c) Ní mór uimhir na ceiste a scríobh go soiléir le hais an fhreagra a ghabhann léi.
- (d) Ná bain úsáid ach as taobh amháin den pháipéar
- (e) Ní mór d'uimhir scrúdaithe a mharcáil ar gachbileog a úsáideann tú.

1. Taispeántar an cló pictiúrtha de leacht cuimhneacháin.

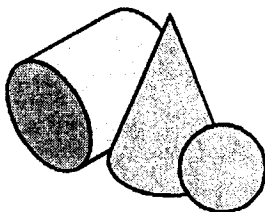
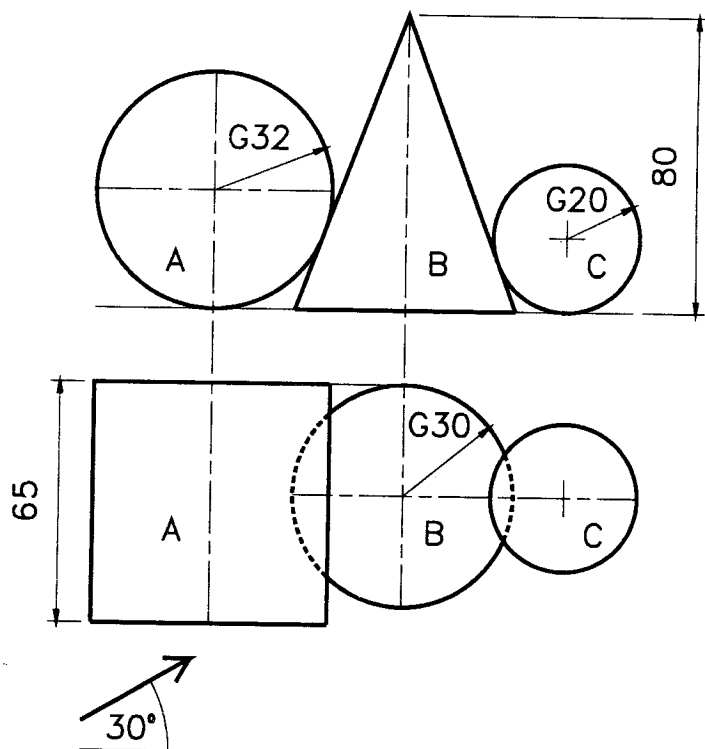
- Tarraing ingearchló ag féachaint i dtreo na saighde A.
- Tarraing taobhchló ag féachaint i dtreo na saighde B.
- Tarraing bonnchló a theilgtear ó (a) thuas.
- Tarraing ingearchló cúnata den struchtúr iomlán a thaispeánfaidh fíorchruth an dromchla S.



2. Taispeánann an fhíor an t-ingearchló agus an bonnchló de shorcóir A, de chón B agus de sféar C agus iad ag teagmháil lena chéile.

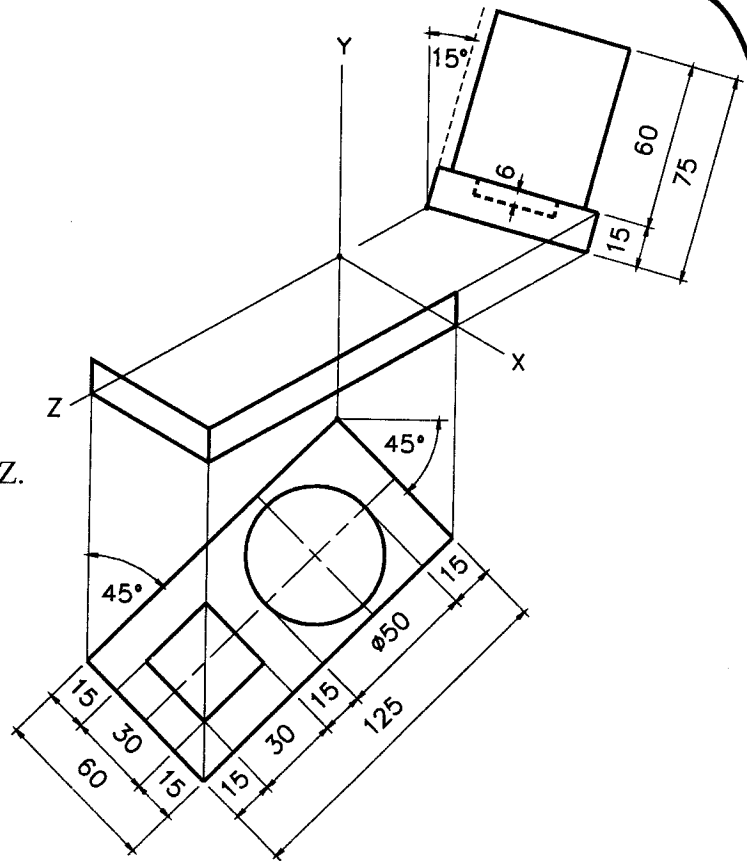
Taispeántar sceitse de na dlúthóga freisin.

- Tarraing an t-ingearchló agus an bonnchló a thugtar.
- Tarraing ingearchló cúnata de na dlúthóga a theilgtear i dtreo na saighde.
- Taispeáin na pointí tadhail sna clónna go léir.





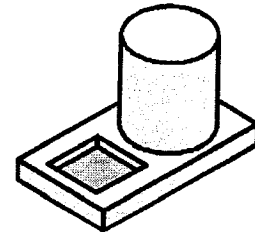
3. Taispeánann an fhíor an cló isiméadrach neamhiomlán de choimeádán peann de réir modh na n-aiseanna aicsiniméadracha. Taispeántar an taobhchló agus an bonnchló ina n-ionaid chuí. Taispeántar sceitse den choimeádán peann freisin.



- (a) (i) Tarraing na haiseanna aicsiniméadracha X, Y agus Z.  
 (ii) Tarraing an bonnchló treoshuite ag  $45^\circ$  mar a thaispeántar.  
 (iii) Tarraing an taobhchló treoshuite ag  $15^\circ$  mar a thaispeántar.  
 (iv) Tarraing an cló aicsiniméadrach iomlán.

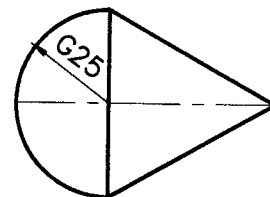
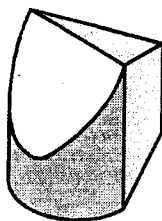
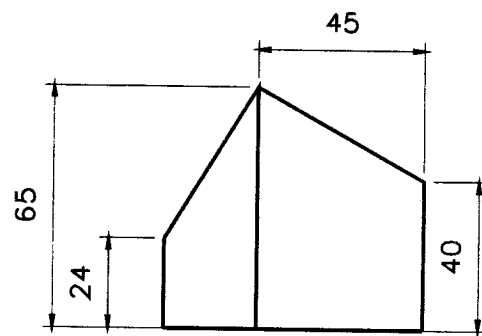
**NÓ**

- (b) Tarraing an cló isiméadrach críochnaithe agus úsáid á baint as an scála isiméadrach.



4. Taispeánann an fhíor an t-ingearchló agus an bonnchló de choimeádán dúnta. Taispeántar sceitse den choimeádán freisin.

- (a) Tarraing na clónna a thugtar.  
 (b) Tarraing forbairt dromchla iomlán an choimeádáin.



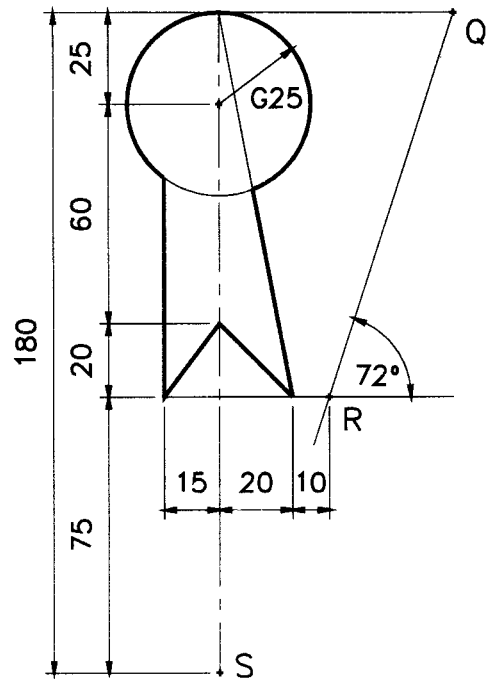
5. Déantar trasfhoirmithe ar an bhfíor den chnóta a thaispeántar san ord seo a leanas :-

(i) Siméadracht aiseach sa líne QR.

(ii) Aistriuchán cothrom le  $\vec{QR}$

(iii) Siméadracht lárnach sa phointe S.

Tarraing an fhíor a thugtar agus aimsigh an iomhá atá i ngach ceann de na trasfhoirmithe.



6. Taispeánann an fhíor dearadh atá bunaithe ar iasc. Tá an cuar ABCDE bunaithe ar éilips le mór-ais 130 agus pointe fócasach F. Tá an líne BP tadhlaíoch don éilips ag an bpointe B.

Tá an cuar QDR bunaithe ar parabóil le rinn D.

Tarraing an fhíor a thugtar agus taispeáin na línte tógála uile.

