

# SCRÚDÚ AN TEASTAIS SHÓISEARAIGH, 2001

# A

## GRAFAIC THEICNIÚIL - GNÁTHLEIBHÉAL

DÉARDAOIN, 14 MEITHEAMH -MAIDIN, 9.30 — 12.00

IOMLÁN NA MARCANNA 400 (Roinn A agus B)

UIMHIR SCRÚDAITHE



STAMPA AN IONAIID



### TREORACHA

- (a) Freagair deich gcinn ar bith de na ceisteanna le freagraí gearra i Roinn A (120 marc) agus úsáid á baint as na spásanna atá ann dóibh. Tá na ceisteanna uile i Roinn A ar aon mharc.
- (b) Freagair ceithre cheist ar bith as na sé cheist atá i Roinn B (280 marc). Tá na ceisteanna uile i Roinn B ar aon mharc.
- (c) Ní mór an uimhir scrúdaithe a scríobh go soiléir sa spás atá ann di thuas agus ar gach bileog pháipéir a úsáidtear.
- (d) Ní mór na línte tógála uile a thaispeáint go soiléir.
- (e) Tá na toisí uile ina milliméadair.
- (f) Cuir ar ais an leabhar freagraí seo (Roinn A) i ndeireadh an scrúdaithe.

### Don Scrúdaitheoir amháin

CEIST	MARC
Roinn A (IOMLÁN)	
Roinn B Q1	
Q2	
Q3	
Q4	
Q5	
Q6	
IOMLÁN	
GRÁD	

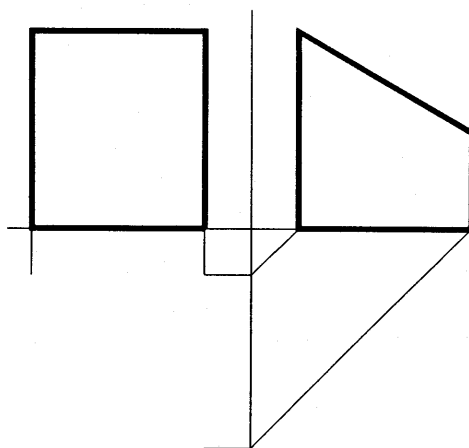
### RABHADH

TABHAIR AN LEABHAR FREAGRAÍ SEO AR AIS I NDEIREADH AN SCRÚDAITHE SEO.  
NÓ CAILLFEAR MARCANNA


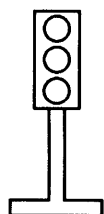


**ROINN A Freagair deich gceist ar bith - tá na ceisteanna uile ar aon mharc.**

**1** Cuir isteach an líne atá ar iarradh san ingearchló agus críochnaigh an bonnchló.




**2** Tarraing sceitse saor lámhe de na soilse tráchta sa bhosca a thugtar.



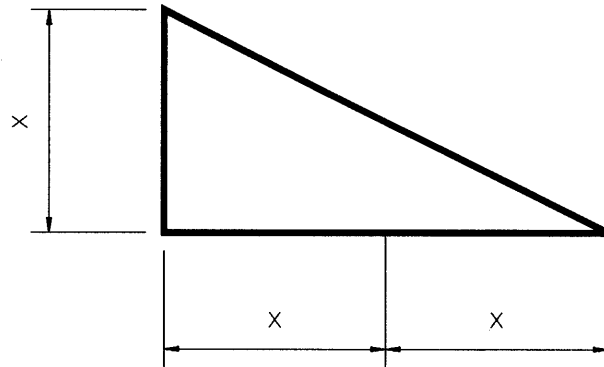
**3** Sainithin na comhpháirteanna ríomhaire a thaispeántar ag A agus B thíos.

A = \_\_\_\_\_

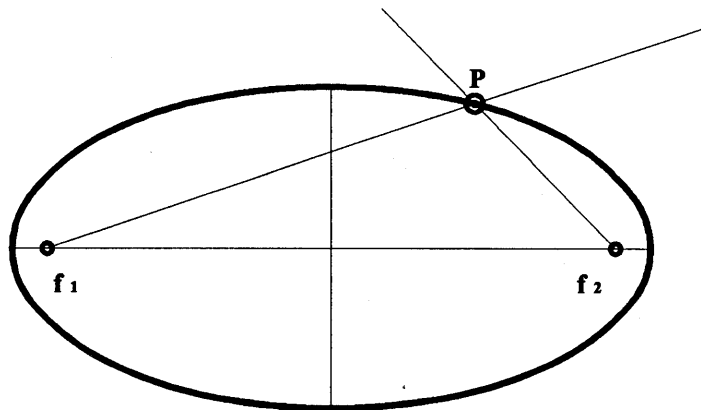
B = \_\_\_\_\_



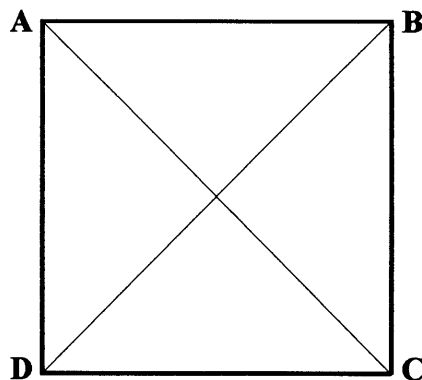
- 4 Tiontaigh achar an thriantáin a thugtar go **CEARNÓG** den achar céanna.



- 5 Críochnaigh an fhíor le **TADHLAÍ** a thógáil ag an bpointe P.

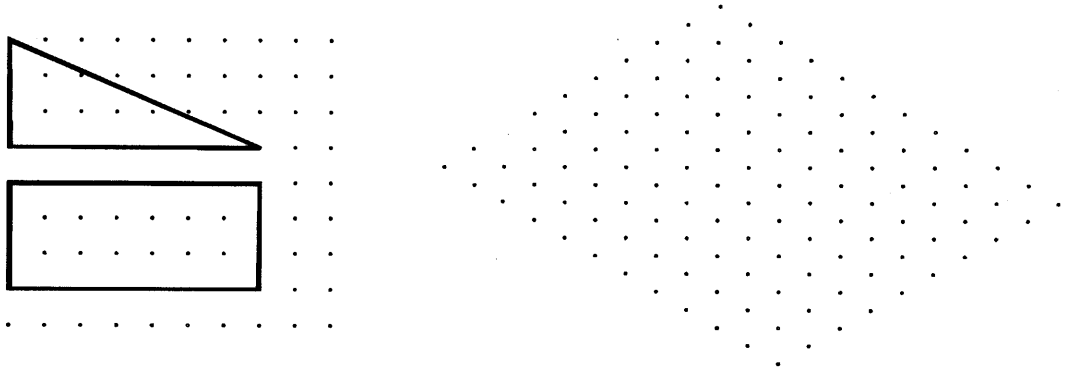


- 6 Inscríobh **OCHTAGÁN** rialta sa chearnóg ABCD.



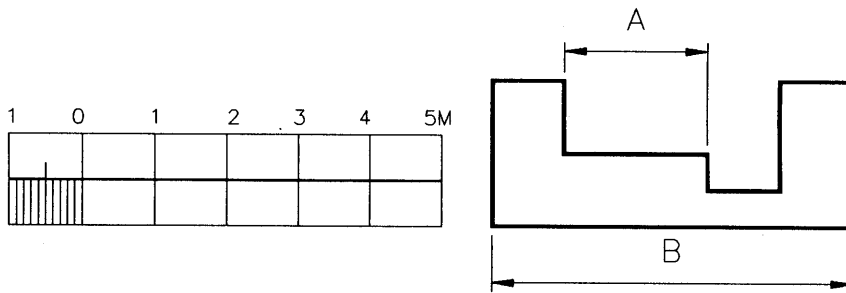
7

Taispeántar an t-ingearchló agus an bonnchló de dhing. Tarraing cló isiméadrach den ding sa ghreille a sholathraítear.



8

Agus úsáid á baint as an scála a thugtar, tomhais agus luaigh na toisí A agus B.



A = \_\_\_\_\_


B = \_\_\_\_\_

9

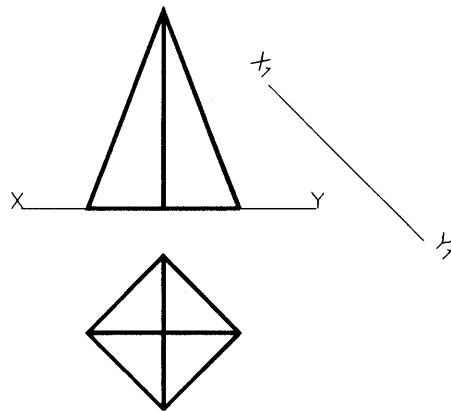
Luaigh achar na fíorach neamhrialta in aonaid chearnacha.

1 Chearnóg = 1 x 1 Aonad.

Achar = \_\_\_\_\_



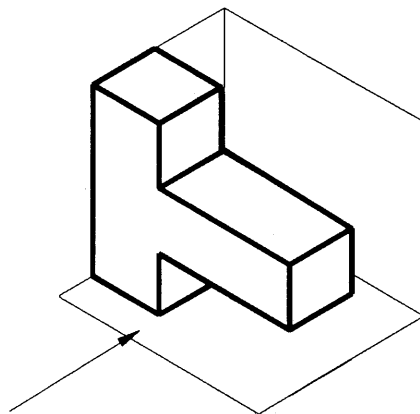
- 10** Taispeántar an t-ingearchló agus an bonnchló de phirimid ar bhonn cearnógach. Teilg **INGEARCHLÓ CÚNTA** ar an líne  $X_1$ ,  $Y_1$  a thugtar.



- 11** Agus úsáid á baint as an ngréille a chuirtear ar fáil, déan sceitse de na clónna ortagrafacha a chuirtear in iúl leis na saigheada.

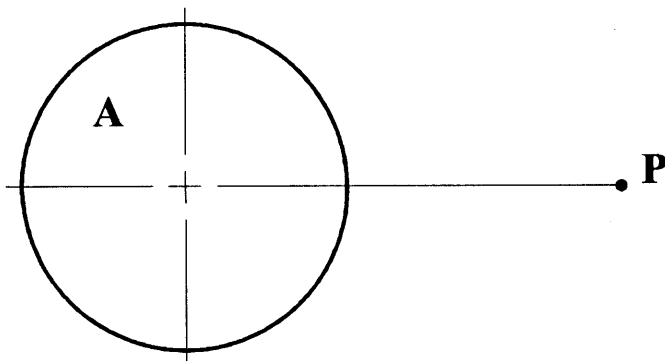


- 12** Déan sceitse den **SCÁIL** a chaitheann an solad nuair atá foinse an tsolais a thaispeáint de réir na saighde.



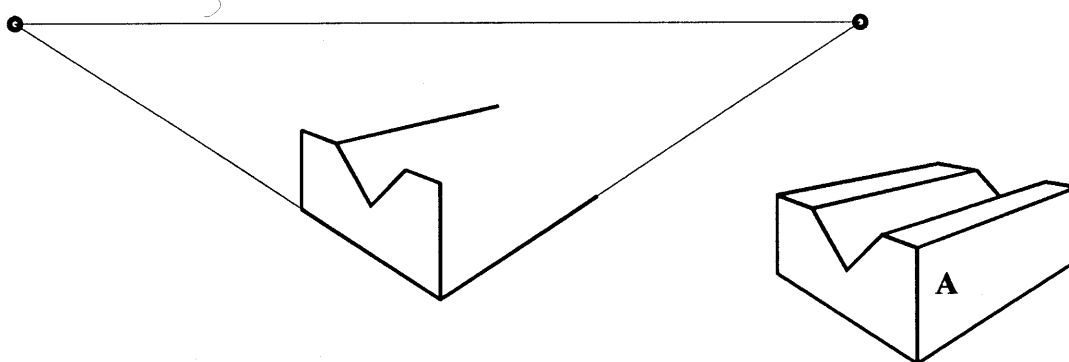
**13**

Tóg **TADHLAÍ** don chiorcal A ón bpointe P. Taispeáin go soiléir na tógálacha uile agus an pointe tadhail.



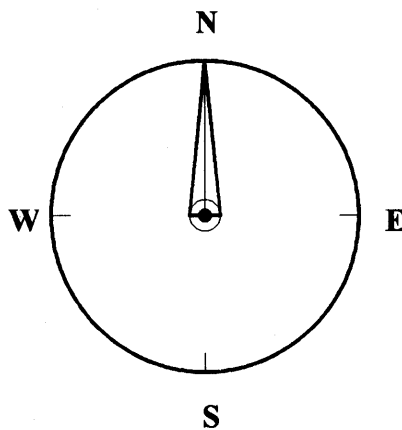
**14**

Taispeánann an fhíor an imlíne neamhiomlán pheirspictíochta dhá phointe de V- bloc. Críochnaigh an imlíne pheirspictíochta cosúil leis an gclo a thaispeántar as A.



**15**

Rothlaigh an bior compáis, ar deiseal, trí  $120^\circ$  timpeall a lár.



**B**

AN ROINN OIDEACHAIS AGUS EOLAÍOCHTA

S60BT

**SCRÚDÚ AN TEASTAIS SHÓISEARAIGH, 2001**

**540**

**GRAFAIC THEICNIÚIL - GNÁTHLEIBHÉAL**

**DÉARDAOIN, 14 MEITHEAMH -TRÁTHNÓNA, 9.30 — 12.00**

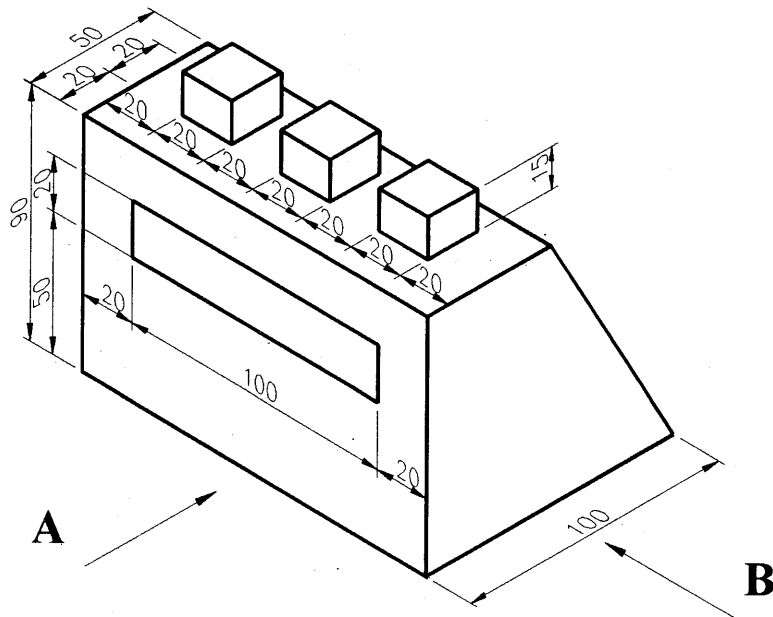
**ROINN B — 280 MARC**

**TREORACHA DO ROINN B**

- (a) Freagair ceithre cheist ar bith.
- (b) Tá na ceisteanna uile sa Roinn seo ar aon mharc.
- (c) Ní mór uimhir na ceiste a scríobh go soiléir le hais na fhreagra a ghabhann léi.
- (d) Ná bain úsáid ach as taobh amháin den pháipéar.
- (e) Ní mór d'uimhir scrúdaithe a mharcáil ar gach bileog a úsáideann tú.

**ROINN B (FREAGAIR CEITHRE CHEIST AR BITH- Tá na ceisteanna uile ar aon mharc)**

**1**



Sa bhfíor taispeántar an imlíne de **RAIDIÓ**.

Tarraing:

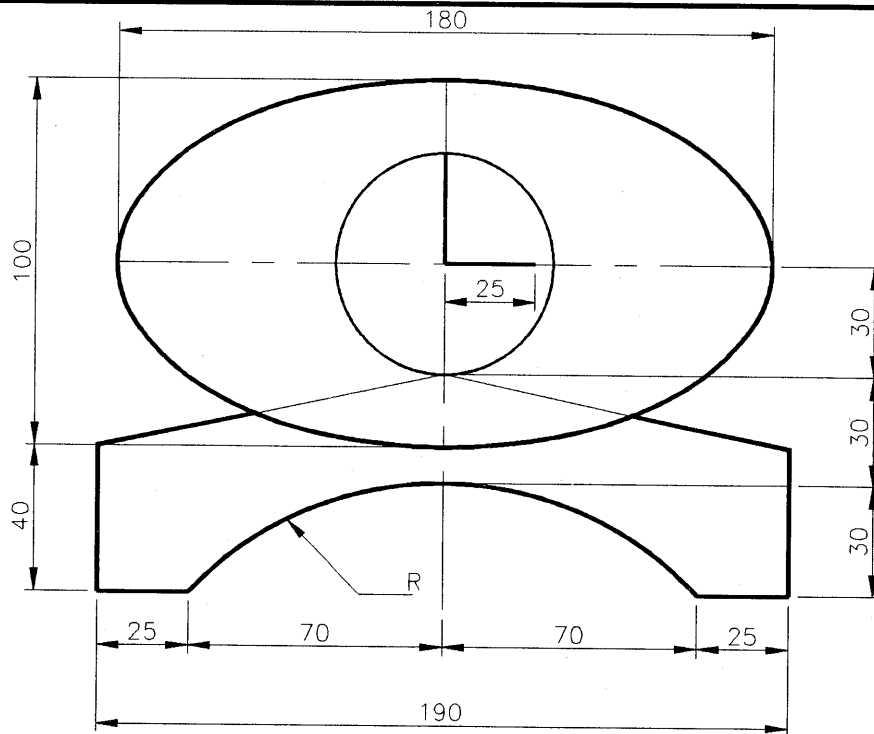
(a) Aghaidhchló ag féachaint i dtreo na saighde **A**.

(b) Taobhchló ag féachaint i dtreo na saighde **B**.

(c) Bonnchló a theilgtear ón aghaidhchló.

Cuir isteach **ceithre** thoise ar bith.

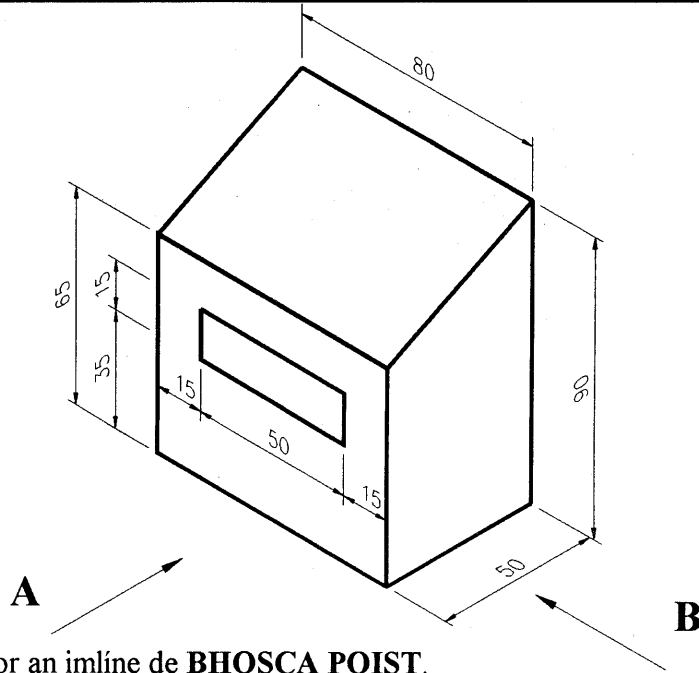
**2**



Taispeánann an fhíor dearadh de **CHLOG** agus éilips ann le Mór-ais 180mm agus le Mion-ais 100 mm. Tarraing an dearadh a thugtar agus taispeáin go soiléir na línte tógála go léir.



3

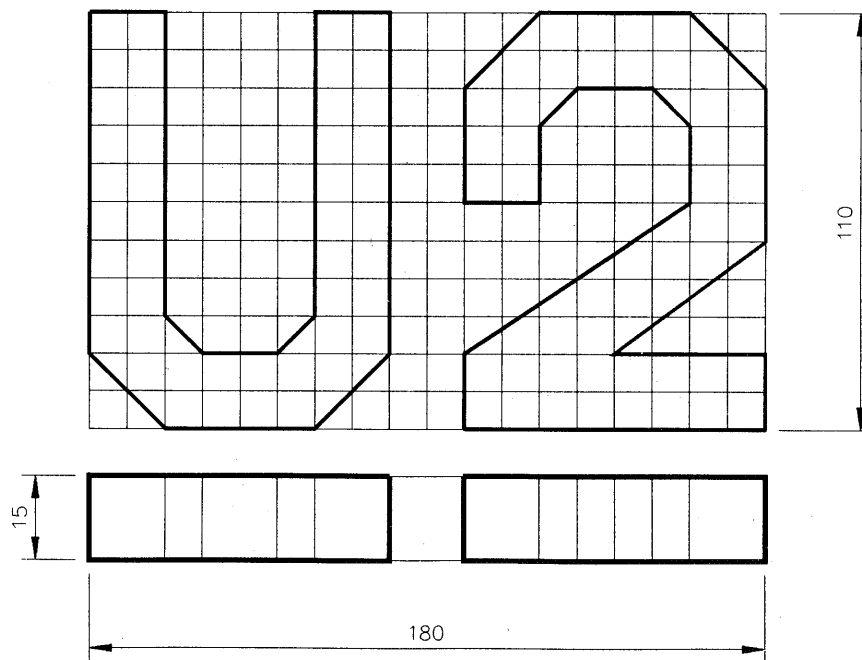


Taispeánn an fhíor an imlíne de **BHOSCA POIST**.

Tarraing na clónna seo a leanas:

- (a) Aghaidhchló ag féachaint i dtreo na saighde A.
- (b) Taobhchló ag féachaint i dtreo na saighde B.
- (c) **FORBAIRT** an Bhosca Phoist.

4



Taispeánann an fhíor **LOGO** don Ghrúpa hUascach U2. Déantar an ghreille le cearnóga 10 mm. Tarraing **CEANN AMHÁIN** de na clónna a leanas:

- (a) **CLÓ ISIMÉADRACH** NÓ (b) **FIARCHLÓ** den LOGO.

**Ni mór an réiteach a chur ar fáil ar pháipéar líníochta caighdeánach.**



