



# Coimisiún na Scrúduithe Stáit

*Scrúdú an Teastais Shóisearaigh, 2014*

## *Grafaic Theicniúil Ardleibhéal*

### *Roinn A*

*(120 marc)*

*Dé Luain, 16 Meitheamh  
Maidin 9:30 - 12:30*

#### *Treoracha*

- (a) *Freagair deich gcinn ar bith de na ceisteanna sna spásanna atá ann dóibh.  
Tá na ceisteanna uile ar aon mharc.*
- (b) *Ní mór na línte tógála uile a thaispeáint go soiléir.*
- (c) *Tá na toisí uile ina milliméadair.*
- (d) *Ní mór an leabhrán seo a thabhairt ar ais i ndeireadh an scrúdaithe.*
- (e) *Scríobh do Scrúduimhir sa bhosca atá ann di agus ar gach bileog eile a úsáideann tú.*

*Scrúduimhir:*



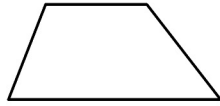
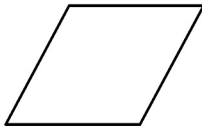
| Uimhir an Ionaid |
|------------------|
|                  |

| Ceist   | Marc |
|---------|------|
| Roinn A |      |
| 1       |      |
| 2       |      |
| 3       |      |
| 4       |      |
| 5       |      |
| 6       |      |
| IOMLÁN  |      |
| GRÁD    |      |

**ROINN A.** Freagair **deich gceist ar bith**. Tá na ceisteanna uile ar aon mharc.

1. Scríobh isteach an lipéad do **gach** léaráid as an liosta a thugtar thall.

- Traipéisiam
- Rombas
- Comhthreomharán
- Dronuilleog



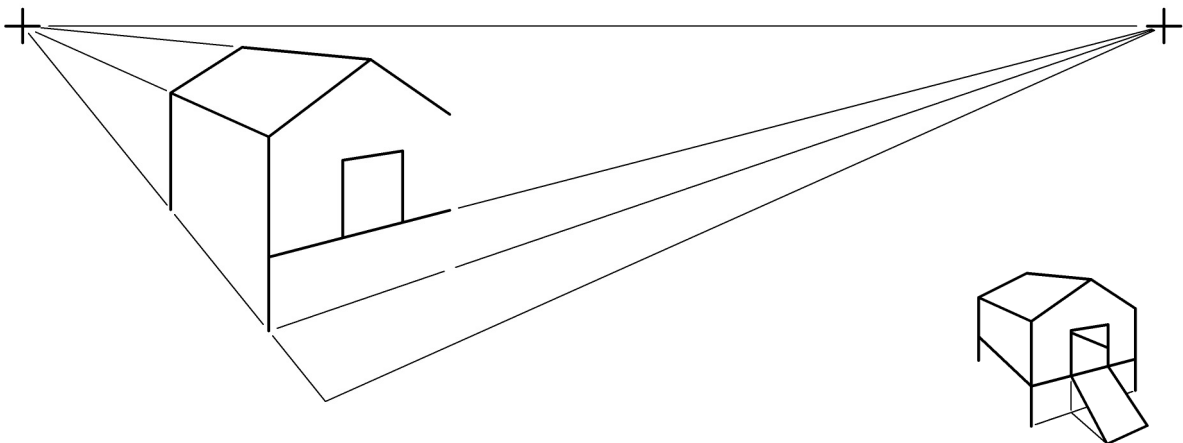
1. \_\_\_\_\_

2. \_\_\_\_\_

3. \_\_\_\_\_

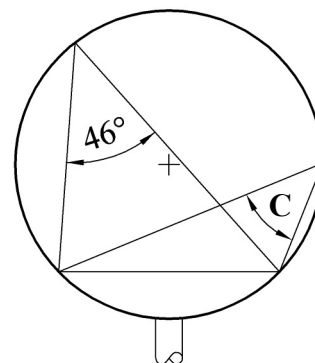
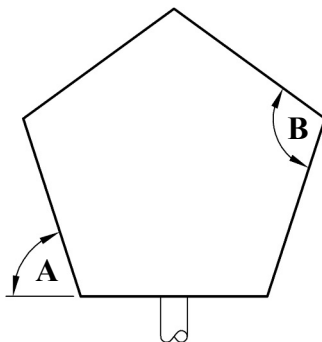
4. \_\_\_\_\_

2. Taispeánann an fhíor líníocht pheirspectíochta neamhiomlán de chlós cearc. Taispeántar grafaic 3T freisin. Críochnaigh an líníocht pheirspectíochta.



3. Scríobh síos toisí na n-uilleannacha atá marcáilte **A**, **B** agus **C**.

Peinteagán rialta

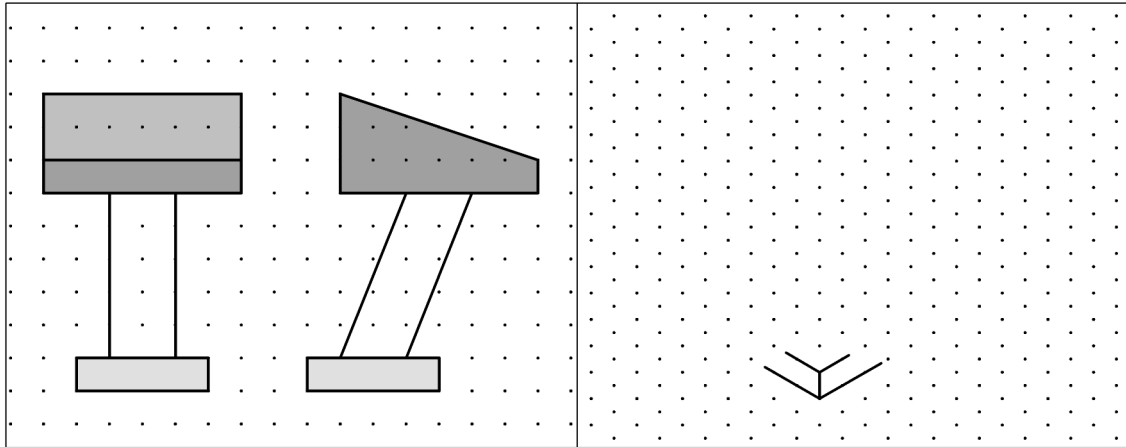


A = \_\_\_\_\_

B = \_\_\_\_\_

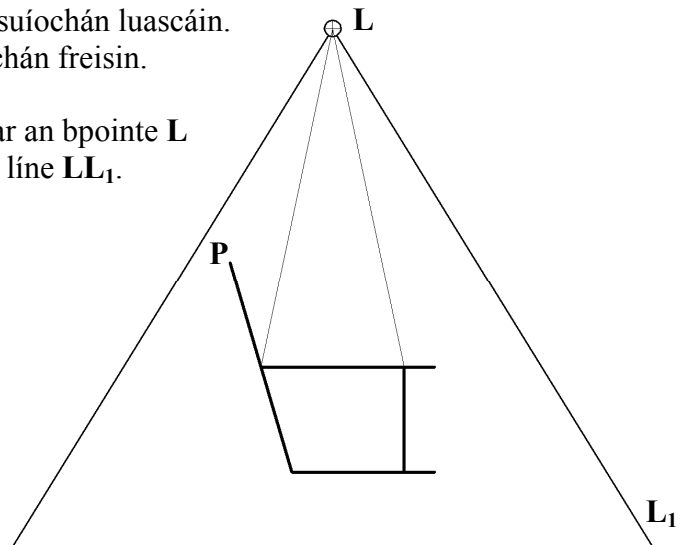
C = \_\_\_\_\_

4. Taispeántar teilgin bloc tosaithe do snámhaí ar an ngréille chearnógach. Déan sceitse pictiúrtha saorlámhe den bhloc tosaithe. Cuir dath **nó** scáthú ar an sceitse.



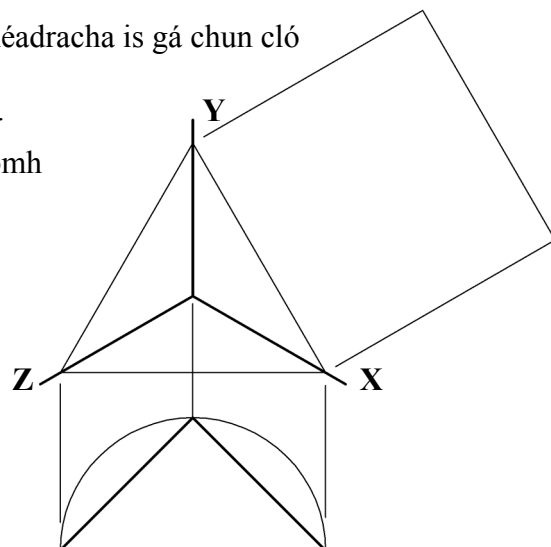
5. Taispeánann an fhíor taobhchló suíochán luascáin. Taispeántar grafaic 3T den suíochán freisin.

Rothlaigh an suíochán timpeall ar an bpointe **L** go dtí go sroicheann pointe **P** an líne  $LL_1$ .



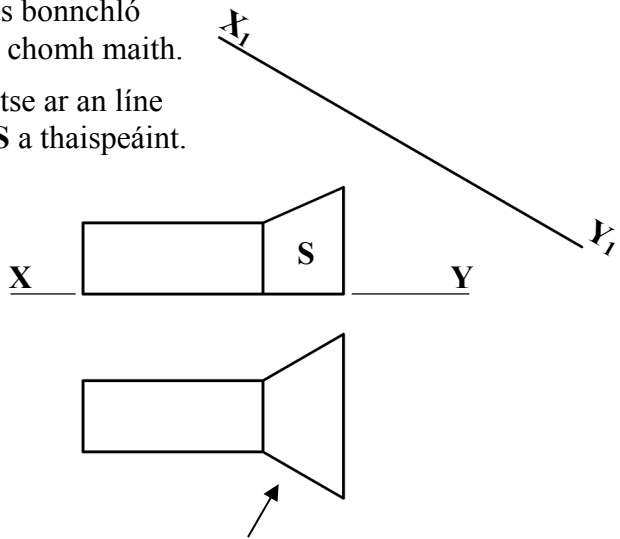
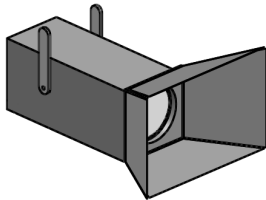
6. Taispeánann an fhíor na haiseanna aismhéadracha is gá chun cló isiméadrach a tharraingt. Taispeántar freisin suíomh an bhonnchló.

Críochnaigh an tógáil agus taispeáin suíomh an ingearchló.



7. Taispeánann an fhíor ingearchló agus bonnchló solas stáitse. Taispeántar grafaic 3T chomh maith.


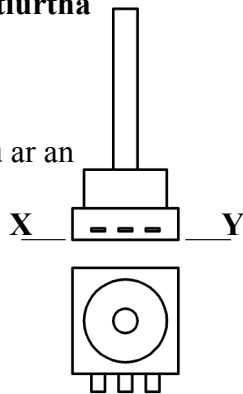
Teilg ingearchló cúnta den solas stáitse ar an líne  $X_1-Y_1$  chun fíorchruth an dromchla  $S$  a thaispeáint.



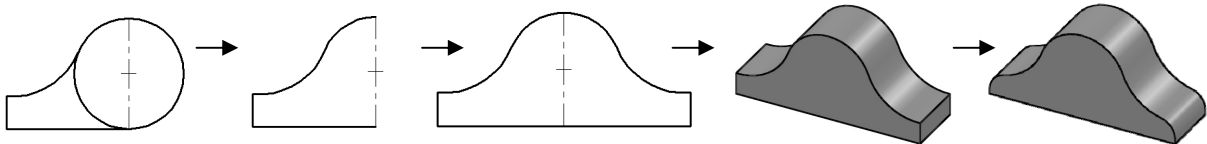
8. Taispeántar ingearchló agus bonnchló comhbhaill leictreonaigh.

Sa spás atá curtha ar fáil, tarraing **sceitse pictiúrtha saorláimhe** den chomhbhall.

Cuir dath **nó** scáthú ar an sceitse.



9. Scríobh síos **trí** ordú CAD **ar bith** a úsáidtear chun eagarthóireacht a dhéanamh ar an glogchás mar a léirítear sa seicheamh thíos.



Trí ordú CAD ar bith:

---

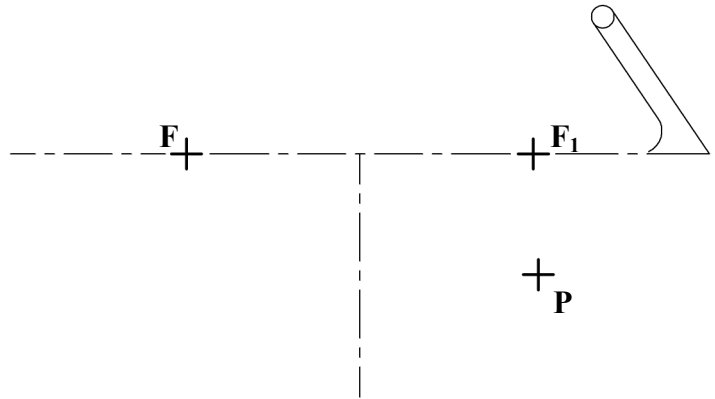



---

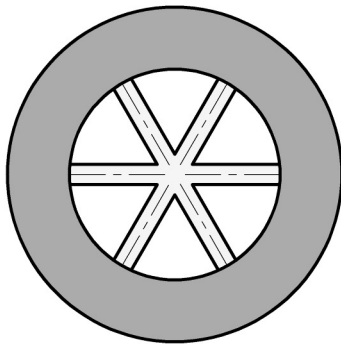


---


- 10.** Taispeánann an ghrafaic 3T luascán linbh. Is leath-éilips é bonn an luascáin. Taispeánann an fhíor suíomh aiseanna agus pointí fócais an leath-éilips. Is pointe ar an gcuar é an pointe **P**. Aimsigh fad na mór-aise agus fad na mion-aise agus tarraing an leath-éilips.



- 11.** Taispeánann **Fíor 1** dearadh de roth choimhiotail. Taispeánann **Fíor 2** imlíne rotha comhionann. Aimsigh lár an rotha i bh**Fíor 2**.

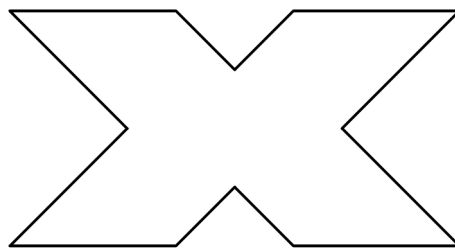


**Fíor 1**

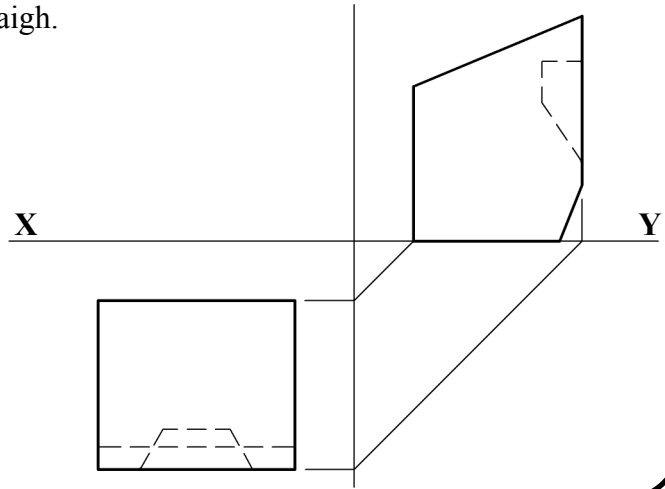
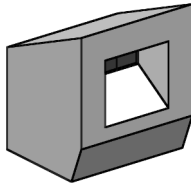


**Fíor 2**

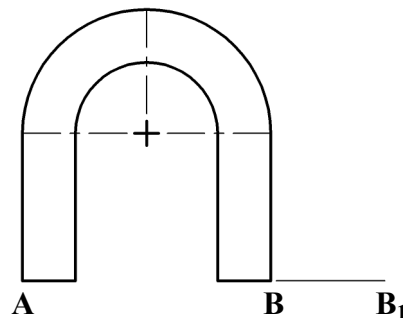
- 12.** Tarraing **dhá** ais siméadrachta ar an bhfíor a thaispeántar.



- 13.** Taispeánann an fhíor bonnchló agus taobhchló taisceadán éadaigh. Taispeántar grafaic 3T den taisceadán éadaigh freisin. Teilg ingearchló an taisceadán éadaigh.



- 14.** Taispeánann an fhíor imlíne mhaighnéid. Tarraing maighnéad nua a bheidh comhchosúil leis an maighnéad a thugtar, agus an fad **AB** méadaithe go **AB<sub>1</sub>**. Cuir dath **nó** scáthú ar an maighnéad nua.



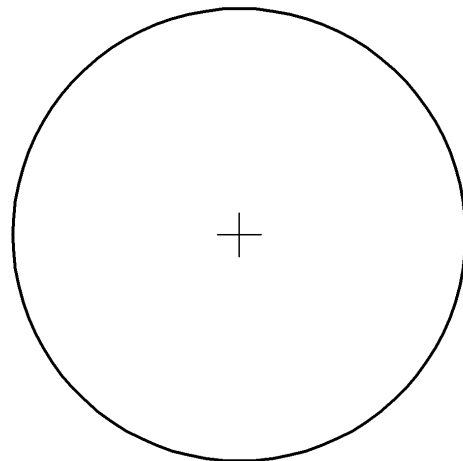
- 15.** Iarradh ar mhac léinn 3ú bliana cuntas a thabhairt ar imeachtaí a lae do ghnáthlá scoile.

Mar seo a leanas a bhí an toradh:

|               |   |                   |
|---------------|---|-------------------|
| Codladh/Scíth | - | 12 uair an chloig |
| Scoil         | - | 6 uair an chloig  |
| Staidéar      | - | 4 uair an chloig  |
| Fóillíocht    | - | 2 uair an chloig  |

Roinn an ciorcal a thugtar chun an t-eolas seo a chur in iúl go grafach mar phíchairt.

Cuir dath **nó** scáthú ar an bpíchairt chríochnaithe.



# **Leathanach Bán**

**Leathanach  
Bán**