



# Coimisiún na Scrúduithe Stáit

*Scrúdú an Teastais Shóisearaigh, 2012*

## *Grafaic Theicniúil*

### *Ardleibhéal*

#### *Roinn A*

*(120 marc)*

*Dé Luain, 18 Meitheamh*

*Maidin 9:30 - 12:30*

#### *Treoracha*

- (a) *Freagair deich gcinn ar bith de na ceisteanna sna spásanna atá ann dóibh. Tá na ceisteanna uile ar aon mharc.*
- (b) *Ní mór na línte tógála uile a thaispeáint go soiléir.*
- (c) *Tá na toisí uile ina milliméadair.*
- (d) *Ní mór an leabhrán seo a thabhairt ar ais i ndeireadh an scrúdaithe.*
- (e) *Scríobh do Scrúduimhir sa bhosca atá ann di agus ar gach bileog eile a úsáideann tú.*

*Scrúduimhir:*

Uimhir an Ionaid

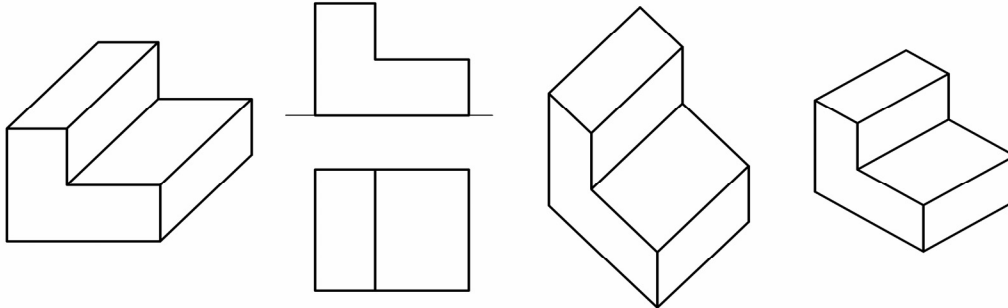
Ceist	Marc
Roinn A	
1	
2	
3	
4	
5	
6	
IOMLÁN	
GRÁD	

**ROINN A. Freagair deich gceist ar bith. Tá na ceisteanna uile ar aon mharc.**

**1** Scríobh an lipéad cuí faoi **gach** léaráid thíos. Roghnaigh na lipéid as liosta na dteilgean a thugtar thall.

Teilgean:

- Ortagrafach
- Isiméadrach
- Fiar
- Plánaiméadrach.

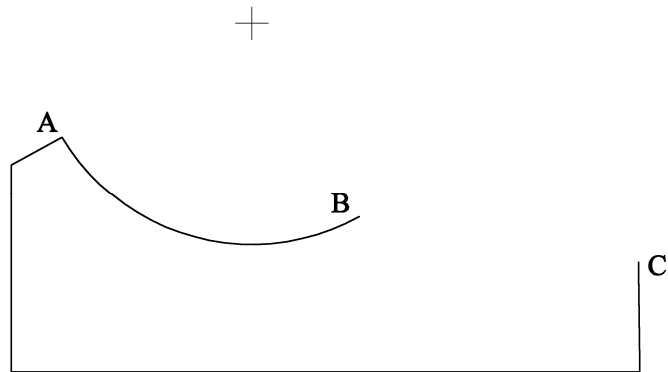
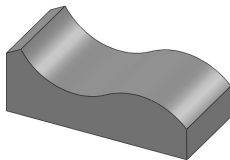


1 \_\_\_\_\_ 2 \_\_\_\_\_ 3 \_\_\_\_\_ 4 \_\_\_\_\_

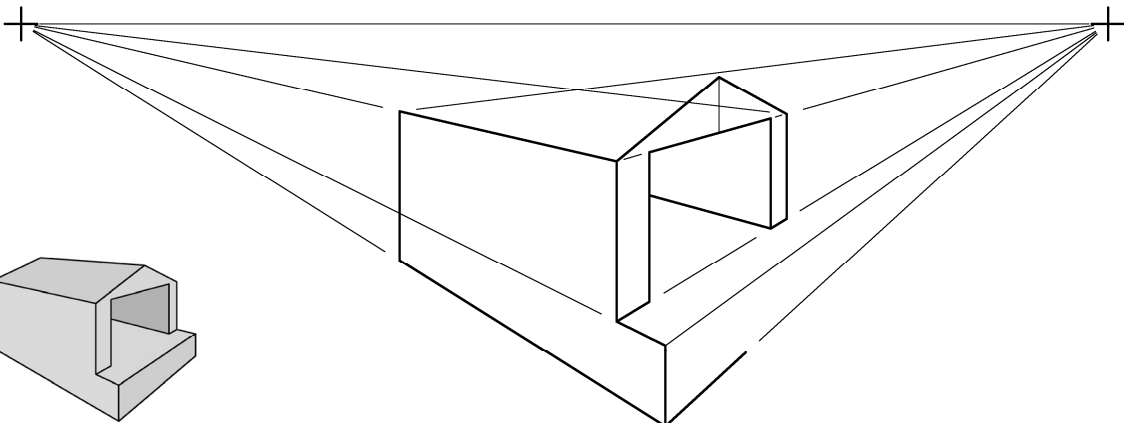
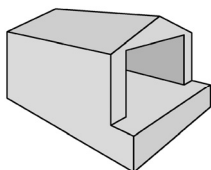
**2** Taispeántar aghaidhchló neamhiomlán de chathaoir shuaimhnis. Taispeántar chomh maith grafaic 3T den chathaoir. Críochnaigh an t-aghaidhchló tríd an stua **BC** a tharraingt.

Is é 35 mm ga an stua **BC** agus tá sé tadhlaíoch leis an stua **AB**.

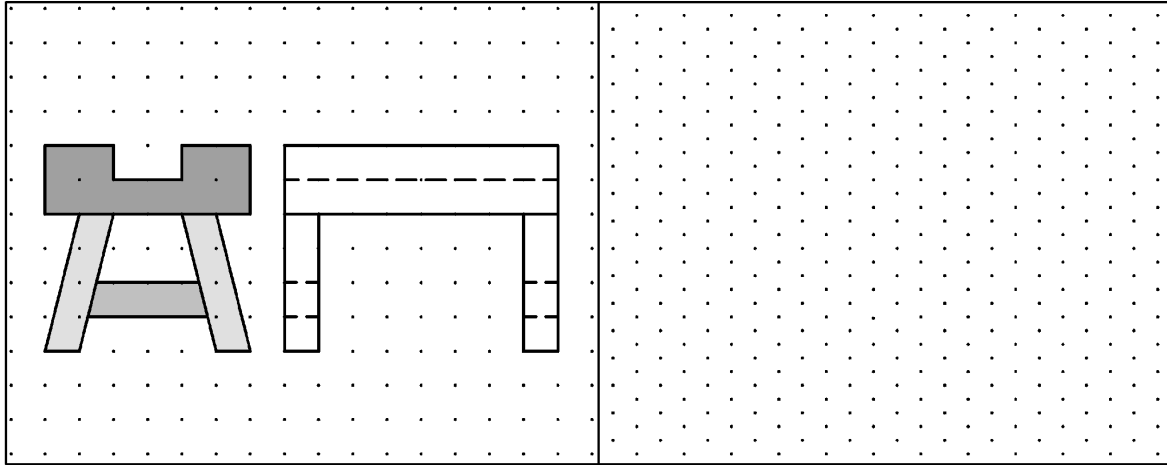
Taispeáin an pointe tadhaill idir na stuanna.



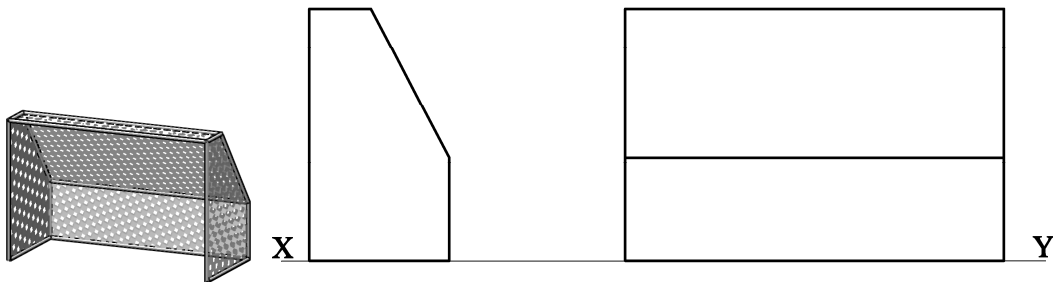
**3** Taispeánann an fhíor líníocht pheirspictíochta de phreabchaisleán. Níl an líníocht críochnaithe. Taispeántar chomh maith grafaic 3T den phreabchaisleán. Críochnaigh an líníocht pheirspictíochta.



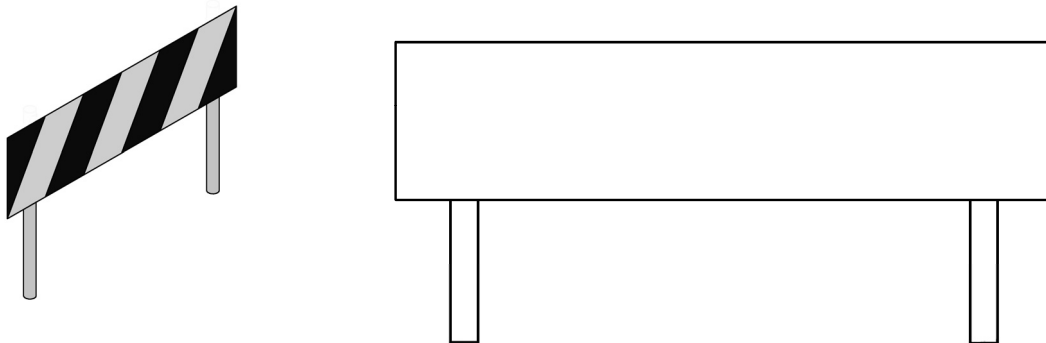
- 4 Taispeántar aghaidhchló agus taobhchló de bhinse oibre. Déan **sceitse pictiúrtha saorlámhe** den bhinse. Cuir dath **nó** scáthú ar an sceitse.



- 5 Taispeánann an fhíor aghaidhchló agus taobhchló d'eangach spóirt. Taispeántar ghrafaic 3T den eangach chomh maith. Tarraing forbairt den eangach spóirt.

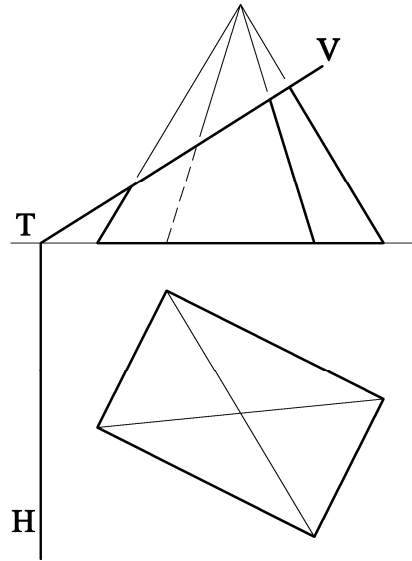


- 6 Taispeántar sa ghrafaic 3T comhartha frithchaiteach i gcomhair slándáil ar na bóithre. Tá an leithead céanna sna painéil go léir air. Críochnaigh aghaidhchló an chomhartha agus taispeáin go soiléir conas leithead na bpainéal a oibriú amach.



7 Taispeánann an fhíor aghaidhchló agus bonnchló de phirimid a ghearrtar leis an bplána VTH.


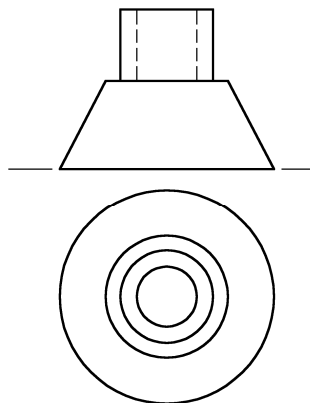
Críochnaigh bonnchló na pirimide.



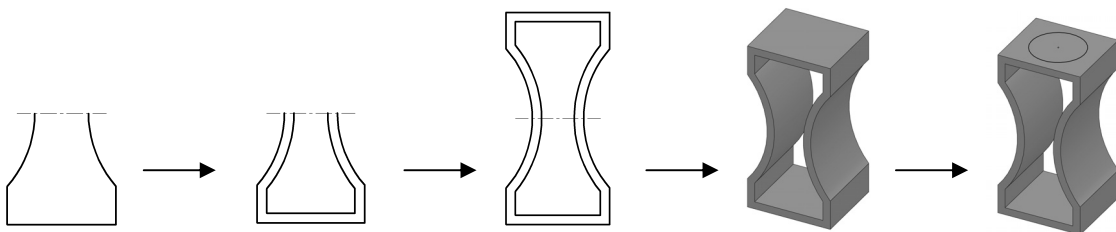
8 Taispeántar aghaidhchló agus bonnchló de thí ciceála.

Tarraing **sceitse pictiúrtha saorlámhe** den tí ciceála sa spás atá curtha ar fáil.

Cuir dath **nó** scáthú ar an sceitse.



9 Scríobh síos **trí ordú CAD ar bith** a úsáidtear chun eagarthóireacht a dhéanamh ar an bhfíor mar a léirítear sa seicheamh.



Trí ordú CAD ar bith:

---



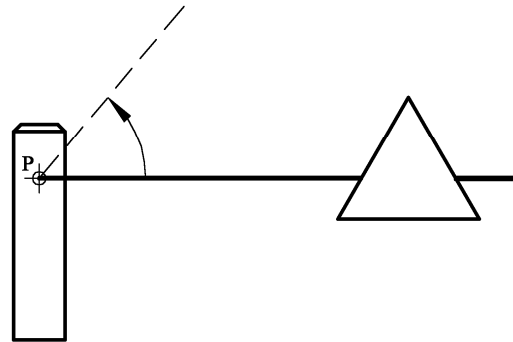
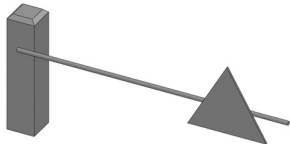
---



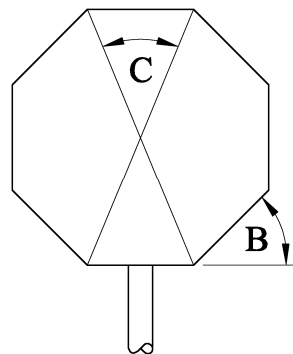
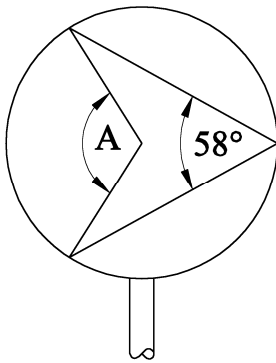
---

**10** Taispeántar san fhíor aghaidhchló de bhacainn ar bhealach isteach. Taispeántar chomh maith grafaic 3T den bhacainn agus í ina suíomh dúnta.

Rothlaigh an bhacainn timpeall ar phointe **P** agus taispeáin an bhacainn ina suíomh oscailte, a chuirtear in iúl leis an líne bhriste.



**11** Scríobh síos toisí na n-uilleannacha **A**, **B** agus **C**.



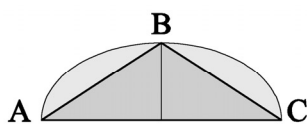
**A** = \_\_\_\_\_

**B** = \_\_\_\_\_

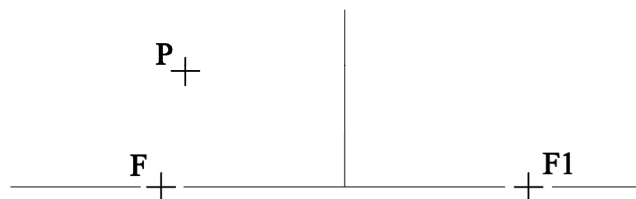
**C** = \_\_\_\_\_

**12** Taispeántar i bhFíor 1 an triantán **ABC** inscríofa i leath-éilips. I bhFíor 2, taispeántar aiseanna agus pointí fócais an éilips agus pointe **P** ar an gcuar. Aimsigh fad na mór-aise agus fad na mion-aise agus tarraing an triantán **ABC** i bhFíor 2.

*Nóta: Ní gá an leath-éilips a tharraingt.*




Fíor 1

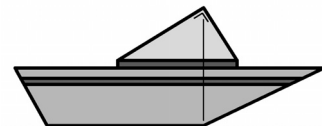


Fíor 2

**13** Taispeántar i bhFíor 1 dearadh le haghaidh mionsamhail de luasbhád. Níl an dearadh críochnaithe. I bhFíor 2, taispeántar grafaic bheag den bhád agus an gaohscáth leis. Tá an gaohscáth bunaithe ar thriantán dronuilleach. Críochnaigh Fíor 1 chun gaohscáth an bháid a thaispeáint.



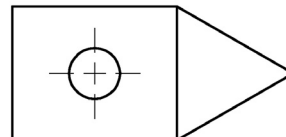
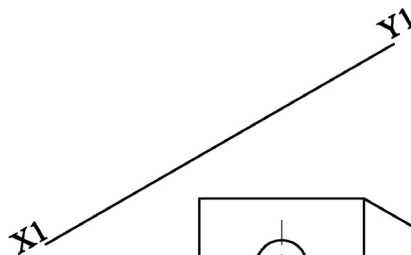
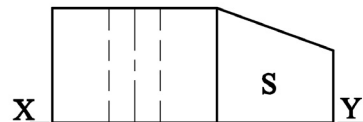
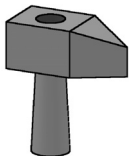
Fíor 1



Fíor 2

**14** Taispeánann an fhíor an bonnchló agus an t-aghaidhchló de cheann tua. Taispeántar chomh maith grafaic 3T den tua.

Teilg aghaidhchló cúnta an chinn tua ar an líne X1-Y1 agus taispeáin fíorchruth an dromchla S.

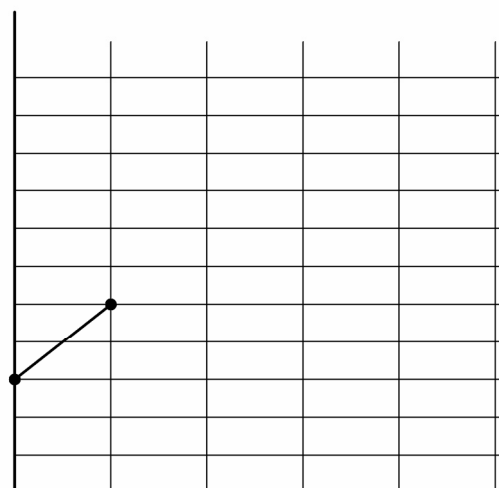


**15** Coimeádadh tuairisc ar dhíolachán trealamh grafaic theicniúil ar feadh tréimhse sé mhí.

Is iad seo a leanas na díolacháin:

- Iúil - € 300
- Lúnasa - € 500
- Meán Fómhair - € 900
- Deireadh Fómhair - € 400
- Samhain - € 300
- Nollaig - € 600

Críochnaigh an chairt chun an t-eolas seo a chur in iúl go grafach.



Iúil Lúnasa MF DF Samh Nollaig

**Leathanach Bán**

**Leathanach Bán**