

*Scrúdú an Teastais Shóisearaigh 2009****Grafaic Theicniúil******Ardleibhéal******Roinn A****(120 marc)****Dé Luain, 15 Meitheamh******Maidin 9:30 - 12:30******Treoracha***

- (a) *Freagair deich gcinn ar bith de na ceisteanna sna spásanna atá ann dóibh. Tá na ceisteanna uile ar aon mharc.*
- (b) *Ní mór na línte tógála uile a thaispeáint go soiléir.*
- (c) *Tá na toisí uile ina milliméadair.*
- (d) *Ní mór an leabhrán seo a thabhairt ar ais i ndeireadh an scrúdaithe*
- (e) *Scríobh do Scrúduimhir sa bhosca atá ann di agus ar gach bileog eile a úsáideann tú.*

Scrúduimhir:

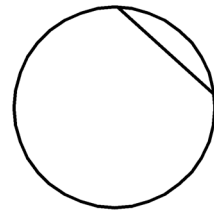
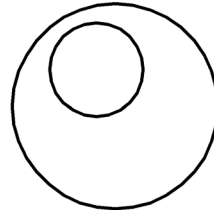
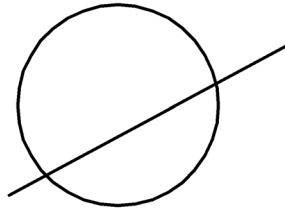
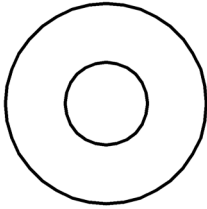
Uimhir an Ionaid

Ceist	Marc
Roinn A	
1	
2	
3	
4	
5	
6	
IOMLÁN	
GRÁD	

ROINN A. Freagair **deich gceist** ar bith. Tá na ceisteanna uile ar aon mharc.

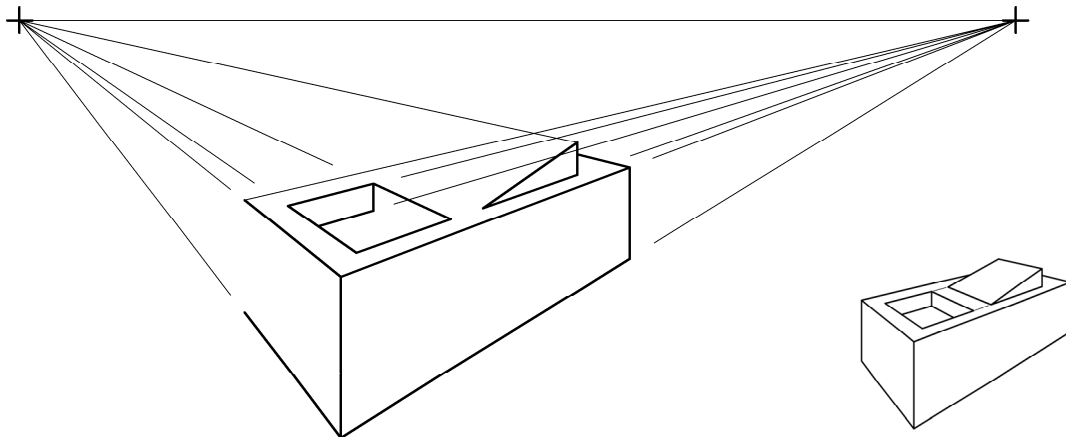
1 Líon isteach an lipéad do **gach** léaráid, trí rogha a dhéanamh ón liosta a thugtar ar dheis.

- Éalárnach
- Corda
- Teascaí
- Comhlárnach



1. _____ 2. _____ 3. _____ 4. _____

2 Taispeánann an fhíor líníocht pheirspictíochta neamhiomlán de phrintéir. Taispeántar chomh maith grafaic 3D den phrintéir. Críochnaigh an líníocht pheirspictíochta.




3 Taispeánann an fhíor dearadh do bhonn bróige.

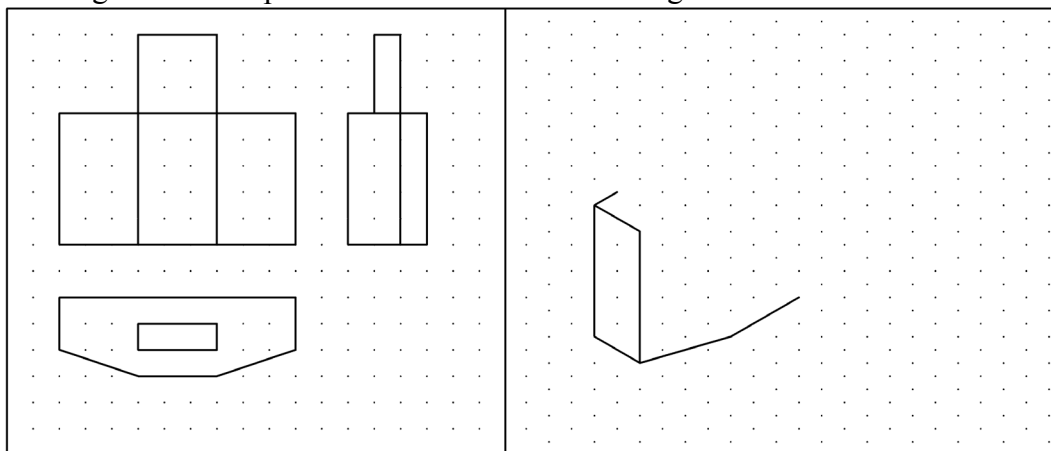
+

Taispeántar chomh maith láir na stuanna.

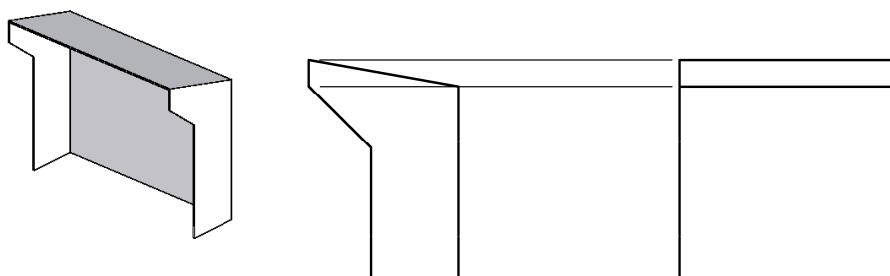
Taispeáin go soiléir na pointí teagmhála go léir.



- 4 Taispeántar aghaidhchló, bonnchló agus taobhchló seinnteoir MP3 agus stáisiún nasctha ar an ngréille chearnógach. Críochnaigh an sceitse pictiúrtha den seinnteoir MP3 agus den stáisiún nasctha.



- 5 Taispeánann an fhíor aghaidhchló agus taobhchló scáthlán bus. Taispeántar chomh maith grafaic 3D den scáthlán bus. Tarraing forbairt an scáthlán bus.



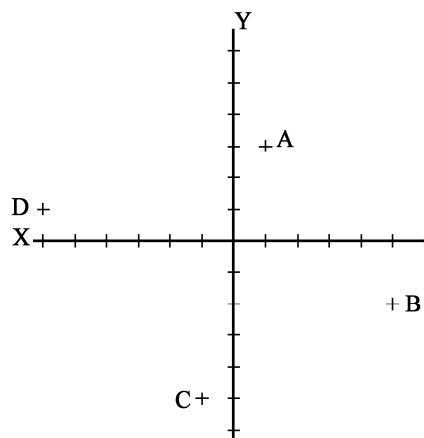
- 6 Tá na haiseanna X agus Y a thaispeántar marcáilte ina n-eatraitmh 10 n-aonad. Luaigh na comhordanáidí ag na pointí atá marcáilte A, B, C agus D.

A: _____

B: _____

C: _____

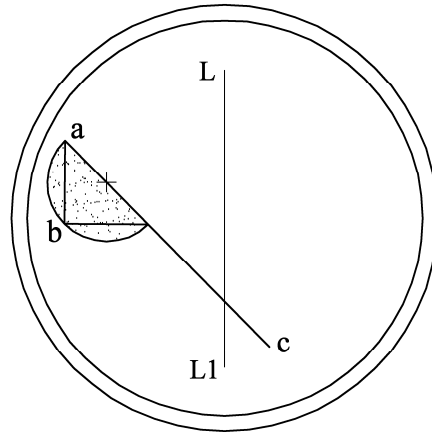
D: _____



7

Taispeánann an fhíor lógó neamhiomlán do chuideachta éadaí.

Críochnaigh an lógó trí íomhá den fhíor **abc** a thógáil faoi shiméadracht aiseach sa líne **L-L1**.


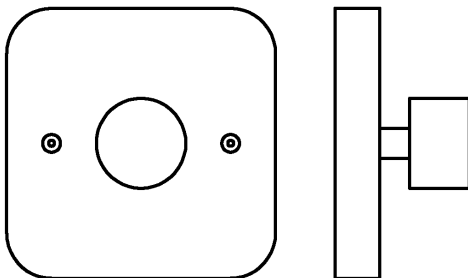


8

Taispeántar aghaidhchló agus taobhchló lasc mhaolúcháin.

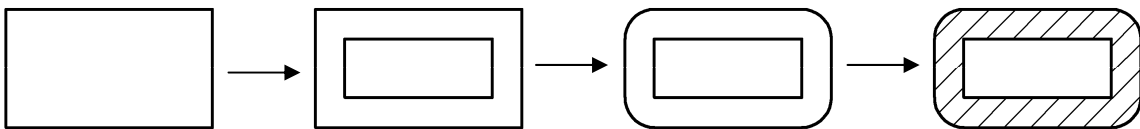
Tarraing sceitse pictiúrtha **saorláimhe** den lasc sa spás atá curtha ar fáil.

Cuir dath **nó** scáth ar an sceitse.



9

Liostaigh na horduithe CAD a úsáidtear chun eagarthóireacht a dhéanamh ar an bhfíor mar a léirítear sa seicheamh thíos.

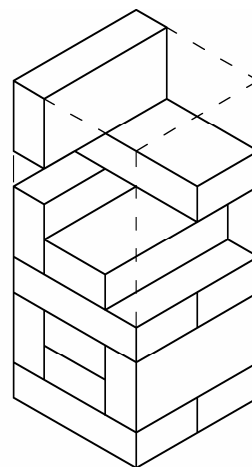


Orduithe CAD: _____

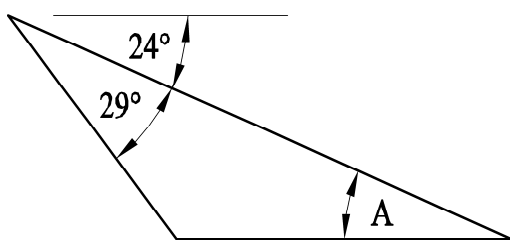
10 Taispeánann an fhíor puzal adhmaid atá comhdhéanta de bhloic chomhionanna.

Luaigh an líon bloc is gá chun an puzal a chríochnú, mar a thaispeántar leis na línte briste.

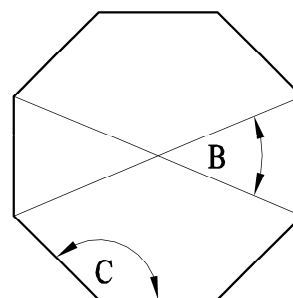
Beidh gá le _____ bloc chun an puzal a chríochnú.



11 Scríobh síos méid na n-uilleannacha atá marcáilte **A**, **B** agus **C**.



Ochtagán Rialta



A = _____

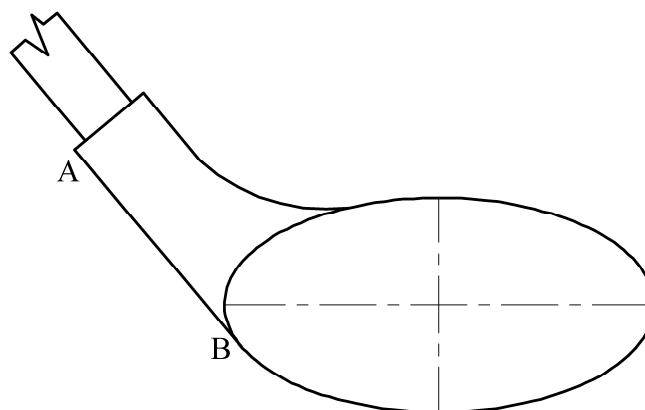
B = _____

C = _____

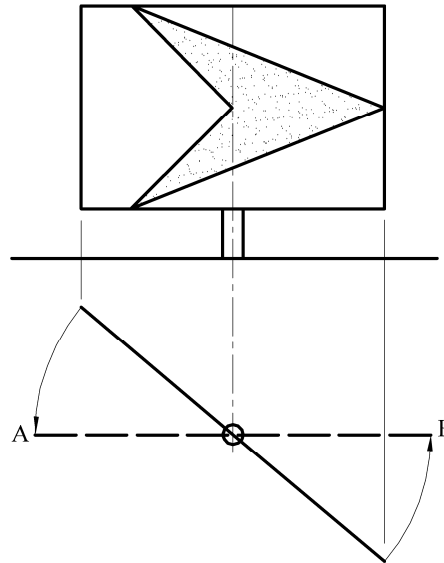
12 Taispeántar dearadh do cheann maide gailf.

Aimsigh pointí fócais an éilips agus aimsigh an pointe teagmhála idir an tadhlaí **AB** agus an t-éilips.

Taispeáin go soiléir na tógálacha go léir.



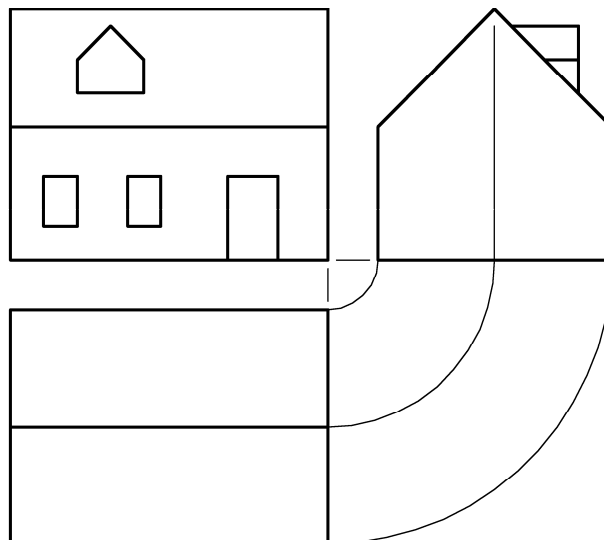
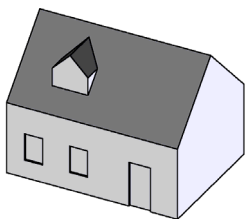
- 13** Críochnaigh aghaidhchló an chomhartha bóthair a thugtar ina shuíomh rothlaithe, mar a thaispeántar leis an líne bhriste **AB** sa bhonnchló.



- 14** Taispeánann an fhíor aghaidhchló, taobhchló agus bonnchló neamhiomlán mionsamhail tí le fuinneóg dormánta sa díon.

Taispeántar chomh maith grafaic 3D den mhionsamhail.

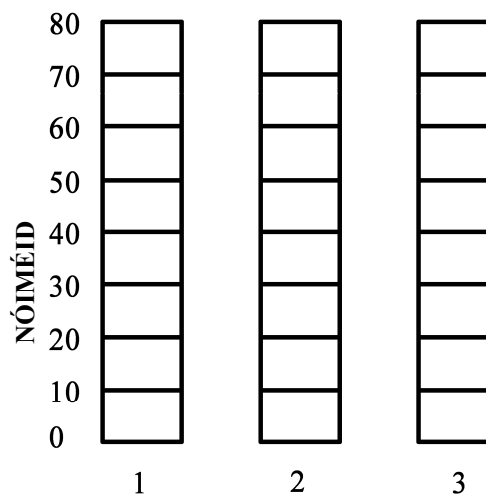
Críochnaigh bonnchló na fuinneoige dormánta.



- 15** Taispeánann an fhíor trí amlasc do théitheoir tumtha. Déantar na lasca a thomhas i nóiméid, mar a thaispeántar.

Cuir scáth ar na lasca chun na socrúithe ama seo a leanas a léiriú:

- Lasc 1 - 50 nóiméad
- Lasc 2 - 20 nóiméad
- Lasc 3 - 1 uair 10 nóiméad



Leathanach Bán

Leathanach Bán