



Coimisiún na Scrúduithe Stáit

SCRÚDÚ AN TEASTAIS SHÓISEARAIGH, 2007

EOLAÍOCHT - GNÁTHLEIBHÉAL

[N.B. Ní d'Iarrthóirí Eolaíochta – Staidéar Áitiúil é seo]

DÉARDAOIN, 14 MEITHEAMH – MAIDIN, 9.30 go 12.00

TREORACHA

1. Scríobh do **scrúduimhir** sa bhosca atá ann di sa leathanach seo.
2. Freagair **ROINN A**.
3. Freagair **TRÍ ROINN AR BITH** as na **RANNA B, C, D, E**.
4. Freagair **gach ceist** sna spásanna atá ann dóibh. Má tá spás breise uait, tá leathanaigh curtha ar fáil ar chúl an leabhráin seo.

Uimhir an Ionaid

Scrúduimhir

Don scrúdaitheoir amháin

1. Suim na n-iomlán ag bun na leathanach	
2. Suim chomhiomlán aon cheist(eanna) nár ceadáíodh	
3. Marcanna iomlána tugtha (1 lúide 2)	
4. Bónas do fhreagairt trí Ghaeilge (más cuí)	
5. Iomlán na marcanna tugtha má tá bónas don Ghaeilge (3 móide 4)	

Don scrúdaitheoir amháin CEIST MARC

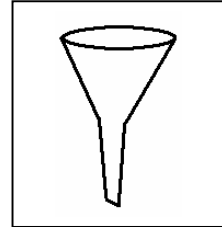
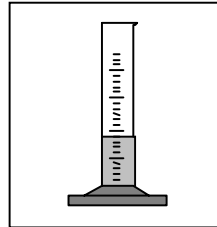
Roinn A	C.1	
Roinn B	C.2	
	C.3	
	C.4	
Roinn C	C.5	
	C.6	
	C.7	
Roinn D	C.8	
	C.9	
	C.10	
Roinn E	C.11	
	C.12	
	C.13	
	C.14	
	C.15	
	C.16	
FO-IOMLÁN		
BÓNAS		
IOMLÁN		
GRÁD		

ROINN A – CROÍCHÚRSA (144 MARC)

Freagair 12 chuid ar bith (a), (b), (c), etc. as an Roinn seo.

Ceist 1

(a) **Ainmnigh** na píosaí trealaimh seo a leanas.



AINM _____

(b) **Comhlánaigh** an tábla thíos agus ainmnigh an **gléas** agus an **t-aonad tomhais** i ngach cás.

Gníomh a rinne an mac léinn	Gléas	Aonad tomhais
Mais cloiche a thomhas		
Fad líne chuartha a thomhas		

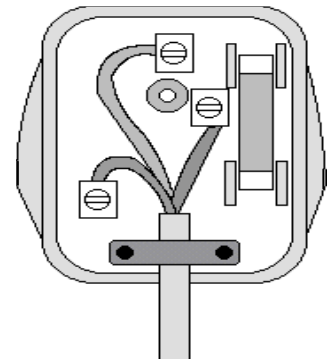
(c) Sa léaráid taispeántar an taobh istigh de **phlocóid trí phionna**.

Ainmnigh ábhar a úsáidtear chun an clúdach do phlocóid trí phionna a dhéanamh.

Cén **dath** atá ar chlúdach (insliú) na sreinge **neodraí**?

Cé acu sreang, **neodrach**, **beo nó talmhú**, ar chóir an fiús a cheangal léi?

Cén fheidhm atá ag **fiús** i bplocóid?



(d) Bain úsáid as an bhfocal cúí ón liosta ar dheis i ngach cás chun na habairtí seo a leanas a chomhlánú.

Taistealaíonn teas ón **ngrian go dtí an Domhan** le _____.

Taistealaíonn teas trí **shlat iarainn** le _____.

Taistealaíonn teas trí **leachtanna** le _____.

Bíonn **seaicéid fhálaithe** ar choirí le haghaidh _____ teasa.

SEOLADH
INSLIÚ
RADAÍOCHT
COMHIOMPAR

(e) Sa léaráid taispeántar fleascán uisce dhaite agus é á théamh go réidh.

Cén tionchar a bhíonn ag an teas seo ar **thoirt an uisce** sa fhleascán? _____

Cad a tharlaíonn chun a thaispeáint go bhfuil an tionchar seo ag an teas?

Cad a tharlaíonn do leibhéal an uisce san fheadán de réir mar a **fhuaíonn** an fleascán? _____

Ainmnigh **gléas** a oibríonn de réir an phrionsabail seo.



(f) Roghnaigh **dhá** dhúil ón tábla ar dheis atá ina **miotail**.

1 _____ 2 _____

Roghnaigh dúil ón tábla a fhaightear san **aer**.

Roghnaigh dúil ón tábla a fhaightear i gcainníochtaí móra i **mbreoslaí iontaise**. _____

CARBÓN
COPAR
NÍTRIGIN
AIRGEAD

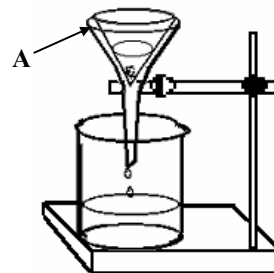
(g) Rinneadh **meascán** d'ithir agus d'uisce a dheighilt trí úsáid a bhaint as an modh a thaispeántar sa léaráid.

Ainmnigh an modh deighilte seo. _____

Cad a chuirfeá sa pháosa trealaimh a bhfuil an lipéad **A air** chun cabhrú le deighilt na hithreach agus an uisce?

Cé acu **substaint** a gheofar san eascra ag deireadh an turgnaimh?

Cén fáth nach bhfuil an modh seo oiriúnach chun alcól agus uisce a dheighilt?



(h) Comhlánaigh an tábla thíos agus sainaithean gach ceann de na hathruithe sa liosta mar **athrú fisiceach** nó **athrú ceimiceach**.

Gual á dhó Oighear á leá Salann á thuaslagadh in uisce Ubh á fhriochadh

Athrú Fisiceach	Athrú Ceimiceach

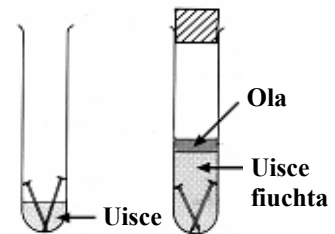
(i) Sa léaráid taispeántar turgnamh a cuireadh ar bun chun **meirgiú iarainn** a fhiosrú.

Cé acu promhadán **A** nó **B** a mbeifeá ag súil leis go dtiocfadh meirg ar na tairní ann?

Tabhair **cúis** le do fhreagra.

Cén fáth ar cuireadh **ciseal ola** ar bharr an uisce fhiuchta?

Tabhair **modh** amháin chun meirgiú iarainn a chosc.



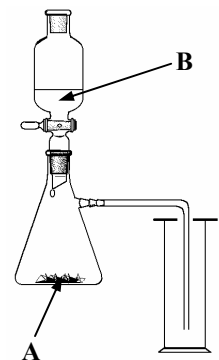
(j) Sa léaráid taispeántar an gaireas a úsáidtear chun gás **dé-ocsaíd charbóin** a ullmhú agus a bhailiú sa tsaotharlann. Imoibríonn solad **A** le leacht **B**.

Ainmnigh an solad **A**. _____

Ainmnigh an leacht **B**. _____

Tabhair gnáthúsáid laethúil **amháin** a bhaintear as gás dé-ocsaíd charbóin.

Cén **dath** a thagann ar aoluisce má chuirtear dé-ocsaíd charbóin ag boilgearnach tríd? _____



(k) I ngach cás roghnaigh **orgán** nó **cuid den chorp** ón liosta ar dheis,

a tháirgeann fual _____

a bhraitheann solas _____

a dhéanann cealla speirme daonna _____

a dhéanann an corp a iompar _____

**UIRÍOCHA
DUÁN
CNÁMHARLACH
SÚIL**

(l) Tá an-tábhacht ag baint le **hainmhithe** agus le **plandaí** agus is acmhainn luachmhar iad ina lán réimsí saoil.

Ainmnigh ainmhí amháin ó ghnáthóg a bhfuil staidéar déanta agat uirthi. _____

Ainmnigh planda amháin ó ghnáthóg a bhfuil staidéar déanta agat uirthi. _____

Ainmnigh slí amháin a bhféadann ainmhithe a bheith **tábhachtach** do dhaoine.

Ainmnigh slí amháin a bhféadann plandaí a bheith **tábhachtach** do dhaoine.

(m) Tá bia comhdhéanta de chúig chineál (chomhábhar) bia. Comhlánaigh an tábla thíos agus tabhair **foinse amháin** agus **feidhm amháin** ag na cineálacha bia sa liosta. Tá líne amháin comhlánaithe mar shampla duit.

CINEÁL BIA	FOINSE	FEIDHM
Carbaihidráit	Arán	Tugann sé fuinneamh
Saill		
Próitéin		

(n) Cuirtear planda glas i solas geal ar feadh roinnt uaireanta an chloig.

Ainmnigh an chuid den phlanda is mó a dhéanann **bia**.

Ainmnigh an **próiseas** trína ndéanann plandaí a mbia féin.

Ainmnigh an **gás** a scaoiltear nuair a dhéanann plandaí bia.

Ainmnigh an **ceimiceán** a úsáidtear sa tsaotharlann chun a thástáil an bhfuil bia (stáirse) déanta ag planda.



(o) Is féidir le miocrorgánaigh mar **fhungais**, **baictéir** agus **víris** a bheith úsáideach agus díobhálach araon.

Luaigh slí amháin **ina bhfuil baictéir úsáideach** do dhaoine. _____

Luaigh slí amháin **ina bhfuil baictéir díobhálach** do dhaoine. _____

Ainmnigh **víreas** amháin atá **díobhálach** do dhaoine. _____

Ainmnigh **galar** amháin arb é **is cúis leis ná fungas**. _____

ROINN B – FISIC (72 MARC)

Tá TRÍ cheist sa Roinn seo. Freagair DHÁ cheist ar bith díobh.

Ceist 2

- (a) **Fórsa** idir dhá rud ag gluaiseacht thar a chéile is ea frithchuimilt. Tabhair **dhá** shampla eile d'**fhórsaí**.

1 _____ 2 _____ (6)

Ainmnigh slí amháin inar féidir frithchuimilt idir dhá rud a **laghdú**.

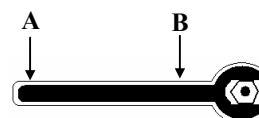
_____ (3)

Nuair atá gluasteán á thiomáint, is féidir le frithchuimilt a bheith **úsáideach** nó **neamhúsáideach**. Tabhair sampla **amháin** d'ócáid a bhfuil frithchuimilt **úsáideach** agus gluasteán á thiomáint. _____ (3)

- (b) Gníomhaíonn an castaire sa léaráid mar **luamhán** chun **fórsa casaidh** a fheidhmiú ar an genó.

Ainmnigh sampla amháin eile de luamhán. _____ (3)

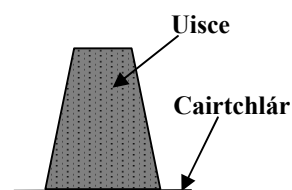
Má úsáidtear an fórsa céanna ag **A** agus **B**, cé acu cearn a thabharfaidh an **iarmhairt chasaidh** is mó? _____ (3)



Líonadh gloine le huisce agus cuireadh píosa cairtchláir ar a bharr. Ansin casadh an ghloine uisce bunoscionn go cúramach mar a thaispeántar sa léaráid.

An dtiteann **an t-uisce** as an ngloine nuair a chastar bunoscionn é? _____ (3)

Cad a thaispeánann an **turgnamh** seo? _____ (3)



- (c) Déan cur síos, le cabhair léaráide lipéadaithe, ar thurgnamh chun a **thaispeáint go bhforbraíonn solaid nuair a dhéantar iad a théamh**. (12)

Léaráid lipéadaithe

Ceist 3

- (a) Roghnaigh an **focal** cuí ón liosta ar dheis chun gach ceann, faoi seach, de na habairtí thíos a chomhlánú.

Is é aonad **an tsrutha leictrigh** ná an _____ (3)

Soláthraíonn an BSL leictreachas s.a. ag **230** _____ (3)

An t-aonad **cumhachta** a bhíonn stampáilte ar

bholgán solais ná an _____ (3)

An t-aonad leictreachais a úsáideann BSL le haghaidh **costála** ná an _____ (3)

CILEAVATUAIR
VOLTAÍ
AMPÉAR
VATA

- (b) Sa léaráid taispeántar ciorcad leictreach. Nuair a dhúntar an lasc gabhann **sruth leictreach tríd an gcorna sreinge** atá curtha in eascra uisce.

Cén **iarmhairt** ar an uisce atá ag an sruth leictreach atá ag

gabháil tríd an gcorna? _____ (3)

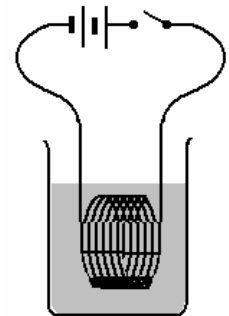
Cén **gléas** a d'fhéadfaí a úsáid chun an iarmhairt seo a thaispeáint?

_____ (3)

Castar **tine leictreach** 3kW ar siúl ar feadh ceithre huair.

Cé mhéad **aonad** (kWh) a úsáideann sé? _____ (3)

Má chosnaíonn gach aonad 10 cent, faigh **costas** an leictreachais a úsáideadh. _____ cent (3)



- (c) Crochadh **barramhaighnéad** gan bhac mar a thaispeántar sa léaráid.

Cad a tharlaíonn má thugtar an **pol thuaidh** ar mhaighnéad eile cóngarach do **phol thuaidh** an mhaighnéid atá ar crochadh?

_____ (3)

Cén fáth a n-úsáidtear **seastán adhmaid**?

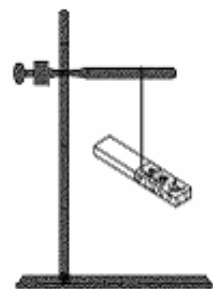
_____ (3)

Ainmnigh **gléas** a bhraitheann ar mhaighnéad crochta agus é ag ailíniú (ag dul ar aon líne) le réimse maighnéadach an Domhain?

_____ (3)

Tabhair **gnáthúsáid laethúil** amháin eile a bhaintear as maighnéad.

_____ (3)



Ceist 4

(a) I ngach cás, faoi seach, meaitseáil an **focal** cuí ón liosta ar dheis leis na frásaí thíos.

Is é **fuinneamh** ann ná an cumas chun _____ a dhéanamh. (3)

Foinse fuinnimh **inathnuaite** _____ (3)

Foinse fuinnimh **neamh-inathnuaite** _____ (3)

Fuinneamh as **núicléis** na n-adamh _____ (3)

AN GHRIAN
GUAL
NÚICLÉACH
OBAIR

(b) Sa léaráid taispeántar léas de sholas bán **á spré** trí phársa trealaimh **X**, ag cruthú **banda dathanna** ar scáileán.

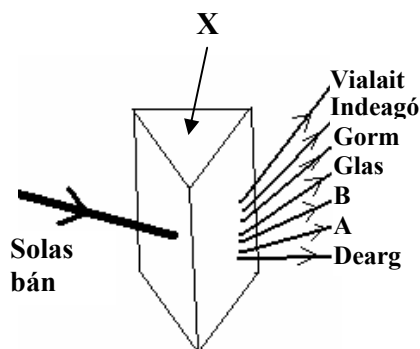
Cén **t-ainm** a thugtar ar an mbanda dathanna a dhéantar de bharr spré an tsolais bháin?

_____ (3)

Ainmnigh an pársa trealaimh **X**. _____ (3)

Ainmnigh an **dath A**. _____ (3)

Ainmnigh an **dath B**. _____ (3)



(c) I **léaráid A**, taispeántar **ga solais** a bhuaileann dromchla agus a athphreabann.

Cén **focal** a dhéanann cur síos ar athphreabhadh an gha solais?

_____ (3)

Úsáidtear an trealamh, a thaispeántar i **léaráid B**, i dturgnamh.

Cad a d'fheicfeadh an duine nuair a chuirfí na trí cárta i bhfearas

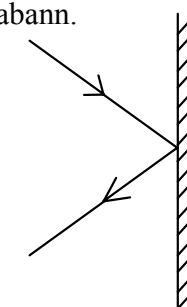
mar a thaispeántar? _____ (3)

Cad a d'fheicfeadh an duine dá mbogfaí an **cárta láir**

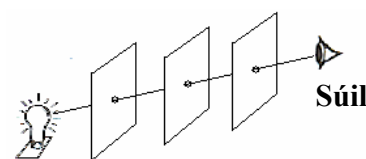
beagán? _____ (3)

Cén t-eolas a thugann an turgnamh seo dúinn faoi **sholas**?

_____ (3)



Léaráid A



Léaráid B

ROINN C – CEIMIC (72 MARC)
Tá **TRÍ** cheist sa Roinn seo. Freagair **DHÁ** cheist ar bith díobh.

Ceist 5

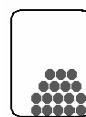
- (a) Luaigh cé acu **solad**, **leacht** nó **gás** gach ceann de na substaintí thíos ag teocht an tseomra agus ag brú atmaisféarach.

Héiliam _____ (3)

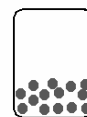
Sulfar _____ (3)

Alcól _____ (3)

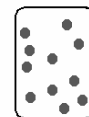
Mearcair _____ (3)



Solad



Leacht



Gás

- (b) Is **comhdhúil** é uisce ina bhfuil dhá dhúil.

Ainmnigh an dá dhúil atá in uisce.

1 _____ 2 _____ (6)

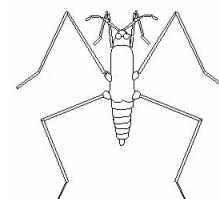
Cén **teocht** ag a bhfiuchann uisce?

_____ °C (3)

Sa léaráid taispeántar feithid bheag ar féidir léi siúl ar dhromchla uisce.

Cén **airí** d'uisce a ligeann don fheithid siúl ar a dhromchla?

_____ (3)



An scátlálaí linne

- (c) Tá **dhá** chineál cruas uisce ann, **neamhbhuan** agus **buan**.

Cé acu cineál cruais is féidir a bhaint as an uisce le **fiuchadh**? _____ (3)

Tabhair **buntáiste amháin** atá ag uisce cruas.

_____ (3)

Tabhair **míbhuntáiste amháin** atá ag uisce cruas. _____ (3)

Tástáladh dhá shampla 50 cm^3 d'uisce, **A** agus **B**, le tuaslagán gallúnaí chun a gcrúas a chur i gcomparáid le chéile. Tomhaiseadh toirt an **tuaslagáin ghallúnaí** a bhí ag teastáil chun sobal a dhéanamh agus breacadh é sa tábla thíos.

Sampla Uisce	Tuaslagán gallúnaí (cm^3)
A	4
B	16



Cé acu sampla uisce, **A** nó **B**, a bhfuil an cruas is mó ann? _____ (3)

Ceist 6

- (a) Tá na hadaimh go léir déanta de cháithníní bídeacha. Meaitseáil gach ceann, faoi seach, de na **cáithníní** ón liosta ar dheis le ráiteas cuí thíos. (Nóta: úsáidtear focal amháin díobh faoi dhó)

Suite **lasmuigh** den núicléas. _____ (3)

Suite sa núicléas ach **gan lucht** ar bith acu. _____ (3)

Suite sa núicléas ach **lucht** acu. _____ (3)

Cailltear nó gnóthaítear na cáithníní seo nuair a dhéantar **iaim** d'adaimh. _____ (3)

<p>PRÓTÓIN LEICTREOIN NEODRÓIN</p>

- (b) Úsáidtear **táscaire litmis** chun leacht a thástáil ag féachaint cé acu aigéad nó bun atá ann.

Cén dath a bhíonn ar litmeas in **aigéad**? _____ (3)

Cén dath a bhíonn ar litmeas i **mbun**? _____ (3)


Ainmnigh táscaire a d'fhéadfaí a úsáid chun an **pH** ag tuaslagán sa tsaotharlann a thomhas.

_____ (3)

Dá ndéanfaí an pH ag tuaslagán hidrocсаíid sóidiam a thomhas, an mbeadh sé **níos ísle ná 7**,

cothrom le 7 nó **níos airde ná 7**? _____ (3)

- (c) Déan cur síos, le cabhair léaráide lipéadaithe, ar thurgnamh saotharlainne chun **salann a dheighilt ó thuaslagán salainn agus uisce**. (12)



Ceist 7

- (a) Úsáidtear **triantán dóiteáin** chun na trí riachtanais (rudaí) atá ag teastáil ó dhóiteán chun go ndófaidh sé, a thaispeáint.

Ainmnigh an **dá** riachtanas (rudaí atá ag teastáil) a léirítear ag **A** agus **B**.

1 _____ 2 _____ (6)



Ainmnigh an cineál múchtóir dóiteáin is féidir a úsáid chun dóiteáin **leictreacha**

a mhúchadh. _____ (3)

Tabhair **réamhchúram sábháilteachta** amháin is féidir a thógáil sa bhaile chun baol dóiteáin a sheachaint. _____ (3)

- (b) Tá pH níos lú ná 5 ag **báisteach aigéadach**.

Déantar báisteach aigéadach de na **gáis** a scaoiltear le linn breoslaí iontaise a bheith á ndó. Ainmnigh gás **amháin** díobh seo.

_____ (3)

Ainmnigh **breosla iontaise** a dtagann báisteach aigéadach uaidh nuair a dhóitear é.

_____ (3)

Tagann truailliú ón mbáisteach aigéadach. Tabhair **dhá** shampla den damáiste a dhéanann báisteach aigéadach don timpeallacht.

1 _____ 2 _____ (6)

- (c) Sa léaráid taispeántar promhadán atá líonta le hoighear agus a fhágtar ina sheasamh ar bhinse sa tsaotharlann ar feadh 30 nóiméad. Comhdhlúthaíonn **uisce** ar an taobh amuigh den phromhadán.

Ainmnigh substaint a d'fhéadfá a úsáid chun a thaispeáint gur uisce atá sa leacht a dhéantar.

_____ (3)

Luaigh **an t-athrú datha** a bhreathnaítear nuair a dhéantar an t-uisce a thástáil.

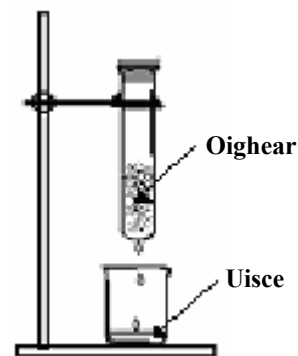
_____ (3)

Cén **t-eolas** a thugann an turgnamh seo dúinn faoi aer?

_____ (3)

Faightear gás **ocsaigine** san aer. Tabhair **úsáid** amháin a bhaintear as gás ocsaigine.

_____ (3)



ROINN D – BITHEOLAÍOCHT (72 MARC)

Tá TRÍ cheist sa Roinn seo. Freagair DHÁ cheist ar bith díobh.

Ceist 8

(a) I léaráid A, taispeántar an **struchtúr** atá ag fiacail.

Ainmnigh cuid X. _____ (3)

Ainmnigh an **mianra** atá riachtanach d’fhiacla sláintiúla.

_____ (3)

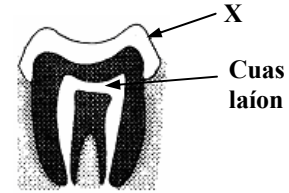
I léaráid B taispeántar cíor **fhiacla** an duine.

Ainmnigh an cineál fiacla a bhfuil an lipéad Y air.

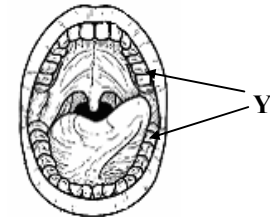
_____ (3)

Tabhair **feidhm** amháin atá ag na fiacla Y.

_____ (3)



Léaráid A



Léaráid B

(b) Sa léaráid taispeántar **córas díleá** an duine.

Ainmnigh cuid A _____ (3)

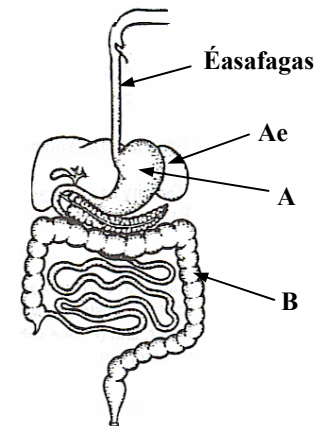
Ainmnigh cuid B _____ (3)

Cén **fheidhm** atá ag A?

_____ (3)

Ainmnigh cineál amháin **ceimiceáin** a bhriseann bia síos sa chóras díleá.

_____ (3)



(c) Sa léaráid taispeántar **córas anáilaithe** an duine.

Ainmnigh cuid A _____ (3)

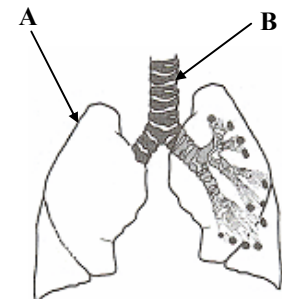
Ainmnigh cuid B _____ (3)

Cé acu cuid den chreatlach a thugann **cosaint** don chóras anáilaithe?

_____ (3)

Cad é feidhm **na bhfáinní loingeáin**?

_____ (3)



Ceist 9

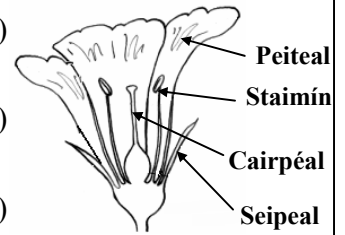
(a) Sa léaráid taispeántar bláth, an chuid atáirgthe den phlanda.

Tugann an _____ **cosaint** don bhláth sula n-osclaíonn sé. (3)

Táirgtear na **ubháin** sa _____ . (3)

Scaoileann an _____ **pailin**. (3)

An chuid den bhláth a **mheallann** feithidí ná _____ . (3)



(b) Is é atá san **fhótrópacht** ná freagairt fáis ag plandaí. Cuireadh an planda sa phróca bláthanna ar dheis in aice le fuinneog agus d'fhás sé i dtreo na fuinneoige mar a thaispeántar.

Cén fáth ar fhás an planda **i dtreo** na fuinneoige?

_____ (3)

Conas a chabhraíonn an **fhreagairt fáis** seo le plandaí?

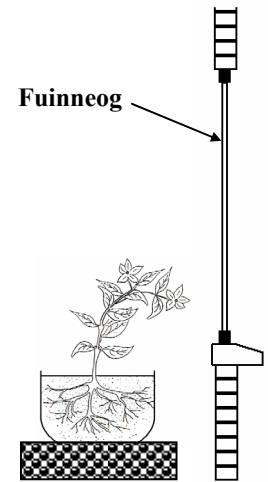
_____ (3)

Cé acu **cuid** den phlanda a dhéanann an fhreagairt fáis?

_____ (3)


Déantar siológ nuair a **phéacann** síol. Ainmnigh **coinníoll** (rud)

amháin atá riachtanach chun go bpéacfadh síol ar bith. _____ (3)



(c) Déan cur síos, le cabhair léaráide lipéadaithe, ar thurgnamh chun **sreabhadh an uisce aníos trí phlanda** a thaispeáint. (12)

Léaráid lipéadaithe



Ceist 10

- (a) Faightear **fuil** sa **chóras imshruthaithe**. I ngach cás, dean an **téarma cuí** ón liosta ar dheis a mheaitseáil le gach ceann, faoi seach, díobh seo a leanas.

Feidhm na fola sa chorp _____ (3)

Pumpálann sé fuil timpeall an choirp _____ (3)

Cuid **leachtach** na fola _____ (3)

Sreabhann fuil timpeall an choirp iontu seo _____ (3)

CROÍ
FUILEADÁIN
ÁBHAIR A IOMPAR
PLASMA

- (b) Is cuid den chóras imshruthaithe é an **croí**. Go minic tógtar **cuisle** duine chun **buille an chroí** a thomhas.

Ainmnigh **áit** mhaith sa chorp chun cuisle a fháil. _____ (3)

Ainmnigh toisc amháin a chuireann **méadú** ar bhuille an chroí.

_____ (3)

Conas a chabhraíonn an **aclaíocht** le galar croí a chosc?

_____ (3)

Tabhair sampla **amháin**, seachas aclaíocht, de shlí a bhféadann duine cabhrú leis/léi féin chun a croí/chroí a choimeád **sláintiúil**.

_____ (3)

- (c) Sa léaráid taispeántar an **córas atáirgthe baineann**.

Ainmnigh cuid **A** _____ (3)

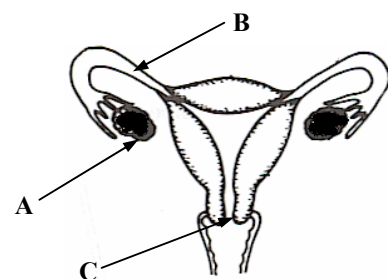
Ainmnigh cuid **B** _____ (3)

Tabhair **feidhm** amháin atá ag cuid **A**.

_____ (3)

Cé acu cuid, **A**, **B**, nó **C**, a dtarlaíonn toirchiú ann de ghnáth?

_____ (3)



ROINN E – EOLAÍOCHT FHEIDHMEACH (72 MARC)
Tá SÉ cheist sa Roinn seo. Freagair DHÁ cheist ar bith díobh.

Ceist 11 - Domhaneolaíocht

- (a) Roghnaigh an **uimhir** chuí ón liosta ar dheis chun gach ceann, faoi seach, de na habairtí thíos a chomhlánú.

Casann an Domhan ar a ais féin uair amháin gach _____ uaire. (3)

Is é an t-am a thógann sé ar an **ngealach** gluaiseacht mórthimpeall an **Domhain** ná _____ lá. (3)

Is é líon na laethanta i **mbliain bhisigh** ná _____ lá. (3)

Is é an t-am a thógann sé ar an **Domhan** gluaiseacht mórthimpeall na **Gréine** ná _____ lá. (3)

24
365¼
28
366

- (b) Úsáidtear gléasanna éagsúla i stáisiúin **taifeadta aimsire**.

Ainmnigh an gléas a thaispeántar sa léaráid. _____ (3)




Tabhair **úsáid amháin** a bhaintear as an ngléas seo. _____ (3)

Ainmnigh gléas a úsáidtear chun **báisteach** a thomhas. _____ (3)

Is gléas é **baraiméadar** a úsáidtear chun _____ a thomhas. (3)

- (c) Déan cur síos, le cabhair léaráide lipéadaithe, ar thurgnamh chun **tionchar na teochta ar ráta galaithe an uisce** a thaispeáint. (12)

Léaráid lipéadaithe



Ceist 12 - Gairneoireacht

(a) Sa ghairneoireacht, úsáidtear **ithir** go coitianta agus **plandaí** á bhfás.

Ainmnigh **dhá** rud a sholáthraíonn an ithir do phlanda.

1 _____ 2 _____ (6)

Tabhair **dhá** bhuntáiste de **phéisteanna talún** a bheith in ithir.

1 _____ 2 _____ (6)

(b) Is féidir plandaí a **iomadú** ach **gearrthóga** a thógáil.

Ainmnigh planda **adhmaidh** amháin ar féidir gearrthóga a thógáil uaidh.

_____ (3)

Ainmnigh planda **neamhadhmaidh** amháin ar féidir gearrthóga a thógáil uaidh.

_____ (3)

Ainmnigh gníomh amháin a chabhraíonn le **feabhas** a chur ar **fhoirmiú**

fréamhacha na ngearrthóg. _____ (3)

Tabhair toisc amháin atá tábhachtach **i bhfás** na ngearrthóg chun go rachaidís ar aghaidh chun plandaí nua a dhéanamh.

_____ (3)

(c) Déan cur síos, le cabhair léaráide lipéadaithe, ar thurgnamh chun a thaispeáint **conas a thomhaisfeá cé mhéad uisce atá in ithir nó i múirín.**

(12)

Léaráid lipéadaithe

A - PLAISTIGH

- (i) Tabhair úsáid **amháin** a bhaintear as **polaitéin** sa bhaile. _____ (3)
- (ii) **Déantar** an chuid is mó de na plaistigh as _____. (3)
- (iii) Déan cur síos, le cabhair léaráide lipéadaithe, ar thurgnamh chun **na hairíonna inslíocháin teasa ag dhá phlaisteach a chur i gcomparáid le chéile.** (12)

Léaráid lipéadaithe

B - TEICSTÍLÍ

- (i) Roghnaigh an **téarma** ceart ón liosta ar dheis chun gach ceann, faoi seach, de na habairtí thíos a chomhlánú.
- Déantar snáth** as snáithíní le _____. (3)
- Is féidir **fabraicí a dhéanamh** as snáth le _____. (3)
- (ii) Déan cur síos, le cabhair léaráide lipéadaithe, ar thurgnamh chun **ionsúiteacht dhá theicstíl a chur i gcomparáid le chéile.** (12)


Léaráid lipéadaithe

FÍODÓIREACHT
SNÍOMH

C - MIOTAIL

- (i) Ainmnigh miotal **amháin a ndéantar mianadóireacht air in Éirinn.** _____ (3)
- (ii) Ainmnigh miotal **amháin a fhaightear mar mhianach.** _____ (3)
- (iii) Déan cur síos, le cabhair léaráide lipéadaithe, ar thurgnamh chun **cruas dhá mhiotal a chur i gcomparáid le chéile.** (12)


Léaráid lipéadaithe



D - ADHMAD

- (i) Ainmnigh crann **crua-adhmaid** a fhástar in Éirinn. _____ (3)
- (ii) Tabhair **úsáid** amháin a bhaintear as an gcrua-adhmad atá ainmnithe agat. _____ (3)
- (iii) Déan cur síos, le cabhair léaráide lipéadaithe, ar thurgnamh chun **frithlúbthacht dhá adhmad dhifriúla a chur i gcomparáid le chéile.** (12)

Léaráid lipéadaithe



Ceist 14 - Bia

(a) Déan an **bia** cuí ón liosta ar dheis a mheaitseáil le gach ceann, faoi seach, de na modhanna úrchaomhnaithe thíos.

Díhiodráitiú _____ (3)

Paistéaradh _____ (3)

Sailleadh _____ (3)

Deatú _____ (3)

FEOIL

BAINNE

CAIFE

IASC

(b) Tá **aiste bia chothromaithe** tábhachtach maidir le nós maireachtála sláintiúil.

Cén fáth a bhfuil **vitimíní agus mianraí** tábhachtach mar chuid d'aiste bia chothromaithe?

_____ (3)

Cén fáth a bhfuil **snáithín** tábhachtach in aiste bia chothromaithe?

_____ (3)

Le linn tástála le haghaidh láithreach cineál áirithe bia, cruthaítear **geirspota tréshoilseach**.

Ainmnigh an cineál bia seo. _____ (3)

Ainmnigh an **ceimiceán** a úsáidtear chun tástáil le haghaidh **siúcra dí-ocsaídiúcháin**

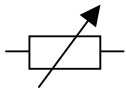
(e.g. glúcós) i sampla bia. _____ (3)

(c) Déan cur síos, le cabhair léaráide lipéadaithe, ar thurgnamh saotharlainne chun **im a dhéanamh**. (12)

Léaráid lipéadaithe

Ceist 15 - Leictreonaic

- (a) Déan an **comhbhall leictreach** cuí ón liosta ar dheis a mheaitseáil le gach ceann, faoi seach, de na siombailí seo a leanas.



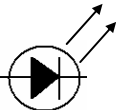
(3)



(3)



(3)



(3)

FRIOTÓIR ATHRAITHEACH

DSA (LED i mBéarla)

AIMPMHÉADAR

DÉ-ÓID

- (b) Sa léaráid taispeántar **FSS (LDR i mBéarla)**.

Is é atá in FSS ná Friotóir Solas-_____.

(3)

Méadaíonn friotaíocht an FSS i solas

_____.

(3)

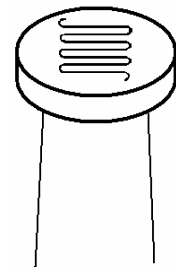
Laghdaíonn friotaíocht an FSS i solas

_____.

(3)

Tabhair **gnáthúsáid laethúil** amháin a bhaintear as FSS.

(3)



- (c) Tarraing léaráid chiorcaid chun a thaispeáint **conas is féidir gile bolgáin a smachtú le friotóir athraitheach.**

(12)

Léaráid chiorcaid

Ceist 16 - Tiontuíthe Fuinnimh

- (a) I ngach cás, déan **athrú fuinnimh** cuí ón liosta sa bhosca a mheaitseáil lena bhfuil ag tarlú i gach ceann, faoi seach, díobh seo a leanas thíos.

LEICTREACH GO TEAS
CINÉITEACH GO FUAIM
CEIMICEACH GO TEAS
CEIMICEACH GO SOLAS

Coinneal **ag dó** _____ (3)

Sreang ghiotáir á **piocadh** _____ (3)

Solas tóirse **ceallra ag lonrú** _____ (3)

Citeal **leictreach ag fiuchadh uisce** _____ (3)

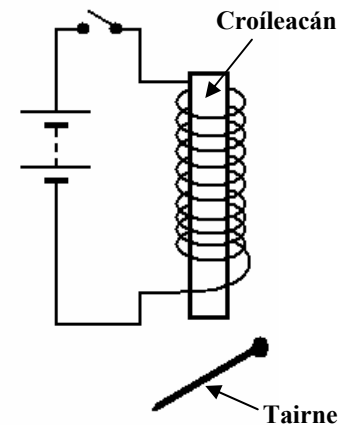
- (b) Sa léaráid taispeántar na codanna de **leictreamaighnéad** simplí.

Cén **miotail** a úsáidtear chun an croileacán a dhéanamh?
_____ (3)

Cad a tharlaíonn don **tairne** nuair a dhúntar an lasc?
_____ (3)

Luaigh **athrú fuinnimh** amháin a tharlaíonn sa chiorcad nuair a dhúntar an lasc.
_____ (3)

Tabhair gnáthúsáid laethúil **amháin** a bhaintear as leictreamaighnéad. _____ (3)



- (c) Déan cur síos, le cabhair léaráide lipéadaithe, ar thurgnamh saotharlainne chun **a thaispeáint gur féidir fuinneamh a scaoileadh ó bhia** e.g. píseanna talún. (12)

Léaráid lipéadaithe

