



EOLAÍOCHT - GNÁTHLEIBHÉAL

[N.B. Ní d'Iarrthóirí Eolaíocht – Staidéar Áitiúil é seo]

DÉARDAOIN, 12 MEITHEAMH – IARNÓIN, 2.00 - 4.30

TREORACHA

1. Scríobh do **scrúduimhir** sa bhosca atá curtha ar fáil ar an leathanach seo.
2. Freagair **ROINN A**.
3. Freagair **AON TRÍ ROINN** as **RANNA B, C, D, E**.
4. Freagair **gach ceist** sna spásanna atá curtha ar fáil. Má tá spás breise ag teastáil uait, tá leathanaigh curtha ar fáil ar chúl an leabhráin seo.

Uimhir an Ionaid

Scrúduimhir

Don scrúdaitheoir amháin

1. Suim na n-iomlán ag bun na leathanach	
2. Suim chomhlán aon cheist(eanna) nár ceadaíodh	
3. Marcanna iomlána tugtha (1 lúide 2)	
4. Bónas don fhreagairt trí Ghaeilge (más cuí)	
5. Iomlán na marcanna tugtha má tá bónas don Ghaeilge (3 móide 4)	

Don scrúdaitheoir amháin

CEIST MARC

Roinn A	C.1	
Roinn B	C.2	
	C.3	
	C.4	
Roinn C	C.5	
	C.6	
	C.7	
Roinn D	C.8	
	C.9	
	C.10	
Roinn E	C.11	
	C.12	
	C.13	
	C.14	
	C.15	
	C.16	

FO-IOMLÁN

BÓNAS	
--------------	--

IOMLÁN

--	--

GRÁD

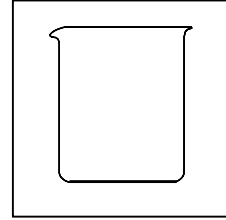
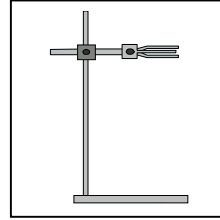
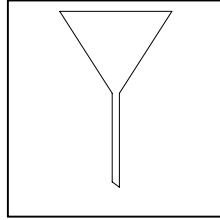
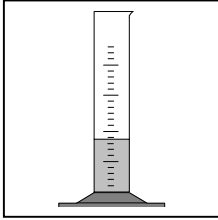
--	--

ROINN A – CROÍLÁR (144 MARC)

Freagair aon 12 cuid ar bith (a), (b), (c), etc. ón Roinn seo.

Ceist 1

(a) Ainmnigh na gairis seo a leanas.



AINM _____

(b) Is féidir le foinsí fuinnimh bheith **inathnuaite** nó **neamhathnuaite**.

Luaigh **dhá** shampla d'fhoinsí **inathnuaite** fuinnimh.

1 _____ 2 _____

Luaigh **dhá** shampla d'fhoinsí **neamhathnuaite** fuinnimh.

1 _____ 2 _____

(c) Cad a **thomhaistear** i ngach ceann de na haonaid seo a leanas?


Cilogram (kg) _____

Ceintiméadar ciúbaithe (cm³) _____

Cileavatuair (kW h) _____

Méadar cearnaithe (m²) _____

(d) Roghnaigh **focal** as an liosta ar dheis chun gach ceann de na **siombailí** thíos a mheaitseáil.



GREANNACH
TOCSAINEACH
INLASTA
RADAIGHNÍOMHACH

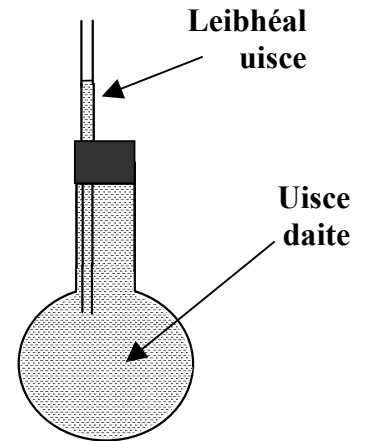
(e) Déantar an fleascán sa léaráid a **théamh go réidh**.

Cad a tharlaíonn do **leibhéal an uisce** san fheadán?

Cén fáth a dtarlaíonn sé seo?

Cad a tharlaíonn do **leibhéal an uisce** san fheadán nuair a **ligtear don fhleascán fuaradh**?

Ainmnigh **ionstraim** a oibríonn ar an bprionsabal seo.



(f) As an liosta ar dheis roghnaigh **substaint**

a úsáidtear chun **pH aigéid a thomhas** _____

ar **miotál alcaile** é _____

ar dúil a fhaightear i **mbreoslaí** é _____

ar gás a fhaightear in **aer** é _____

CARBÓN
TÁSCAIRE UILÍOCH
NÍTRIGIN
SÓIDIAM

(g) Taispeánann an léaráid cuid de thurgnamh chun a fháil amach **cad is cúis le meirgiú iarainn**.

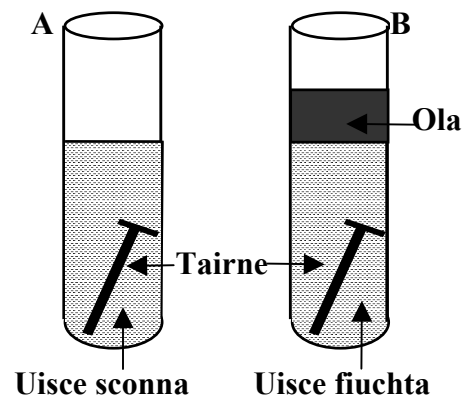
Cé acu ceann de na triaileadáin ina dtiocfaidh meirg ar an tairne?

Cén fáth ar **fhiuchadh** an t-uisce i dtríaileadán **B**?

Luaigh **dhá** shlí ina gcuirtear cosc le meirgiú iarainn.

1 _____

2 _____



(h) Luaigh cé acu **athrú fisiceach** nó **athrú ceimiceach** gach ceann díobh seo a leanas.

LEÁ OIGHIR
CÓCAIREACHT BIA

DÓ ADHMAID
TUASLAGADH SIÚCRA I DTAE

ATHRÚ FISICEACH	ATHRÚ CEIMICEACH

(i) Nuair a mheasctar **mionrabh iarainn agus sulfar** le chéile déantar **meascán**.

Is féidir _____ a úsáid chun an mionrabh iarainn a **dheighilt** ón sulfar.

Is féidir an **chomhdhúil** suilfit iarainn a dhéanamh de mheascán de mhionrabh

iarainn agus sulfar trí _____.

Sampla **amháin** eile de **mheascán** is ea _____.

Sampla **amháin** eile de **chomhdhúil** is ea _____.

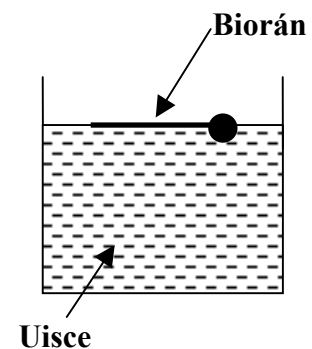
(j) **Fiuchann** uisce ag _____ °C.

Reonn uisce ag _____ °C.

Ní théann an bioran sa léaráid faoi uisce

de bharr _____ **dromchla**.

Conas a chabhraíonn sé seo le **feithidí uisce**?



(k) Is féidir le miocrorgánaigh cosúil le **fungais, baictéir** agus **víris** bheith idir **úsáideach** agus **díobhálach**.

Luaigh slí **amháin** ina mbíonn **fungais úsáideach** do dhaoine. _____

Luaigh slí **amháin** ina mbíonn **fungais díobhálach** do dhaoine. _____

Tabhair úsáid **amháin** atá ag **baictéir**. _____

Ainmnigh **galar** ar **víreas** is cúis leis. _____

(l) Is foinse mhaith idir **snáithín** agus **stáirse** é caiscín donn.

Is é **feidhm snáithín** san aiste bia ná chun _____ a sheachaint.

Bia eile ar foinse mhaith snáithín é ná _____.

Is é **feidhm stáirse** san aiste bia ná _____.

Is é an **ceimiceán** a d'úsáidfeá chun tástáil stáirse a dhéanamh ná _____.

(m) Substantí a dhéanann dochar don timpeallacht is cúis le **truailliú**.

Ainmnigh substaint **amháin** is cúis le **truailliú uisce**. _____

Luaigh slí **amháin** inar féidir le daoine truailliú uisce a **laghdú**.

Ainmnigh substaint **amháin** is cúis le **truailliú aeir**. _____

Ainmnigh slí **amháin** inar féidir le daoine truailliú aeir a **laghdú**.

(n) Sa chorp fireann táirgtear **speirm** sa _____.

Sa chorp baineann táirgtear **ubh** sa _____.

Is é a thugtar ar an **gcónascadh** idir an **speirm** agus an **t-ubh** ná _____.

Scaoiltear an t-ubh timpeall ar an _____ **lá** de thimthriall míosta na mná.

(o) Roghnaigh **orgán** nó **páirt den chorp daonna** as an liosta ar dheis a

phumpálann fuil mórthimpeall an choirp _____

a sheolann **ocsaigin** isteach sa chorp _____

a dhéanann **fual** _____

a iompraíonn **teachtaireachtaí** chuig an intinn _____

CÓRAS ANÁLAITHE

DÚÁN

CROÍ

NÉARÓGA

ROINN B – FISIC (72 MARC)

Tá TRÍ cheist sa Roinn seo. Freagair DHÁ CHEANN ar bith de na ceisteanna seo.

Ceist 2

(a) Roghnaigh **gaireas** as an liosta ar dheis a úsáidtear nuair a bhítear ag tomhas

trastomhas píopa _____ (3)

fad cuarlíne _____ (3)

toirt cloiche _____ (3)

mais solaid _____ (3)

MEÁTÁN
CAILPÉAR
OPASAIMÉADAR
CANNA FORSCEITE

(b) Iarrtar ar dalta luas rothair **a thomhas**.

Cén **t-aonad** inar tomhaiseadh an **fad**? _____ (3)

Cén **t-aonad** inar tomhaiseadh an **t-am**? _____ (3)

Luas = fad _____ faoi am. (3)

Cad é **aonad luais**? _____ (3)

(c) Déan cur síos, le cabhair léaráide lipéadaithe, ar thurgnamh **a thaispeánann go laghdaíonn ola frithchuimilt**. (12)

Léaráid lipéadaithe

A large rectangular area defined by a dotted line, intended for drawing a diagram. A label 'Léaráid lipéadaithe' is placed at the top left of this area, with a dotted line connecting it to the top-left corner of the box.

Ceist 3

(a) Roghnaigh an **téarma** cuí as an liosta ar dheis le **haghaidh** gach ceann díobh seo thíos.

Gluaiseann teas trí **leachtanna** trí _____ . (3)

Is é is **teas** ann ná foirm _____ . (3)

Is maith an t- _____ é **olann**. (3)

Téann **tine leictreach** seomra trí _____ . (3)

- FUINNEAMH**
- INSLITHEOIR**
- RADAÍOCHT**
- COMHIOMPAR**

(b) Taispeánann an léaráid **athruithe staide uisce**. Cad dóibh a seasann na litreacha **A, B, C** agus **D**?




A _____ (3)

B _____ (3)

C _____ (3)

D _____ (3)

(c) Tugtar ceithre shlat duit atá déanta as miotail éagsúla. Déan cur síos, le cabhair léaráide lipéadaithe, ar thurgnamh a **thaispeánann cé acu ceann de na miotail is fearr mar sheoltóir teasa**. (12)



Ceist 4

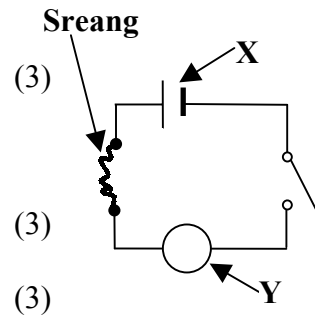
(a) Réitíodh an ciorcad a thaispeántar chun **iarmhairt teasa srutha leictirigh** a léiriú. Nuair a bhíonn an lasc dúnta sreabhann sruth.

Ainmnigh an fheiste lipéadaithe **X**. _____ (3)

Ainmnigh feiste arbh fhéidir í a cheangal ag **Y** a thaispeánann go bhfuil sruth ag sreabhadh. _____ (3)

Cad a tharlaíonn don tsreang nuair a **shreabhann sruth**? _____ (3)

Ainmnigh **fearas tí** a úsáideann an iarmhairt seo. _____ (3)



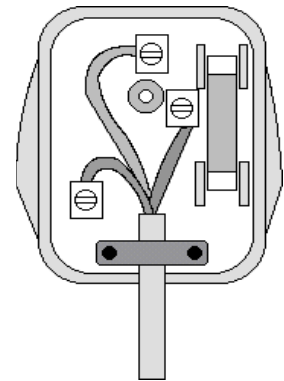
(b) Taispeánann an léaráid an taobh istigh de **phlocóid thríbhioránach**.

Is é an dath atá ar an tsreang **neodrach** ná _____ (3)

Is é an dath atá ar shreang na **talún** ná _____ (3)

Tá an **fiús** ceangailte leis an tsreang _____ (3)

Is é **feidhm** an fhiúis ná chun _____ a chosc. (3)



(c) Déan cur síos, le cabhair léaráide lipéadaithe, ar thurgnamh a thaispeánann go ngluaiseann solas i línte díreacha. (12)

Léaráid lipéadaithe

ROINN C – CEIMIC (72 MARC)

Tá TRÍ chest sa Roinn seo. Freagair DHÁ cheann ar bith de na ceisteanna seo.

Ceist 5

(a) Taispeánann an léaráid adamh **litiam**.

Cad é **siombail** cheimiceach litiam? _____ (3)

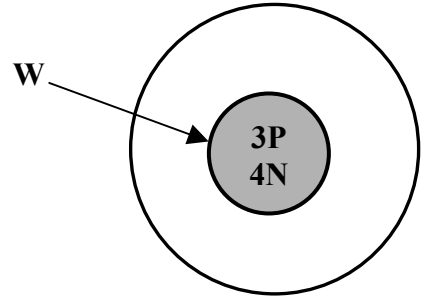
Ainmnigh an pháirt den adamh a bhfuil **W** mar lipéad air. _____ (3)

Cá háit san adamh a bhfaighfeá **leictreon**?

_____ (3)

Cén saghas **luchta** atá ag **prótón**?

_____ (3)



(b) Roghnaigh **téarma** as an liosta ar dheis chun na habairtí thíos a chomhlánú.

Is _____ maith é **uisce**. (3)

_____ **salann** in uisce. (3)

Is tuaslagán _____ é **fíorshú oráiste**. (3)

Is tuaslagán _____ é **uisce agus sú oráiste**. (3)

CAOL

TIUBHAITHE

TUASLAGÓIR

TUASLAGANN

(c) Déan cur síos, le cabhair léaráide lipéadaithe, ar thurgnamh **chun salann agus uisce a dheighilt**. (12)

Léaráid lipéadaithe

Ceist 6

(a) Roghnaigh **substant** as an liosta ar dheis chun na habairtí thíos a chomhlánú.

Cuireann _____ cló bainniúil ar **aoluisce**. (3)

Athlasann _____ **cleithín beodhearg**. (3)

Cuireann _____ dath gorm ar pháipéar **litmis** dearg. (3)

Cuireann _____ dath bándearg ar pháipéar **chlóiríd chóbailt** gorm. (3)

- UISCE**
- FINÉAGAR**
- OCSAIGIN**
- DÉ-OCSAÍD**
- CHARBÓIN**

(b) Is é is **uisce crua** ann ná uisce nach ndéanfaidh sobal go héasca le gallúnach. Tá **dhá** shaghas de chruas uisce ann.

Ainmnigh saghas **amháin de chruas uisce**. (3)

Luaigh **buntáiste** amháin le huisce crua. (3)

Luaigh **míbhuntáiste** amháin le huisce crua. (3)

Conas a **bhainfeá** an cruas as **uisce crua**? (3)

(c) Cuirtear **dé-ocsaíd charbóin** isteach i geróca ina bhfuil coinneall lasta mar atá léirithe sa léaráid.

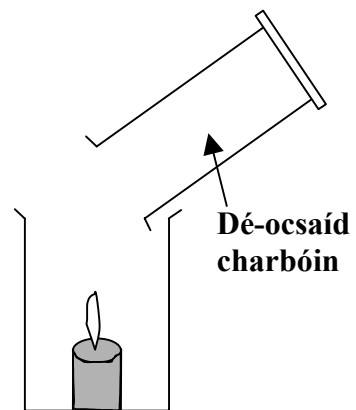
Cad a tharlóidh don choinneall? (3)

An bhfuil dlús **níos mó** nó **níos lú** ag dé-ocsaíd charbóin ná mar atá ag aer? (3)

Luaigh dhá úsáid le dé-ocsaíd charbóin. (6)

1 _____

2 _____



Ceist 7

- (a) Déan **miotail** as an liosta ar dheis a mheaitseáil leis an **úsáid** a bhaintear as a thugtar thíos.

Úsáidtear é i sreanganna **leictreacha** _____ (3)

Úsáidtear é i **dteirmiméadair** _____ (3)

Úsáidtear é i **gcannaí óil** _____ (3)

Úsáidtear é chun **seoda** a dhéanamh _____ (3)

- AIRGEAD
MEARCAR
COPAR
ALÚMANAM

- (b) Roghnaigh **dhá mhiotal** ón liosta dúl ar dheis.

1 _____ (3)

2 _____ (3)

- CLÓIRÍN
POTAISIAM
MAIGNÉISIAM
NEON

Úsáidtear miotail go minic chun **cóimhiotail** a dhéanamh.

Ainmnigh cóimhiotal **amháin**. _____ (3)

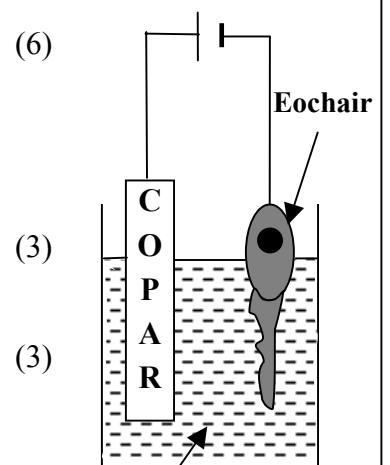
Luaigh úsáid amháin atá ag an **gcóimhiotal** atá ainmnithe agat. _____ (3)

- (c) Taispeánann an léaráid turgnamh ar féidir é a chur i gcrích sa tsaotharlann **chun leictreaphlátáil a thaispeáint**.

Cad is brí le **leictreaphlátáil**?

Cad a tharlaíonn don **chopar**?

Ainmnigh uirlis **amháin** cistine atá leictreaphlátáilte.



Tuaslagán de shulfait chopair

ROINN D – BITHEOLAÍOCHT (72 MARC)

Tá TRÍ cheist sa Roinn seo. Freagair DHÁ CHEANN ar bith de na ceisteanna seo.

Ceist 8

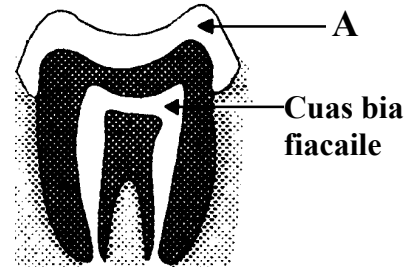
(a) Taispeánann an léaráid **struchtúr** fiacaile.

Ainmnigh cuid **A**. _____ (3)

Ainmnigh an **mianra** atá riachtanach do do chuid fiacla. (3)

Cad is **plaic** ann? (3)

Cad a d'úsáidfeá chun go **bhfeicfí** an phlaic ar do chuid fiacla? (3)



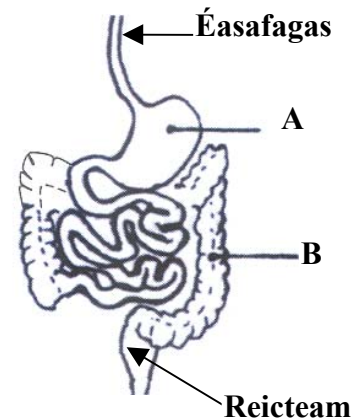
(b) Taispeánann an léaráid cuid de **chóras díleá an duine**.

Ainmnigh an t-orgán **A**. _____ (3)

Ainmnigh an t-orgán **B**. _____ (3)

Cad é **feidhm A**? (3)

Cén **leacht** a athshúitear in **B**? (3)



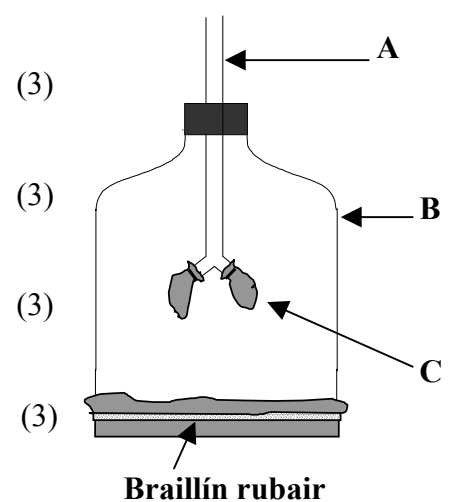
(c) Taispeánann an léaráid samhail den **chóras anáilaithe**.

Cén **pháirt** den chorp a seasann **A** dó? (3)

Cén **pháirt** den chorp a seasann **B** dó? (3)

Cén **pháirt** den chorp a seasann **C** dó? (3)

Cad a tharlaíonn nuair a tharraingítear an **braillín rubair** anuas? (3)



(a) Roghnaigh **focal** ón liosta ar dheis chun an tábla thíos a **chomhlánú**.

(12)

BEO	NEAMHBHEO

CLOCH

FROG

NÓINÍN

GAOTH

(b) Is é an **bláth** an pháirt atáirgeach den phlanda.

Cosnaíonn _____ an bláth sula n-osclaíonn sé. (3)

Táirgtear _____ sa **chairpéal**. (3)

Is é _____ an pháirt den bhláth a **mheallann feithidí**. (3)

Scaoileann an **staimín** _____ . (3)

(c) Taispeánann an léaráid gaireas a **úsáideadh chun ainmhithe a bhailiú**.

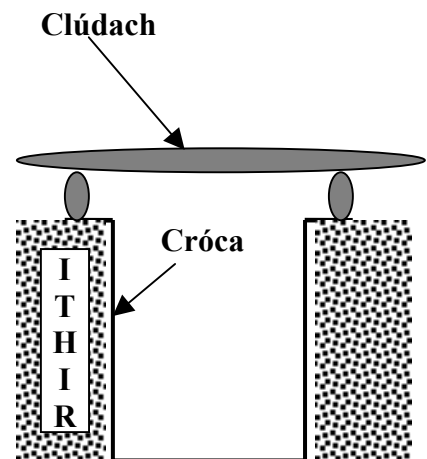
Ainmnigh an gaireas. _____ (3)

Cén fáth a bhfuil an cróca clúdaithe le **clúdach**? (3)

Ainmnigh **dhá** ainmhí go mb'fhéidir go bhfaighfeá sa chróca iad. (6)

1 _____

2 _____



Ceist 10

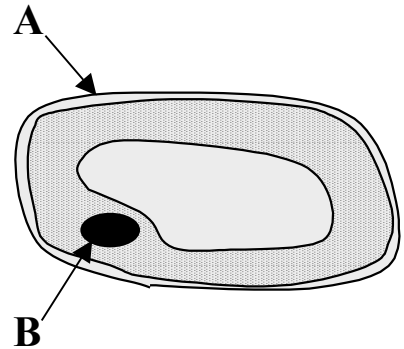
(a) Taispeánann an léaráid cill **oinniúin**.

Ainmnigh an **ionstraim** a úsáidtear sa tsaotharlann chun cill oinniúin a scrúdú. (3)

Ainmnigh an pháirt a bhfuil an lipéad **A** air. (3)

Ainmnigh an pháirt a bhfuil an lipéad **B** air. (3)

Ainmnigh páirt **amháin** eile de chill an oinniúin. (3)



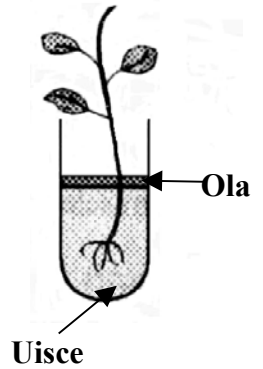
(b) Taispeánann an léaráid turgnamh a úsáidtear chun iniúchadh a dhéanamh ar **iompar uisce i bplandaí**.

Cad a tharlaíonn do **leibhéal** an uisce san fheadán tar éis cúpla lá? (3)

Cén fáth a gcuirtear **ola** ar an uisce? (3)

Cén **pháirt** den phlanda a thógann isteach uisce? (3)

Cén fheidhm atá ag **duilleog** an phlanda? (3)



(c) Déan cur síos, le cabhair léaráide lipéadaithe, ar thurgnamh chun **méid an aeir in ithir a thomhas**. (12)

Léaráid lipéadaithe

ROINN E – EOLAÍOCHT FHEIDHMEACH (72 MARC)

Tá SÉ cheist sa Roinn seo. Freagair DHÁ CHEANN ar bith de na ceistanna seo.

Ceist 11 - Domhaneolaíocht

- (a) Roghnaigh **focal** ón liosta ar dheis chun na habairtí thíos a chomhlánú.

Tá thart ar 100 000 _____ ar Bhealach na Bó Finne,
an **réaltra** againne. (3)

Is é a thugtar ar rinn agus é i **bhfithis** mórthimpeall ar phlainéad ná
_____. (3)

Táirgeann an Ghrian mórchuid **d'fhuinneamh** _____. (3)

Is é an **t-am** a thógann an Domhan chun an Ghrian
a fhithisiú ná _____. (3)

SOLAIS

RÉALTA

BLIAIN

SATAILÍT

- (b) Taispeánann an léaráid ionstraim a úsáidtear i dtaifeadadh **cúrsaí aimsire**.

Ainmnigh an ionstraim a thaispeántar. _____ (3)

Cad a **thomhaiseann** an ionstraim seo? _____ (3)

Cad é an ionstraim a úsáidtear chun **fliuchras** a thomhas? _____ (3)

Cad a thomhaiseann **ainéimiméadar**? _____ (3)



- (c) Déan cur síos, le cabhair léaráide lipéadaithe, ar thurgnamh a thaispeánann **éifeacht na gaoithe ar ráta galaithe uisce**. (12)

Léaráid lipéadaithe

Diagram area for labeling the experiment. A box labeled "Léaráid lipéadaithe" is connected by a dotted line to a large rectangular area with a dotted border, intended for drawing and labeling the experimental setup.

Ceist 12 - Gairneoireacht

(a) Cad is **péacadh** ann? (3)

Ainmnigh **dhá** choinníoll atá riachtanach do shíolta chun go bpéacfaidís. (6)

1 _____ 2 _____

Cén fáth a bhfuil **solas** riachtanach do phlandaí chun go bhfásfaidís? (3)


(b) Cad is **hidreaponaic** ann? (6)

Luaigh buntáiste **amháin** a bhaineann le múirín a úsáid chun plandaí a fhás. (3)

Cad a tharlaíonn do phlanda muna bhfaigheann sé dóthain **uisce**? (3)

(c) Déan cur síos, le cabhair léaráide lipéadaithe, ar **shaolré gnáthlotnaide gairdín**. (12)


Léaráid lipéadaithe



A - PLAISTIGH

- (i) Luaigh úsáid **amháin** le plaistigh sa teach. _____ (3)
- (ii) Cad as a ndéantar formhór na bplaisteach? _____ (3)
- (iii) Déan cur síos, le cabhair léaráide lipéadaithe, ar thurgnamh **chun solúbthacht dhá phlaisteach a chur i gcomparáid lena chéile.** (12)


Léaráid lipéadaithe



B - TEICSTÍLÍ

- (i) Cad is brí le fabraic a **lasairdhíonadh**? _____ (6)
- _____
- (ii) Déan cur síos, le cabhair léaráide lipéadaithe, ar thurgnamh **chun ionsúiteacht dhá theicstíl a chur i gcomparáid lena chéile.** (12)


Léaráid lipéadaithe



C - MIOTAIL

- (i) Ainmnigh miotal **amháin** a fhaightear **saor sa nádúr**. _____ (3)
- (ii) Ainmnigh miotal **amháin** a fhaightear mar **mhianach**. _____ (3)
- (iii) Déan cur síos, le cabhair léaráide lipéadaithe, ar thurgnamh chun **cruas dhá mhíotal a chur i gcomparáid lena chéile**. (12)


Léaráid lipéadaithe



D - ADHMAD

- (i) Ainmnigh **crua-adhmad**. _____ (3)
- (ii) Luaigh **úsáid amháin** leis an gcrua-adhmad atá ainmnithe agat. _____ (3)
- (iii) Déan cur síos, le cabhair léaráide lipéadaithe, ar thurgnamh chun **frithlúbthacht dhá phársa adhmaid a chur i gcomparáid lena chéile**. (12)

Léaráid lipéadaithe



Ceist 14 - Bia

(a) Roghnaigh **bia** as an liosta ar dheis atá riachtanach don chorp le haghaidh

cnámha láidre _____ (3)
fuinneamh _____ (3)
vitimín C _____ (3)
neartú coirp _____ (3)

TRUAFHEOIL

SÚ ORÁISTE

CAILCIAM

SIÚCRA

(b) Déantar **próiseáil** ar mhórán de na bianna a ithimid sula n-ithimid iad.

Is féidir **bia a phróiseáil** trí _____ (3)

Ainmnigh **dhá** bhia a dhéantar as bainne próiseáilte.

1 _____ 2 _____ (6)

Ainmnigh bia próiseáilte **amháin** eile. _____ (3)

(c) Déan cur síos, le cabhair léaráide lipéadaithe, ar conas a **d'úsáidfeá roinnt féir nuabhainte chun sadhlas a dhéanamh.** (12)

Léaráid lipéadaithe

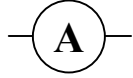
A large rectangular area defined by a dotted line, intended for drawing a lipid diagram. It is connected to the label 'Léaráid lipéadaithe' by a dotted line.

Ceist 15 - Leictreonaic

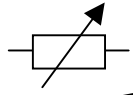
- (a) Déan **comhbhall leictreonach** as an liosta ar dheis a mheaitseáil le gach ceann de na siombailí seo a leanas.



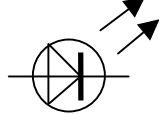
_____ (3)



_____ (3)



_____ (3)



_____ (3)

FRIOTÓIR INATHRAITHE

DSA (LED)

AIMPMHÉADAR

VOLTMHÉADAR

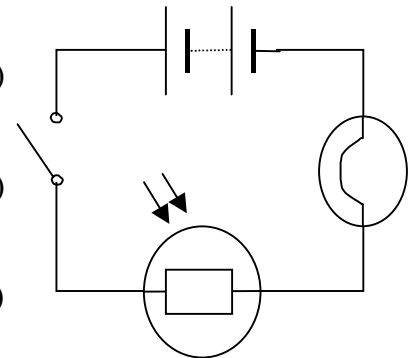
- (b) Taispeánann an léaráid **FSS (LDR)** nasctha i gciorcad simplí.

Is é is **FSS (LDR)** ann ná Friotóir Solas - _____ (3)

Méadaíonn friotaíocht an FSS (LDR) i solas _____ (3)

Laghdaíonn friotaíocht an FSS (LDR) i solas _____ (3)

Luaigh gnáthúsáid **amháin** atá ag FSS (LDR). (3)



- (c) Tarraing léaráid chiorcaid chun **ceallra, friotóir agus dhá DSA (LEDs) a thaispeáint**. Ba chóir go mbeadh na **DSA (LEDs)** i dtreonasc ionas go lasfaidh an dá cheann. (12)

Léaráid chiorcaid

Ceist 16 – Tiontuíthe Fuinnimh

(a) Roghnaigh **gné** fuinnimh as an liosta ar dheis chun na habairtí thíos a chomhlánú.

Tá fuinneamh _____ ag aer a **ghluaiseann**. (3)

Tá fuinneamh _____ ag bogha a bhíonn **ar tí** saighead a scaoileadh. (3)

Baineann **grianchill** úsáid as fuinneamh _____ . (3)

Nuair a **chritheann** sreang giotáir, táirgeann sí fuinneamh _____ . (3)

- | |
|---------------------|
| SOLAS |
| CINÉITEACH |
| FUAIM |
| POITÉINSIÚIL |

(b) Taispeánann an léaráid páirteanna de **leictreamaighnéad**.

Cén **miotail** a úsáidtear chun an croíleacán a dhéanamh? _____ (3)

Conas a bheadh a fhios agat go **ndéantar leictreamaighnéad** nuair

a bhíonn an lasc dúnta? _____

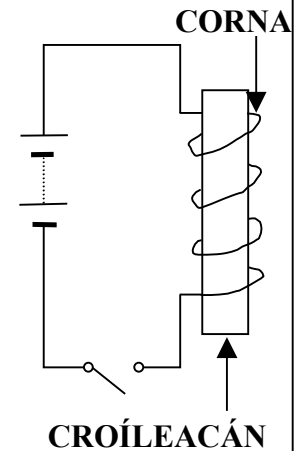
_____ (3)

Is é an **t-athrú fuinnimh** a tharlaíonn i leictreamaighnéad ná

fuinneamh _____ go fuinneamh

maighnéadach. (3)

Luaigh gnáthúsáid **amháin** atá ag leictreamaighnéad. (3)



(c) Déan cur síos, le cabhair léaráide lipéadaithe, ar thurgnamh chun a **thaispeáint gur féidir fuinneamh a scaoileadh ó bhia, e.g., piseanna talún.** (12)

_____	Léaráid lipéadaithe

SPÁS BREISE

Léirigh **go soiléir** uimhir na ceiste(na gceisteanna) atá á freagairt (bhfreagairt) agat.

SPÁS BREISE

Léirigh **go soiléir** uimhir na ceiste(na gceisteanna) atá á freagairt (bhfreagairt) agat.
