



2016. S56T

## Coimisiún na Scrúduithe Stáit

### SCRÚDÚ AN TEASTAIS SHÓISEARAIGH, 2016

# MIOTALÓIREACHT ÁBHAIR AGUS TEICNEOLAÍOCHT

GNÁTHLEIBHÉAL - 100 Marc

Dé Máirt 21 Meitheamh, Tráthnóna 2:00 - 3:30

Uimhir  
an Ionaid



Scrúduimhir



#### TREORACHA

1. Freagair **Ceist 1, Roinn A agus Roinn B** agus trí cheist ar bith eile.
2. Freagair na ceisteanna sna spásanna atá ann dóibh nó cuir tic sa bhosca cúí.
3. Tabhair an páipéar seo ar ais ag deireadh an scrúdaithe.

Don Scrúdaitheoir	
Móriomlán na Marcanna	
Ceist	Marc
1A	
1B	
2	
3	
4	
5	
6	
Iomlán	
Grád	

1. Iomlán na n-iomlán bun leathanaigh

2. Iomlán na marcanna ar cheisteanna dícheadaithe

3. Móriomlán na marcanna a bronnadh (1 lúide 2)

4. Bónas i gcomhair freagairt trí Ghaeilge (más cúí)

5. Iomlán na marcanna a bronnadh má tá Bónas Gaeilge i gceist (3 + 4)






Nóta: Ní mór don mharc i sraith 3 (nó i sraith 5 má bhronntar an Bónas Gaeilge) a bheith mar an gcéanna leis an marc sa bhosca Móriomlán na Marcanna ar an script.

**NÁ DÉAN DEARMAD DO SCRÚDUIMHIR A CHUR SA BHOSCA ATÁ ANN DI  
AR AN LEATHANACH SEO**


**Ceist 1.**

**ROINN A - 20 MARC**  
**FREAGAIR DEICH gCEIST AR BITH AS AN ROINN SEO**


**40 Marc**

<p>(a)</p> 	<p>Is é atá san uirlis seo ná:</p>	<table border="1"> <tr><td>Cailpéar Corrchosach</td><td></td></tr> <tr><td>Cailpéar Vernier</td><td></td></tr> <tr><td>Cailpéar Seachtrach</td><td></td></tr> <tr><td>Cailpéar Inmheánach</td><td></td></tr> </table>	Cailpéar Corrchosach		Cailpéar Vernier		Cailpéar Seachtrach		Cailpéar Inmheánach	
Cailpéar Corrchosach										
Cailpéar Vernier										
Cailpéar Seachtrach										
Cailpéar Inmheánach										
<p>(b)</p> 	<p>Úsáidtear díse nuair a bhítear ag:</p>	<table border="1"> <tr><td>Druileáil</td><td></td></tr> <tr><td>Réamadh</td><td></td></tr> <tr><td>Snáitheáil</td><td></td></tr> <tr><td>Seamú</td><td></td></tr> </table>	Druileáil		Réamadh		Snáitheáil		Seamú	
Druileáil										
Réamadh										
Snáitheáil										
Seamú										
<p>(c)</p> 	<p>Is é a thugtar ar an bpáirt seo de dheil ná:</p>	<table border="1"> <tr><td>Uachtarshleamhnán</td><td></td></tr> <tr><td>Crágán</td><td></td></tr> <tr><td>Ceannstoc</td><td></td></tr> <tr><td>Lár Cúlstoic</td><td></td></tr> </table>	Uachtarshleamhnán		Crágán		Ceannstoc		Lár Cúlstoic	
Uachtarshleamhnán										
Crágán										
Ceannstoc										
Lár Cúlstoic										
<p>(d)</p> 	<p>Is é atá san uirlis seo ná:</p>	<table border="1"> <tr><td>Bís Mheaisín</td><td></td></tr> <tr><td>Bís Láimhe</td><td></td></tr> <tr><td>Bísghreamán</td><td></td></tr> <tr><td>G-chrampa</td><td></td></tr> </table>	Bís Mheaisín		Bís Láimhe		Bísghreamán		G-chrampa	
Bís Mheaisín										
Bís Láimhe										
Bísghreamán										
G-chrampa										
<p>(e)</p> 	<p>Is é a thugtar ar pháirt 'X' ná:</p>	<table border="1"> <tr><td>An Lorga</td><td></td></tr> <tr><td>An Ceap</td><td></td></tr> <tr><td>An Droimín</td><td></td></tr> <tr><td>An Chuisle</td><td></td></tr> </table>	An Lorga		An Ceap		An Droimín		An Chuisle	
An Lorga										
An Ceap										
An Droimín										
An Chuisle										
<p>(f)</p> 	<p>Is é atá san uirlis seo ná:</p>	<table border="1"> <tr><td>Castaire Fáinneach</td><td></td></tr> <tr><td>Rinse Soicéid</td><td></td></tr> <tr><td>Castaire Incheartaithe</td><td></td></tr> <tr><td>Castaire Oscailte</td><td></td></tr> </table>	Castaire Fáinneach		Rinse Soicéid		Castaire Incheartaithe		Castaire Oscailte	
Castaire Fáinneach										
Rinse Soicéid										
Castaire Incheartaithe										
Castaire Oscailte										
<p>(g)</p> 	<p>Is é atá sa cheanglóir seo ná:</p>	<table border="1"> <tr><td>Leicneán Sprionga</td><td></td></tr> <tr><td>Cruimhscriú</td><td></td></tr> <tr><td>Cnó Cluasach</td><td></td></tr> <tr><td>Glaschnó</td><td></td></tr> </table>	Leicneán Sprionga		Cruimhscriú		Cnó Cluasach		Glaschnó	
Leicneán Sprionga										
Cruimhscriú										
Cnó Cluasach										
Glaschnó										
<p>(h)</p> 	<p>Is é atá san uirlis ghearrtha seo ná:</p>	<table border="1"> <tr><td>Líomhán Cothrom</td><td></td></tr> <tr><td>Líomhán Cearnógach</td><td></td></tr> <tr><td>Líomhán Leathchruinn</td><td></td></tr> <tr><td>Líomhán Snáthaide</td><td></td></tr> </table>	Líomhán Cothrom		Líomhán Cearnógach		Líomhán Leathchruinn		Líomhán Snáthaide	
Líomhán Cothrom										
Líomhán Cearnógach										
Líomhán Leathchruinn										
Líomhán Snáthaide										
<p>(i)</p> 	<p>Tá ceann an mháilléid seo déanta as:</p>	<table border="1"> <tr><td>Cruach Theilgte</td><td></td></tr> <tr><td>Seithe Úr</td><td></td></tr> <tr><td>Cruach Bhog</td><td></td></tr> <tr><td>Sinc</td><td></td></tr> </table>	Cruach Theilgte		Seithe Úr		Cruach Bhog		Sinc	
Cruach Theilgte										
Seithe Úr										
Cruach Bhog										
Sinc										
<p>(j)</p> 	<p>Is é atá san uirlis ghearrtha seo ná:</p>	<table border="1"> <tr><td>Deimheas Díreach</td><td></td></tr> <tr><td>Deimheas Cuartha</td><td></td></tr> <tr><td>Comhghreamaire</td><td></td></tr> <tr><td>Deimheas Binse</td><td></td></tr> </table>	Deimheas Díreach		Deimheas Cuartha		Comhghreamaire		Deimheas Binse	
Deimheas Díreach										
Deimheas Cuartha										
Comhghreamaire										
Deimheas Binse										
<p>(k)</p> 	<p>Is é a thugtar ar pháirt 'X' ná:</p>	<table border="1"> <tr><td>An Raicín</td><td></td></tr> <tr><td>An Inneoin</td><td></td></tr> <tr><td>An Méaracán</td><td></td></tr> <tr><td>An Fráma</td><td></td></tr> </table>	An Raicín		An Inneoin		An Méaracán		An Fráma	
An Raicín										
An Inneoin										
An Méaracán										
An Fráma										
<p>(l)</p> 	<p>Úsáidtear an uirlis seo nuair a bhítear ag:</p>	<table border="1"> <tr><td>Fritolladh</td><td></td></tr> <tr><td>Réamadh</td><td></td></tr> <tr><td>Druileáil</td><td></td></tr> <tr><td>Leacú</td><td></td></tr> </table>	Fritolladh		Réamadh		Druileáil		Leacú	
Fritolladh										
Réamadh										
Druileáil										
Leacú										


**ROINN B - 20 MARC**  
**FREAGAIR GACH CEIST AS AN ROINN SEO**

(m)  Ainmnigh **ceithre** pháirt lipéadaithe an ríomhaire deisce seo.

1.	
2.	
3.	
4.	


(n)  Liostaigh **trí** bhuntáiste a bhaineann le húsáid a bhaint as ríomhaire táibléid.


1.	
2.	
3.	

(o)  Liostaigh **trí** dhifríocht idir an fón seo agus fón cliste nua-aimseartha.

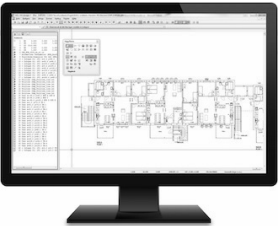
1.	
2.	
3.	


(p) (i) Tomhaistear cuimhne ríomhairí: (ii) Is é a thugtar ar an ngléas seo ná:

	I mBearta	
	I Voltanna	
	I nGraim	
	In Aimpéir	

	Méaróg Chuimhne USB	
	Cárta Cuimhne	
	Diosca Crua	
	Diosca Bog	

(q) (i) Déantar líníoictaí teicniúla le: (ii) Is é is scanóir ann ná:

	Pacáiste DRC (CAD)	
	Scarbhileog	
	Bunachar Sonraí	
	Próiseálaí Focal	

	Gléas Stórála	
	Gléas Aschuir	
	Gléas Ionchuir	
	Gléas Priontála	

(a)

- |   |          |  |          |  |         |  |  |                 |  |                       |  |                 |  |
|---|----------|--|----------|--|---------|--|--|-----------------|--|-----------------------|--|-----------------|--|
| (i) Cé acu ceann de na miotail seo atá ina chóimhiotal?<br><table border="1" style="width: 100%; border-collapse: collapse;"> <tr><td>Alúmanam</td><td></td></tr> <tr><td>Cré-umha</td><td></td></tr> <tr><td>Copar</td><td></td></tr> </table>             | Alúmanam |  | Cré-umha |  | Copar   |  | (v) De ghnáth déantar sceanra as:<br><table border="1" style="width: 100%; border-collapse: collapse;"> <tr><td>Cruach</td><td></td></tr> <tr><td>Cruach Dhosmálta</td><td></td></tr> <tr><td>Cruach Bhog</td><td></td></tr> </table>  | Cruach          |  | Cruach Dhosmálta      |  | Cruach Bhog     |  |
| Alúmanam  |          |  |          |  |         |  |  |                 |  |                       |  |                 |  |
| Cré-umha  |          |  |          |  |         |  |  |                 |  |                       |  |                 |  |
| Copar   |          |  |          |  |         |  |  |                 |  |                       |  |                 |  |
| Cruach  |          |  |          |  |         |  |  |                 |  |                       |  |                 |  |
| Cruach Dhosmálta  |          |  |          |  |         |  |  |                 |  |                       |  |                 |  |
| Cruach Bhog   |          |  |          |  |         |  |  |                 |  |                       |  |                 |  |
| (ii) Cé acu ceann de na miotail seo is cruach?<br><table border="1" style="width: 100%; border-collapse: collapse;"> <tr><td>Luaidhe</td><td></td></tr> <tr><td>Sinc</td><td></td></tr> <tr><td>Cruach</td><td></td></tr> </table>                          | Luaidhe  |  | Sinc     |  | Cruach  |  | (vi) Déantar béalmhíreanna druilire a úsáidtear chun cruach a dhruileáil as:<br><table border="1" style="width: 100%; border-collapse: collapse;"> <tr><td>Cruach Bhog</td><td></td></tr> <tr><td>Iarann Teilgthe</td><td></td></tr> <tr><td>Cruach Ardluais</td><td></td></tr> </table> | Cruach Bhog     |  | Iarann Teilgthe       |  | Cruach Ardluais |  |
| Luaidhe   |          |  |          |  |         |  |  |                 |  |                       |  |                 |  |
| Sinc  |          |  |          |  |         |  |  |                 |  |                       |  |                 |  |
| Cruach  |          |  |          |  |         |  |  |                 |  |                       |  |                 |  |
| Cruach Bhog   |          |  |          |  |         |  |  |                 |  |                       |  |                 |  |
| Iarann Teilgthe   |          |  |          |  |         |  |  |                 |  |                       |  |                 |  |
| Cruach Ardluais   |          |  |          |  |         |  |  |                 |  |                       |  |                 |  |
| (iii) Cé acu ceann de na miotail seo is fearr a sheolann leictreachas?<br><table border="1" style="width: 100%; border-collapse: collapse;"> <tr><td>Copar</td><td></td></tr> <tr><td>Cruach</td><td></td></tr> <tr><td>Luaidhe</td><td></td></tr> </table> | Copar    |  | Cruach   |  | Luaidhe |  | (vii) Is é atá i luaidhe ná:<br><table border="1" style="width: 100%; border-collapse: collapse;"> <tr><td>Ábhar Briosc</td><td></td></tr> <tr><td>Ábhar Somhúnlaithe</td><td></td></tr> <tr><td>Ábhar Láidir</td><td></td></tr> </table>  | Ábhar Briosc    |  | Ábhar Somhúnlaithe    |  | Ábhar Láidir    |  |
| Copar   |          |  |          |  |         |  |  |                 |  |                       |  |                 |  |
| Cruach  |          |  |          |  |         |  |  |                 |  |                       |  |                 |  |
| Luaidhe   |          |  |          |  |         |  |  |                 |  |                       |  |                 |  |
| Ábhar Briosc  |          |  |          |  |         |  |  |                 |  |                       |  |                 |  |
| Ábhar Somhúnlaithe  |          |  |          |  |         |  |  |                 |  |                       |  |                 |  |
| Ábhar Láidir  |          |  |          |  |         |  |  |                 |  |                       |  |                 |  |
| (iv) Cé acu ceann de na miotail seo is fearr a sheolann teas?<br><table border="1" style="width: 100%; border-collapse: collapse;"> <tr><td>Cruach</td><td></td></tr> <tr><td>Luaidhe</td><td></td></tr> <tr><td>Copar</td><td></td></tr> </table>          | Cruach   |  | Luaidhe  |  | Copar   |  | (viii) Is é atá i sinc ná:<br><table border="1" style="width: 100%; border-collapse: collapse;"> <tr><td>Miotal Feiriúil</td><td></td></tr> <tr><td>Miotal Neamhfheiriúil</td><td></td></tr> <tr><td>Cóimhiotal</td><td></td></tr> </table>  | Miotal Feiriúil |  | Miotal Neamhfheiriúil |  | Cóimhiotal      |  |
| Cruach  |          |  |          |  |         |  |  |                 |  |                       |  |                 |  |
| Luaidhe   |          |  |          |  |         |  |  |                 |  |                       |  |                 |  |
| Copar   |          |  |          |  |         |  |  |                 |  |                       |  |                 |  |
| Miotal Feiriúil   |          |  |          |  |         |  |  |                 |  |                       |  |                 |  |
| Miotal Neamhfheiriúil   |          |  |          |  |         |  |  |                 |  |                       |  |                 |  |
| Cóimhiotal  |          |  |          |  |         |  |  |                 |  |                       |  |                 |  |


(b) Freagair na ceisteanna seo a leanas agus tic á chur agat sa bhosca ceart:

(i) An mbruithnítear iarnmhian i bhfoirnéis soinneáin?	Bruithnítear	
	Ní bhruithnítear	
(ii) An séidtear aer te isteach i bhfoirnéis soinneáin nuair a bhíonn sí ar siúl?	Séidtear	
	Ní shéidtear	
(iii) An féidir foirnéis soinneáin a rothlú chun miotal leáite a bhaint amach?	Is féidir	
	Ní féidir	
(iv) An úsáideann foirnéis soinneáin stua leictreach mar fhoínse teasa?	Úsáideann	
	Ní úsáideann	
(v) An ndéanann foirnéis soinneáin cruach?	Déanann	
	Ní dhéanann	
(vi) An dtiteann an miotal leáite síos go bun i bhfoirnéis soinneáin?	Titeann	
	Ní thiteann	

(c)

- |  |                   |  |             |  |                  |  |  |            |  |        |  |             |  |
|--|-------------------|--|-------------|--|------------------|--|--|------------|--|--------|--|-------------|--|
| (i) Ainm eile a thugtar ar bhileog aicrileach ná:<br><table border="1" style="width: 100%; border-collapse: collapse;"> <tr><td>Snáithíngloine</td><td></td></tr> <tr><td>Peirspéacs</td><td></td></tr> <tr><td>Bácaílt</td><td></td></tr> </table>                    | Snáithíngloine    |  | Peirspéacs  |  | Bácaílt          |  | (iv) Déantar fráma fuinneoga as:<br><table border="1" style="width: 100%; border-collapse: collapse;"> <tr><td>Aicrileach</td><td></td></tr> <tr><td>Níolón</td><td></td></tr> <tr><td>PVC</td><td></td></tr> </table>         | Aicrileach |  | Níolón |  | PVC         |  |
| Snáithíngloine   |                   |  |             |  |                  |  |  |            |  |        |  |             |  |
| Peirspéacs   |                   |  |             |  |                  |  |  |            |  |        |  |             |  |
| Bácaílt  |                   |  |             |  |                  |  |  |            |  |        |  |             |  |
| Aicrileach   |                   |  |             |  |                  |  |  |            |  |        |  |             |  |
| Níolón   |                   |  |             |  |                  |  |  |            |  |        |  |             |  |
| PVC  |                   |  |             |  |                  |  |  |            |  |        |  |             |  |
| (ii) Cé acu ceann acu seo atá ina phlaisteach teirmithéachtach?<br><table border="1" style="width: 100%; border-collapse: collapse;"> <tr><td>Bácaílt</td><td></td></tr> <tr><td>Níolón</td><td></td></tr> <tr><td>PVC</td><td></td></tr> </table>                     | Bácaílt           |  | Níolón      |  | PVC              |  | (v) An príomh-amhábar do phlaisteach ná:<br><table border="1" style="width: 100%; border-collapse: collapse;"> <tr><td>Ola</td><td></td></tr> <tr><td>Adhmad</td><td></td></tr> <tr><td>Gual</td><td></td></tr> </table>       | Ola        |  | Adhmad |  | Gual        |  |
| Bácaílt  |                   |  |             |  |                  |  |  |            |  |        |  |             |  |
| Níolón   |                   |  |             |  |                  |  |  |            |  |        |  |             |  |
| PVC  |                   |  |             |  |                  |  |  |            |  |        |  |             |  |
| Ola  |                   |  |             |  |                  |  |  |            |  |        |  |             |  |
| Adhmad   |                   |  |             |  |                  |  |  |            |  |        |  |             |  |
| Gual   |                   |  |             |  |                  |  |  |            |  |        |  |             |  |
| (iii) Cé acu ceann acu seo atá ina theirmeaphlaisteach?<br><table border="1" style="width: 100%; border-collapse: collapse;"> <tr><td>Roisín Poileistir</td><td></td></tr> <tr><td>Poileitilín</td><td></td></tr> <tr><td>Roisín Feanólach</td><td></td></tr> </table> | Roisín Poileistir |  | Poileitilín |  | Roisín Feanólach |  | (vi) Úsáidtear poileitilín i ndéanamh:<br><table border="1" style="width: 100%; border-collapse: collapse;"> <tr><td>Buidéil</td><td></td></tr> <tr><td>Cúr</td><td></td></tr> <tr><td>Greamacháin</td><td></td></tr> </table> | Buidéil    |  | Cúr    |  | Greamacháin |  |
| Roisín Poileistir  |                   |  |             |  |                  |  |  |            |  |        |  |             |  |
| Poileitilín  |                   |  |             |  |                  |  |  |            |  |        |  |             |  |
| Roisín Feanólach   |                   |  |             |  |                  |  |  |            |  |        |  |             |  |
| Buidéil  |                   |  |             |  |                  |  |  |            |  |        |  |             |  |
| Cúr  |                   |  |             |  |                  |  |  |            |  |        |  |             |  |
| Greamacháin  |                   |  |             |  |                  |  |  |            |  |        |  |             |  |

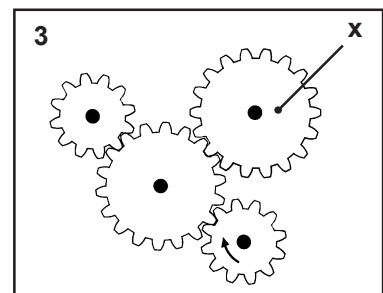
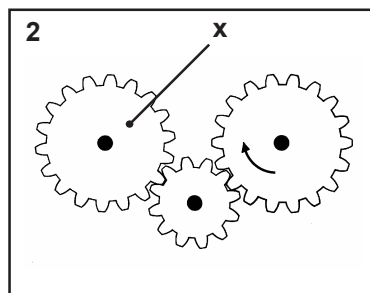
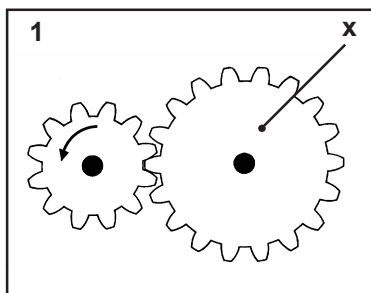
(a) (i) Meaitseáil an uimhir leis an bpáirt mheicníochta cúí sa tábla a thugtar.



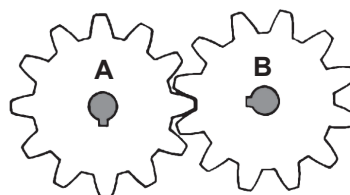
Meicníocht	Uimh.
Raca agus Pinniún	
Imthaca	
Sproicéad	
Loine	
Ulóg	
Giar	

(ii) Ainmnigh meaisín i gceardlann na scoile a úsáideann gluaisne fhrithingeach.

(b) (i) Úsáid saighead chun treo ghair 'X' a thaispeáint i ngach ceann acu seo a leanas:



(ii) Má rothlaíonn gear 'A' ag 100 RPM cé chomh tapa a rothlóidh gear 'B'?  
(A = 12 bhFiacail,  
B = 12 bhFiacail)



12 RPM	
50 RPM	
100 RPM	
200 RPM	

(iii) Ainmnigh meaisín a úsáideann gearanna.

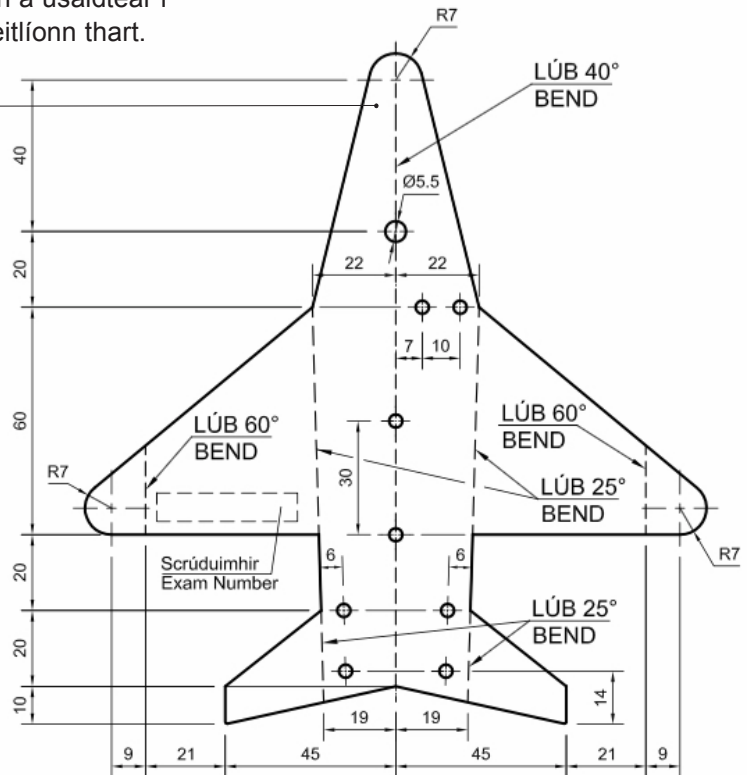
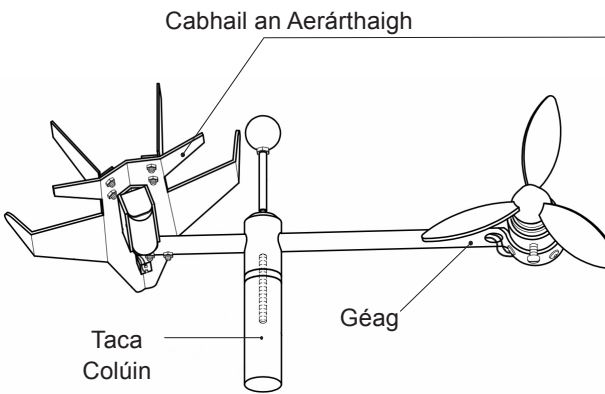
(c) Comhlánaigh an tábla agus ainmnigh na gléasanna a úsáideann na meicníochtaí seo a leanas.

Meicníocht	Gléas
Snáithe Cearnach	<i>Deil</i>
Ceam	
Raicín agus Ceapachóir	
Giaranna Beibhil	
Raca agus Pinniún	
Cromán agus Sleamhnóir	
Nascáil	

# Ceist 4.

20 Marc

Taispeántar mionsonraí de chabhair aerárthaigh a úsáidtear i ndéantúsaíocht Mhionsamhail d'Aerárthach a eitlíonn thart.



(i) Cad iad fad agus leithead iomlán an phársa miotail a úsáidtear chun cabhair an aerárthaigh a dhéanamh?

Fad: \_\_\_\_\_ Leithead: \_\_\_\_\_

(ii) Cad dó a dtagraíonn 'R7' sa líníocht?

\_\_\_\_\_

(iii) Liostaigh na céimeanna atá i gceist agus cabhair an aerárthaigh á lúbadh i gcruth.

\_\_\_\_\_

\_\_\_\_\_

\_\_\_\_\_

(iv) Liostaigh **ceithre** uirlis a úsáidtear i ndéantúsaíocht chabhair an aerárthaigh.

\_\_\_\_\_

\_\_\_\_\_

\_\_\_\_\_

\_\_\_\_\_

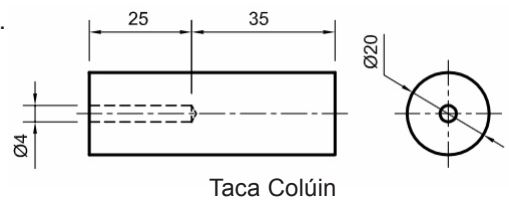
(v) Déan cur síos ar an gcaoi a ndruileálfá an poll sa taca colúin.

\_\_\_\_\_

\_\_\_\_\_

\_\_\_\_\_

\_\_\_\_\_



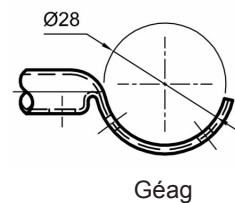
(vi) Déan cur síos ar an gcaoi a gcruthófa deireadh na géige a thaispeántar thall.

\_\_\_\_\_

\_\_\_\_\_

\_\_\_\_\_

\_\_\_\_\_



(vii) Cén fáth a ndearfa agus a ndéanfa seastán taca don mhionsamhail?

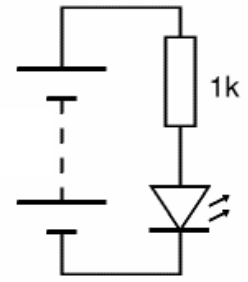
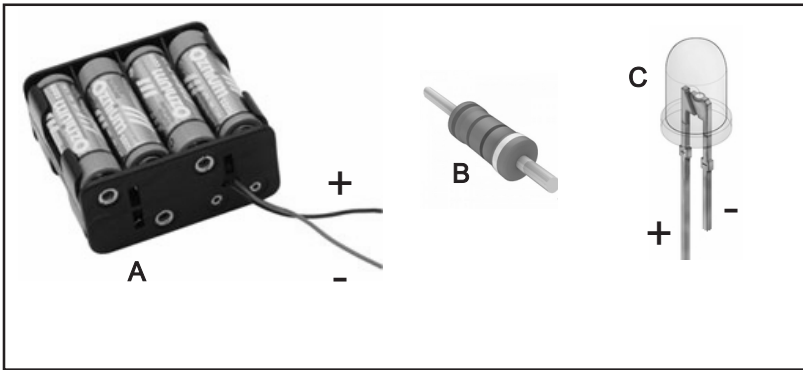
\_\_\_\_\_

\_\_\_\_\_

\_\_\_\_\_

\_\_\_\_\_

(a) (i) Agus tú ag úsáid léaráid an chiorcaid mar thagairt, tarraing na sreanga cónaisc idir na comhpháirteanna sa bhosca thíos.



Léaráid Chiorcaid

(ii) Ainmnigh na comhpháirteanna A, B agus C a thaispeántar thuas.

A	
B	
C	

(iii) Luaigh úsáid a bhaintear as comhpháirt 'C'.


(b) (i) Is é atá sa ghléas seo ná:



Lasc Scoránaithe	
Sálasc	
Lasc Shleamhnáin	

(iv) Tiontaíonn mótar fuinneamh leictreach go:



Fuinneamh Ceimiceach	
Fuinneamh Solais	
Fuinneamh Meicniúil	

(ii) Tomhaistear sruth leictreach i(n):



Aimpéir	
Óim	
Voltanna	

(v) Seasann an tsiombail seo:



Do Bholgán	
Do Mhótar	
Do Dhineamó	

(iii) Is é atá sa ghléas seo ná:



FSS (Friotóir Solas-spleách)	
Dordánaí	
Trasraitheoir	

(vi) Tá na bolgáin seo:



Treocheangailte	
Sraithcheangailte	
Treocheangailte agus Sraithcheangailte	

(c) Ainmnigh dhá aireagóir ar bith agus tabhair cur síos go hachomair ar na héachtaí a bhain siad amach.

Aireagóir 1:


Aireagóir 2: