



ÁBHAIR AGUS TEICNEOLAÍOCHT

MIOTALÓIREACHT - GNÁTHLEIBHÉAL

100 Marc

Dé Máirt, 17 Meitheamh, Tráthnóna, 2.00 go dtí 3.30

Uimhir an Ionaid



Uimhir Scrúdaithe



TREORACHA

1. Freagair ceist 1, roinn A agus roinn B, agus trí cheist ar bith eile.
2. Freagair na ceisteanna sna spásanna atá ann dóibh nó cuir tic sa bhosca cuí.
3. Cuir an páipéar seo ar ais ag deireadh an scrúdaithe.

Don Scrúdaitheoir	
Móriomlán na Marcanna	<input type="text"/>
Ceist	Marc
1A	
1B	
2	
3	
4	
5	
6	
Móriomlán	
Grád	



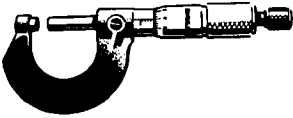





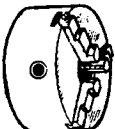



1. Iomlán na n-iomlán ag deireadh na leathanach	
2. Iomlán na marcanna do cheisteanna nach ceadmhach	
3. Iomlán na marcanna bronnta (1 lúide 2)	
4. Bónas i gcóir freagartha tré Ghaeilge (más cuí)	
5. Iomlán marcanna bronnta má tá Bónas i gceist (3 + 4)	
Nóta: Ní mór na marcanna i sraith 3 (nó sraith 5 más cuí an Bónas tré Ghaeilge) a bheith ionann leis na marcanna sa bhosca <u>Móriomlán</u> ar an script	

NÁ DÉAN DEARMAD D'UIMHIR SCRÚDAITHE A CHUR SA BHOSCA ATÁ ANN DI AR AN LEATHANACH SEO

1.


ROINN A - 20 MARC
FREAGAIR DEICH gCEIST AR BITH ÓN ROINN SEO

40 Marc

<p>(a) </p>	<p>Is é atá san uirlis ghearrtha seo ná:</p>	<table border="1"> <tr><td>Creimsábh</td><td></td></tr> <tr><td>Mionsábh Miotail</td><td></td></tr> <tr><td>Sábh Cóipeála</td><td></td></tr> <tr><td>Mion-chróshábh</td><td></td></tr> </table>	Creimsábh		Mionsábh Miotail		Sábh Cóipeála		Mion-chróshábh	
Creimsábh										
Mionsábh Miotail										
Sábh Cóipeála										
Mion-chróshábh										
<p>(b) </p>	<p>Úsáidtear an uirlis seo agus duine ag:</p>	<table border="1"> <tr><td>Seamú</td><td></td></tr> <tr><td>Druileáil</td><td></td></tr> <tr><td>Snáithiú</td><td></td></tr> <tr><td>Sádráil</td><td></td></tr> </table>	Seamú		Druileáil		Snáithiú		Sádráil	
Seamú										
Druileáil										
Snáithiú										
Sádráil										
<p>(c) </p>	<p>Is é atá san uirlis tomhais seo ná:</p>	<table border="1"> <tr><td>Cailipéar Vernier</td><td></td></tr> <tr><td>Cailipéar Seachtrach</td><td></td></tr> <tr><td>Micriméadar</td><td></td></tr> <tr><td>Tomhsaire Doimhneachta</td><td></td></tr> </table>	Cailipéar Vernier		Cailipéar Seachtrach		Micriméadar		Tomhsaire Doimhneachta	
Cailipéar Vernier										
Cailipéar Seachtrach										
Micriméadar										
Tomhsaire Doimhneachta										
<p>(d) </p>	<p>Is é a thugtar ar Pháirt 'X' ná:</p>	<table border="1"> <tr><td>an Faobhar Réidh</td><td></td></tr> <tr><td>an Faobhar Sábháilte</td><td></td></tr> <tr><td>an Fhaobhar Dúbailte</td><td></td></tr> <tr><td>an Fhaobhar Singil</td><td></td></tr> </table>	an Faobhar Réidh		an Faobhar Sábháilte		an Fhaobhar Dúbailte		an Fhaobhar Singil	
an Faobhar Réidh										
an Faobhar Sábháilte										
an Fhaobhar Dúbailte										
an Fhaobhar Singil										
<p>(e) </p>	<p>Is é atá san uirlis seo ná:</p>	<table border="1"> <tr><td>Bís Mheaisín</td><td></td></tr> <tr><td>Bís Láimhe</td><td></td></tr> <tr><td>Bísgreamáin</td><td></td></tr> <tr><td>G-Crampa</td><td></td></tr> </table>	Bís Mheaisín		Bís Láimhe		Bísgreamáin		G-Crampa	
Bís Mheaisín										
Bís Láimhe										
Bísgreamáin										
G-Crampa										
<p>(f) </p>	<p>Is é a thugtar ar Pháirt 'X' na snáithe ná:</p>	<table border="1"> <tr><td>an Cliathán</td><td></td></tr> <tr><td>an Rith</td><td></td></tr> <tr><td>an Chéim</td><td></td></tr> <tr><td>an Barr</td><td></td></tr> </table>	an Cliathán		an Rith		an Chéim		an Barr	
an Cliathán										
an Rith										
an Chéim										
an Barr										
<p>(g) </p>	<p>Is é atá sa cheanglóir seo ná:</p>	<table border="1"> <tr><td>Seam</td><td></td></tr> <tr><td>Glaschnó</td><td></td></tr> <tr><td>Bolta</td><td></td></tr> <tr><td>Cruimhscriú</td><td></td></tr> </table>	Seam		Glaschnó		Bolta		Cruimhscriú	
Seam										
Glaschnó										
Bolta										
Cruimhscriú										
<p>(h) </p>	<p>Is é a thugtar ar an obair dheile seo ná:</p>	<table border="1"> <tr><td>Dípháirtíúchán</td><td></td></tr> <tr><td>Snáithiú</td><td></td></tr> <tr><td>Foirbiú</td><td></td></tr> <tr><td>Fásáil</td><td></td></tr> </table>	Dípháirtíúchán		Snáithiú		Foirbiú		Fásáil	
Dípháirtíúchán										
Snáithiú										
Foirbiú										
Fásáil										
<p>(i) </p>	<p>Is é a thugtar ar an mball deile seo ná:</p>	<table border="1"> <tr><td>Cúlstoc</td><td></td></tr> <tr><td>Crágán Trí Ghiall</td><td></td></tr> <tr><td>Ceannstoc</td><td></td></tr> <tr><td>Uachtarshleamhnán</td><td></td></tr> </table>	Cúlstoc		Crágán Trí Ghiall		Ceannstoc		Uachtarshleamhnán	
Cúlstoc										
Crágán Trí Ghiall										
Ceannstoc										
Uachtarshleamhnán										
<p>(j) </p>	<p>Is é atá san uirlis ghearrtha seo ná:</p>	<table border="1"> <tr><td>Casdruilire</td><td></td></tr> <tr><td>Réamaire</td><td></td></tr> <tr><td>Druilire Láir</td><td></td></tr> <tr><td>Druilire Leacaithe</td><td></td></tr> </table>	Casdruilire		Réamaire		Druilire Láir		Druilire Leacaithe	
Casdruilire										
Réamaire										
Druilire Láir										
Druilire Leacaithe										
<p>(k) </p>	<p>Is é a thugtar ar an uirlis seo ná:</p>	<table border="1"> <tr><td>Soicéad</td><td></td></tr> <tr><td>Castaire Fáinneach</td><td></td></tr> <tr><td>Castaire Insocraithe</td><td></td></tr> <tr><td>Raicín</td><td></td></tr> </table>	Soicéad		Castaire Fáinneach		Castaire Insocraithe		Raicín	
Soicéad										
Castaire Fáinneach										
Castaire Insocraithe										
Raicín										
<p>(l) </p>	<p>Is é a thugtar ar an uirlis mharcála seo ná:</p>	<table border="1"> <tr><td>Cailipéar Inmheánach</td><td></td></tr> <tr><td>Cailipéar Corrchosach</td><td></td></tr> <tr><td>Spriongrannadóir</td><td></td></tr> <tr><td>Scríobaire</td><td></td></tr> </table>	Cailipéar Inmheánach		Cailipéar Corrchosach		Spriongrannadóir		Scríobaire	
Cailipéar Inmheánach										
Cailipéar Corrchosach										
Spriongrannadóir										
Scríobaire										

ROINN B - 20 MARC
FREAGAIR GACH CEIST ÓN ROINN SEO

(m) (i) Ainmnigh miotal a úsáidtear leis an gcás innill 'X' a dhéanamh:



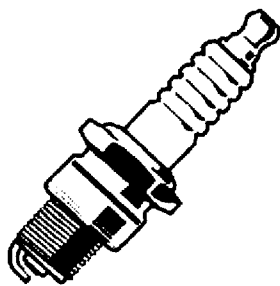
(ii) An bhfuil an miotal seo feiriúil nó neamhfeiriúil?

(iii) An meirgíonn an miotal seo?

(iv) Cuirtear brat miotail ar an bpiobán sceite 'Y' de gnáth. Ainmnigh an miotal seo.

4 Mharc

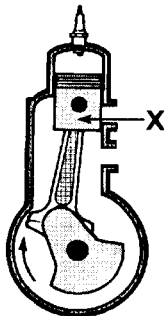
(n)



Luaigh an fheidhm atá leis an spréachphlocóid.

4 Mharc


(o)



(i) Is é a thugtar ar Pháirt 'X' ná:


an Chomhla	
an tSlat Chónaisc	
an Loine	
an Cromsheafta	

(ii) Ainmnigh feiste eile seachas an lomaire faiche a d'fhéadfaí a thiomáint le hinneall peitril.



4 Mharc

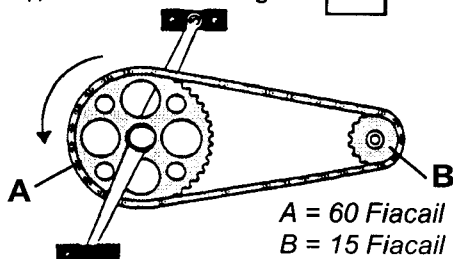
(p) Liostaigh ceithre dhifriocht idir an rothar seo agus rothar nua-aimsire.



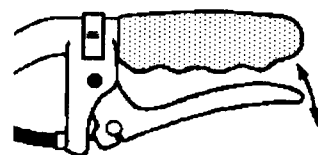
1.	
2.	
3.	
4.	

4 Mharc

(q) (i) Rothlú amháin ag A = rothlú ag B.



(ii) Léirigh le saighead pointe buthail an luamhán coscáin.



4 Mharc

(a) Críochnaigh an chart:

Ábhar	Liostaigh feidhm do gach ábhar
Niolón	
Copar	
PVC	
Cruach Dhosmálta	
Prás	
Polaitéin	
Cruach Bhog	
Sinc	

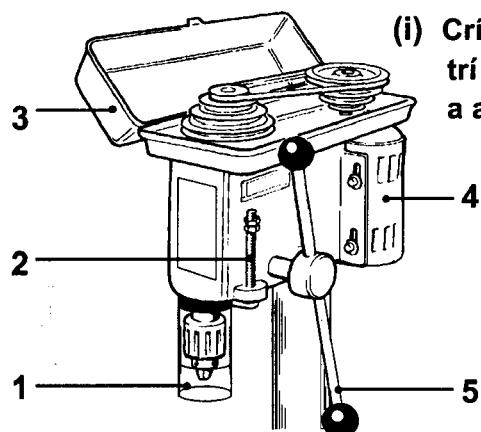
8 Marc

(b) Críochnaigh an chart:

(i) An ea gur féidir plaistigh theirmithéachtacha a athchruthú?	Sea	<input type="checkbox"/>
	Ní hea	<input type="checkbox"/>
(ii) An ea go dtugtar bácsait ar mhian alumanaim?	Sea	<input type="checkbox"/>
	Ní hea	<input type="checkbox"/>
(iii) An ea gur seoltóir teasa maith é an copar?	Sea	<input type="checkbox"/>
	Ní hea	<input type="checkbox"/>
(iv) An ea gur cóimhiotal de chopar agus stán é an cré-umha?	Sea	<input type="checkbox"/>
	Ní hea	<input type="checkbox"/>
(v) An ea go n-úsáidtear iarann teilgthe le grátaí tinteán a dhéanamh?	Sea	<input type="checkbox"/>
	Ní hea	<input type="checkbox"/>
(vi) An ea gur cóimhiotal í cruach bhog?	Sea	<input type="checkbox"/>
	Ní hea	<input type="checkbox"/>


6 Mharc

(c)



(i) Críochnaigh an chart trí na páirteanna a ainmniú:

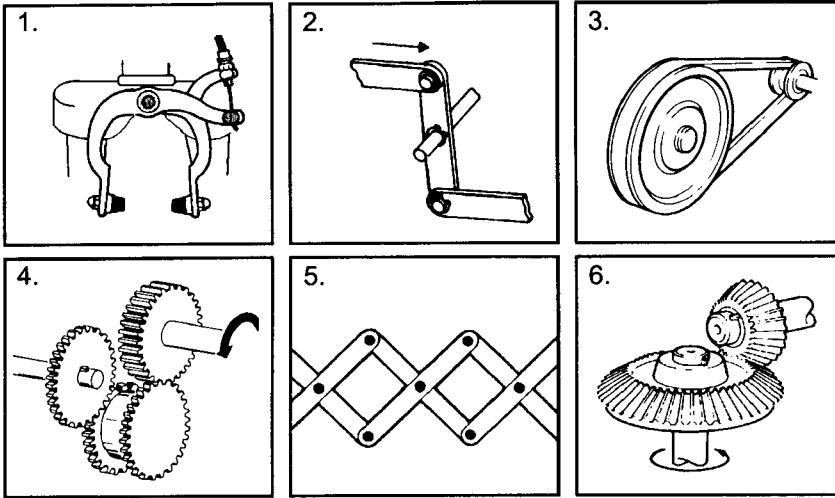
Uimhir na Páirte	Ainm
1.	
2.	
3.	
4.	
5.	



(ii) Úsáidtear ulóga céimithe i ndruilire colúin chun:

An luas a athrú	<input type="checkbox"/>
An fotha a athrú	<input type="checkbox"/>

(a) (i) Meaitseáil an uimhir leis an mheicníocht chúí.



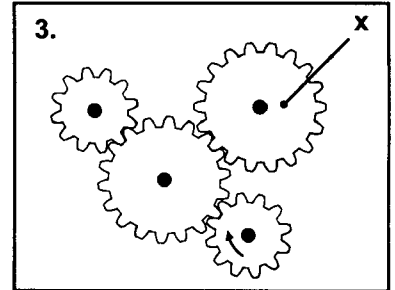
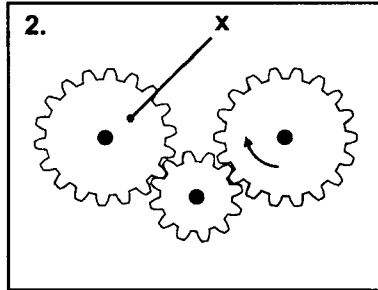

Meicníocht	Uimhir
Cromán Cloige	
Cosc Cailipéir	
Beibhealghiaranna	
Nascáil Chomhthreomhar	
Giarshraith	
Córas Ulóg	

(ii) Cé acu de na meicníochtaí seo a núsáidtear i ndrúilire láimhe?

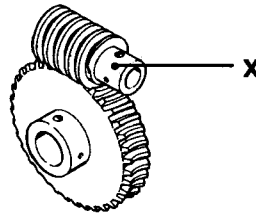
(iii) Ainmnigh meaisín eile a bhaineann úsáid as ceann de na meicníochtaí seo. Luaigh uimhir an mheaisín seo. Uimhir

8 Marc

(b) (i) Léirigh treo an ghair 'X' i ngach ceann díobh seo a leanas:



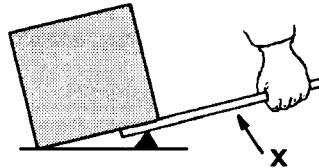
(ii) Is é atá sa ghair 'X' ná:



Sporghiar	
Beibhealghiar	
Giar Péiste	
Giar Héiliciúil	

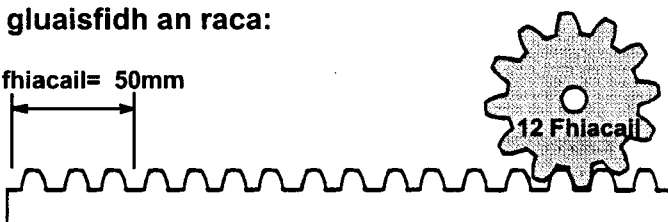
6 Mharc

(c) (i) Ainmnigh 'X':



(ii) Nuair a rothlaíonn an pinniún uair amháin, gluaisfidh an raca:

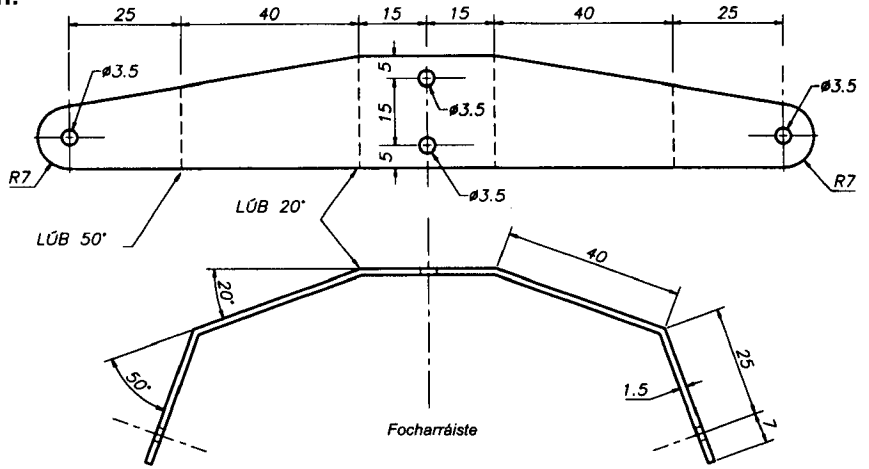
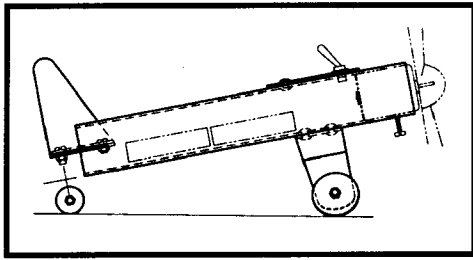
3 fhiacail = 50mm



1000mm	
200mm	
600mm	
100mm	

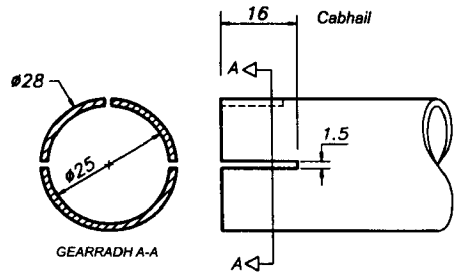
(iii) Ainmnigh meaisín a úsáideann raca agus pinniún:

Taispeántar sonraí mhionsamhail eitleáin.



(i) Déan cur síos ar na céimeanna atá i gceist i marcáil amach agus i lúbadh an fhocharráiste i gcruith.

(ii) Cad í an uirlis cheardlainne a úsáidtear chun na huillinneacha ar an bhfocharráiste a sheiceáil?

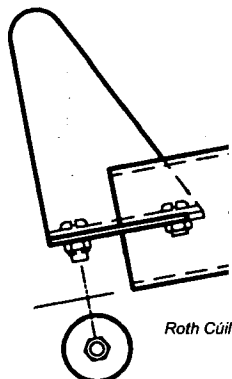


(iii) Déan cur síos ar an dóigh a marcáiltear amach na sliotáin sa chabhail.

(iv) Mínigh an fheidhm atá leis na comhbhaill a leanas san eitleán.


Comhbhall	Feidhm
Bataire	
Lasc	
Mótar	

(v) Dearaigh taca don roth cúil sa ghreille thíos.



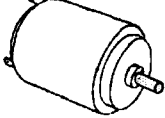





NÁ hÚSÁID ACH PEANN LUADHÉ

- (a) (i) Roghnaigh na siombailí cearta ón chairt agus críochnaigh an léaráid chiorcaid don druillire le hoibriú bataire



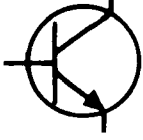

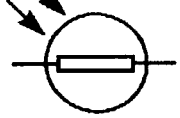
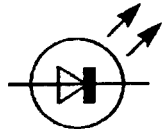

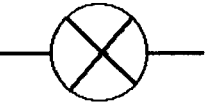
Tarraing an ciorcad sa mbosca seo.

Comhbhall	Siombailí
	
	
	

8 Marc

- (ii) Liostaigh buntáiste amháin a bhaineann le druillirí le hoibriú batairí.

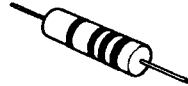
- (b) (i) Meitseáil an uimhir leis an tsiombail cheart.

1. 	2. 	3. 
4. 	5. 	6. 

Comhbhall	Uimhir
Bolgán	
LDR	
LED	
Lasc	
Dordánaí	
Trasraitheoir	

- (ii) Cad is brí leis an téarma leictreach A.C.?

- (iii) An trasraitheoir é an comhbhall seo?



Sea Ní hea

8 Marc

- (c) (i) Ainmnigh cumadóir cáiliúil innealtóireachta amháin.

- (ii) Cad a chum an duine seo?

- (iii) Conas a d'athraigh aireagán an duine seo an modh a maireann muid?

4 Marc

- (i) Taispeánann an dearadh seo ornáid deisce. Liostaigh trí uirlis a mbaintear úsáid astu le Páirt 'A' a dhéanamh.

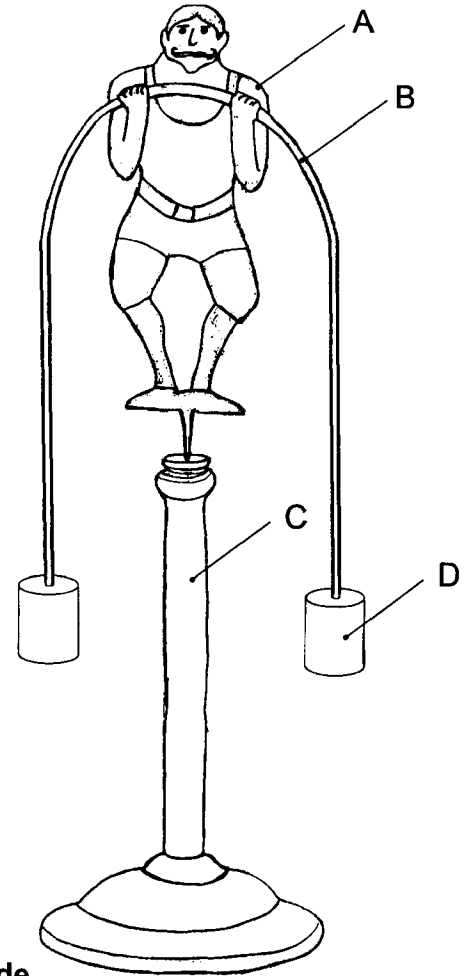
1.	
2.	
3.	

- (ii) Liostaigh ábhair chuí do na páirteanna a bhfuil na lipéid 'A', 'B' agus 'C' orthu.


A.	
B.	
C.	

- (iii) Déan cur síos gearr ar na céimeanna atá i gceist agus Páirt 'D' a dhéanamh ar an deil.

- (iv) Tá ort bonn difriúil a dhearadh don ornáid. Ag baint úsáide as comhréirí maithe, déan léaráid néata saorlámhe den dearadh sa ngreille thíos.



BAIN ÚSÁID
AS PEANN
LUAIDHE
AMHÁIN.



- (v) An ea gur féidir úsáid a bhaint as cúlstoc na deile le haghaidh druileála?

Sea	
Ní hea	