



Coimisiún na Scrúduithe Stáit

Scrúdú an Teastais Shóisearaigh, 2016

Matamaitic

Páipéar 1 Gnáthleibhéal

Dé hAoine, 10 Meitheamh – Tráthnóna, 2:00 go dtí 4:00

300 marc

Scrúduimhir

Stampa an ionaid

Iomlán reatha	
---------------	--

Don scrúdaitheoir			
Ceist	Marc	Ceist	Marc
1		11	
2		12	
3		13	
4		14	
5			
6			
7			
8		Iomlán	
9		Bónas	
10		Móriomlán	

Grád

Treoracha

Tá 14 cheist ar an scrúdpháipéar seo. Freagair **gach** ceist.

Ní gá go bhfuil na ceisteanna ar aon mharc. Moltar uasmhéid ama do gach ceist anseo chun cabhrú leat do chuid ama a roinnt go cuí le linn an scrúdaithe seo. Má chloíonn tú leis na hamanna seo, beidh thart ar 10 nóiméad fágtha agat chun súil a chaitheamh siar ar do chuid oibre.

Scríobh do chuid freagraí sna spásanna atá ann dóibh sa leabhrán seo. Is féidir go gcaillfidh tú marcanna mura ndéanfaidh tú é sin. Is féidir páipéar breise a iarraidh ar an bhfeitheoir. Lipéadaigh aon obair bhreise go soiléir le huimhir na ceiste agus leis an gcuid den cheist.

Tabharfaidh an feitheoir cóip den leabhrán *Foirmlí agus Táblaí* duit. Caithfidh tú é a thabhairt ar ais ag deireadh an scrúdaithe. Níl cead agat do chóip féin a thabhairt isteach sa scrúdú.

Caillfidh tú marcanna mura dtaispeánann tú go soiléir an obair riachtanach go léir.

Is féidir go gcaillfidh tú marcanna mura dtugann tú na haonaid tomhais chuí sna freagraí, de réir mar a oireann.

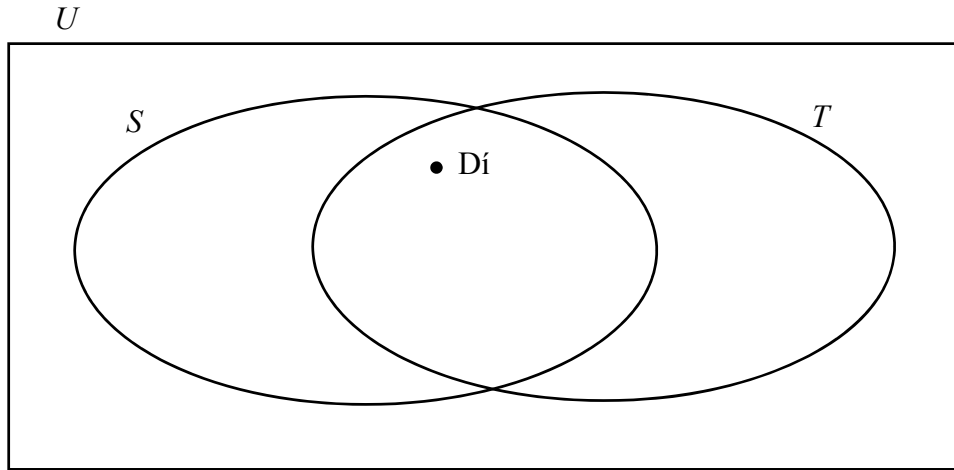
Is féidir go gcaillfidh tú marcanna mura dtugann tú na freagraí san fhoirm is simplí, de réir mar a oireann.

Scríobh déanamh agus múnla d'áireamhá(i)n anseo:

--

Ceist 2**(10 nóiméad an t-uasmhéid ama a mholtar)**Baineann Dí, Máire, Ré, Éimhín agus Fíona go léir úsáid as Snapchat (S).Baineann Dí, Máire, agus Ré úsáid as Twitter (T).

Ní bhaineann Zach úsáid as Snapchat ná as Twitter.

(a) Úsáid an t-eolas sin chun an léaráid Venn thíos a chomhlánú, áit arb é U an t-uilethacar.**(b)** Liostaigh baill gach ceann den dá thacar seo a leanas, áit arb é S' comhlánú an tacair S .

(i) $S \cap T =$

(ii) $S' =$

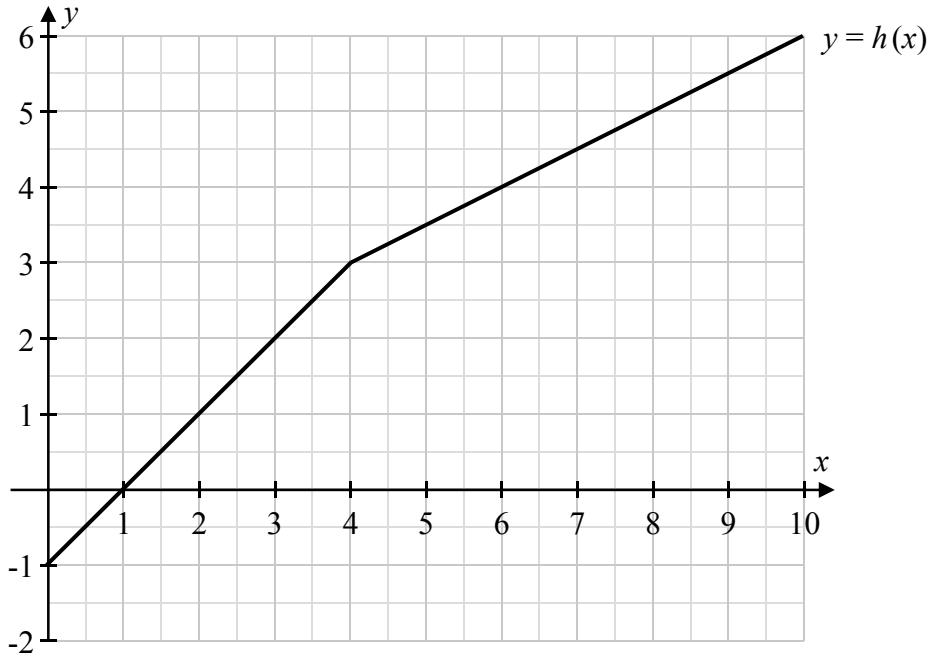
(c) Cuir tic (\checkmark) sa bhosca ceart i ngach líne den tábla thíos, chun a thaispeáint cé acu fíor nó bréagach atá gach ceann de na ráitis.

Ráiteas	Cuir tic le ceann amháin i gcás gach ráiteas	
	Fíor	Bréagach
$\# S = 3$		
$Dí \in T$		
$S \cup T = T \cup S$		
$T \subset S$		
$S \setminus T = \{ \}$		

Ceist 3

(5 nóiméad an t-uasmhéid ama a mholtar)

Taispeántar graf na feidhme $y = h(x)$ ar an ngreille chomhordanáideach thíos. Dhá mhírlíne atá sa ghraf.



(a) Úsáid an graf chun na ceistanna seo a leanas a fhreagairt.

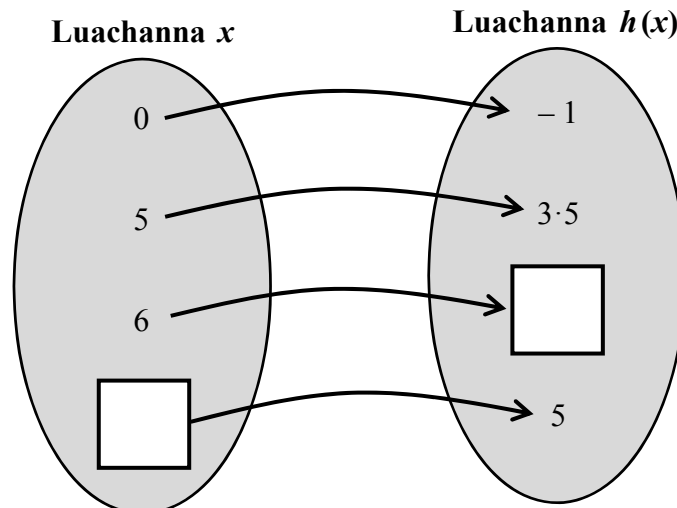
(i) Faigh luach $h(4)$.

$h(4) =$

(ii) Cén uimhir a seasann ☺ di, má tá $h(\text{☺}) = 1$?

$\text{☺} =$

(b) Úsáid an graf thuas chun an dá luach atá in easnamh a líonadh isteach sa tsaigheadléaráid thíos, a thaispeánann luachanna $h(x)$ le haghaidh na luachanna ar x atá tugtha.

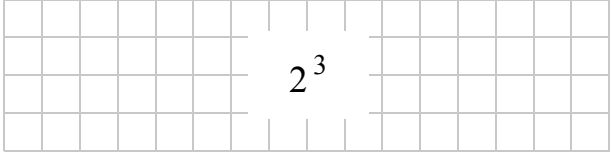

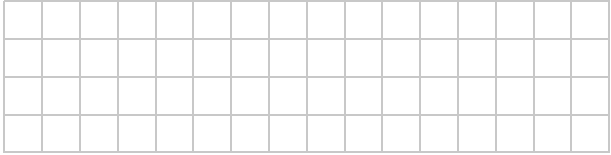





roimhe	ich	reatha
<input type="text"/>	<input type="text"/>	<input type="text"/>

Ceist 11

(5 nóiméad an t-uasmhéid ama a mholtar)

Líon isteach an tábla thíos agus gach slonn á scríobh agat san fhoirm 2^p , áit a mbeidh $p \in \mathbb{N}$.
Tá ceann amháin díobh líonta isteach duit cheana féin.

Slonn	San fhoirm 2^p , áit a bhfuil $p \in \mathbb{N}$
8 =	
32 =	
$2 \times 2 \times 2 \times 2 \times 2 \times 2 =$	
$2^7 \times 2^{10} =$	
$(2^6)^4 =$	



An Teastas Sóisearach, 2016 – Gnáthleibhéal

Matamaitic – Páipéar 1

Dé hAoine, 10 Meitheamh
Tráthnóna, 2:00 go dtí 4:00