



*Scrúdú an Teastais Shóisearaigh, 2012*

***Teicneolaíocht Ábhar (Adhmad)***  
***Gnáthleibhéal***  
***Roinn A (40 Marc)***

***Dé Luain, 18 Meitheamh***  
***Tráthnóna, 2.00 - 4.00***

***Treoracha***

- (a) Freagair sé cheist déag ar bith.***
- (b) Tá na ceisteanna uile ar aon mharc.***
- (c) Freagair na ceisteanna sna spásanna atá ann dóibh.***
- (d) Ní mór an leabhrán seo a thabhairt ar ais ag deireadh an scrúdaithe.***
- (e) Scríobh do scrúduimhir sa bhosca atá ann di agus ar gach bileog eile a úsáidtear.***

***Scrúduimhir:***

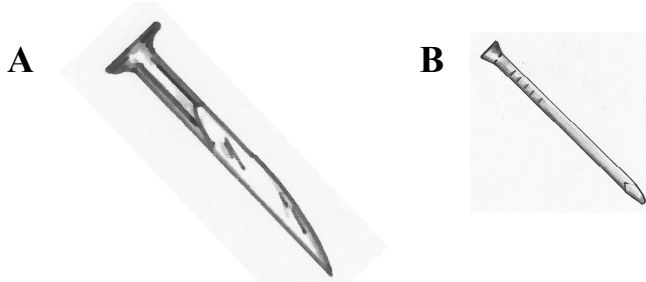
Uimhir an Ionaid

Roinn A	
1	
2	
3	
4	
5(a) nó 5(b)	
<b>Móriomlán</b>	

## ROINN A - 40 MARC

Freagair 16 cheist ar bith as an Roinn seo.  
Tá na ceisteanna uile ar aon mharc.

1. As an liosta a thugtar, roghnaigh an t-ainm ceart ar na tairní a thaispeántar.



Sreangthairne cruinn  
Stápla  
Pionna painéil  
Tairne rocach  
Tacóid ghearrtha

TAIRNE A

TAIRNE B

2. Ainmnigh an uirlis lipéadaithe **A** agus mínigh cad chuige a n-úsáidfeá í.

AINM

ÚSÁID

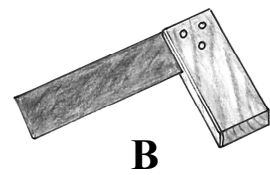
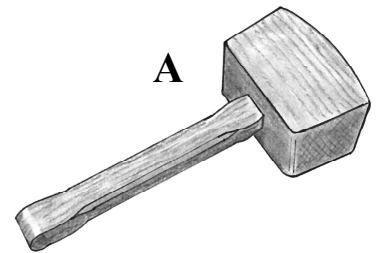
  

NÓ

Ainmnigh an uirlis lipéadaithe **B** agus mínigh cad chuige a n-úsáidfeá í.

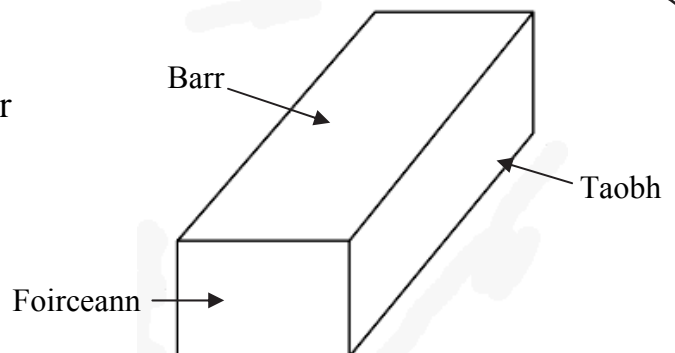
AINM

ÚSÁID

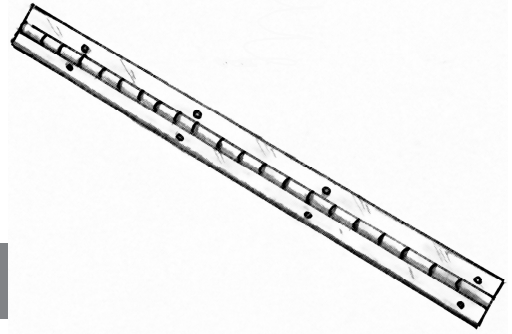
  


3. Sa léaráid taispeántar bloc atá le scáthú chun go bhféachfaidh sé mar phíosa adhmaid.

Tarraing patrún an tsnáithe ar gach ceann de na trí dhromchla.



4. Ainmnigh an feiste a thaispeántar agus mínigh cad chuige a n-úsáidfeá é.




AINM

ÚSÁID

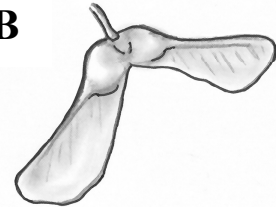
5. Sna léaráidí **A** agus **B** taispeántar na síolta ó dhá chrann atá coitianta in Éirinn. Roghnaigh an t-ainm ceart ar an dá chrann as an liosta a thugtar.

**A**



**Péine  
Dair  
Seiceamar  
Fuinseog  
Cuileann**

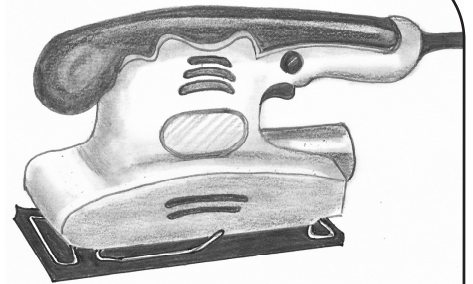
**B**



CRANN A

CRANN B

6. Ainmnigh an uirlis chumhachta a thaispeántar sa léaráid.



AINM

7. Liostaigh **dhá** réamhchúram sábháilteachta ba chóir a leanúint nuair a bhíonn vearnais á cur ar bhall troscáin.


1.

2.



8. Sa léaráid taispeántar clár leathan a bhfuil ciumhaiseanna smiota air tar éis gur plánáladh an snáithe cinn.


Conas is féidir é seo a sheachaint?



**FREAGRA**


9. Sa léaráid de thrasghearradh de chrann taispeántar a chodanna difriúla, a choirt san áireamh.

Tabhair feidhm amháin atá ag coirt crainn.



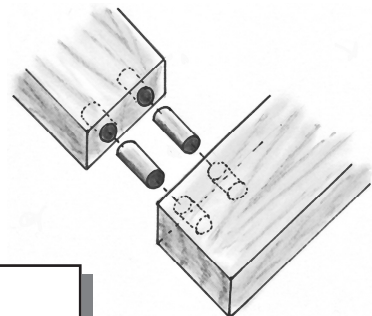
**FEIDHM**

--

10. Taispeáin le tic (✓) cad a tharlóidh do na miotail seo a leanas má éiríonn siad fliuch.

	Tiocfaidh meirg air	Ní thiocfaidh meirg air
Iarann		
Sinc		
Airgead		
Copar		
Cruach Bhog		

11. Ainmnigh an t-alt a thaispeántar sa léaráid.

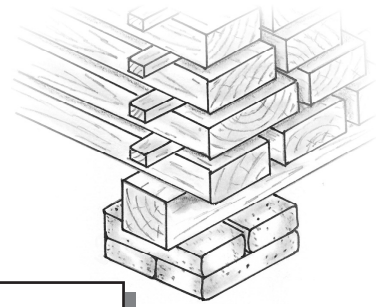


**AINM**

--

12. Sa léaráid taispeántar adhmaid atá á aerstáilú.

Tabhair cúis amháin a bhfuil an t-adhmaid ardaithe ar bhloic.

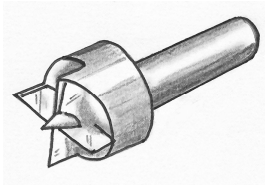


**FREAGRA**

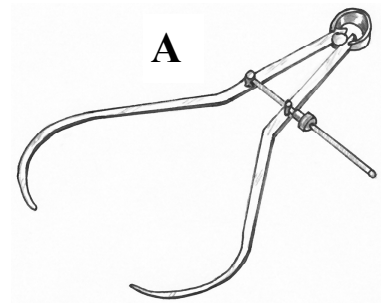
13. Sna léaráidí **A** agus **B** taispeántar dhá rud a úsáidtear i ndeileadh adhmaid. Ón liosta a thugtar, ainmnigh na rudaí.

**B**



**Taca uirlise**  
**Cailpéar**  
**Cúlstoc**  
**Lár Gabhlánach**  
**Pláta Fásála**

**A**



**A**

**B**

14. Úsáidtear adhmaid go coitianta le haghaidh urláir rince i gclubanna oíche agus in óstáin.

Luaigh airí tábhachtach **amháin** atá ag adhmaid a dhéanann oiriúnach don úsáid seo é.



**AIRÍ**

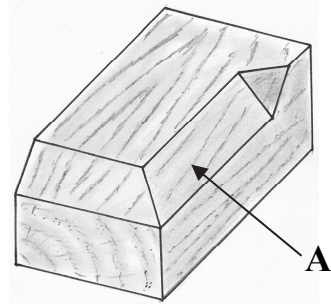
15. Sa léaráid taispeántar **Dual** adhmaid.

Tabhair cúis amháin a bhfuil eitrí feadh fhad an dual.



**CÚIS**

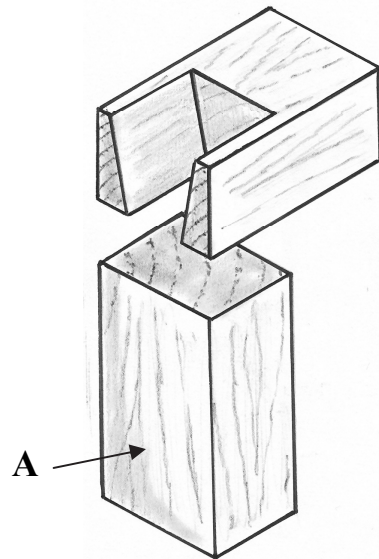
16. Ainmnigh an mhúnláil a thaispeántar ag A sa léaráid.



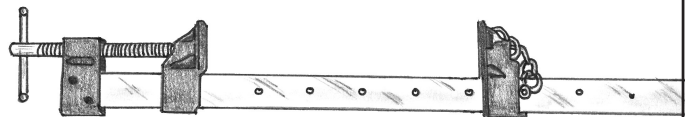
AINM

17. Sa léaráid taispeántar **Déadalt** neamhchríochnaíthe.

Críochnaigh an léaráid agus an mharcáil amach ar chuid A á tarraingt agat.



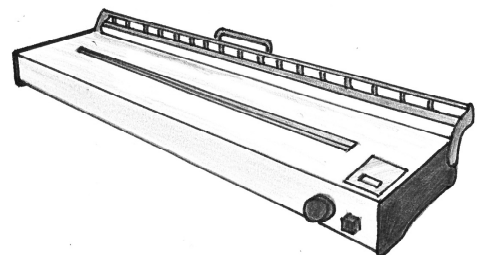
18. Cad chuige a n-úsáidtear saischrampa de ghnáth?



ÚSÁID

19. Sa léaráid taispeántar stialltéitheoir.

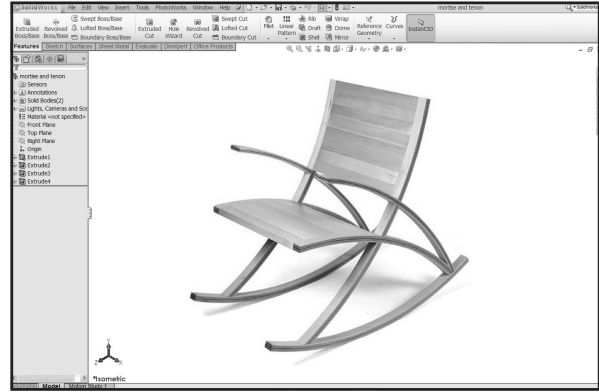
Cad chuige a n-úsáidtear stialltéitheoirí de ghnáth?



ÚSÁID

20. Úsáidtear ríomhchláir go coitianta chun rudaí adhmaid a shamhaltú sula ndéantar iad.

Tabhair cúis **amháin** leis seo.



CÚIS

Ní mór an leabhrán seo a thabhairt ar ais ag deireadh an scrúdaithe.

# Leathanach Bán