



*Scrúdú an Teastais Shóisearaigh, 2017*

# *Teicneolaíocht Ábhar (Adhmad)*

## *Ardleibhéal*

### *Roinn B (60 marc)*

*Dé Luain, 19 Meitheamh*

*Tráthnóna, 2:00 - 4:00*

### **Treoracha**

- (a) *Freagair trí cheist. Tá na ceisteanna uile ar aon mharc.*
- (b) *Is féidir leat ceist 5A nó ceist 5B a fhreagairt ach ná freagair an dá cheann.*
- (c) *Nuair is gá sceitsí, ba choir iad a dhéanamh go saorlámhach.*
- (d) *Scríobh do scrúduimhir ar do fhreagarleabhar agus ar gach bileog eile a úsáidtear.*
- (e) *Ní mór Ceist 1 sa Roinn seo a fhreagairt ar pháipéar líníochta. Ba chóir gach freagra scríofa eile a thabhairt ar an bhfreagarleabhar atá curtha ar fáil.*

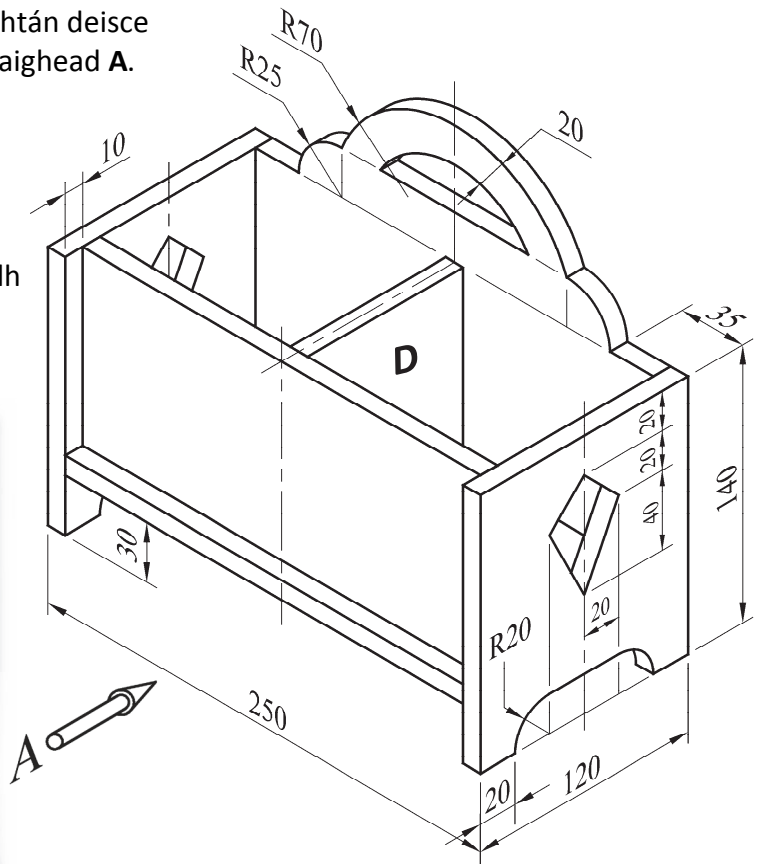
1. Taispeánann an léaráid Slachtán Deisce a bhfuil feidhm nuálach féilire ann.

(i) Tarraing **ingearchló tosaigh** den slachtán deisce ina lánmhéid sa treo ina bhfuil an tsaighead **A**.

(ii) Teilg **taobhchló**.

**Nóta:** Breac isteach sonraí folaithe.

(iii) Agus nótaí agus **sceitsí néata saorlámhe** á n-úsáid agat, mol modh oiriúnach chun an rannadóir láir **D** a nascadh le héadan an tslachtáin deisce.



Ta gach ábhar 10mm ar tiús.

2. (i) Is dhá chéim i ngnáthphróiseas dearaidh iad **Smaointe/Réitigh Dearaidh** agus **Measúnú**.

Mínigh an **DÁ** chéim seo.

(ii) Déantar coinnle agus taeshoirse in an-chuid foirmeacha agus ar dhathanna éagsúla mar a thaispeántar.

Agus nótaí agus **sceitsí néata saorlámhe** á n-úsáid agat chun do chuid smaointe a chur in iúl, déan aonad adhmaid **ballacrochta** a dhearadh chun **trí** choinneal nó thaesholas, ar a laghad, a chur ar taispeáint.

Ba chóir na coinnle nó na taeshoirse a bheith ar taispeáint ag airdí difriúla.

(iii) Agus nótaí agus **sceitsí néata saorlámhe** á n-úsáid agat, déan cur síos ar conas a mholfá an t-aonad a fheistiú ar an mballa.

(iv) Luaigh riachtanas ar leith, seachas an t-aonad a bheith ballachrochta, nach mór a chur san áireamh i ndearadh an aonaid atá beartaithe agat.

Agus nótaí agus **sceitsí néata saorlámhe** á n-úsáid agat, taispeáin conas a chuir tú an riachtanas seo san áireamh i do dhearadh.




3. (i) Ainmnigh na **CEITHRE** chlár mhonaraithe a bhfuil na lipéid **A, B, C** agus **D** orthu thíos.


**A**




**B**



**C**



**D**

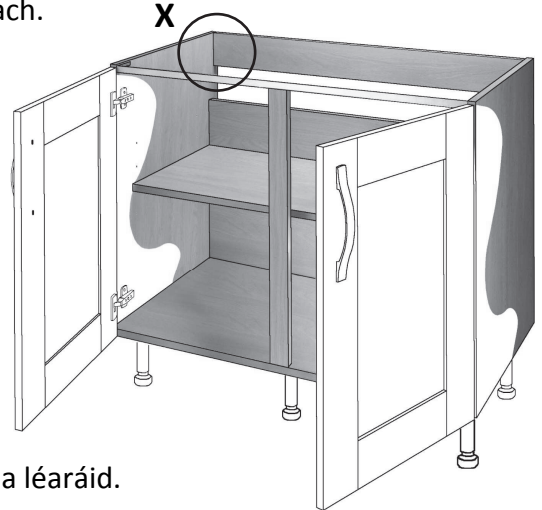


(ii) Tabhair breac-chuntas ar **CHEITHRE** bhuntáiste a bhaineann le cláir mhonaraithe a úsáid in ionad adhdach soladach.

(iii) Agus nótaí agus **sceitsí néata saorlámhe** á n-úsáid agat, déan cur síos mion ar mhonarú chlár **A** thuas.


(iv) Is gnách go mbíonn na modhanna chun cláir mhonaraithe a shiúntú difriúil leis na modhanna traidisiúnta a úsáidtear le hadhdach soladach a shiúntú.

Agus nótaí agus **sceitsí néata saorlámhe** á n-úsáid agat, déan comparáid idir **DHÁ** mhodh dá leithéid chun an clár a bhfuil an lipéad **B** air thuas a shiúntú ar uillinn 90°, mar a thaispeántar ag an gcúinne 'X' sa léaráid.




4. (i) Luaigh an t-ainm ceart ar **gach ceann** de na uirlisí sainiúla a bhfuil na lipéid **A, B** agus **C** orthu thíos.


**A**



**B**




**C**



(ii) Agus nótaí agus **sceitsí néata saorlámhe** á n-úsáid agat, déan cur síos ar conas a dhéanfaí an uirlis a bhfuil an lipéad **A** uirthi a shocrú agus a úsáid.

(iii) Agus nótaí agus **sceitsí néata saorlámhe** á n-úsáid agat, déan cur síos ar conas a dhéanfaí an uirlis a bhfuil an lipéad **B** uirthi a shocrú agus a úsáid.

(iv) Taispeánann an léaráid **Déadalt Cúinne**. Agus nótaí agus **sceitsí néata saorlámhe** á n-úsáid agat, déan cur síos ar conas an fuíollábhar a mharcáil amach, agus a bhaint as an bpíosa **S**.



## 5. Freagair 5A nó 5B

5A. Taispeánann an léaráid cathaoir luasctha adhmaid.

- (i) Tá an luascaire 'R' lannaithe. Agus nótaí agus **sceitsí néata saorláimhe** á n-úsáid agat, déan cur síos mion ar na céimeanna atá i gceist i ndéantús an luascaire seo.
- (ii) Déantar an fhearsaid 'S' ar dheil adhmaid. Agus nótaí agus **sceitsí néata saorláimhe** á n-úsáid agat, déan cur síos mion ar na céimeanna atá i gceist i ndéantús na fearsaide seo as bloc cearnógach adhmaid.
- (iii) Tá an fhearsaid ar an ngéag eile den chathaoir le bheith díreach mar an gcéanna le 'S'. Agus nótaí agus **sceitsí néata saorláimhe** á n-úsáid agat, déan cur síos ar conas a d'fhéadfaí é sin a dhéanamh.
- (iv) Déan cur síos go mion ar na céimeanna atá i gceist in **ullmhú** an adhmaid do bhailchríoch vearnaise agus conas an bhailchríoch a chur ar an gcathaoir.



## NÓ

5B. Tá na cúig chlár ar dheis le gliúáil lena chéile chun bloc mór adhmaid a dhéanamh, atá le dealbhú chun an lacha a snoí mar a thaispeántar thíos.

- (i) Agus nótaí agus **sceitsí néata saorláimhe** á n-úsáid agat, déan cur síos mion ar conas a dhéantar bloc mór as na cláir.
- (ii) Agus nótaí agus **sceitsí néata saorláimhe** á n-úsáid agat, déan cur síos ar conas a dhéantar imlíne na lachan a aistriú ó bhileog pháipéir go bloc adhmaid.
- (iii) Agus nótaí agus **sceitsí néata saorláimhe** á n-úsáid agat, déan cur síos mion ar conas an lacha a snoí as an mbloc adhmaid.
- (iv) Déan cur síos mion ar na céimeanna atá i gceist in **ullmhú** an adhmaid do bhailchríoch agus conas an bhailchríoch a chur ar an lacha.

