

Scrúdú an Teastais Shóisearaigh, 2002.**Teicneolaíocht Ábhar (Adhmad).**

738

Dé Luain 17 Meitheamh - Maidin 9.30 - 11.30

Roinn A - Ardleibhéal
40 marc

Uimhir Scrúdaithe.

TREORACHA

1. Freagair 16 cheist ar bith ón roinn seo. Tá na ceisteanna uile ar aon mharc.
2. Freagair na ceisteanna sna spásanna atá ann dóibh.
3. Bí cinnte go scríobhann tú d'uimhir scrúdaithe sa spás atá ann di agus ar gach bileog eile a úsáideann tú.
4. Cuir ar ais an leabhrán seo i ndeireadh an scrúdaithe.

DON SCRÚDAITHEOIR AMHÁIN	
ROINN A- IOMLÁN	
1.	
2.	
3.	
4(a)nó (b).	
5.	
Móriomlán.	

Uimhir an Ionaid.

**NÍ MÓR AN LEABHRÁN SEO A
THABHAIRT AR AIS**

ROINNA - 40 MARC


Freagair 16 cheist ar bith ón roinn seo.
Tá na ceisteanna uile ar aon mharc.

1. (i) Ainmnigh an uirlis adhmaadóreachta a thaispeántar sa léaráid.

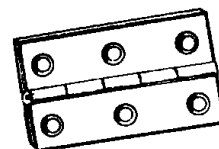
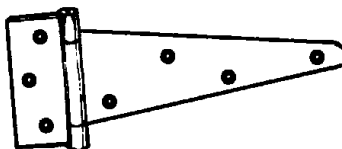
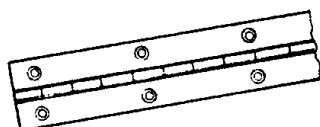
FREAGRA

- (ii) Cén fheidhm atá leis an uirlis seo?

FEIDHM

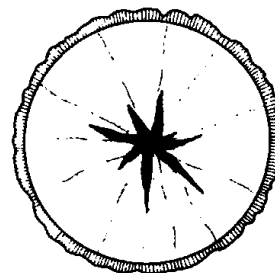


2. Taispeánann na léaráidí thíos trí shórt inse éagsúla. Sna spásanna a chuirtear ar fáil, ainmnigh **DHÁ** cheann ar bith de na hinsí.

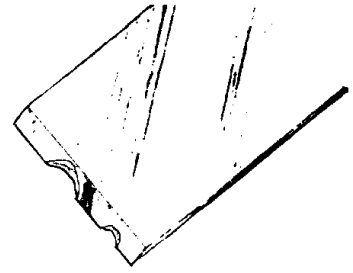


3. Ainmnigh an fabht adhmaid a thaispeántar sa léaráid.

FREAGRA



4. Taispeántar na céimeanna atá i gceist agus faobhar á chur ar siséal a bhfuil drochbhail air. Cuir san ord ceart iad.

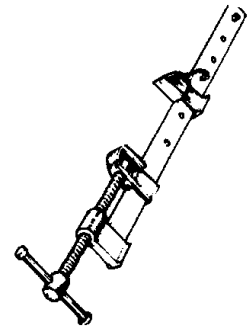


MÍNMEILT	1.
AN BURRA A BHAINTE DE	2.
MEILT	3.

5. (i) Taispeánann an léaráid uirlis le hadhmad a choinneáil.

Cad é an t-ainm ceart don uirlis seo?

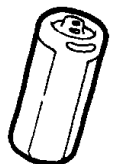
AINM



- (ii) Cén fheidhm a bhaintear as an uirlis seo?

FEIDHM

6. Tá dhá shórt shrutha leictreach ann, sruth ailtéarnach (AC) agus sruth díreach (DC). Cén sórt srutha a thagann ó bhataire?



FREAGRA

7. Taispeánann na léaráidí seo na duilleoga agus na torthaí ó thrí chrann atá coitianta in Éirinn. Ainmnigh **DHÁ** cheann ar bith de na crainn sna spásanna a chuirtear ar fáil.





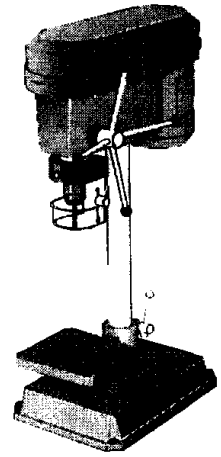


8. Taispeánann an léaráid meaisín druileála.

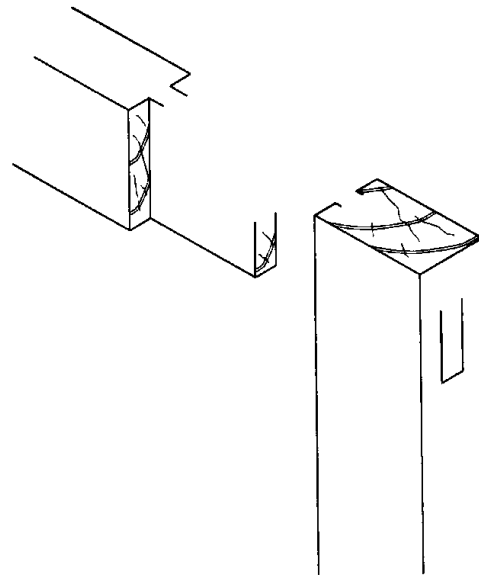
Luaigh **DHÁ** réamhchúram sábháilteachta is gá a choimeád agus an meaisín seo á úsáid.

1

2



9. Críochnaigh an sceitse le alt corrógach moirtíse agus tionúir a thaispeáint.



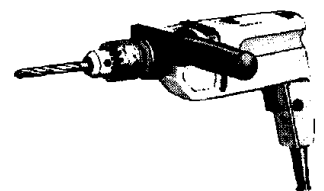
10. Taispeánann an léaráid cuid de mheicníocht ghair ó dhruilire leictreach lámhe.

(i) Rothlaíonn an roth gear A sa treo a thaispeántar. Cé acu saighead, X nó Y, a thaispeánann treo rothlaithe an roth gear B?

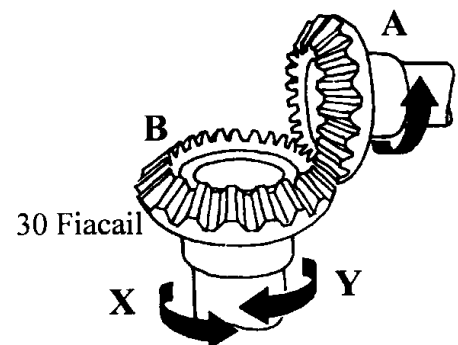
FREAGRA

(ii) Má rothlaíonn A ar 24 rothlú sa nóiméad, cén luas rothlaithe atá faoi roth gear B?

FREAGRA



20 Fiacail



11. Sna spásanna a chuirtear ar fáil luaigh, do gach ceann de na miotail seo leanas, cé acu *Feiriúil* nó *Neamhfheiriúil* iad.

IARANN TEILGTHE

PRÁS

COPAR


LUAIDHE

12. Taispeánann an léaráid dréimire taca agus meáchan ag brú air.

Cad is ainm don bhfórsa atá ag gníomhú ar an ráille A?

FREAGRA

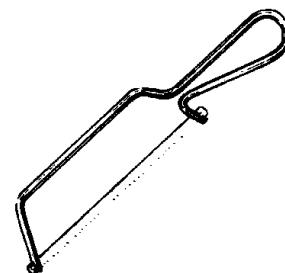
--



13. (i) Ainmnigh an uirlis mhiotalóireachta a thaispeántar sa léaráid.

FREAGRA

--




(ii) Cén sort ábhair a ghearrtar leis an uirlis seo de ghnáth?

FREAGRA

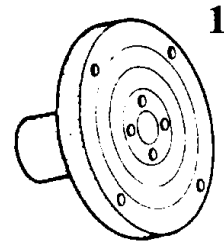
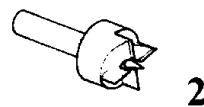

--

14. Baintear úsáid as **CAD** go forleathan i ndearadh troscáin. Luaigh buntáiste amháin a bhaineann le húsáid CAD.

BUNTÁISTE



15. Ainmnigh an **DÁ** pháirt den deil a thaispeántar sna sceitsí.




16. Taispeánann na léaráidí roinnt rudaí a d'fhéadfadh a dhéanamh ó chineálacha éagsúla plaistigh.

Cuir le céile gach rud sa liosta leis an bplaisteach is cuí chun é a dhéanamh.

NÍOLÓN

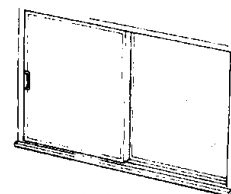
uPVC

POILEISTERIN LEATA



CUPÁN

ROTH GIAIR



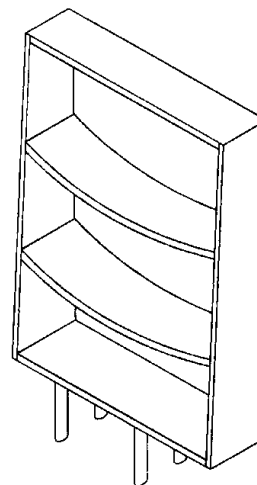

FUINNEOG

17. Taispeánann an léaráid sraith seilfeanna leabhar. Aithnigh locht **AMHÁIN** i ndearadh na seilfeanna agus déan cur síos ar slí amháin chun é a réiteach.

LOCHT

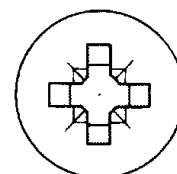


RÉITEACH



18. (i) Ainmnigh an sliotán scriú a thaispeántar sa léaráid.

FREAGRA

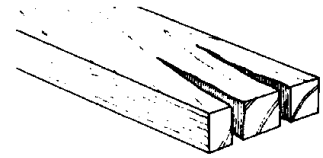


(ii) Luaigh buntáiste amháin atá ag an gcineál seo sliotáin.

BUNTÁISTE



19. Le linn stálaithe, scoilteadh an tsnáithe cinn de phársa adhmaid.



Mól módh amháin chun é seo a chosc.

MÓDH

20. Bíonn na corra gearrtha ar shlischlár garbh agus gránna.



Sna spásanna a chuirtear ar fáil, déan cur síos ar, agus sceitseáil, módh amháin a chuirfeadh cuma níos deise ar chorr an chláir.

CUR SÍOS

SCEITSE

--

Ní mór an leabhrán seo a thabhairt ar ais ag deireadh an scrúdaithe.

Leathanach Bán

Scrúdú an Teastais Shóisearaigh, 2002.

Teicneolaíocht Ábhar (Adhmad).

1468

Dé Luain 17 Meitheamh - Maidin 9.30 - 11.30

**Roinn B - Ardleibhéal
60 marc**

TREORACHA

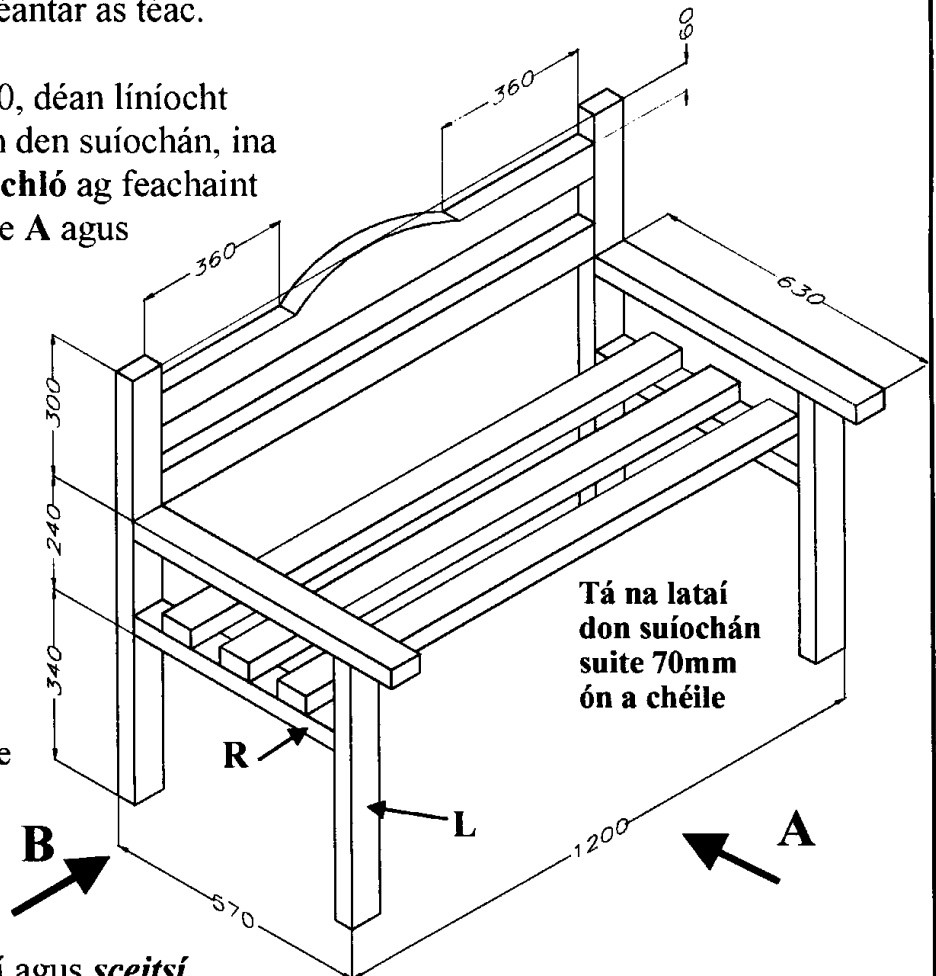
1. Freagair 3 cheist ar bith ón roinn seo. Tá na ceisteanna uile ar aon mharc.
2. Áit a bhfuil gá le sceitsí, is cóir iad a dhéanamh saor lámhach nó ar pháipéar greille.
3. Bí cinnte go scríobhann tú d'uimhir scrúdaithe ar an bhfreagar leabhair agus ar gach bilcog eile a úsáideann tú.

1. Taispeánann an léaráid líníocht isiméadrach, le toisí, de shuíochán garraí a dhéantar as téac.

- (i) De réir scála 1:10, déan líníocht oibre ortagrafach den suíochán, ina mbeidh **aghaidhchló** ag feachaint i dtreo na saighde **A** agus **taobhchló** ag féachaint i dtreo na saighde **B** ann.


Ní mór **CEITHRE** príomhthoisí a cuir isteach.

(Tá an t-ábhar uile 70mm x 40mm)



- (ii) Le cúnamh nótaí agus **sceitsí néata saorláimhe**, déan cur síos ar mhodh oiriúnach leis an gcos **L** a shiúntú leis an ráille **R**.

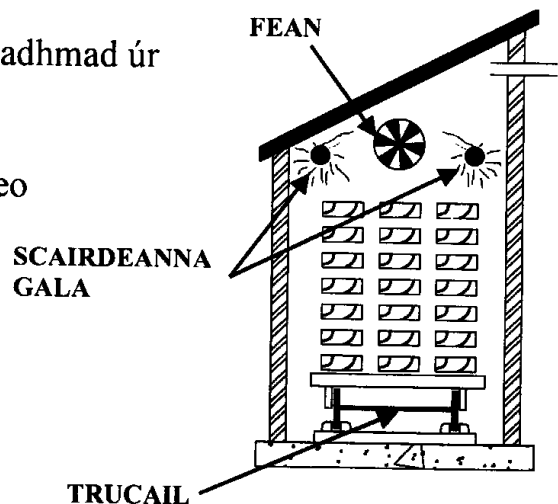
2. (i) Is dhá chéim thábhachtach iad **FIOSRÚ** agus **MEASÚNÚ** i bpróiseas an dearaidh. Cad é an brí atá le gach téarma acu agus cén tábhacht atá leo i bpróiseas an dearaidh.



- (ii) Taispeánann an léaráid leabhar teileafóin, teileafón agus bloc páipéir le peann luaidhe. Le cabhair nótaí agus *sceitsí néata saorláimhe* chun do thuairimí a chur in iúl, mol aonad a bhféadfaí a chur ar bhalla leis na rudaí seo a choinneáil. Sa dhearadh a mholann tú, ba chóir go mbeadh sé indéanta scríobh ar an mbloc pháipéir agus an teileafóin in úsáid.
- (iii) Luaigh **DHÁ** ghné thábhachtach ar chóir a chur san áireamh agus aonad mar seo á dhearadh. Taispeáin go soiléir an chaoi ar dhéileáil tú leis na gnéithe seo sa dhearadh agat.

3. Taispeánann an léaráid modh amháin le adhmaid úr a thriomú.

- (i) Cad é an t-ainm ceart don mhodh seo le hadhmaid a thriomú?
- (ii) Cad iad feidhmeanna na bpáirteanna a bhfuil lipéidí **fean**, **scairdeanna gala** agus **trucail** orthu sa léaráid?
- (iii) Ainmnigh modh stálaithe amháin eile atá ar eolas agat. Luaigh **DHÁ** bhuntáiste agus **DHÁ** mhíbhuntáiste a bhaineann leis an modh stálaithe seo.
- (iv) Is achmhainn nádúrtha luachmhar í na foraoiseacha báistí. Luaigh **DHÁ** chúis ar chóir na foraoiseacha báistí a chaomhnú. Déan cur síos ar **DHÁ** mhodh le húsáid na gcrua-adhmaid a laghdú.



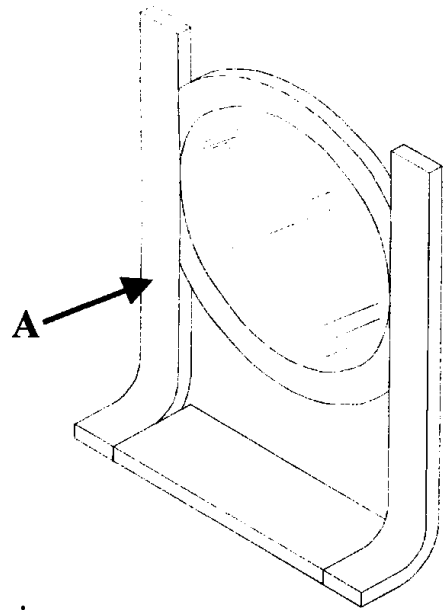
4. Freagair A nó B.

A Taispeánann an léaráid scáthán le taobhanna **lannacha** feá.

(i) Le cúnamh nótaí agus **sceitsí néata saorláimhe**, déan cur síos ar conas is féidir an taobh lannach **A** a fhoirmiú.

(ii) Mol bailchríoch oiriúnach don fhráma. Le cúnamh nótaí agus **sceitsí néata saorláimhe**, déan cur síos ar conas a dhéanfá an dromchla a **ullmhú** leis an mbailchríoch atá roghnaithe agat a **chur** air.

(iii) Cuirtear ruaimanna adhmaid go minic ar lámhdhéantúsáin adhmaid sula gcuirtear bailchríoch orthu. Luaigh **DHÁ** chúis le ruaim a úsáid.



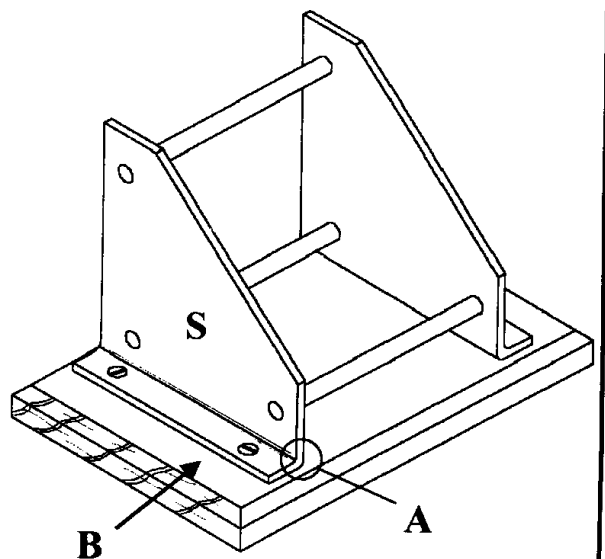
NÓ

B Taispeánann an léaráid coimeádán CD le taobhanna aicrileacha agus le bonn mahagaine.

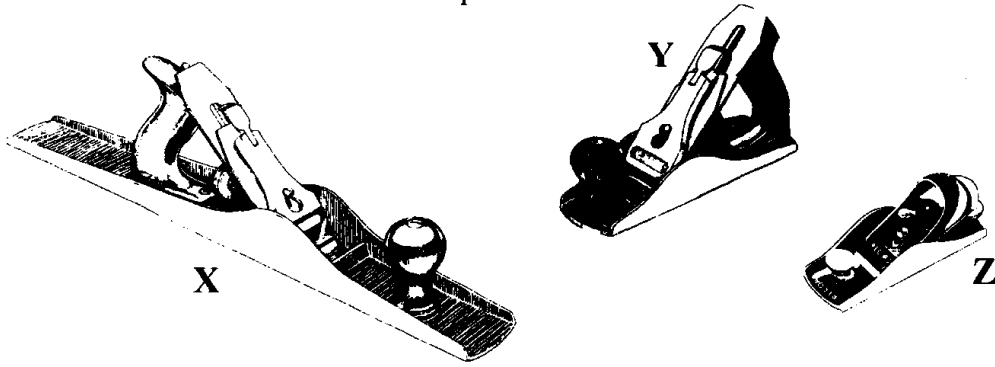
(i) Le cúnamh nótaí agus **sceitsí néata saorláimhe**, déan cur síos ar an gcaoi a dhéanfá an uillinn 90° ag **A**.

(ii) Tá na taobhanna le ceangal don bhonn **crua-adhmad** le scriúnna **leacaithe**. Déan cur síos, ag baint úsáide as nótaí agus **sceitsí néata saorláimhe**, ar an gcaoi a dhéanfá an bonn **B** agus an taobh **S** a ullmhú i gcomhair na scriúnna.

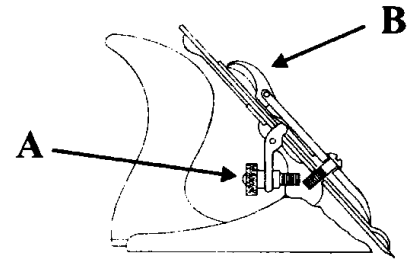
(iii) Is cuid den aicme ábhair **THEIRMEAPLAISTEACHA** an t-aicrealach. Minigh cad iad na hábhair theirmeaplaisteacha agus luaigh an difríocht idir iad agus na hábhair **theirmithéachtacha**.



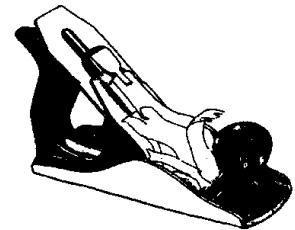
5. (i) Taispeánann na léaráidí trí chineál phlána éagsúla. Ainmnigh **DHÁ** **CHEANN AR BITH** de na plánaí.



- (ii) Taispeánann an léaráid ar dhisís an chóimeáil ghearrtha de phlána. Ainmnigh na páirteanna a bhfuil na lipéidí **A** agus **B** orthu agus luaigh an fheidhm atá leo.



- (iii) Tá béal an phlána a thaispeántar sa léaráid tachta. Luaigh **DHÁ** shlí inar féidir rud mar seo a tharlú agus déan cur síos ar cad ba chóir a dhéanamh le féachaint chuige nach dtarlóidh sé arís.



- (iv) Agus píosa adhmaid a phlánáil buaileann an lann faoi thairne a dhéanann dochar don fhaobhar gearrtha. Déan cur síos, ag baint úsáide as nótaí agus **sceitsí néata saorláimhe**, ar an gcaoi a gcuirfeá faobhar gearrtha géar ar an lann arís.