



Scrúdú an Teastais Shóisearaigh 2006

Teicneolaíocht Ábhar - Adhmad
Ardleibhéal
Roinn A (40 Marc)

Dé Luain 19 Meitheamh
Tráthnóna, 2.00 - 4.00

Treoracha

- (a) Freagair 16 cheist ar bith.*
- (b) Tá na ceisteanna uile ar aon mharc.*
- (c) Freagair na ceisteanna sna spásanna atá ann dóibh.*
- (d) Cuir ar ais an leabhrán seo i ndeireadh an scrúdaithe.*
- (e) Scríobh do scrúduimhir sa spás atá ann di ar gach bileog a úsáidtear.*

Scrúduimhir:

Uimhir an Ionaid	

Roinn A	
1	
2	
3	
4(a) nó 4(b)	
5	
Móriomlán	

ROINN A - 40 MARC

Freagair 16 cheist ar bith ón roinn seo. Tá na ceisteanna uile ar aon mharc.

1. (i) Ainmnigh an uirlis chumhachta a thaispeántar sa léaráid.

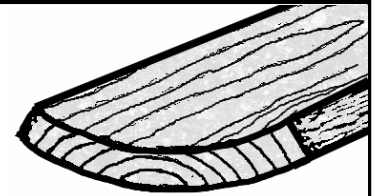
FREAGRA



- (ii) Luaigh feidhm **AMHÁIN** a bhaintear as an uirlis seo.

FEIDHM

2. Taispeánann an léaráid clár adhmaid a bhfuil díchumadh air feadh a leithid.



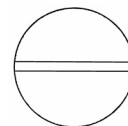
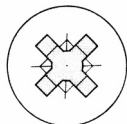
- (i) Cén t-ainm coitianta a thugtar ar dhíchumadh mar sin?

FREAGRA

- (ii) Cad is cúis le díchumadh i gclár mar seo?

FREAGRA

3. (i) Sna spásanna a thugtar, ainmnigh an dá shliotán scriú a thaispeántar sna léaráidí.



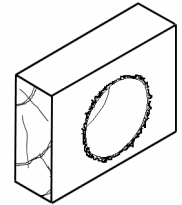
A

B

- (ii) Luaigh buntáiste **AMHÁIN** atá ag an sliotán **A** thar an sliotán **B**.

FREAGRA

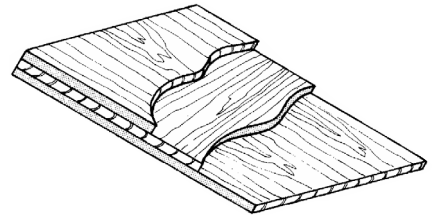
4. Tar éis poll a tholladh sa phíosa adhmaid a léirítear sa léaráid fágadh corra garbha spiacánacha ann.



Mol modh amháin a d'fhéadfaí a úsáid chun cosc a chur leis sin.

FREAGRA

5. (i) Ainmnigh an clár monaraithe a thaispeántar sa léaráid.



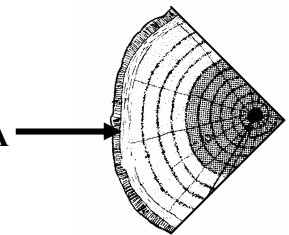
FREAGRA

- (ii) Luaigh buntáiste **AMHÁIN** a bhaineann le clár monaraithe mar sin.

BUNTÁISTE

6. Is é an **BASTA** an tsraith thanaí de chealla a bhíonn suite faoi choirt crainn.

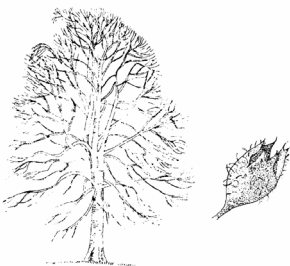
BASTA




Cén fheidhm atá leis an mbasta?

FEIDHM

7. Taispeánann na léaráidí scáthphictiúir agus síolta trí chrann choitianta Éireannacha. Ainmnigh na crainn sna spásanna a thugtar.



A



B



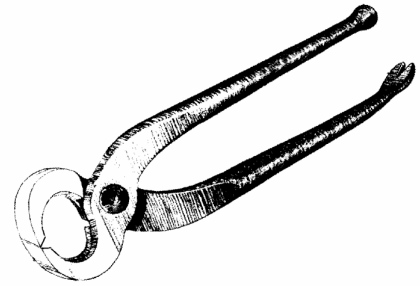
C

8. (i) Ainmnigh an uirlis adhmaadóireachta a thaispeántar sa léaráid.

FREAGRA

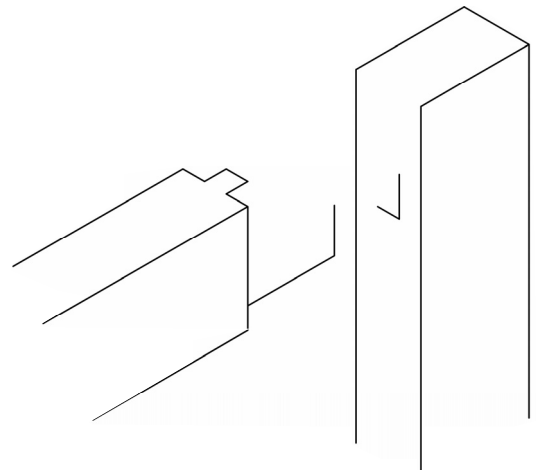
- (ii) Cén fheidhm atá leis an uirlis seo?

FEIDHM



9. Taispeánann an léaráid sceitse neamhiomlán isiméadrach scartha d'alt corrógach moirtíse agus tionúir.

Críochnaigh an sceitse den alt seo.




10. (i) Ainmnigh an mheicníocht ghiair a thaispeántar sa léaráid.

FREAGRA

- (ii) Ainmnigh meaisín adhmaadóireachta ina mbaintear úsáid as meicníocht mar seo.

FREAGRA



11. Baintear úsáid fhorleathan as **CAM** sa tionscal táirgthe troscáin. Cad dó a seasann gach ceann de na litreacha sa ghiorrúchán **CAM**?

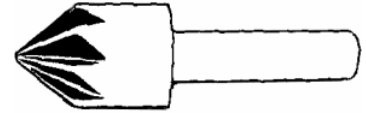
C

A

M

12. (i) Ainmnigh an uirlis a thaispeántar sa léaráid.

FREAGRA



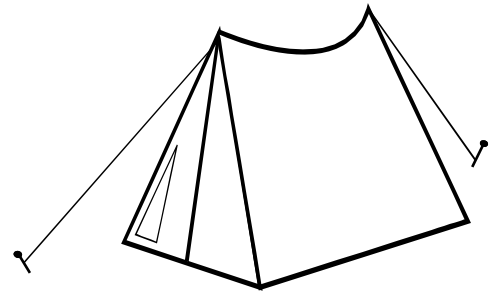
(ii) Cén fheidhm atá leis an uirlis seo?

FEIDHM

13. Taispeánann an léaráid puball agus é daingnithe ar an talamh le rópaí.

Cad é ainm ceart an fhórsa atá ag gníomhú ar na rópaí?

FREAGRA



14. Taispeánann na léaráidí roinnt rudaí a dhéantar as plaistigh.

Meitseáil gach ceann de na rudaí a thaispeántar leis an bplaisteach is oiriúnaí chun é a dhéanamh.

**PLAISTEACH GLOINE THREISITHE
POLAIVINILCLÓIRÍD
NÍOLÓN**




15. (i) Ainmnigh an uirlis a thaispeántar sa léaráid.

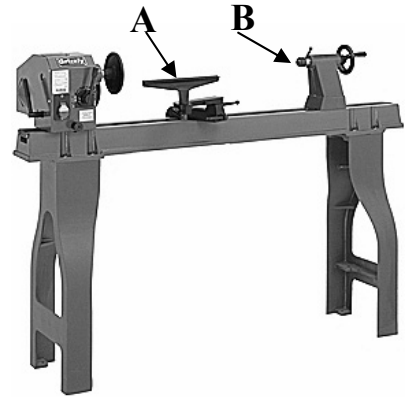
FREAGRA

(ii) Luaigh úsáid chuí don uirlis seo.

FREAGRA



16. (i) Ainmnigh na páirteanna den deil adhmaadóireachta a bhfuil na lipéid **A** agus **B** orthu sa léaráid.



A

B

- (ii) Luaigh feidhm **AMHÁIN** le gach ceann den dá pháirt **A** agus **B**.

FEIDHM A

FEIDHM A

17. Taispeánann an léaráid bosca seodra a bhfuil veinír air.



- (i) Mol greamachán cúí leis an veinír a ghreamú air.

GREAMACHÁN

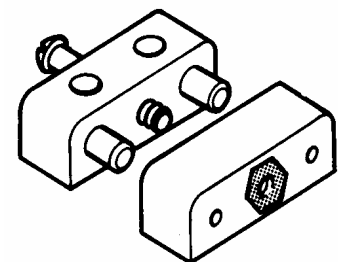
- (ii) Tabhair cúis **AMHÁIN** leis an ngreamachán sin a roghnú.

CÚIS

18. Taispeántar feistiú coitianta adhmaadóireachta sa léaráid.

- (i) Ainmnigh an feistiú.

FREAGRA



- (ii) Luaigh buntáiste amháin a bhaineann le feistiú mar seo a úsáid.

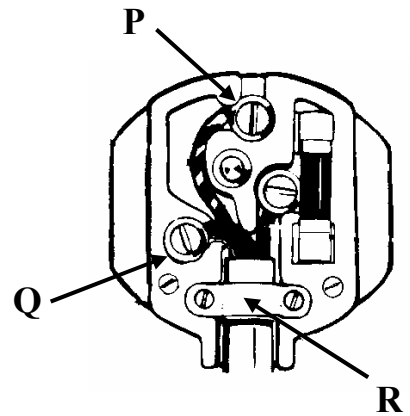
BUNTÁISTE

19. Taispeánann an léaráid barr plocóide.

- (i) Ainmnigh na teirminéil phlocóide atá marcáilte le P agus le Q.

P

Q

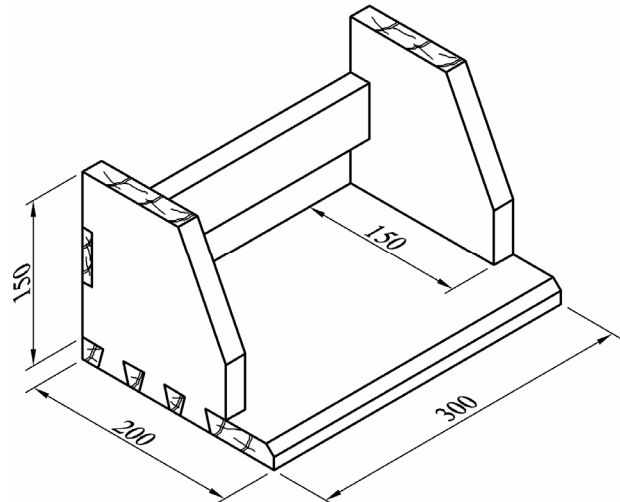


- (ii) Cén fheidhm atá leis an gcomhbhall atá marcáilte le R?

FEIDHM

20. Taispeánann an léaráid raca leabhar do bharr deisce.

Críochnaigh an liosta gearrthacha don raca leabhar. (Tá an t-ábhar uile 20 mm ar tiús.)



Cur Síos	Uimhir	F	L	T
Bonn	1	300		20
Sleasa			150	20
Ráille	1		50	

Cuir ar ais an leabhrán seo i ndeireadh an scrúdaithe.

**LEATHANACH
BÁN**