

SCRÚDUIMHIR

Móriomlán
na Marcanna



Coimisiún na Scrúduithe Stáit

SCRÚDÚ AN TEASTAIS SHÓISEARAIGH, 2017

EACNAMAÍOCHT BHAILE

GNÁTHLEIBHÉAL

DÉARDAOIN 15 MEITHEAMH – MAIDIN 9.30– 11.30

Iomlán na Marcanna 240

TREORACHA d'IARRTHÓIRÍ

- ROINN A - 80 marc.
Freagair 16 (sé cinn déag) de na ceisteanna as Roinn A.
Tá na ceisteanna uile ar aon mharc.
- ROINN B - 160 marc.
Freagair 4 (ceithre) cheist as Roinn B.
Tá na ceisteanna uile ar aon mharc.
- Scríobh frearaí na ceisteanna sa spás atá ann dóibh.*

STAMPA AN IONAIID

Don scrúdaitheoir amháin

CEIST	MARC
Roinn A (Iomlán)	
Roinn B 1	
2	
3	
4	
5	
6	
IOMLÁN →	
GRÁD →	

1. Suim na n-iomlán bun leathanaigh	
2. Móriomlán na (g)ceiste(anna) a dícheadaíodh	
3. An marc iomlán a bronnadh (1 líude 2)	
4. Bónas as freagairt trí Ghaeilge (más cuí)	
5. Móriomlán na marcanna má bronnadh bónas as freagairt trí Ghaeilge (3 móide 4)	
Nóta: Caithfidh an marc ar líne 3 (nó líne 5 má bronnadh bónas as freagairt trí Ghaeilge) a bheith mar an gcéanna leis an marc sa bhosca Móriomlán na Marcanna thuas.	

ROINN A

80 marc

Freagair 16 (sé cinn déag) de na ceisteanna a leanas. Tá na ceisteanna uile ar aon mharc.

1. Liostaigh **dhá** fhoinse cailciam sa réim bia.

(i) _____

(ii) _____

2. Mol **dhá** shlí leis an méid salainn a ghlactar sa réim bia a laghdú.

(i) _____

(ii) _____

3. Cuir in iúl le tic [✓] cé acu fíor **nó** bréagach atá **gach ceann** de na ráitis seo a leanas.

	Fíor	Bréagach
(i) Is é is bia saoráideach ann bia a próiseáladh.		
(ii) Is é is roux ann meascán de phlúr agus d'uibheacha.		
(iii) Is é is scalladh ann modh tirim cócarála.		

4. Cuir **gach** ceann de na héisc ar an liosta thíos faoin gceanteideal ceart:

ronnach

trosc

portán

leathóg

cloicheáin

lasc geal	lasc olúil	Sliogiasc

5. Liostaigh **trí** athrú a tharlaíonn nuair a dhéantar bia a chócaráil.

(i) _____

(ii) _____

(iii) _____

6. Cén t-eolas a chuireann an tsiombail seo in iúl don tomhaltóir?



7. Cuir tic [✓] leis an ráiteas ceart thíos.

(i) Is asbhaint shaorálach í cáin ioncaim.

(ii) Tugtar pá ar íocaíochtaí seachtainiúla.

(iii) Is é is glanioncam ann an méid iomlán a thuilltear roimh asbhaintí.

8. Mol trí phíosa eolais ba chóir a chur san áireamh nuair a bhíonn litir ghearáin á scríobh agat faoi tháirge lochtach.

(i) _____

(ii) _____

(iii) _____

9. Liostaigh trí shlí inar féidir le teaghlach costas an bhille sheachtainiúil bia atá acu a laghdú.

(i) _____

(ii) _____

(iii) _____

10. Cuir in iúl le tic [✓] cé acu fíor nó bréagach atá gach ceann de na ráitis seo a leanas.

	Fíor	Bréagach
(i) Is é is eipideirm ann ciseal domhain atá le fáil sa chraiceann.		
(ii) Tá sé mídhleathach in Éirinn tobac a chaitheamh sa charr nuair a bhíonn leanaí ann freisin.		
(iii) Is é is déidín ann spás i lár na fiacaile, ina bhfuil na néaróga agus an soláthar fola.		

11. Ainmnigh **dhá** fheidhm atá ag an teaghlach.

(i) _____

(ii) _____

12. Tabhair sampla de conas is féidir le déagóir a bheith mar eiseamláir dhearfach do leanáí óga.

13. Ainmnigh **trí** shlí díobhálacha a dtéann an ghrian i bhfeidhm ar rudaí.

(i) _____

(ii) _____

(iii) _____

14. Cén t-eolas a chuireann an tsiombail seo in iúl don tomhaltóir?



15. Ainmnigh **ceithre** phíosa de threalamh glantacháin tí.

(i) _____ (ii) _____

(iii) _____ (iv) _____

16. Tabhair **dhá** shampla d'fhearas beag leictreach a bhfuil mótar ann.

(i) _____ (ii) _____

17. Cuir in iúl le tic [✓] cé acu fíor **nó** bréagach atá **gach ceann** de na ráitis seo a leanas.

	Fíor	Bréagach
(i) Is é is creimneáil ann greim buan a úsáidtear ar fháithim éadaí.		
(ii) Is sampla í olann de shnáithín saorga (de dhéantús an duine).		
(iii) Bíonn na treoracha níocháin do bhall éadaigh le fáil ar an lipéad cúraim.		

18. Luaigh **trí** thoisc a mbíonn tionchar acu ar an rogha a dhéanaimid nuair a bhímid ag ceannach éadaí.

(i) _____

(ii) _____

(iii) _____


19. Tabhair **dhá** shampla d'oiriúintí faisin a bhfuil tóir orthu ag déagóirí.

(i) _____

(ii) _____

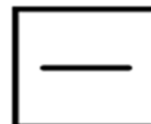
20. Cén t-eolas a thugann **gach** ceann de na siombailí cúram fabraice seo a leanas don tomhaltóir?

(i)



(i) _____

(ii)



(ii) _____

ROINN B 160 marc

Freagair 4 (ceithre) ceist as an roinn seo. Tá na ceisteanna uile ar aon mharc.

1.

Comhdhéanamh Cáis Chéadair

Próitéin	Saill	Carbaihiodráití	Vitimíní	Mianraí	Uisce
27%	33%	0%	1% (A + B)	4% (Cailciam)	35%

(a) Ag baint úsáide duit as an eolas atá tugtha thuas, tabhair **trí** chúis ar chóir cáis a chur san áireamh i réim bia déagóra.

(i) _____

(ii) _____

(iii) _____

(b) Dear biachlár dinnéir **dhá chúrsa** a bhfuil cáis san áireamh ann agus a bheadh oiriúnach do dhéagóir gníomhach.

Biachlár Dinnéir

* * * * *

(c) Tabhair **dhá** shampla de cháis phróiseáilte.

(i) _____ (ii) _____

(d) Ainmnigh **dhá** shlí a dtéann an chócaireacht i bhfeidhm ar cháis.

(i) _____

(ii) _____




2. (a) Liostaigh trí threoirlíne ba chóir a leanúint nuair a bhíonn tú ag bácáil sa bhaile.

(i) _____

(ii) _____

(iii) _____

(b) Mol úsáid a d'fhéadfaí a bhaint as **gach** píosa de threalamh bácála.

TREALAMH BÁCÁLA	Criathar	Scuab thaosráin	Spadal	Croiteoir plúir
ÚSÁID				

(c) Tabhair modh le hoideas do mhionbhrúar torthaí a athrú chun **gach** ceann de na Treoirlínte faoi Bhia Sláintiúil thíos a leanúint.

(i) Saill a Laghdú _____

(ii) Siúcra a Laghdú _____

(iii) Snáithín a Mhéadú _____

(d) Meaitseáil an císte/arán ceart ón liosta thíos le **gach** modh bácála.

císte spúinse

scónaí tae

cístí banríona

Modh Bácála	Císte/Arán
Cuimilt isteach	
Uachtarú	
Greadadh	

3. (a) Cad iad na treoiríníte ba chóir do thomhaltóir a leanúint nuair a bhíonn fón póca á cheannach aige/aici.

(i) _____

(ii) _____

(iii) _____

(b) Ainmnigh **dhá** mhodh chun íoc as an bhfón póca agus mol buntáiste difriúil a bhaineann le **gach** modh a ainmnítear.

Modh Íocaíochta	Buntáiste
(i) _____	(i) _____
(ii) _____	(ii) _____

(c) Mínigh cén fáth a bhfuil sé tábhachtach an admháil a choinneáil mar chruthúnas gur cheannaigh tú an fón póca?

(d) Luaigh **dhá** theicníc a úsáideann siopadóirí chun tomhaltóirí a spreagadh le táirgí a cheannach.

(i) _____

(ii) _____

(e) Roghnaigh an focal ceart as an liosta thíos le **gach** ceann de na habairtí seo a leanas a chríochnú.

bulc-cheannach

féinbhrandaí

sábháilteacht

(i) Is é is _____ ann sampla de cheart tomhaltóirí.

(ii) Is é is _____ ann táirgí níos saoire a dhíoltar faoi ainm an tsiopa/ollmhargaidh.

(iii) Is é is _____ ann táirgí a cheannach ina méideanna móra.

4. (a) Mol **trí** threoirlíne is féidir le déagóir a leanúint le sláinte mheabhrach dhearfach a fhorbairt.

(i) _____

(ii) _____

(iii) _____

(b) Liostaigh **trí** shlí a dtéann strus i bhfeidhm ar dhéagóirí.

(i) _____

(ii) _____

(iii) _____

(c) Ainmnigh **dhá** chineál caitheamh aimsire agus tabhair buntáiste difriúil a bhaineann le **gach** ceann díobh.

Caitheamh aimsire	Buntáiste
(i) _____	(i) _____
(ii) _____	(ii) _____

(d) Roghnaigh an focal ceart as an liosta thíos le **gach** ceann de na habairtí seo a leanas a chríochnú.

féinmheas ard

guais sláinte

andúil san alcól

(i) Is é is _____ ann rud ar bith a dhéanann damáiste do shláinte nó d'fholláine an duine.

(ii) Is déagóir muiníneach é déagóir a mbíonn _____ aige nó aici.

(iii) D'fhéadfadh _____ a bheith ina cúis le galar ae.

(e) Ainmnigh eagraíocht **amháin** a chuidíonn le déagóirí a bhfuil mí-úsáid alcóil ag dul i bhfeidhm orthu.

5. Is foinsí coitianta fuinnimh sa teach iad gás agus leictreachas.

(a) Mol **dhá** úsáid éagsúla a bhaintear as gás agus leictreachas sa teach.

Úsáid gáis sa teach	Úsáid leictreachais sa teach
(i) _____	(i) _____
(ii) _____	(ii) _____

(b) Liostaigh **trí** ghníomh ba chóir a dhéanamh má tharlaíonn sceitheadh gáis sa teach.

- (i) _____
- (ii) _____
- (iii) _____

(c) Luaigh **dhá** riail sábháilteachta ba chóir a leanúint nuair a bhaineann tú úsáid as fearas leictreach.

- (i) _____
- (ii) _____

(d) Meaitseáil **gach** ceann de na focail ar an liosta thíos leis an modh inslithe ceart.

fuinneoga

sorcóir uisce the

áiléar

urlár

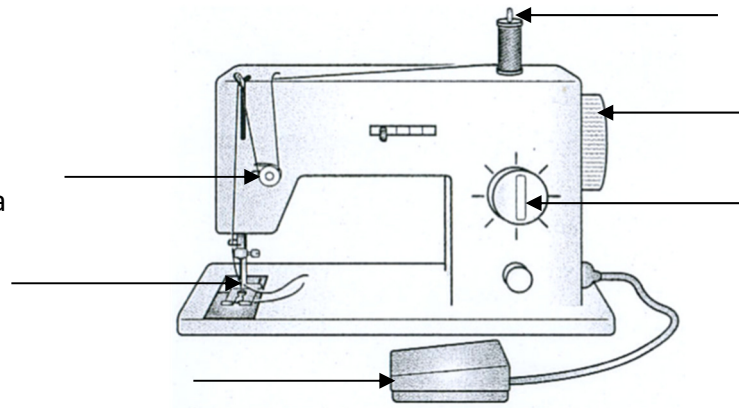
Modh inslithe	
Snáithínghloine	
Seaicéad fálaithe	
Cairpéad	
Gloiniú dúbailte	

(e) Liostaigh **dhá** fhoinse d'fhuinneamh in-athnuaite a d'fhéadfaí a úsáid sa teach.

- (i) _____ (ii) _____

6. (a) Ar an léaráid den inneall fuála, marcáil suíomh **gach** ceann de na páirteanna 1, 2, 3, 4, 5 agus 6.

1. Roth láimhe
2. Snáthaid
3. Troitheán
4. Rialtán fhad an ghreama
5. Sliotán teannais
6. Pionna spóil




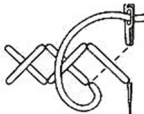
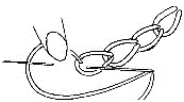
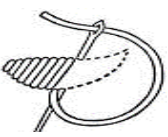
(b) Luaigh cúis dhifriúil a bhféadfadh **gach** ceann de na fabhtanna (lochtanna) seo tarlú nuair a bhíonn inneall fuála in úsáid.

Fabhtanna	Fáth
Greamanna a scipeáil	
Snáthaid a bhriseadh	

(c) Ainmnigh **dhá** ghreim meaisín éagsúla.

- (i) _____
- (ii) _____

(d) Mol úsáid dhifriúil a bhaintear as **gach** ceann de na greamanna bróidnéireachta a leanas.

Greamanna bróidnéireachta	Úsáid
Gasghreim 	
Trasghreim 	
Greim slabhra 	
Greim sróil 	

Leathanach Bán