

SCRÚDUIMHIR 

Iomlán na
Marcanna



Coimisiún na Scrúduithe Stáit

SCRÚDÚ AN TEASTAIS SHÓISEARAIGH 2003

EACNAMAÍOCHT BHAILE

GNÁTHLEIBHÉAL

DÉ hAOINE 13 MEITHEAMH - TRÁTHNÓNA 2.00 – 4.00

Iomlán na Marcanna 240

TREORACHA DO IARRTHÓIRÍ

- Roinn A – 80 marc.
Freagair 16 (sé cinn déag) de na ceisteanna ó Roinn A.
Tá na ceisteanna uile ar aon mharc.
- Roinn B – 160 marc.
Freagair 4 (ceithre) cheist ó Roinn B.
Tá na ceisteanna uile ar aon mharc.
- Freagair na ceisteanna sa spás atá ann dóibh.*

STAMPA AN IONAIID

Don scrúdaitheoir amháin

CEIST	MARC
Roinn A (Iomlán)	
Roinn B 1	
2	
3	
4	
5	
6	
IOMLÁN ➔	
GRÁD ➔	

1. Iomlán na n-iomlán ag deireadh gach leathanaigh.	
2. Iomlán na n-iomlán de gach ceist toirmisce.	
3. Marc iomlán bronnta (1 líude 2)	
4. Bónas do fhreagairt trí Ghaeilge.	
5. Marc iomlán bronnta trí Ghaeilge (3 + 4)	
Nóta: Caithfidh an marc i líne 3 (nó líne 5 má tá bónas don Ghaeilge) a bheith cothram leis an marc sa bhosca Iomlán na Marcanna thuas.	

ROINN A

80 marc

Freagair 16 (sé cinn déag) de na ceisteanna seo a leanas. Tá na ceisteanna uile ar aon mharc.

1. Cuir in iúl le tic [✓] cé acu fíor **nó** bréagach atá **gach ceann** de na ráitis seo a leanas.

	FÍOR	BRÉAGACH
(i) Foinse maith snáithín is ea an fheoil.		
(ii) Is féidir le heaspa cailciam san aiste bia a bheith mar chúis le hosteapórosis.		
(iii) Glaotar scoitheadh air nuair a thugtar bianna tathagacha isteach in aiste bia linbh.		

2. Liostaigh **dhá** fhoinse iarainn san aiste bia.

(i) _____ (ii) _____

3. Mol **trí** úsáid atá ag cáis sa chócaireacht.

(i) _____

(ii) _____

(iii) _____

4. Tabhair **dhá** bhealach le hiontógáil **siúcra** san aiste bia a **laghdú**.

(i) _____

(ii) _____

5. Cad é feidhm an ghníomhaí ardúcháin nuair atá arán dhá dhéanamh?

6. Cad atá i gceist le **tobcheannach**? _____

7. Déan cur síos ar **dhá** bhealach a úsáidtear le haghaidh tomhaltóirí a spreagadh chun breis airgid a chaitheamh.

(i) _____

(ii) _____

8. Liostaigh **ceithre** thoisc ba chóir a chur san áireamh agus fearas leictreach á cheannach agat.

(i) _____

(ii) _____

(iii) _____

(iv) _____

9. Cén t-eolas a chuireann an tsiombail seo in iúl don tomhaltóir?



10. Liostaigh **trí cinn** de na riachtanais bunúsacha daonna.

(i) _____

(ii) _____

(iii) _____

11. Tabhair **trí** riail ba chóir a leanúint chun fiacla a choimeád sláintiúil.

(i) _____

(ii) _____

(iii) _____

12. Cuir in iúl le tic [✓] cé acu fíor **nó** bréagach atá **gach ceann** de na ráitis seo a leanas.

	FÍOR	BRÉAGACH
(i) Is druga é alcól.		
(ii) Substaint andúileach, a gheibhtear i dtoitíní, is ea tarra.		
(iii) Teastaíonn, ar meán, ocht n-uaire a'chloig chodlata san oíche ó dhaoine fásta.		

13. Tabhair **dhá** fheidhm a bhaineann leis an gclann.

(i) _____

(ii) _____

14. Luaigh **dhá** bhuntáiste le soilsiú maith a bheith sa bhaile.

(i) _____

(ii) _____

15. Liostaigh **cúig** cinn de nithe an tí is féidir a athchúrsáil.

(i) _____

(ii) _____

(iii) _____

(iv) _____

(v) _____

16. Tabhair **dhá** mhodh le teach cónaithe a insliú chun cailliúint teasa a chosc.

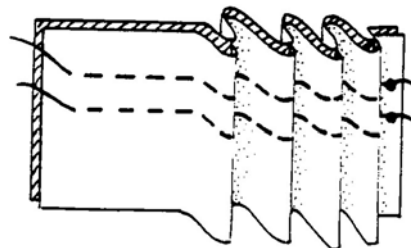
(i) _____

(ii) _____

17. Ainmnigh an greim a thaispeántar sa léaráid agus luaigh an fheidhm atá leis.

Greim _____

Feidhm _____



18. Tabhair **dhá** shampla de chlaontaí faisin atá ann faoi láthair.

(i) _____

(ii) _____

19. Cuir tic [✓] leis an bhfreagra ceart.

Is é is creimneáil ann ná

(i) greim díreach daingean a úsáidtear in ionad inneallfhuála.

(ii) greim sealadach a úsáidtear chun dhá phíosa fabraice a choimeád le chéile.

(iii) greim seasamhach a úsáidtear ar fháithim éadaí.

20. Liostaigh **trí** riail ba chóir a leanúint nuair a bhíonn inneall fuála á úsáid.

(i) _____

(ii) _____

(iii) _____

ROINN B
160 marc

Freagair ceithre cheist ón roinn seo.

1. Tá tóir tagtha ar phasta mar bhia in Éirinn.
Is lipéad ó phaicéad spaghetti atá anseo thíos.

<i>Spaghetti</i>		
<u>Luach Cothaitheach</u>		<u>Treoracha Cócaireachta</u>
As 100g		Fiuch 2 líotar uisce
Fuinneamh	338kcal	Cuir tsp amháin ola cócaireachta leis
Próitéin	12g	Cuir 250g spaghetti leis
Carbaihidráid	72g	Fiuch an t-uisce arís
Saill	2g	Suanbhruith ar feadh 12-15 nóim
Snáithín	5g	Draenáil agus dáil amach
	<u>Comhábhair</u>	
	Cruithneacht Durum	
	Uisce	

- (a) Ag úsáid an eolais ar an lipéad, freagair **gach ceann** de na ceisteanna seo a leanas:

- (i) Cad é an príomh-chomhábhar atá i spaghetti? _____
- (ii) Cé mhéid kilo-calra atá i 100g spaghetti? _____
- (iii) Cá fhad a thógann sé spaghetti a chocaráil? _____

- (b) (i) Ainmnigh cothaitheach **amháin** nach bhfuil le fáil i spaghetti _____
- (ii) Tabhair an fheidhm atá leis an cothaitheach atá ainmnithe agat _____
- _____

- (c) Is foinse maith carbaihidráite é spaghetti. Ainmnigh **dhá** bhia eile atá mar fhoinsí maithe carbaihidráite.

- (i) _____ (ii) _____

- (d) Tabhair **dhá** chúis le taispeáint go bhfuil bianna carbaihidráite tabhachtach in aiste bia deagóirí gníomhacha.

- (i) _____

- (ii) _____

- (e) Ainmnigh **dhá** mhias pasta.

- (i) _____ (ii) _____

2. (a) Liostaigh **ceithre** threoirlíne ba chóir a leanúint, le hullmhúchán sábháilte ar bhia a chinntiú.

(i) _____

(ii) _____

(iii) _____

(iv) _____

(b) Tabhair **trí** chúis go ndéantar cócaráil ar bhia.

(i) _____

(ii) _____

(iii) _____

(c) Ainmnigh modh **amháin** cócaireachta faoi **gach ceann** díobh seo a leanas:

(i) Modh cócaireachta tais _____

(ii) Modh cócaireachta tirim _____

(iii) Modh cócaireachta ag úsáid ola nó sail _____

(d) Tabhair **trí** bhealach a dtéann cócaireacht i bhfeidhm ar bhia.

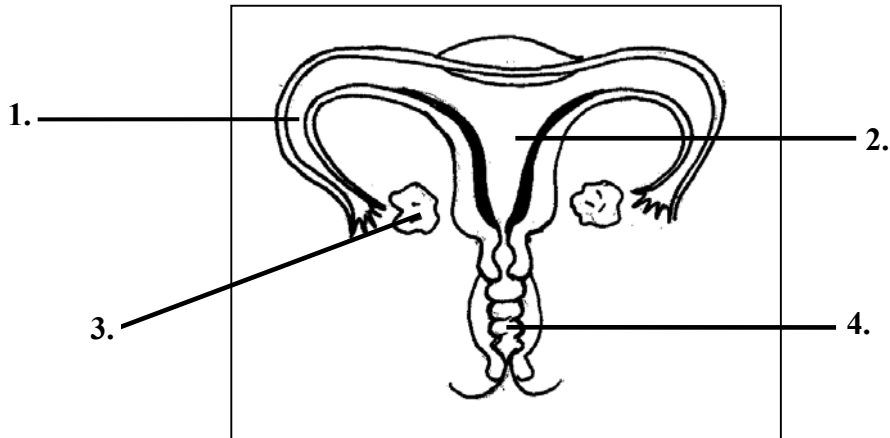
(i) _____

(ii) _____

(iii) _____

(e) Mínigh an fáth a ndéantar roinnt bianna a chumhdach roimh chócaireacht a dhéanamh orthu.

3. (a) Ainmnigh na codanna den chóras atáirgthe baineann, ar a bhfuil na lipéid 1, 2, 3 agus 4.



1. _____ 2. _____
3. _____ 4. _____

- (b) Roghnaigh an focal ceart ón liosta seo a leanas chun **gach ceann** de na habairtí a chríochnú.

broinn teistosterón ubhsceitheadh toircheas gin

- (i) Glaotar _____ ar scaoileadh na huibhe ón ubhagán.
(ii) Tugann an _____ cosaint don leanbh atá ag forbairt.
(iii) _____ is ea ainm eile do leanbh atá ag forbairt.
(iv) Leanann _____ daonna daichead seachtain de ghnáth.

- (c) Mínigh an fheidhm atá le **gach ceann** díobh seo a leanas:

- (i) corda an imleacáin _____

(ii) placenta _____

- (d) Tabhair **trí** threoirlíne ba chóir a leanúint le sláinte mhaith a chothú le linn toirchis.

- (i) _____
(ii) _____
(iii) _____

4. (a) Mol **trí** chúis go roghnódh comhlacht, táirge nó seirbhís a fhógairt.

(i) _____

(ii) _____

(iii) _____

(b) Liostaigh **ceithre** mhodh éagsúil fógraíochta.

(i) _____ (ii) _____

(iii) _____ (iv) _____

(c) Tabhair **dhá** bhuntáiste agus **dhá** mhíbhuntáiste a bhaineann le fógraíocht.

Buntáistí

(i) _____

(ii) _____

Míbhuntáistí

(i) _____

(ii) _____

(d) (i) Déan cur síos ar fhógra ar theilifís a cheapann tú a bheith éifeachtach.

(ii) Cén fáth a cheapann tú go bhfuil an fógra seo éifeachtach? _____

5. (a) Tabhair samplaí de bhaolta sábháilteachta a d'fhéadfadh a bheith i **ngach ceann** de na seomraí seo a leanas, sa bhaile.

(i) an chistin _____

(ii) seomra teaghlaigh _____

(iii) seomra folctha _____

(b) Liostaigh **ceithre** shampla de threalaimh sábháilteachta a mholfá le húsáid sa bhaile.

(i) _____

(ii) _____

(iii) _____

(iv) _____

(c) Leag amach an modh oibre a leanfá dá dtiocfá ar thine sa bhaile.

(d) Cad iad na buntáistí a bhaineann le garchabhair a úsáid chun cóir leighis a chur ar ghortaithe sa bhaile?

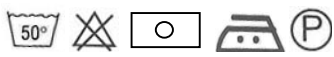
(e) Is féidir an tsiombail seo a fháil ar an lipéad de ghlantóirí áirithe tí. Cad is brí leis?



6.

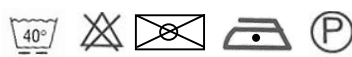
Lipéad Aire A

55% Cadás
45% Polyester



Lipéad Aire B

50% Olann
50% Aicrileach



(a) Ag baint úsáid as an eolas sna lipéid aire thuas, ainmnigh **dhá** fhabraic shaorga

(i) _____ (ii) _____

agus ainmnigh **dhá** fhabraic nádúrtha

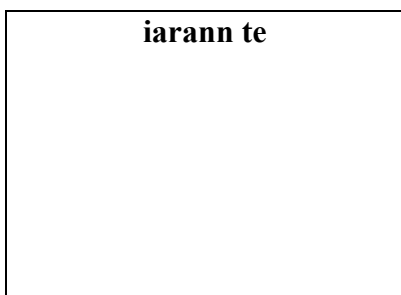
(i) _____ (ii) _____

(b) Cé acu lipéad aire a bheifeá ag súil le fáil ar gheansaí éide scoile? _____

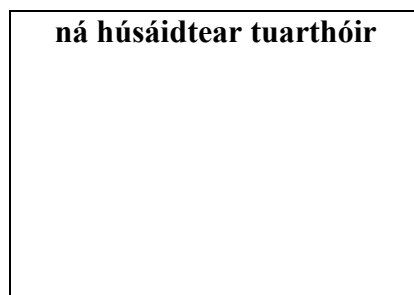
Tabhair cúis **amháin** le do fhreagra _____

(c) Déan sceitse de na siombail do (i) iarann te **agus** (ii) ná húsáidtear tuarthóir.

iarann te



ná húsáidtear tuarthóir



(d) Mínigh an chuspóir atá ag **gach ceann** díobh seo a leanas agus aire á thabhairt do fhabraicí.

(i) glantach _____

(ii) feabhsaitheoir fabraice _____
