

RABHADH

Ní mór duit an páipéar seo a chur ar ais le do fhreagarleabhar, nó caillfear marcanna.

SCRÚDUIMHIR

DON SCRÚDAITHEOIR

Roinn A

Iomlán na Marcanna

**Coimisiún na Scrúduithe Stáit****SCRÚDÚ AN TEASTAIS SHÓISEARAIGH 2009****EACNAMAÍOCHT BHAILE****ARDLEIBHÉAL*****DÉ hAOINE 12 MEITHEAMH – TRÁTHNÓNA 2.00 – 4.30*****Iomlán na Marcanna 300**

STAMPA AN IONAIÐ

TREORACHA d'IARRTHÓIRÍ

1. ROINN A - 80 marc.
Freagair 20 (fiche) ceist as Roinn A. Tá na ceisteanna uile ar aon mharc.
2. *Freagair na ceisteanna sa spás atá ann dóibh.*
3. Ní mór na bileoga freagraí comhlánaithe do Roinn A a thabhairt ar ais d'fheitheoir an scrúdaithe.
4. ROINN B - 220 marc.
Freagair 4 (ceithre) ceist as Roinn B. Tá na ceisteanna uile ar aon mharc.

ROINN A
80 marc

Freagair 20 (fiche) ceist díobh seo a leanas. Tá na ceisteanna uile ar aon mharc.

1. Liostaigh **ceithre** thoise a mbíonn tionchar acu ar riachtanais fhuinnimh an duine.

- (i) _____
- (ii) _____
- (iii) _____
- (iv) _____

2. Mol **ceithre** bhealach chun snáithín a mhéadú san aiste bia.

- (i) _____
- (ii) _____
- (iii) _____
- (iv) _____

3. Mínigh **gach** ceann de na téarmaí seo a leanas:

(i) cileachalraí (kcal) folamha _____

(ii) cothromaíocht fuinnimh _____

4. Ainmnigh **dhá** chineál anraith agus tabhair sampla **amháin** de **gach** cineál:

CINEÁL ANRAITH	SAMPLA
(i)	(i)
(ii)	(ii)

5. Tabhair **ceithre** úsáid a bhaintear as cáis in ullmhúchán bia.

- (i) _____ (ii) _____
(iii) _____ (iv) _____

6. Ainmnigh cineál **amháin** bainne a mheitseálann **gach** ceann de na ráitis seo a leanas:

RÁITEAS	CINEÁL BAINNE
(i) 0.1 go 0.3% saille ann	(i)
(ii) an t-uisce go léir bainte as	(ii)
(iii) vitimíní agus mianraí breise curtha leis	(iii)
(iv) earra ionaid do bhainne déiríochta	(iv)

7. Mol **ceithre** athrú nua-aimseartha a mbíonn tionchar acu ar phatrúin siopadóireachta.

- (i) _____
(ii) _____
(iii) _____
(iv) _____

8. Cén t-eolas a chuireann an tsiombail seo in iúl don tomhaltóir?



Ainmnigh earra **amháin** a mbíonn sí le feiceáil air _____

9. Liostaigh **ceithre** shampla de cheannach creidmheasa (ar cairde).

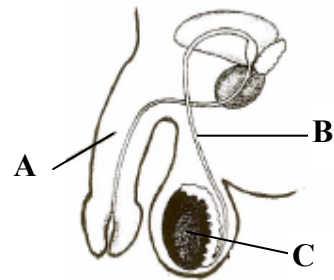
- (i) _____ (ii) _____
(iii) _____ (iv) _____

10. Liostaigh **ceithre** bhealach inar féidir le tomhaltóirí difríocht dhearfach a dhéanamh don timpeallacht.

- (i) _____
- (ii) _____
- (iii) _____
- (iv) _____

11. Sainaithin na codanna den chóras atáirgthe fireann atá lipéadaithe **A**, **B** agus **C**.

- A** _____
- B** _____
- C** _____



12. Luaigh **dhá** thoise a chuireann forbairt oideachasúil chun cinn i leanaí.

- (i) _____
- _____
- (ii) _____
- _____

13. Mol **ceithre** threoirlíne le sláinte fiacal agus drandal a chinntiú.

- (i) _____
- (ii) _____
- (iii) _____
- (iv) _____

14. Cad iad na bearta a rinneadh chun tógáil alcóil a laghdú in Éirinn?

- (i) _____
- (ii) _____

15. Tabhair **dhá** chúis a mbaineann tábhacht le soilsiú maith sa teach.

(i) _____

(ii) _____

16. Mínigh an téarma *dramhaíl in-bhithmhille* _____

Luaigh sampla **amháin** de dhramhaíl in-bhithmhille _____

17. Ainmnigh na modhanna traschuir teasa a tharlaíonn (i) sa ghreille **agus** (ii) san oigheann:

MODH TRASCHUIR TEASA	
(i) greille	(i)
(ii) oigheann	(ii)

18. Mínigh **gach** ceann de na téarmaí pleanála seomra seo a leanas:

(i) **comhréir** _____

(ii) **cothromaíocht** _____

19. Cad iad na nithe a mbíonn tionchar acu ar threochtaí faisin?

(i) _____

(ii) _____


(iii) _____

(iv) _____

20. Ainmnigh an greim a thaispeántar sa léaráid agus mol úsáid **amháin** dó.

Greim _____

Úsáid _____



21. Tabhair breac-chuntas ar fheidhm **gach** ceann díobh seo a leanas:

(i) **glantach bitheolaíoch** _____

(ii) **feabhsaitheoir fabraice** _____

22. Cén t-eolas a chuireann an tsiombail seo in iúl don tomhaltóir?



23. Mínigh **gach** ceann de na téarmaí teicstíle seo a leanas.

(i) **bruth** _____

(ii) **gréasán aontreoch** _____

24. Liostaigh **ceithre** threoirlíne ba chóir a leanúint nuair a bhíonn cúram á dhéanamh d'inneall fuála.

(i) _____

(ii) _____

(iii) _____

(iv) _____



Coimisiún na Scrúduithe Stáit

SCRÚDÚ AN TEASTAIS SHÓISEARAIGH 2009

EACNAMAÍOCHT BHAILE

ARDLEIBHÉAL


DÉ hAOINE 12 MEITHEAMH – TRÁTHNÓNA 2.00 – 4.30

ROINN B (220 MARC)

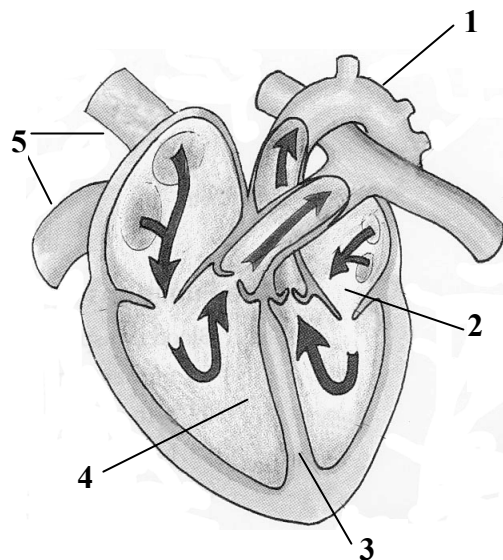
TREORACHA d'IARRTHÓIRÍ

Freagair 4 (CEITHRE) cheist as an roinn seo.
Tá na ceisteanna uile ar aon mharc.

ROINN B
220 MARC

1. (a) Tabhair an comhdhéanamh cothaithe atá ag feoil dhearg.
- (b) Tabhair breac-chuntas ar an tábhacht a bhaineann le feoil dhearg a bheith in aiste bia déagóra.
- (c) Cad iad na treoirlínte ba chóir a leanúint agus feoil mhionaithe (i) á ceannach (ii) á stóráil **agus** (iii) á cócaráil?
- (d) (i) Tabhair breac-chuntas ar na cúiseanna le righneas i bhfeoil.
(ii) Liostaigh agus mínigh **trí** mhodh chun feoil dhearg a mhaothú.
- (e) (i) Ainmnigh earra ionaid **amháin** feola.
(ii) Cad iad na buntáistí a bhaineann le hearraí ionaid feola a úsáid?
2. (a) Cén fáth a ndéantar próiseáil ar bhia?
- (b) Liostaigh na cúiseanna le milleadh bia.
- (c) Mínigh na tosca is cúis le camhrú bia.
- (d) (i) Ainmnigh **dhá** mhodh chun bia a leasú sa bhaile agus mol bia difriúil atá oiriúnach do **gach** modh.
(ii) Roghnaigh **ceann amháin** de na bianna atá ainmnithe agat agus déan cur síos go mion ar conas is féidir leat é a leasú agus a stóráil sa bhaile.
- (e) Cén t-eolas a chuireann an tsiombail seo in iúl don tomhaltóir? 
3. (a) Liostaigh agus mínigh **ceithre** chúis gur ghá tomhaltóirí a chur ar an eolas.
- (b) Tabhair breac-chuntas ar **cheithre** fhoinse eolais don tomhaltóir.
- (c) Éiríonn fón póca, atá fós faoi ráthaíocht, lochtach.
Liostaigh **trí** chineál cúitimh atá ar fáil don tomhaltóir sa chás seo.
- (d) Scríobh litir ghearáin an tomhaltóra chuig an siopa inar ceannaíodh an fón póca.
- (e) (i) Cad is ráthaíocht ann?
(ii) Cén uair nach mbíonn an tomhaltóir clúdaithe ag na téarmaí ráthaíochta?

4. (a) Cén fheidhm atá ag an gcóras imshruthaithe?
- (b) Ainmnigh na codanna den chroí atá lipéadaithe 1, 2, 3, 4 agus 5.
- (c) Mínigh na difríochtaí idir artaire agus féith.
- (d) (i) Cad is ciall le galar corónach croí?
- (ii) Mol na treoirí ba chóir a leanúint chun baol galair chorónaigh croí a laghdú.



5. Is féidir tionchar a bheith ag an teicneolaíocht ar a lán gnéithe den saol nua-aimseartha.
- (a) Liostaigh **ceithre** fhearas ullmhúcháin bia a úsáidtear sa teach.
- (b) Scríobh nóta ar chuisneoirí faoi **gach** ceann de na ceannteidil seo a leanas agus aird á tabhairt ar an ngá atá leis an timpeallacht a chosaint:
- (i) rogha;
- (ii) úsáid;
- (iii) cúram agus glanadh;
- (iv) diúscairt.
- (c) Ainmnigh agus luaigh an fheidhm atá ag **trí** ghné de chuisneoirí nua-aimseartha.
- (d) Déan an tábhacht a bhaineann le rialú teochta i gcuisneoir a phlé.
6. Is iomaí úsáid a bhaintear as teicstílí teaghlaigh sa teach.
- (a) Mol **ceithre** úsáid a bhaintear as teicstílí teaghlaigh.
- (b) Tabhair breac-chuntas ar na hairíonna ba chóir a chur san áireamh nuair a bhíonn fabraic á roghnú le haghaidh teicstílí teaghlaigh.
- (c) Ainmnigh earra teaghlaigh atá teicstíl-bhunaithe agus déan cur síos go mion ar conas is ceart cúram a dhéanamh den earra seo.
- (d) Cén teolas a mbeifeá ag siúl a fháil ar lipéad a bhíonn greamaithe d'earra teaghlaigh atá teicstíl-bhunaithe?
- (e) (i) Mínigh an téarma **bailchríoch fabraice**.
- (ii) Ainmnigh **dhá** bhailchríoch fabraice agus tabhair breac-chuntas ar fheidhm **gach** ceann de na bailchríocha atá ainmnithe agat.

Leathanach Bán

Leathanach Bán

Leathanach Bán