

RABHADH

Ní mór duit an páipéar seo a chur ar ais le do fhreagarleabhar, nó caillfear marcanna.

DON SCRÚDAITHEOIR

SCRÚDUIMHIR 

Iomlán na
Marcanna


Coimisiún na Scrúduithe Stáit

SCRÚDÚ AN TEASTAIS SHÓISEARAIGH 2004

EACNAMAÍOCHT BHAILE

ARDLEIBHÉAL

DÉ hAOINE 18 MEITHEAMH – TRÁTHNÓNA 2.00 – 4.30

Iomlán na Marcanna 300

STAMPA AN IONAIID

Do scrúdaitheoirí amháin

CEIST	MARC
Roinn A (Iomlán)	
Roinn B	1
	2
	3
	4
	5
	6
IOMLÁN	→
GRÁD	→

TREORACHA

1. Roinn A - 80 marc.
Freagair 20 (fiche) ceist ó Roinn A;
tá na ceisteanna uile ar aon mharc.
2. *Freagair na ceisteanna sa spás atá ann dóibh.*
3. Ní mór na bileoga freagraí comhlánaithe do Roinn A a thabhairt ar ais d'fheitheoir an scrúdaithe.
4. Roinn B - 220 marc.
Freagair 4 (ceithre) cheist ó Roinn B;
tá na ceisteanna uile ar aon mharc.

ROINN A
80 marc

Freagair 20 (fiche) ceist díobh seo a leanas. Tá na ceisteanna uile ar aon mharc.

1. Liostaigh **ceithre** bhia a bhfuil cion ard siúcra acu.

- (i) _____ (ii) _____
(iii) _____ (iv) _____

2. Ainmnigh **dhá** chothaitheach faoi **gach ceann** de na ceannteidil seo a leanas:

MACRACHOTHAITHIGH	MICREACHOTHAITHIGH
(i)	(i)
(ii)	(ii)

3. Mínigh **gach ceann** de na téarmaí atá liostaithe thíos:

- (i) **saol seilfe** _____

(ii) **meatach** _____

4. Liostaigh **ceithre** bhlas ar féidir leis na blaslóga ar an teanga iad a aithint.

- (i) _____ (ii) _____
(iii) _____ (iv) _____


5. Luaigh **dhá** thionchar a bhíonn ag cócaireacht ar ghlasraí.

- (i) _____
(ii) _____

6. Mínigh an téarma **conamar**: _____

Tabhair sampla **amháin** de chonamar. _____

7. Cén t-eolas a chuireann an tsiombail seo in iúl don tomhaltóir?



8. Luaigh **dhá** chúis a n-úsáidtear barrachóid.

(i) _____

(ii) _____

9. Luaigh **dhá** bhuntáiste a bhaineann le hairgead a choigilt.

(i) _____

(ii) _____

10. Mínigh **gach ceann** de na téarmaí seo a leanas:

(i) **treoirearraí cailliúna** _____

(ii) **aonad praghsála** _____

11. Liostaigh **ceithre** speansas ba chóir a chur san áireamh nuair a bhíonn buiséad teaghlaigh á phleanáil.

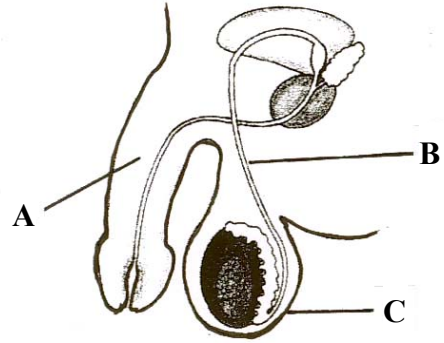
(i) _____ (ii) _____

(iii) _____ (iv) _____

THALL →

12. Ainmnigh na codanna den chóras atáirgthe fireann atá lipéadaithe le **A**, **B** agus **C**.

A _____
B _____
C _____



13. Ainmnigh **ceithre** chineál fiacla buana.

(i) _____ (ii) _____
(iii) _____ (iv) _____

14. Luaigh **trí** fheidhm a bhaineann leis an teaghlach.

(i) _____
(ii) _____
(iii) _____

15. Rianaigh **dhá** dhrochthionchar atá ag tobac a chaitheamh ar an gcorp.

(i) _____

(ii) _____

16. Liostaigh **ceithre** thoise ar chóir smaoineamh orthu nuair a bhíonn teilifíseán nua á cheannach.

(i) _____
(ii) _____
(iii) _____
(iv) _____

17. Mínigh an aidhm a bhaineann le **gach ceann** díobh seo a leanas maidir le cócaireacht mhicreathoinne:

(i) am seasta _____

(ii) caschlár _____

18. Ainmnigh **dhá** shreang i bplocóid leictreach agus luaigh dath(anna) **gach ceann** de na sreanga a ainmnítear.

AINM NA SREINGE	DATH(ANNA)
(i)	(i)
(ii)	(ii)

19. Luaigh **dhá** bhuntáiste a bhaineann le dea-shoilsíú sa teach.

(i) _____

(ii) _____

20. Ainmnigh **dhá** ghreim innill agus luaigh úsáid dhifriúil a bhaintear as **gach ceann** díobh.

GREAMANNA INNILL	ÚSÁID
(i) _____	(i) _____ _____
(ii) _____	(ii) _____ _____

21. Luaigh **dhá** airí inmhianaithe agus **dhá** airí neamh-inmhianaithe a bhaineann le holann mar fhabraic d'éadaí.

AIRÍONNA INMHIANAITHE	AIRÍONNA NEAMH-INMHIANAITHE
(i)	(i)
(ii)	(ii)

22. Luaigh **dhá** bhealach inar féidir snáth a athrú ina fhabraic.

- (i) _____
- (ii) _____

23. Liostaigh **dhá** réamhchúram ba chóir a dhéanamh nuair a bhíonn smálghlantóir tráchtála á úsáid.

- (i) _____
- _____
- (ii) _____
- _____

24. Mínigh conas is féidir le **gach ceann** díobh seo a leanas dul i bhfeidhm ar an gcuma atá ar bhall éadaí:

- (i) línte ingearacha _____
- _____
- (ii) línte cothrománacha _____
- _____



Coimisiún na Scrúduithe Stáit

SCRUDÚ AN TEASTAIS SHÓISEARAIGH 2004

EACNAMÁÍOCHT BHAILE

ARDLEIBHÉAL

DÉ hAOINE 18 MEITHEAMH - TRÁTHNÓNA 2.00 - 4.30

ROINN B (220 MARC)

TREORACHA

Freagair 4 (CEITHRE) cheist as an roinn seo;
tá na ceisteanna uile ar aon mharc.

ROINN B
220 Marc

1. Is cuid thábhachtach d'aiste bia chothromaithe iad torthaí.

TORTHAÍ	PRÓITÉIN	CARBAIHIODRÁIT	MIANRAÍ	VITIMÍNÍ	UISCE
ÚR	Fíorbheagán	5-20%	Cailciam, Iarann	A, C	80-90%
STÁNAITHE	Fíorbheagán	20-30%	Cailciam, Iarann	A, C <i>Laghdaíthe</i>	70-80%
TRIOMAITHE	Fíorbheagán	50-60%	Cailciam, Iarann <i>méadaíthe</i>	A	15-25%

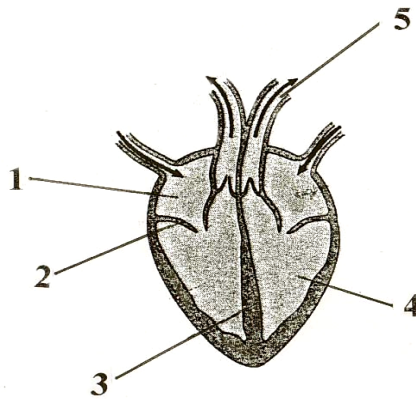
- (a) Agus úsáid á baint as an eolas cothaitheach a thugtar sa tábla thuas:
- (i) déan comparáid idir an luach cothaitheach atá ar torthaí úra leis an luach cothaitheach atá ag torthaí stánaithe **nó** ag torthaí triomaithe;
 - (ii) luaigh feidhm **amháin** a bhaineann le **gach ceann** de na mianraí atá liostaithe sa tábla;
 - (iii) cad is ciall le “fíorbheagán”?
- (b) Mol **dhá** úsáid dhifriúla a bhaintear as **gach ceann** de na trí thoradh éagsúla atá liostaithe sa tábla thuas.
- (c) Liostaigh na buntáistí a bhaineann le torthaí a bheith mar chuid den aiste bia.
- (d) Luaigh **trí** thionchar a bhíonn ag próiseáil ar thorthaí.

2. (a) Cad iad na treoirínte ba chóir a leanúint nuair a dhéantar bÁCáil bhaile?
- (b) Liostaigh **trí** ghníomhaí ardúcháin a úsáidtear i mbÁCáil bhaile agus mínigh conas a oibríonn **ceann amháin** díobh.
- (c) (i) Mínigh an fheidhm a bhaineann le glútan agus arán á dhéanamh.
(ii) Déan sceitse den tsiombail atá le fáil ar phlúr agus ar tháirgí atá saor ó ghlútan.
- (d) Luaigh **dhá** bhuntáiste agus **dhá** mhíbhuntáiste a bhaineann le cumaisc cháca thráchtála a úsáid.

3. Cheannaigh Sorcha galíarann nua agus fuair sí amach go raibh an t-iarann ag ligean tríd nuair a d'úsáid sí é.

- (a) Rianaigh na céimeanna ba chóir do Sorcha a leanúint agus an t-iarann lochtach á thabhairt ar ais go dtí an siopa aici.
- (b) Ainmnigh **dhá** eagraíocht a bhféadfadh Sorcha dul i dteagmháil leo dá ndiúltódh an siopa freagracht a ghlacadh as an iarann lochtach.
- (c) Scríobh litir chlamhsáin (ghearáin) Sorcha chuig **ceann amháin** de na heagraíochtaí atá ainmnithe agat.
- (d) Cad iad na coinníollacha atá rianaithe san ‘*Acht um Dhíolachán Earraí agus Sholáthar Seirbhísí 1980*’?

4. (a) Ainmnigh na codanna den chroí atá lipéadaithe le **1, 2, 3, 4** agus **5**.



- (b) Déan cur síos ar shuíomh an chroí sa chorp.
- (c) Liostaigh na feidhmeanna atá ag an bhfuil.
- (d) Ainmnigh **trí** fhuileadán agus rianaigh na difríochtaí atá idir **dhá cheann** ar bith de na fuileadáin atá ainmnithe agat.
- (e) Mínigh conas a thógtar *cuisle* duine.
5. (a) Liostaigh na tosca ar chóir cuimhneamh orthu nuair a bhíonn seomra teaghlaigh á mhaisiú.
- (b) Tarraing plean an tseomra agus léirigh ar an bplean an suíomh atá ag:
(i) an bhfuinneog / nó na fuinneoga; (ii) an doras nó na doirse; (iii) an troscán **agus** (iv) soilsiú oiriúnach.
- (c) Mol (i) scéim dathanna, (ii) clúdach urláir **agus** (iii) córas téimh atá oiriúnach don seomra teaghlaigh **agus** luaigh cúis amháin le do mholadh i **ngach** cás.
- (d) Mínigh an téarma **cumhdach**.
6. Iarradh ort feisteas éadaigh a dhearadh a bheadh oiriúnach d'éadaí caithimh aimsire.
- (a) Liostaigh na pointí a ndéanfá smaoineamh orthu nuair a bheadh an feisteas á dhearadh agat.
- (b) Déan sceitse agus déan cur síos ar an bhfeisteas a dhearfá.
- (c) Mol fabraic(i) oiriúnach(a) don fheisteas **agus** tabhair cúiseanna le do rogha.
- (d) Déan cur síos ar mhodh **amháin** a d'úsáidfeá chun cuma phearsanta a chur ar an bhfeisteas atá deartha agat.
- (e) Cad iad na tosca a théann i bhfeidhm ar threochtaí faisin?

**Leathanach
Bán**

Leathanach Bán

**Leathanach
Bán**