



# Coimisiún na Scrúduithe Stáit

SCRÚDÚ AN TEASTAIS SHÓISEARAIGH, 2017

---

**TÍREOLAÍOCHT – GNÁTHLEIBHÉAL**

**ROINN 2 (90 marc)**

---

**DÉ hAOINE 9 MEITHEAMH - MAIDIN 9:30 – 11:30**

Tá **ROINN 1** den pháipéar seo i bhfillteán ar leithligh, mar a bhfuil spásanna le haghaidh do chuid freagraí.

NÁ DEARMAD, LE DO THOIL, GO gCAITHFIDH TÚ **FILLTEÁN** COMHLÁNAITHE **ROINN 1** A THABHAIRT  
AR AIS LE DO FHREAGARLEABHAR.

## ROINN 2 (90 marc)

Freagair **TRÍ** cheist ar bith.

Tá na ceisteanna uile ar cómharc.

### Ceist 1. LÉARSCÁIL NA SUIRBHÉIREACHTA ORDANÁIS

Scrúdaigh léarscáil na Suirbhéireachta Ordanáis a thugtar leis an bpáipéar seo.

**A.** Tarraing sracléarscáil den limistéar a thaispeántar ar léarscáil na Suirbhéireachta Ordanáis.

Ar do shracléarscáil, **taispeáin** agus **lipéadaigh** gach ceann acu seo a leanas:

- An limistéar faoi fhoirgnimh i Maigh Chromtha
- Loch taiscumair (*Reservoir*)
- Abhainn na Laoi (*River Lee*)
- An Príomhbhóthar Náisiúnta N22.

(10)

**B.** Cuirtear seirbhísí éagsúla ar fáil i mbaile Mhaigh Chromtha.

- (i) Agus tagairtí eangaí á n-úsáid agat, ainmnigh **agus** aimsigh **DHÁ** cheann de na seirbhísí seo.
- (ii) Luaigh conas is féidir le daoine áitiúla úsáid a bhaint as na seirbhísí seo.

(8)

**C.** Míneigh **TRÍ** chúis gur fhás baile Mhaigh Chromtha ag an suíomh seo agus fianaise as léarscáil na Suirbhéireachta Ordanáis agat mar thaca le gach cúis.

(12)

## Ceist 2. AERFÓTAGRAF

Scrúdaigh an t-aerfótagraf de Mhaigh Chromtha a thugtar leis an bpáipéar seo.

**NÓTA:** Cuimhnigh air gur aerfótagraf fiar é seo. Dá bhrí sin, ní mór duit na **téarmaí cearta** a úsáid, e.g. cúlra ar chlé, tulra ar dheis, etc.

**A.** Tarraing sracléarscáil den limistéar a thaispeántar ar an aerfótagraf.

Ar do sracléarscáil, **taispeáin** agus **lipéadaigh** gach ceann acu seo a leanas:

- **DHÁ** shráid a bhuaileann le chéile
- An abhainn
- An droichead
- Páirc imeartha.

(10)

**B.** Tá sé beartaithe óstán nua agus ionad fóillíochta a thógáil sa limistéar ar an aerfótagraf.

- Agus an téarma ceart á úsáid agat (tulra ar chlé etc.), aimsigh suíomh oiriúnach don óstán agus don ionad fóillíochta.
- Agus fianaise ón aerfótagraf á húsáid agat, mínigh **DHÁ** chúis gur roghnaigh tú an suíomh seo.
- Luaigh agóid **AMHÁIN** a d'fhéadfaí a dhéanamh i gcoinne an tsuímh seo.

(10)

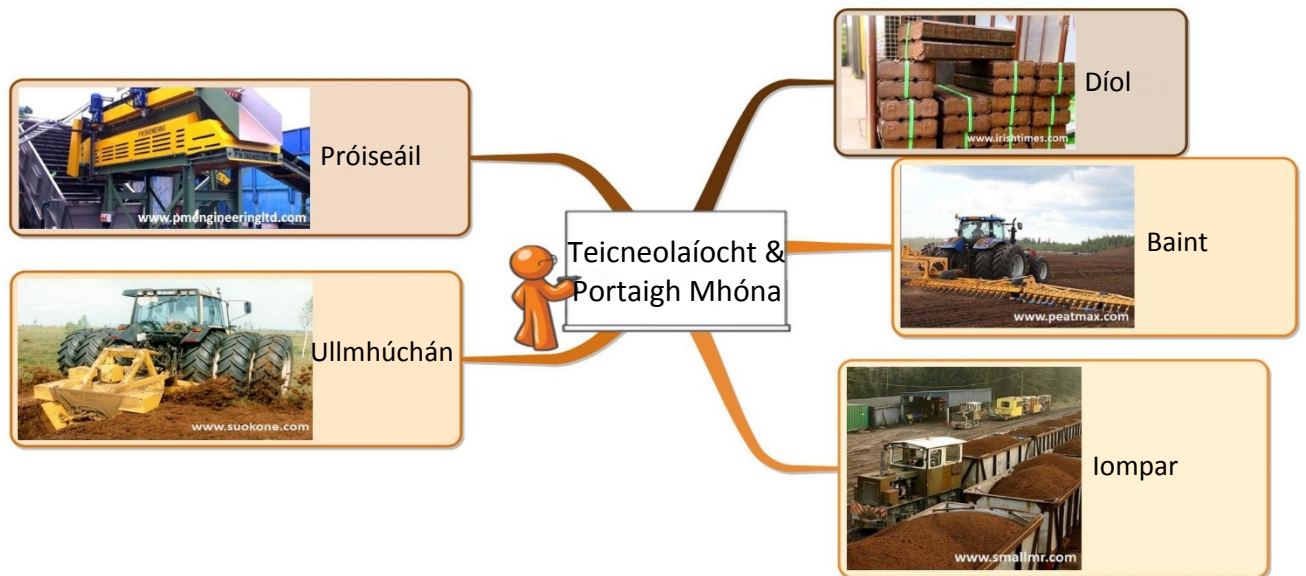
**C.** Féach go cúramach ar na sraideanna san aerfótagraf.

- Agus an téarma ceart á úsáid agat (tulra ar chlé etc.), tabhair suíomh **AMHÁIN** ar leith san aerfótagraf ina bhféadfadh sé brú tráchta tarlú i Maigh Chromtha.
- Mínigh cúis **AMHÁIN** a bhféadfadh sé go mbeadh brú tráchta ann ag an suíomh seo.
- Déan cur síos ar **DHÁ** shlí a bhféadfadh an chomhairle áitiúil brú tráchta a laghdú i Maigh Chromtha.

(10)

### Ceist 3. TÍREOLAÍOCHT EACNAMAÍOCH

#### A. Acmhainní agus Teicneolaíocht



Scrúdaigh an t-eolas thuas.

- (i) Déan cur síos ar **TRÍ** shlí a bhfuil an teicneolaíocht (meaisíní) tar éis an méid móna a bhaintear a mhéadú.
- (ii) Déan cur síos ar úsáid **AMHÁIN** a d'fhéadfaí a bhaint as portaigh nuair atá an mhóin bainte astu.

(8)

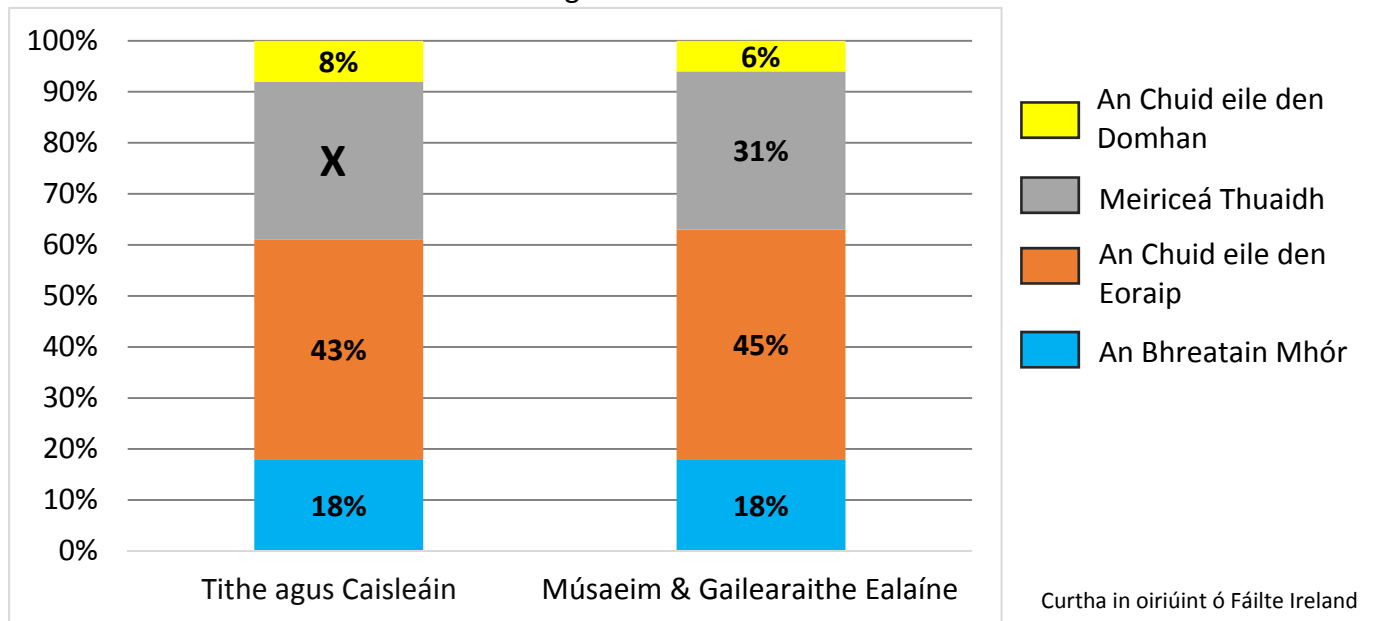
#### B. Tionscal Déantúsaíochta

- (i) Ainmnigh monarcha **AMHÁIN** a bhfuil staidéar déanta agat uirthi agus luaigh cá bhfuil sí lonnaithe.
- (ii) Míneadh **DHÁ** chúis ar forbraíodh an mhonarcha a d'ainmnigh tú i gcuid (i) ag an suíomh seo.
- (iii) Ainmnigh Ionchur **AMHÁIN** agus Aschur **AMHÁIN** a bhaineann leis an monarcha a d'ainmnigh tú.

(12)

### C. Turasóireacht

An Céatadán Cuairteanna go dtí Gníomhaíochtaí Cultúrtha Roghnaithe ag Turasóirí a tháinig go hÉirinn as Réigiúin Áirithe Thar Lear in 2014



Scrúdaigh an chart thuas. Taispeánann sé an céatadán de chuairteanna go dtí gníomhaíochtaí cultúrtha roghnaithe ag turasóirí a tháinig go hÉirinn ó réigiúin áirithe thar lear in 2014.

- (i) Cén céatadán de dhaoine a thug cuairt ar Mhúsaeim agus ar Ghailearaithe Ealaíne arbh as an mBreatain Mhór dóibh?
- (ii) Cén céatadán de thurasóirí a thug cuairt ar Thithe agus ar Chaisleáin arbh as an gCuid eile den Eoraip dóibh?
- (iii) Ríomh **X**, an céatadán de chuairteanna ar Thithe agus ar Chaisleáin ag turasóirí as Meiriceá Thuaidh.
- (iv) Mínigh slí **AMHÁIN** inar féidir leis an turasóireacht iarmhairt dhiúltach a bheith aici ar réigiún.
- (v) Mínigh slí **AMHÁIN** inar féidir leis an turasóireacht feabhas a chur ar naisc iompair agus ar naisc chumarsáide i réigiún.

(10)

#### Ceist 4. MEASCÁN TÍREOLAÍOCHTA

Freagair **TRÍ CINN AR BITH** de na ceisteanna **4A, 4B, 4C, 4D**.

##### 4A. Imirce



- (i) Agus na fótagraif thuas mar chúnamh agat, mínigh **DHÁ** thoisic bhrú a mbíonn tionchar acu ar imirce.
- (ii) Mínigh **DHÁ** iarmhairt ar Iarthar na hÉireann ag daoine ag dul ar imirce go ceantair uirbeacha mar Bhaile Átha Cliath.

(10)

##### 4B. Éagothroime Eacnamaíoch

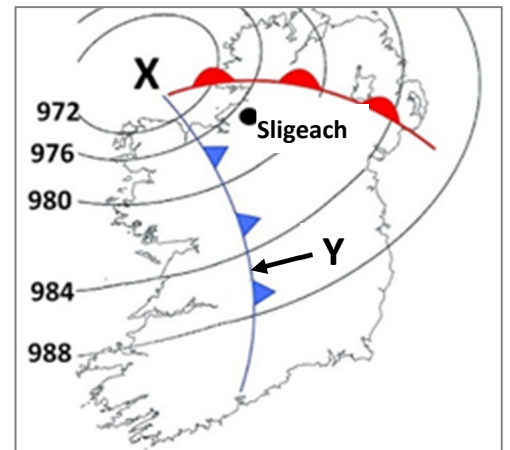
- (i) Ainmnigh tír **AMHÁIN** i mbéal forbartha a bhfuil staidéar déanta agat uirthi.
- (ii) Mínigh an tslí ar chuir **TRÍ** cinn ar bith de na tosca thíos moill ar fhorbairt na tíre seo:
  - Athrú aeráide
  - Fás daonra
  - Trádáil Éagothrom
  - Cogadh.

(10)

#### 4C. Réamhaisnéis Aimsire

Féach ar an gcairt aimsire a thaispeántar thall.

- (i) Scrúdaigh na hiseabair ar an gcairt aimsire. An brú ard nó íseal atá ag **X**?
- (ii) Cén cineál fronta a thaispeánann ag **Y**?
- (iii) Déan cur síos ar an tslí a n-athróidh an aimsir i Sligeach de réir mar a ghluaiseann an fronta seo (**Y**) ina threo.
- (iv) Míniú an tslí a dtarlaíonn fliuchras fronta.



(10)

#### 4D. Cineál Aeráide

- (i) Ainmnigh cineál aeráide **AMHÁIN** a bhfuil staidéar déanta agat air agus tabhair cur síos ar an gcineál aeráide seo.
- (ii) Déan cur síos ar an gcineál fásra a bhíonn ann mar thoradh ar an aeráid seo.
- (iii) Ainmnigh slí **AMHÁIN** a mbíonn iarmhairt ag an aeráid seo ar dhaoine.

(10)

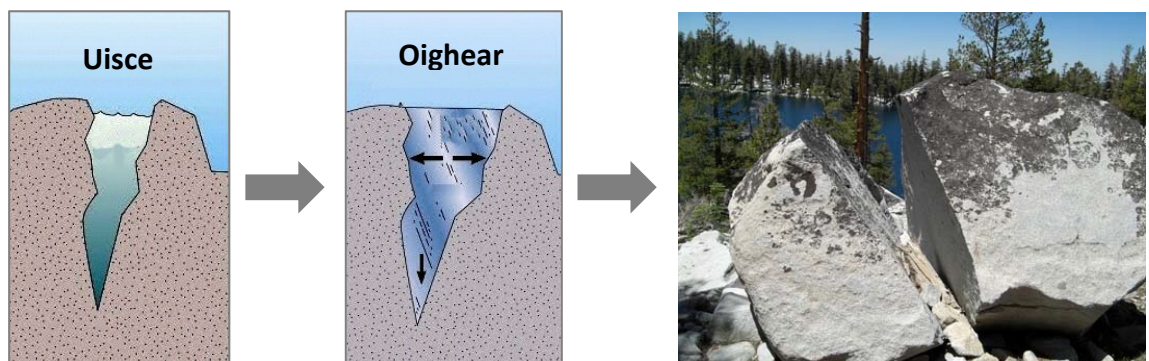
## Ceist 5. AG MÚNLÚ DROMCHLA AN DOMHAIN

### A. Sil-leagan

- (i) Ainmnigh gné **AMHÁIN** a fhoirmítear mar thoradh ar shil-leagan oighreach **NÓ** mar thoradh ar shil-leagan cósta.
- (ii) Míneigh, agus léaráid lipéadaithe mar chúnamh agat, conas a foirmíodh an ghné seo.

(10)

### B. Sónchaitheamh Meicniúil



Curtha in oiriúint ó [www.resources.teachnet.ie](http://www.resources.teachnet.ie)

- (i) Ainmnigh an cineál sónchaithimh mheicniúil a thaispeántar sna híomhánna thuas.
- (ii) Agus na híomhánna thuas mar chúnamh agat, déan cur síos ar an tslí a dtarlaíonn an cineál seo sónchaithimh mheicniúil.
- (iii) Míneigh an téarma *scileach*.

(10)

### C. Ithreacha

- (i) Ainmnigh cineál ithreach **AMHÁIN** in Éirinn a bhfuil staidéar déanta agat air **agus** tabhair cur síos ar an gcineál ithreach sin.
- (ii) Míneigh conas a théann **DHÁ** cheann ar bith acu seo a leanas i bhfeidhm ar ithreacha:
  - Mianraí
  - Iarsmaí plandaí
  - Miocrorgánaigh
  - Aer agus uisce.

(10)