

## **RABHADH**

Ná déan dearmad an páipéar seo a chur ar ais le do fhreagarleabhar, nó caillfidh tú marcanna.

Scríobh do Scrúduithe anseo:



## **Coimisiún na Scrúduithe Stáit**

**SCRÚDÚ AN TEASTAIS SHÓISEARAIGH, 2017**

---

**TÍREOLAÍOCHT – GNÁTHLEIBHÉAL**

**ROINN 1 – FILLTEÁN (60 marc)**

---

**DÉ hAOINE 9 MEITHEAMH – MAIDIN 9:30 – 11:30**

**NÓTA: TÁ ROINN 2 DEN SCRÚDÚ SEO AR PHÁIPÉAR AR LEITHLIGH**

## ROINN 1 (60 marc)

Freagair **GACH** ceist.  
Tá rogha agat laistigh de cheithre cheist.  
Déan deimhin de go gcuireann tú an fillteán seo ar ais le do  
fhreagarleabhar.  
Caillfidh tú marcanna mura gcuireann.

### 1. CARRAIGEACHA

Nuair a chuirtear sceall faoi bhrú,  
déantar slinn de.

Is é atá i slinn ná:

Bruthcharraig

Carraig dhríodair

Carraig mheiteamorfach

Slinn



Curtha in oiriúint ó [www.sandatlas.org](http://www.sandatlas.org)

Cuir tic (✓) sa bhosca ceart.

### 2. CREATHANNA TALÚN

Is é a thugtar ar thonn aigéanach mhór a chruthaítear mar thoradh ar chrith talún ar  
ghrinneall na farraige ná:

Tonn sheismeach

Tonn shúnámaí

Tonn turrainge

Cuir tic (✓) sa bhosca ceart.

### 3. AG MÚNLÚ SCREAMH AN DOMHAIN

Scrúdaigh an léaráid thall.

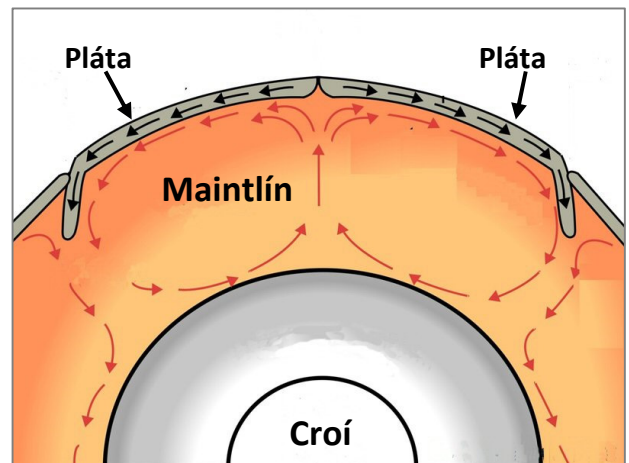
Cé acu seo a leanas is cúis le gluaiseacht na bplátaí ó chéile?

Sruthanna comhiompair

Pangaea

Laibhe

Teorainneacha plátaí



Curtha in oiriúint ó [www.wikimedia.org](http://www.wikimedia.org)

Cuir tic (✓) sa bhosca ceart.

### 4. GNÉITHE CARSTACHA


Is é a thugtar ar na gnéithe faoi thalamh marcáilte **X** san fhótagraf thall ná:

Clinteanna

Aolchuisní

Aolchoinnle

Gríoga



Curtha in oiriúint ó [www.adventuresinwonderland-wordpress.com](http://www.adventuresinwonderland-wordpress.com)

Cuir tic (✓) sa bhosca ceart.

## 5. SONRAÍ AIMSIRE

An Mheánteocht (°C) do Bhéal an Mhuirthead, Co Mhaigh Eo 2015

Mí	Ean	Fea	Már	Aib	Bea	Mei	Iúil	Lún	MF	DF	Samh	Noll
Teocht °C	6.2	6.1	7.0	8.7	9.8	12.1	13.8	13.7	12.9	11.3	9.7	8.4

Curtha in oiriúint ó [www.met.ie](http://www.met.ie)

Scrúdaigh na sonraí aimsire sa tábla thuas agus cuir ciorcal thart ar an bhfreagra ceart i ngach ceann de na ráitis thíos.

- (i) An mheánteocht ab ísle ná **7.0 °C / 6.1 °C**.
- (ii) Bhí an mheánteocht ab airde, 13.8 °C, ann i mí **Iúil / Lúnasa**.
- (iii) An raon teochta do na sonraí aimsire don bhliain ná **9.5 °C / 7.7 °C**.


## 6. AIBHNEACHA

Is é a thugtar ar na hiomairí le taobh bhruacha na habhann, marcáilte **X** san fhótagraf thall, ná:

Deilteanna

Eascracha

Leibhéanna



Curtha in oiriúint ó [www. Screencast-o-matic.com](http://www.Screencast-o-matic.com)

Cuir tic (✓) sa bhosca ceart.

## 7. STAITISTICÍ TÍREOLAÍOCHTA

Taispeánann an phíchart thall luach céatadánach an bheostoic a táirgeadh in Éirinn in 2015.

Is é luach céatadánach na muc (**X**), a táirgeadh ná:

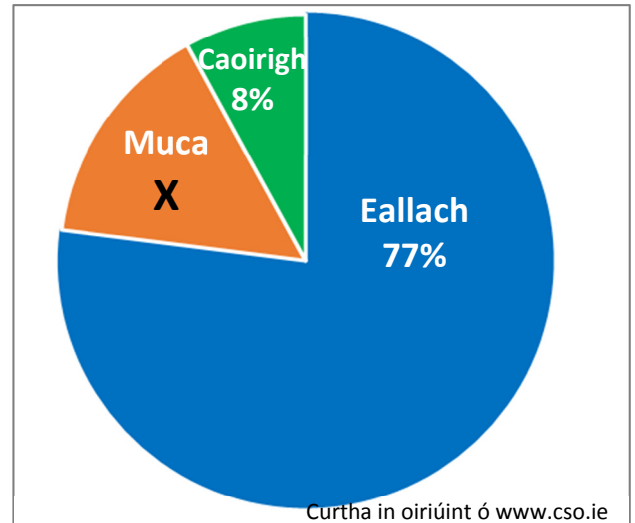
20%

7%

15%

Cuir tic (✓) sa bhosca ceart.

Luach Céatadánach an Bheostoic a Táirgeadh in Éirinn in 2015



## 8. COMHSHAOL

An phríomhchúis atá le báisteach aigéadach ná:

Baint na bhforaoisí trópaiceacha.

Táirgeadh fuinnimh núicléach.

Dó breoslaí iontaise.

Fuinneamh hidrileictreach.

Cuir tic (✓) sa bhosca ceart

9. FREAGAIR 9A NÓ 9B


9A. CÓSTAÍ

Is é a thugtar ar bhallaí ísle a thógtar feadh trá chun moill a chur le síobadh feadh cladaigh, cosúil leo siúd lipéadaithe **X** san fhótagraf thall, ná:

Tambalónna

Gradhana

Goba gainimh



Curtha in oiriúint ó [www.geograph.org.uk](http://www.geograph.org.uk)

Cuir tic (✓) sa bhosca ceart.

NÓ


9B. OIGHRIÚCHÁN

Is é a thugtar ar an tírghné oighreach lipéadaithe **X** san fhótagraf thall ná:

Gleann crochta

Moiréan

Airéit



Curtha in oiriúint ó [www.walkhighlands.co.uk](http://www.walkhighlands.co.uk)

Cuir tic (✓) sa bhosca ceart.

10. FREAGAIR 10A NÓ 10B

10A. FEACHTANNA AIGÉIN

Bíonn tionchar ag an bhfeacht aigéin lipéadaithe X ar an léarscáil thall ar an aimsir in Éirinn.

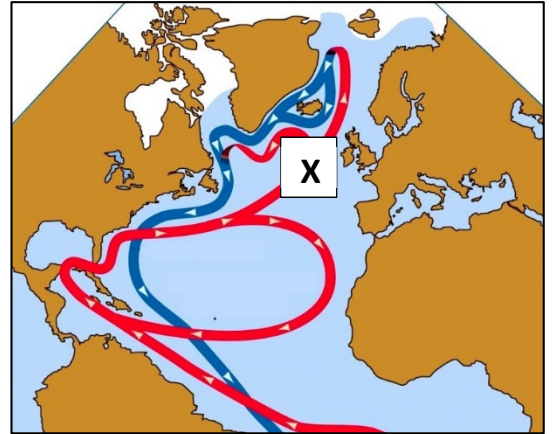
Is é a thugtar ar an bhfeacht aigéin seo ná:

Feacht Labrador

Feacht na gCanárach

Síobadh Mór an Atlantaigh Thuaidh

Feacht na Graonlainne

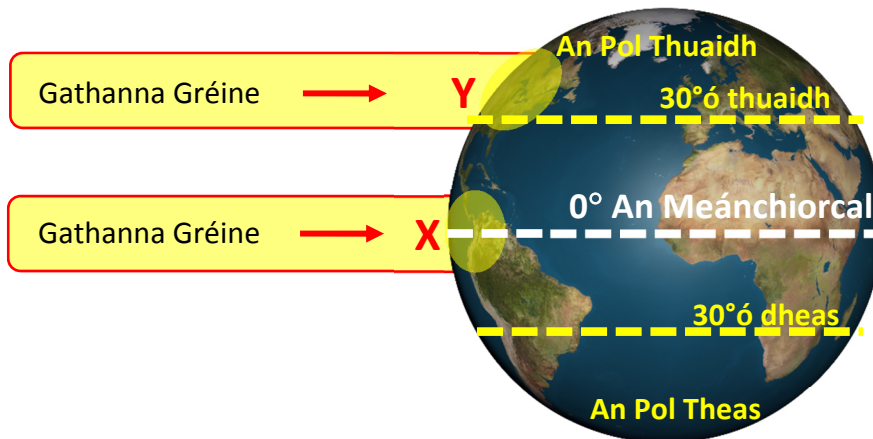


Curtha in oiriúint ó [www.sonoma.edu](http://www.sonoma.edu)

Cuir tic (✓) sa bhosca ceart.

NÓ

10B. ATMAISFÉAR CORRAITHEACH



Curtha in oiriúint ó [www.earthspace solutions.files.wordpress.com](http://www.earthspace solutions.files.wordpress.com)

Scrúdaigh an léaráid thuas a thaispeánann an téamh míchothrom a dhéanann an ghrian ar dhromchla an domhain.

Tá teas na gréine níos mó:

Ag an meánchiorcal ag X

Sa leathsféar thuaidh ag Y

Cuir tic (✓) sa bhosca ceart.

**11. FREAGAIR 11A NÓ 11B**

**11A. AN STÁISIÚN AIMSIRE**

Is é a thugtar ar an mbosca a choimeádann gléasanna aimsire agus a thaispeántar san fhótagraf thall ná:

Taifeadán Campbell-Stokes

Scáthlán Stevenson

Ainéimiméadar

Baraiméadar

Cuir tic (✓) sa bhosca ceart.



**NÓ**

**11B. FAD AR LÉARSCÁIL**

Féach ar léarscáil na Suirbhéireachta Ordanáis a thugtar leis an bpáipéar seo.

An fad i gciliméadair feadh bhóthar an **R 584** ó Dhroichead na Toinne (*Toon Bridge*) ag **W 296 705** go dtí an T-acomhal ag Crois Uí Airtnéada (*Hartnett's Cross*) ag **W 354 719** ná:

6.2 ciliméadar

11.8 ciliméadar

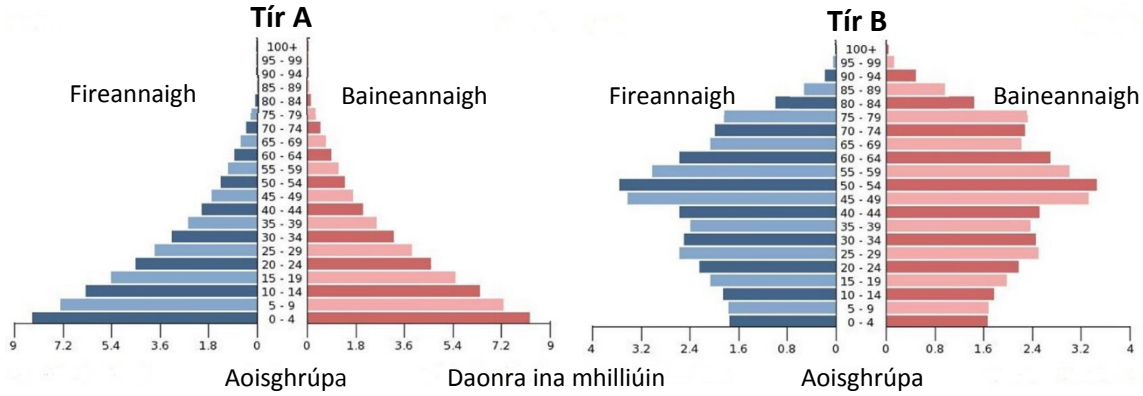
3.9 ciliméadar

Cuir tic (✓) sa bhosca ceart.



12. FREAGAIR 12A NÓ 12B

12A. STAIDÉAR DAONRA



Curtha in oiriúint ó www.cia.gov

Scrúdaigh na pirimidí daonra thuas.

Cé acu tír ar Tír i mbéal Forbartha í?

Tír A

Tír B

Cuir tic (✓) sa bhosca ceart.

NÓ

12B. NAISC CHUMARSÁIDE

Dá dtaistealófá ar bhóthar an M7 ó Luimneach go Baile Átha Cliath, cén treo a dtaistealófá?

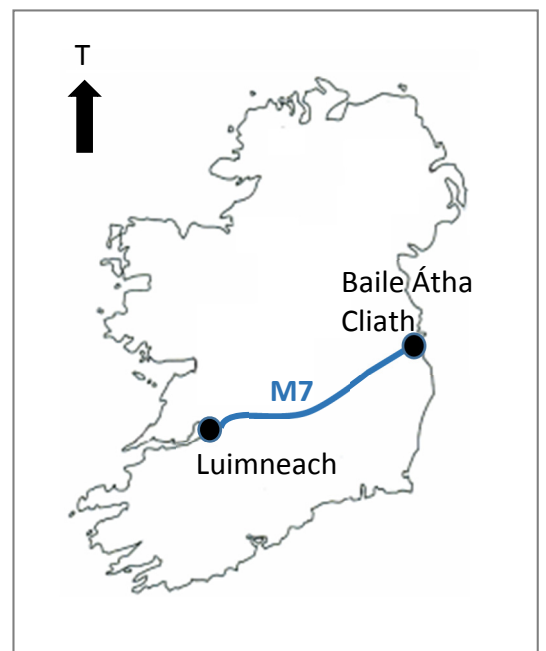
Ón Oirdheisceart go dtí an tIarthuaisceart

Ón Iarthuaisceart go dtí an tIardheisceart

Ón Iarthuaisceart go dtí an tOirdheisceart

Ón Iardheisceart go dtí an tOirthuaisceart

Cuir tic (✓) sa bhosca ceart.



### 13. LUACHANNA TALÚN I GCATHRACHA

Cé acu ceann **amháin** de na ráitis a leanas mar gheall ar luachanna talún i gcathracha atá **FÍOR**?

Méadaíonn luachanna talún i dtreo lár na cathrach.

Titeann luachanna talún i dtreo lár na cathrach.

Ní bhíonn aon athrú ar luachanna i dtreo lár na cathrach.

Cuir tic (✓) sa bhosca ceart.

### 14. PLEANÁIL UIRBEACH



Taispeánann na fótagraif thuas samplaí de áiteanna inar leagadh seantithe agus ina ndearnadh iarracht feabhas a dhéanamh ar phobail.

Is é a thugtar air seo ná:

Sraoilleáil uirbeach

Meathlú uirbeach

Athfhorbairt agus athnuachan uirbeach

Cuir tic (✓) sa bhosca ceart.

## 15. GNÍOMHAÍOCHTAÍ GEILLEAGRACHA

Monarcha Ríomhairí



Monarcha Suiminte



Longhógáil



Féach ar na fótagraif thuas.

Cé acu ceann acu seo a leanas ar sampla é de **thionscal gan chuing?**

Monarcha ríomhairí

Monarcha suiminte

Longhógáil

Cuir tic (✓) sa bhosca ceart.

## 16. AERFÓTAGRAF

Féach ar an aerfótagraf a thugtar leis an bpáipéar seo.

Ceann de na húsáidí talún sa chúlra ar dheis san aerfótagraf ná:

Páirceáil Carranna

Cónaí

Coillearnach Dhuillsilteach

Miondíol / Siopadóireacht

Cuir tic (✓) sa bhosca ceart.

### 17. FOINSÍ FUINNIMH

Cé acu díobh seo a leanas ar samplaí de fhoinsí fuinnimh **neamh-inathnuaite** iad **go léir**?

Gás nádúrtha, uisce, gaoth

Gual, gaoth, grianchumhacht

Gual, gás nádúrtha, ola

Cuir tic (✓) sa bhosca ceart.

### 18. TAGAIRTÍ EANGAÍ

Féach ar léarscáil na Suirbhéireachta Ordanáis a thugtar leis an bpáipéar seo.

Cé acu ceann de na cearnóga eangaí seo a leanas a bhfuil **Príomhbhóthar Náisiúnta** le fáil inti?

W 28 69

W 27 66

W 36 69

W 29 66

Cuir tic (✓) sa bhosca ceart.

### 19. TAGAIRTÍ EANGAÍ

Féach ar léarscáil na Suirbhéireachta Ordanáis a thugtar leis an bpáipéar seo.

An ghné ag **W 321 654** ná:

Oifig Phoist

Caisleán

Galfchúrsa

Gallán

Cuir tic (✓) sa bhosca ceart.

## 20. STAITISTICÍ AGUS CÚNAMH

Chuir an crith talún i Neipeal in 2015 isteach ar nach mór 8 milliún duine. Maraíodh thart ar 9,000 duine agus scriosadh os cionn 600,000 teach.

Thug an tAontas Eorpach freagairt i slite éagsúla agus b'fhiú os cionn €130 milliún an fhreagairt seo. San áireamh anseo, bhí foirne cuardaigh agus tarrthála, soláthairtí leighis agus córais íanúcháin uisce.



Léigh an t-eolas thuas.

Cuir in iúl cé acu atá gach ceann de na ráitis a leanas **FÍOR** nó **BRÉAGACH** agus tic (✓) á chur agat sa bhosca ceart i ngach cás.

RÁITEAS	FÍOR	BRÉAGACH
Scriosadh os cionn 600,000 teach.		
Níor thug an tAontas Eorpach ach €8 milliún mar chúnamh.		
Sampla de chúnamh éigeandála iad foirne cuardaigh agus tarrthála.		

**Leathanach Bán**

**Leathanach Bán**

**Leathanach Bán**