



# Coimisiún na Scrúduithe Stáit

**SCRÚDÚ AN TEASTAIS SHÓISEARAIGH 2016**

---

**TÍREOLAÍOCHT – GNÁTHLEIBHÉAL**

**ROINN 2 (90 marc)**

---

**DÉ hAOINE 10 MEITHEAMH - MAIDIN 9.30 – 11.30**

Tá **ROINN 1** den pháipéar seo i bhfillteán ar leithligh, mar a bhfuil spásanna le haghaidh do chuid freagraí.

NÁ DEARMAD, LE DO THOIL, GO gCAITHFIDH TÚ **FILLTEÁN COMHLÁNAITHE**  
**ROINN 1** A THABHAIRT AR AIS LE DO FHREAGARLEABHAR.

**ROINN 2 (90 marc)**

Freagair **TRÍ** cheist ar bith.

Tá na ceisteanna uile ar cómharc.

**Ceist 1. LÉARSCÁIL NA SUIRBHÉIREACHTA ORDANÁIS**

Scrúdaigh **LÉARSCÁIL NA SUIRBHÉIREACHTA ORDANÁIS** a thugtar leis an bpáipéar seo.

**A.** Tarraing sracléarscáil den limistéar a thaispeántar ar léarscáil na Suirbhéireachta Ordanáis.

Ar do shracléarscáil, **taispeáin** agus **lipéadaigh** gach ceann acu seo a leanas:

- Cuan Chathair na Mart
- An limistéar faoi fhoirgnimh le hais a chéile i gCathair na Mart
- An Príomhbhóthar Náisiúnta N5
- An láithreán Carbhán agus/nó Campála.

(10)

**B.** (i) ‘Tá stair fhada lonnaíochta ag an limistéar a thaispeántar ar an léarscáil.’  
Agus tagairtí eangaí á n-úsáid agat, ainmnigh **AGUS** aimsigh **DHÁ** shampla dhifriúla ar bith de lonnaíochtaí stairiúla.

(ii) Ainmnigh **AGUS** mínigh **DHÁ** shlí a bhféadfadh gur ndeachaigh Cuan Chathair na Mart i bhfeidhm ar fhorbairt Chathair na Mart.

(10)

**C.** Tá sé beartaithe ag cuideachta óstlann nua a thógáil ag **L 940 822**.

Agus fianaise ó léarscáil na Suirbhéireachta Ordanáis á húsáid agat, déan cur síos ar **THRÍ** bhuntáiste a bhainfeadh le hóstlann nua a thógáil ag an suíomh seo.

(10)

## Ceist 2. AERFÓTAGRAF

Scrúdaigh an **tAERFÓTAGRAF** de Chathair na Mart a thugtar leis an bpáipéar seo.

**NÓTA:** Cuimhnigh air gur aerfótagraf fiar atá anseo. Dá bhrí sin, ní mór duit na **téarmaí cearta** a úsáid, an cúlra ar clé, an tulra ar dheis, etc.

**A.** Tá roinnt talamhúsáidí i gCathair na Mart a bhféadfadh sé go ndéanfaidís tairbhe do mhuintir na háite agus do chuartheoirí chun an cheantair.

- (i) Agus na téarmaí cearta (tulra ar dheis etc.) á n-úsáid agat, ainmnigh **AGUS** aimsigh **DHÁ** thalamhúsáid i gCathair na Mart.
- (ii) Míneigh an tairbhe a d'fhéadfadh **gach** ceann, faoi seach, de na talamhúsáidí a d'ainmnigh tú thuas a dhéanamh do mhuintir na háite agus do chuartheoirí chun an cheantair.

(10)

**B.** Tarraing sracléarscáil den limistéar a thaispeántar ar an aerfótagraf.

Ar do shracléarscáil, **taispeáin** agus **lipéadaigh** gach ceann acu seo a leanas:

- Limistéar coillearnaí
- Droichead bóthair
- **DHÁ** shráid a bhuaileann le chéile
- Séipéal le spuaic.

(10)

**C.** Tá sé beartaithe ionad siopadóireachta a thógáil ar an suíomh a thaispeántar sa cúlra ar clé san aerfótagraf.

- (i) Déan cur síos ar **DHÁ** bhuntáiste a bhaineann leis an suíomh seo mar shuíomh don ionad siopadóireachta.
- (ii) Déan cur síos ar mhíbhuntáiste **AMHÁIN** a bhaineann leis an suíomh seo mar shuíomh don ionad siopadóireachta.

(10)

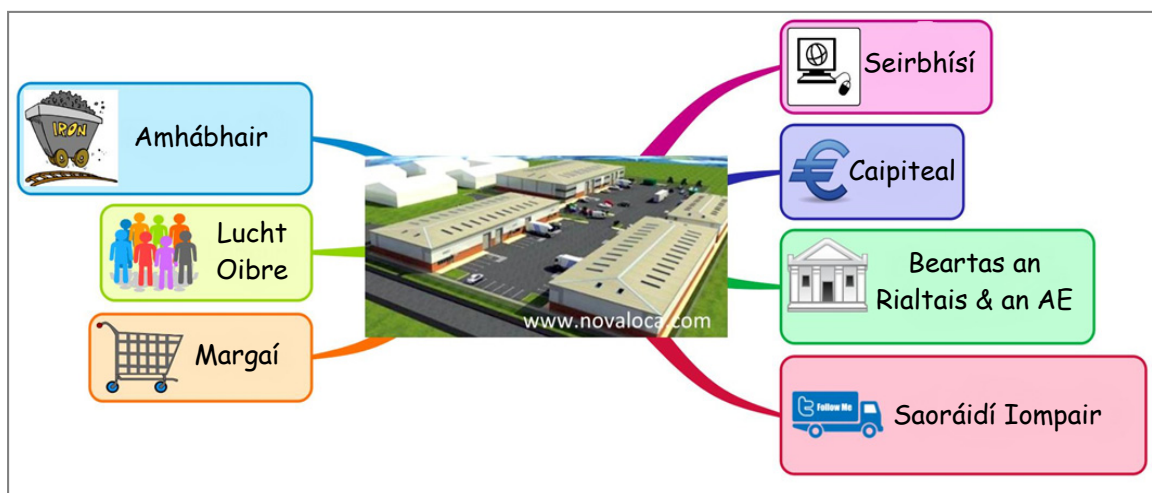
### Ceist 3. GNÍOMHAÍOCHTAÍ GEILLEAGRACHA

#### A. Feirmeoireacht Mheasctha

Agus tagairt agat do fheirm a bhfuil staidéar déanta agat uirthi, déan cur síos ar an tslí ar féidir staidéar a dhéanamh ar fheirm mar chóras le hionchuir, próisis agus aschuir.

(9)

#### B. Suíomh Tionscail



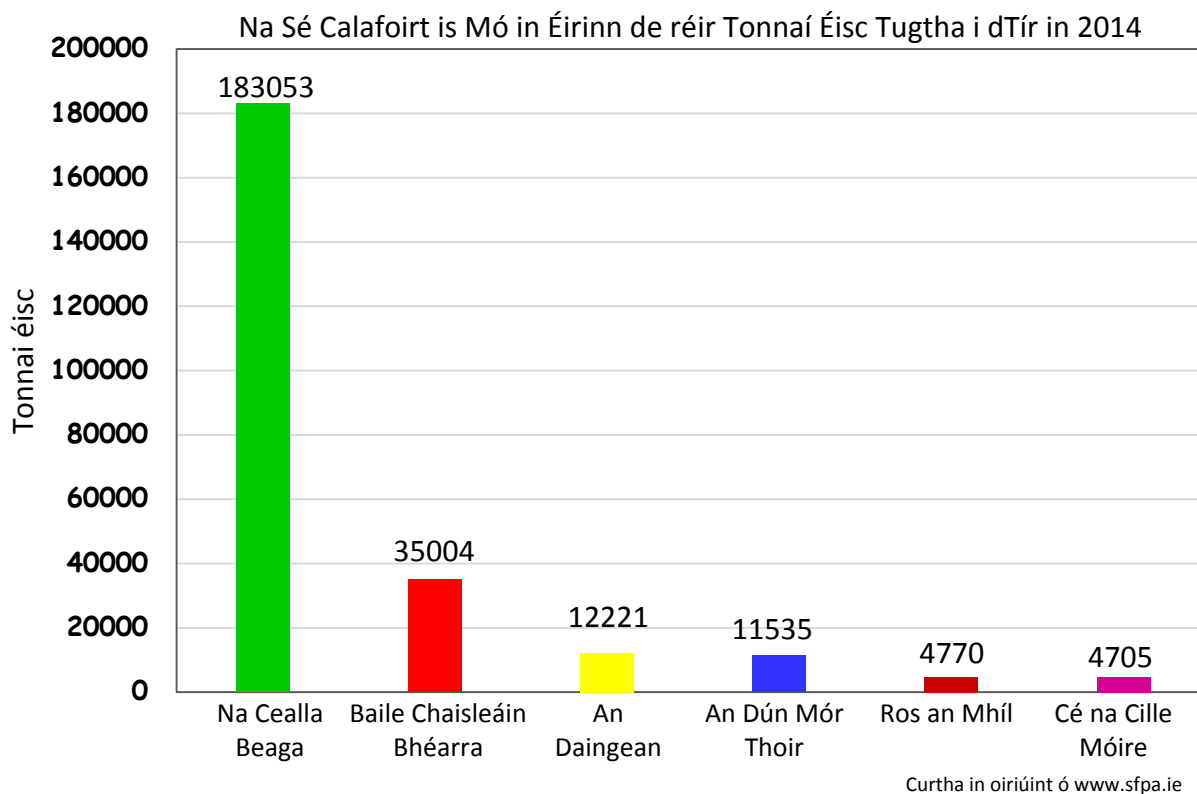
Sa léaráid thuas, taispeántar cuid de na tosca a mbíonn tionchar acu ar shuíomh monarchana.

- (i) Ainmnigh monarcha a bhfuil staidéar déanta agat uirthi **AGUS** tabhair an suíomh ina bhfuil sí.
- (ii) Déan cur síos ar an tslí a raibh tionchar ag **TRÍ** cinn ar bith de na tosca sa léaráid thuas ar shuíomh na monarchan a d'ainmnigh tú thuas.

(11)

### Ceist 3. GNÍOMHAÍOCHTAÍ GEILLEAGRACHA (ar lean)

#### C. IASCAIREACHT



Scrúdaigh an graf thuas agus freagair gach ceann de na ceisteanna a leanas.

- (i) Cén calafort inar tugadh an dara tonnáiste is mó éisc i dtír in 2014?
- (ii) Ríomh ina thonnaí an líon **iomlán** éisc a tugadh i dtír sa Dún Mór Thoir agus i gCé na Cille Móire le **chéile**.
- (iii) Míneigh **DHÁ** chúis atá le róshaothrú éisc in uisce na hÉireann.
- (iv) Ainmnigh speiceas **AMHÁIN** éisc atá i mbaol mar thoradh ar ró-iascaireacht.

(10)

## Ceist 4. MEASCÁN TÍREOLAÍOCHTA

Freagair **TRÍ CINN AR BITH** de na ceisteanna **4A, 4B, 4C, 4D**.

### 4A. Éagothroime Gheilleagrach

#### €3 mhilliún geallta ag Éirinn do Chiste Daonnúil na Náisiún Aontaithe don tSúdáin Theas

10 Feabhra 2015

Tá an Rialtas chun €3 mhilliún a thabhairt chun bia, cógais leighis, oideachas agus soláthair ríthábhachtacha a chur ar fáil do na mílte teaghlach sa tSúdáin Theas a raibh orthu a n-áiteanna cónaithe a fhágáil de bharr an chogaidh.

Bhí ar beagnach 2 mhilliún duine a n-áiteanna cónaithe a fhágáil mar thoradh ar fhoréigean forleathan, tá a bhformhór asáitithe laistigh den tSúdáin Theas agus tá beagnach leathmhilliún duine tar éis tearmann a lorg sna tíortha máguaird.



Curtha in oiriúint ó [www.irishaid.ie/news-publications](http://www.irishaid.ie/news-publications)

Scrúdaigh an t-eolas thuas agus freagair gach ceann de na ceisteanna a leanas.

- (i) Cé mhéid airgid a gheall Éire do chiste daonnúil na Náisiún Aontaithe don tSúdáin Theas?
- (ii) Cén fáth ar theith daoine óna n-áiteanna cónaithe?
- (iii) Cé mhéid duine a lorg tearmann sna tíortha máguaird?
- (iv) Mínigh an téarma *Cúnamh Éigeandála*.
- (v) Ainmnigh **AGUS** mínigh cineál **AMHÁIN** eile cúnaimh.

(10)

### 4B. Staidéar ar Dhaonra

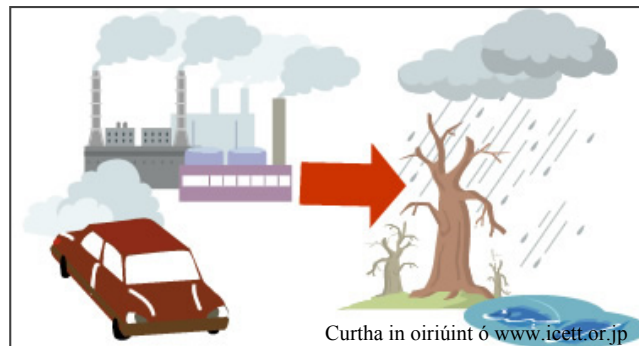
Roghnaigh tír **AMHÁIN** san Eoraip a bhfuil staidéar déanta agat uirthi (Éire **nó** an tSualainn **nó** an Iodáil).

- (i) Ainmnigh limistéar **AMHÁIN** sa tír Eorpach seo ina bhfuil dlús **íseal** daonra.
- (ii) Ainmnigh limistéar **AMHÁIN** sa tír Eorpach seo ina bhfuil dlús **ard** daonra.
- (iii) Mínigh **DHÁ** chúis a bhfuil dlús **ard** daonra sa limistéar a d'ainmnigh tú thuas.

(10)

#### Ceist 4. MEASCÁN TÍREOLAÍOCHTA (ar lean)

##### 4C. Báisteach Aigéadach



- (i) Mínigh cúis **AMHÁIN** le báisteach aigéadach.
- (ii) Déan cur síos ar iarmhairt **AMHÁIN** ar bháisteach aigéadach.
- (iii) Ainmnigh **DHÁ** shlí inar féidir le daoine báisteach aigéadach a laghdú.

(10)

##### 4D. Staidéar Uirbeach



- (i) Ainmnigh cathair **AMHÁIN** a bhfuil staidéar deánta agat uirthi.  
Déan cur síos agus tabhair miniú ar **DHÁ** fhadhb ar bith a bhíonn sa chathair sin.
- (ii) Mínigh ceann **AMHÁIN** de na téarmaí a leanas:
  - Athnuachan uirbeach
  - Athfhorbairt uirbeach
  - Lárcheantar Gnó.

(10)

## Ceist 5. TÍREOLAÍOCHT FHSICEACH

### A. Ag Múnlú Dhromchla an Domhain

Ainmnigh gné **AMHÁIN** a fhoirmítear mar thoradh ar shil-leagan abhann.

Mínigh, agus léaráid(i) mar chúnamh agat conas a foirmíodh an ghné seo.

(10)

### B. Creathanna Talún

(i) Mínigh conas a tharlaíonn creathanna talún.

(ii) Déan cur síos ar **DHÁ** iarmhairt a bhíonn ag crith talún ar chathair mhór.

(10)

### C. Ollghluaiseacht



(i) Ainmnigh **DHÁ** cineál ollghluaiseachta ar bith **AGUS** luaigh cé acu an sampla d'ollghluaiseacht **mhear** nó d'ollghluaiseacht **mhall** gach cineál ollghluaiseachta a d'ainmnigh tú.

(ii) Roghnaigh ceann **AMHÁIN** de na cineálacha ollghluaiseachta a d'ainmnigh tú thuas agus mínigh conas a tharlaíonn sé.

(iii) Déan cur síos ar fhadhb **AMHÁIN** a d'fhéadfadh teacht chun cinn mar thoradh ar ollghluaiseacht.

(10)



# **Leathanach Bán**

# **Leathanach Bán**

# **Leathanach Bán**

# **Leathanach Bán**