

RABHADH

Ná déan dearmad an páipéar seo a chur ar ais le do fhreagarleabhar, nó caillfear marcanna.

Scríobh do Scrúduithe anseo:



Coimisiún na Scrúduithe Stáit

SCRÚDÚ AN TEASTAIS SHÓISEARAIGH 2016

TÍREOLAÍOCHT – GNÁTHLEIBHÉAL

ROINN 1 – FILLTEÁN (60 marc)

DÉ hAOINE 10 MEITHEAMH – MAIDIN 9.30 - 11.30

NÓTA: TÁ ROINN 2 DEN SCRÚDÚ SEO AR PHÁIPÉAR AR LEITHLIGH

ROINN 1 (60 marc)

Freagair **GACH** ceist.
Tá rogha agat laistigh de cheithre cheist.
Déan deimhin de go gcuireann tú an fillteán seo ar ais le do
fhreagarleabhar.
Mura gcuireann tú, caillfear marcanna.

1. SCREAMH AN DOMHAIN

Taispeánann an fótagraf seo filleadh sna Sléibhte Creagacha.

Foirmítear fillsléibhte:

Nuair a ghluaiseann plátaí óna chéile

Nuair a bhuaileann plátaí lena chéile

Nuair a tharlaíonn sciorradh talún



Cuir tic (✓) sa bhosca ceart.

2. BOLCÁIN

Nuair a phléascann bolcán, is é a thugtar ar an ábhar te, leáite a shreabhann ó chráitéar an bholcáin ná:

Gluaiseacht ilchríochach

Moiréan

Laibhe

Cuir tic (✓) sa bhosca ceart.

3. CARRAIGEACHA



Féach ar an fótagraf thuas.

Is sampla de Bhrruthcharraig a foirmíodh nuair a d'fhuaigh laibhe go mear ar dhromchla an domhain é(i):

Aolchloch

Grianchloichít

Basalt

Eibhear

Cuir tic (✓) sa bhosca ceart.

4. UISCE

Taispeánann an fótagraf scéim uiscithe.

Is é is brí le huisciú ná:

Uisce a dhraenáil ó thalamh fhliuch.

Míntíriú a dhéanamh ar thalamh faoi uisce.

Uisce a thabhairt go dtí talamh thirim.

Cuir tic (✓) sa bhosca ceart.



5. OLLGHLUAISEAIGHT

Taispeánann an fótagraf seo screathan i gContae Chill Mhantáin.

Gluaiseann ábhar síonchaite (ithreacha, clocha, láib, etc.) le fána:

Faoi thionchar domhantarraingthe

Faoi thionchar fuinneamh gréine

Faoi thionchar triomaigh

Faoi thionchar creimthe



Cuir tic (✓) sa bhosca ceart.

6. AIBHNEACHA

Is é a thugtar ar an tírghné a bhaineann le creimeadh abhann san fhótagraf seo ná:


Lúb

Eas

Deilt

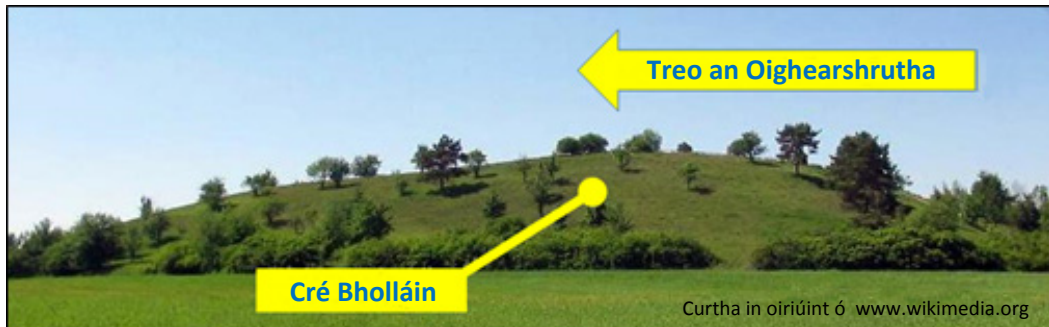
Speir chomhthrasnach

Cuir tic (✓) sa bhosca ceart.



7. FREAGAIR 7A NÓ 7B

7A. OIGHRIÚ



Taispeánann an fótagraf seo cnoc beag maolaithe a foirmíodh as cré bholláin a ndearna oighearshruth í a shil-leagan.

Is é a thugtar ar an gcnoc seo ná:

Carraig chorr

Droimnín

Moiréan

Cuir tic (✓) sa bhosca ceart.

NÓ

7B. CÓSTAÍ

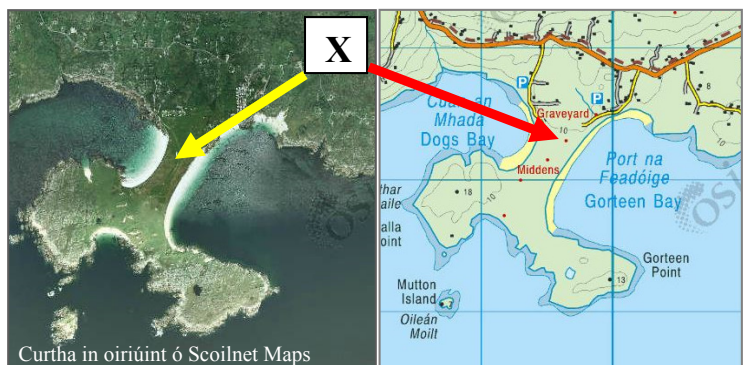
Is é a thugtar ar an tírghné chósta a bhaineann le sil-leagan agus atá lipéadaithe X ná:

Tambaló

Gob gainimh

Murlach

Cuir tic (✓) sa bhosca ceart.



8. FREAGAIR 8A NÓ 8B

8A. GAOTHA AN DOMHAIN

Is é a thugtar ar an ngaoth is coitianta a shéideann in áit ná:

Coriolis

Gnáthghaoth

Feachtaí

Domhanleithí

Cuir tic (✓) sa bhosca ceart.

NÓ

8B. CINEÁLACHA AERÁIDE

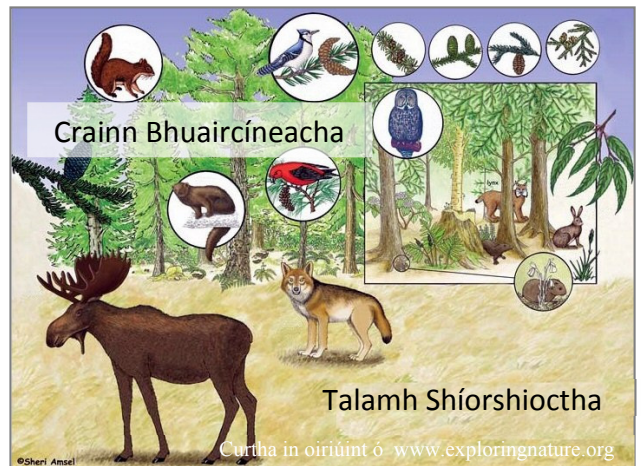
Cén cineál aeráide a bhfuil an fásra, an fiadhúlra agus an talamh shíorshioctha sa phictiúr seo mar thoradh air?

Bóireach

Teomheasarta aigéanach

Meánchriosach

Gaineamhlach te



Cuir tic (✓) sa bhosca ceart.

9. FREAGAIR 9A NÓ 9B

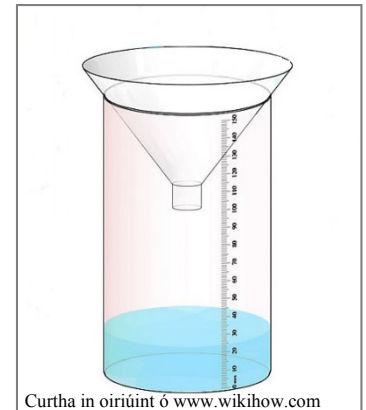
9A. AN STÁISIÚN AIMSIRE

Is é atá san uirlis aimsire a thaispeántar sa phictiúr seo ná:

Baraiméadar

Méadar báistí

Ainéimiméadar



Cuir tic (✓) sa bhosca ceart.

NÓ

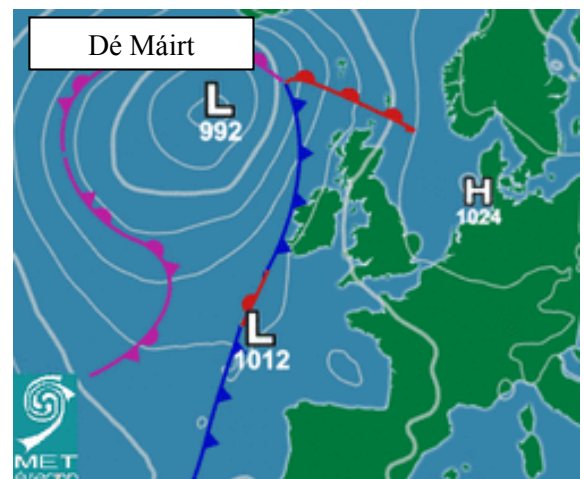
9B. CÓRAIS AIMSIRE

Is é a thugtar ar an bhfronta atá ag cósta thiar na hÉireann ná:

Fronta fuar

Fronta te

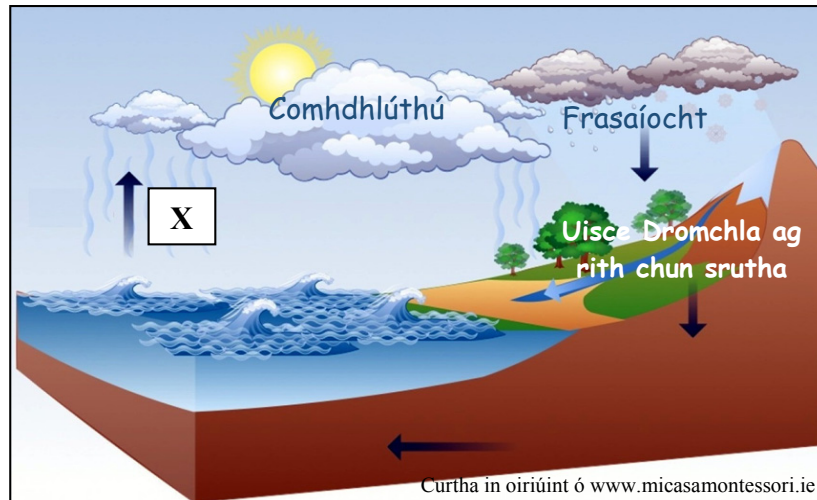
Fronta oclúidithe



Cuir tic (✓) sa bhosca ceart.

10. FREAGAIR 10A NÓ 10B

10A. TIMTHRIALL AN UISCE



Féach ar an léaráid thuas.

An próiseas atá ag tarlú ag **X** ná:

Galú

Fairsingiú fásaigh

Báisteach aigéadach

Imirce

Cuir tic (✓) sa bhosca ceart.

NÓ

10B. FAD AR LÉARSCÁIL NA SUIRBHÉIREACHTA ORDANÁIS

Féach ar léarscáil na Suirbhéireachta Ordanáis a thugtar leis an bpáipéar seo.

An fad ina chiliméadair ar feadh an bhóthair an N5 ó **M 040 849** go dtí an t-acomhal leis an mbóthar den Tríú Grád ag **M 008 848** ná:

6.4 ciliméadar

2.6 ciliméadar

3.2 ciliméadar

Cuir tic (✓) sa bhosca ceart.

11. DAOINE AG GLUAISEACHT



Taispeánann an léaráid thuas Seirbhís Chabhlaigh na hÉireann ag teacht i gcabhair ar imircigh sa Mheánmhuir in 2015 agus cuid de na cúiseanna gur fhág na daoine seo a dtíortha dúchais.

Is é a thugtar ar na cúiseanna seo ná:

Tosca tarraingthe

Tosca brú

Baic ar imirce

Cuir tic (✓) sa bhosca ceart.

12. AERFÓTAGRAF

Féach ar an aerfótagraf de Chathair na Mart a thugtar leis an bpáipéar seo.

Tá séipéal suite:

Sa tulra ar clé

Sa chúlra ar clé

Sa chúlra ar dheis

Sa tulra láir

Cuir tic (✓) sa bhosca ceart.

13. STAITISTICÍ SA TÍREOLAÍOCHT

Féach ar an gcairt thall.
Taispeánann sí céatadán (%) na n-astaíochtaí gás ceaptha teasa in Éirinn.

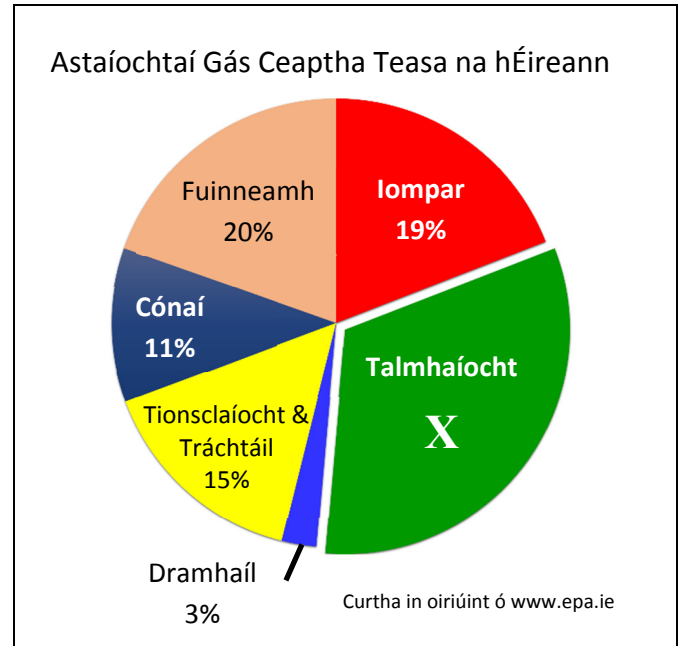
An céatadán d’astaíochtaí gás ceaptha teasa ón talmhaíocht, lipéadaithe **X**, ná:

24%

32%

43%

Cuir tic (✓) sa bhosca ceart.



14. GNÍOMHAÍOCHTAÍ GEILLEAGRACHA



Iascaire



Oibrí Monarchan



Garda

Cé acu ceann díobh seo a leanas ar sampla d’oibrí é(i) i ngníomhaíocht gheilleagrach **thánaisteach**?

Iascaire

Oibrí monarchan

Garda

Cuir tic (✓) sa bhosca ceart.

15. NAISC CHUMARSÁIDE

Taispeánann an léarscáil seo cuid de ghréasán iarnróid na Fraince.

Dá dtaistealófá ó Pháras go Lyon, cén treo ina mbeifeá ag taisteal?

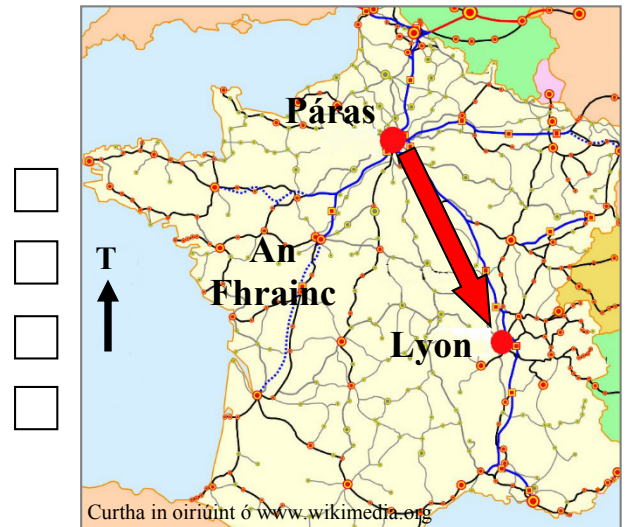
Ón Iar-Thuaisceart go dtí an tOir-Dheisceart

Ón Oir-Dheisceart go dtí an tIar-Thuaisceart

Ón Oir-Thuaisceart go dtí an tIar-Dheisceart

Ón Iar-Dheisceart go dtí an tOir-Thuaisceart

Cuir tic (✓) sa bhosca ceart.



16. TAGAIRTÍ EANGAÍ

Féach ar léarscáil na Suirbhéireachta Ordanáis a thugtar leis an bpáipéar seo.

An airde a thaispeánann an spotairde ar Inis Raithir (*Inishraher*) ag an tagairt eangai **L 925 852** ná:

17 méadar

21 méadar

33 méadar

12 méadar

Cuir tic (✓) sa bhosca ceart.

17. TAGAIRTÍ EANGAÍ

Féach ar léarscáil na Suirbhéireachta Ordanáis a thugtar leis an bpáipéar seo.

An cineál foraoiseachta a thaispeántar ag an tagairt eangai **L 98 81** ná:

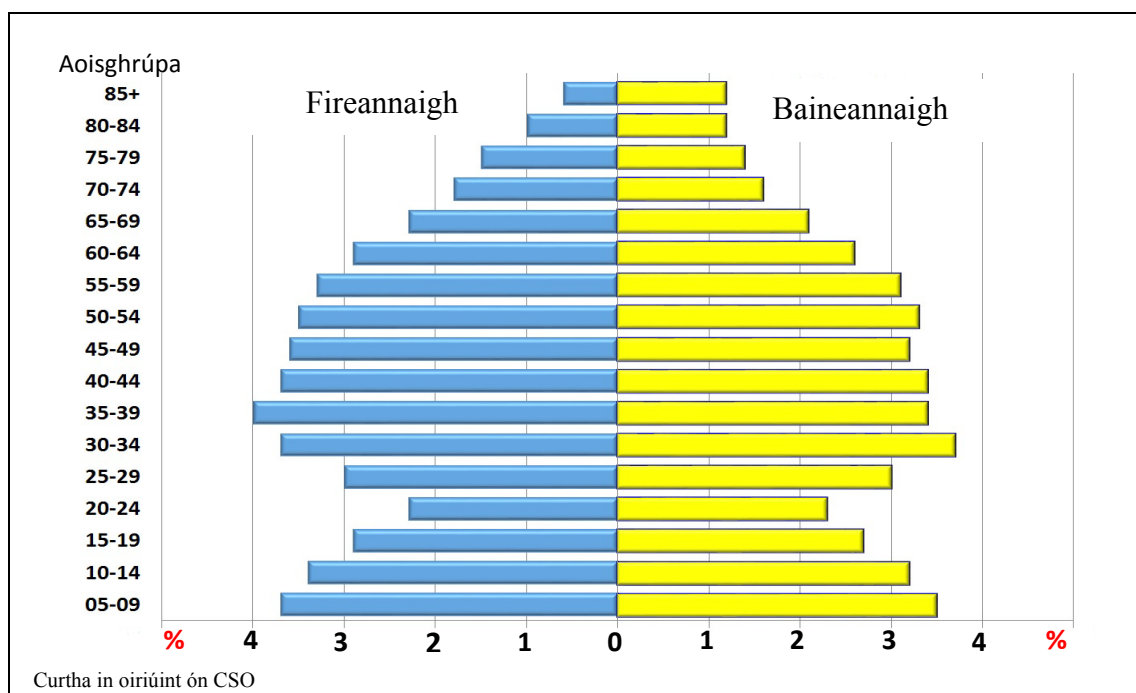
Fáschoill bhuaircíneach

Coillearnach dhuillsilteach

Coillearnach mheasctha

Cuir tic (✓) sa bhosca ceart.

18. DAONRA



Taispeánann an phirimid daonra thuas struchtúr an daonra i gceantar amháin i nDaonáireamh 2011.

An céatadán iomlán fireannach **agus** baineannach idir 25 agus 29 bliana d’aois ná:

10%

2%

6%

Cuir tic (✓) sa bhosca ceart.

19. LONNAÍOCHT

Is féidir rangú a dhéanamh ar lonnaíochtaí de réir a bhfeidhm. An **phríomhfheidhm** atá leis an lonnaíocht a thaispeántar san fhótagraf seo ná:

Cosaint

Reiligiún

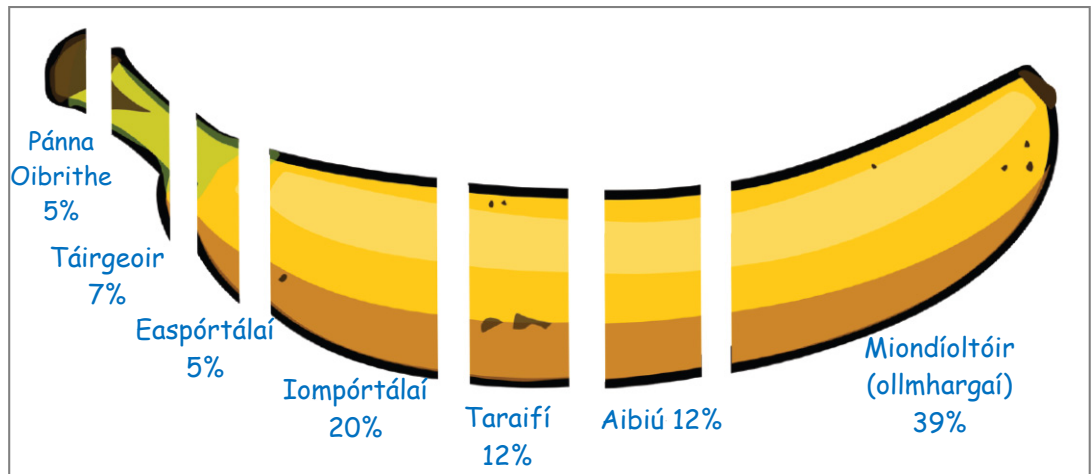
Calafort

Acmhainn



Cuir tic (✓) sa bhosca ceart.


20. ÉAGOTHROIME GHEILLEAGRACH



Curtha in oiriúint ó www.fairtrade.ie

Taispeánann an léaráid thuas an meán-mhiondealú de réir céatadán (%) ar luach banana a ndéantar é a iompórtáil go hÉirinn.

Cuir tic (✓) sa bhosca ceart i ngach cás chun a chur in iúl cé acu atá gach ceann de na ráitis a leanas **FÍOR** nó **BRÉAGACH**.

RÁITEAS	FÍOR	BRÉAGACH
Tuilleann miondíoltóirí (ollmhargaí) an méid is lú ó gach banana a ndéantar é a iompórtáil go hÉirinn.		
Faigheann oibrithe 12% ó gach banana a ndéantar é a iompórtáil go hÉirinn.		
 Cuireann an Líonra Cóirtrádála béim ar phraghas cothrom do tháirgeoirí (feirmeoirí) bananaí agus barra margaidh eile.		

Leathanach Bán

Leathanach Bán

Leathanach Bán