



Coimisiún na Scrúduithe Stáit

SCRÚDÚ AN TEASTAIS SHÓISEARAIGH, 2014

TÍREOLAÍOCHT – GNÁTHLEIBHÉAL

ROINN 2 (90 marc)

DÉ hAOINE, 6 MEITHEAMH – MAIDIN, 9.30 - 11.30

Tá **ROINN 1** den pháipéar seo i bhfillteán ar leithligh, mar a bhfuil spásanna le haghaidh do chuid freagraí.

NÁ DEARMAD, LE DO THOIL, GO gCAITHFIDH TÚ **FILLTEÁN COMHLÁNAITHE ROINN 1** A THABHAIRT AR AIS LE DO FHREAGARLEABHAR.

ROINN 2 (90 marc)

Freagair **TRÍ** cheist ar bith.

Tá na ceisteanna uile ar cómharc.

Ceist 1. LÉARSCÁIL NA SUIRBHÉIREACHTA ORDANÁIS

Déan staidéar ar léarscáil na Suirbhéireachta Ordanáis de Dhún Garbhán agus ar an eochair eolais a thugtar leis an bpáipéar seo.

- A.** Tarraing sracléarscáil den limistéar a thaispeántar ar léarscáil na Suirbhéireachta Ordanáis.

Ar do shracléarscáil **taispeáin** agus **lipéadaigh** gach ceann acu seo a leanas:

- Abhainn Choilligeáin (Colligan River)
- An limistéar faoi fhoirgnimh le hais a chéile i nDún Garbhán
- Príomhbhóthar Náisiúnta an N25
- Séadchomhartha **AMHÁIN**.

[10]

- B.** Cuirtear cineálacha éagsúla seirbhísí ar fáil i mbaile Dhún Garbhán.

Agus tagairtí eangaí á n-úsáid agat, ainmnigh **TRÍ** cinn de na seirbhísí seo agus luaigh an suíomh ina bhfuil siad.

[9]

- C.** Iarradh ort monarcha a thógáil ar Chnoc Buí (Knockboy) (**X 27 95**).

- (i) Luaigh an cineál monarchan a thógfá **agus** déan cur síos ar **DHÁ** bhuntáiste don monarcha a bhaineann leis an suíomh seo.
- (ii) Déan cur síos ar mhíbhuntáiste **AMHÁIN** don monarcha a bhaineann leis an suíomh seo.

[11]

Ceist 2. AERFÓTAGRAF

Déan staidéar ar an aerfótagraf de Dhún Garbhán a thugtar leis an bpáipéar seo.

NÓTA: Cuimhnigh air gur fótagraf fiar é seo. Dá bhrí sin, ní mór duit na **téarmaí cearta** a úsáid, e.g. cúlra ar clé, tulra ar dheis, etc.

A. Tarraing sracléarscáil den limistéar ar fad a thaispeántar ar an aerfótagraf.

Ar do sracléarscáil, **taispeáin** agus **lipéadaigh** gach ceann acu seo a leanas:

- Trá
- Droichead
- **DHÁ** shráid a bhuaileann le chéile
- Limistéar tithíochta.

[10]

B. Míinigh **DHÁ** chúis ar fhás an baile sa suíomh seo, agus bíodh tagairt don aerfótagraf agat i gcás gach cúis acu.

[8]


C. (i) Agus na téarmaí cearta á n-úsáid agat, ainmnigh agus tabhair suíomh **DHÁ** rud a thaispeántar ar an aerfótagraf ar díol spéise do thurasóirí iad.

(ii) Míinigh cén fáth ar díol spéise do thurasóirí iad gach ceann de na rudaí a luaigh tú i gcuid (i) thuas.

[12]

Ceist 3. TÍREOLAÍOCHT EACNAMAÍOCH

A. Acmhainn Nádurtha – Móin



www.heartland.ie www.bordnamona.ie

Scrúdaigh na fótagraif thuas. Taispeánann siad céimeanna difriúla a bhaineann le bhaint agus iompar móna ó phortaigh.

- (i) Déan cur síos ar an tslí ar chuir meaisíní difriúla (teicneolaíocht dhifriúil) leis an méid móna is féidir a bhaint agus a iompar ar shiúl ó phortaigh.
- (ii) Ainmnigh úsáid **amháin** is féidir a bhaint as lagphortaigh tar éis an mhóin a bhaint agus a iompar ar shiúl, agus déan cur síos air.

[10]

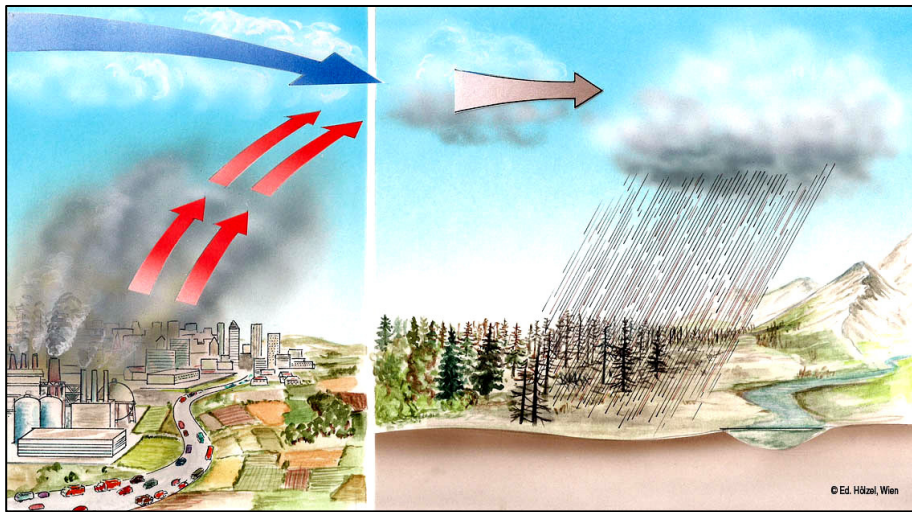
B. Turasóireacht

- (i) Ainmnigh tír nó réigiún **AMHÁIN** san Eoraip ina n-imríonn an aeráid tionchar mór ar an turasóireacht.
- (ii) Ainmnigh agus mínigh **TRÍ** chúis a bhfuil an turasóireacht tábhachtach sa cheantar a d'ainmnigh tú.

[10]

Ceist 3. TÍREOLAÍOCHT EACNAMAÍOCH (ar lean)

C. Tionsclaíocht agus Timpeallacht



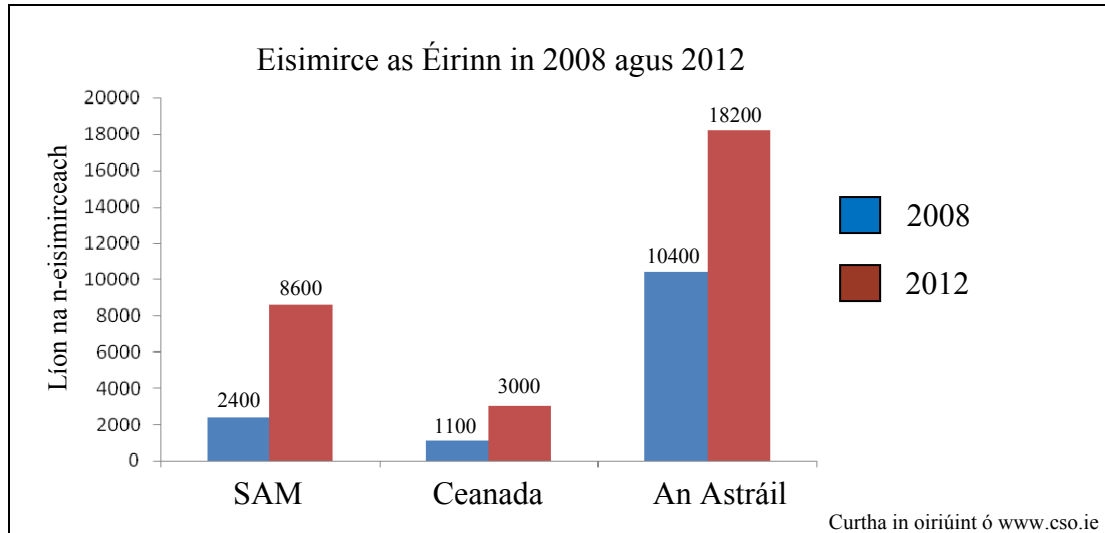
- (i) Mínígh cúis **AMHÁIN** leis an mbáisteach aigéadach.
- (ii) Déan cur síos ar shlí **AMHÁIN** a dtéann an bháisteach aigéadach i bhfeidhm ar an domhan.
- (iii) Ainmnigh **DHÁ** shlí ar féidir le daoine báisteach aigéadach a chosc.

[10]

Ceist 4. MEASCÁN TÍREOLAÍOCHTA

Freagair TRÍ CINN AR BITH de na ceisteanna 4A, 4B, 4C, 4D.

4A. Imirce



Taispeánann an graf seo líon na ndaoine a chuaigh ar imirce as Éirinn go dtí SAM, Canada agus an Astráil in 2008 agus 2012.

Scrúdaigh an graf thuas agus freagair gach ceann de na ceisteanna a leanas.

- (i) Cé mhéad duine a chuaigh ar imirce chun na hAstráile in 2012?
- (ii) Ríomh an t-ardú a tháinig ar líon na ndaoine a chuaigh ar imirce go SAM idir 2008 agus 2012.
- (iii) Déan cur síos ar chúis **AMHÁIN** leis an ardú a tháinig ar líon na n-eisimirceach a d'fhág Éire idir 2008 agus 2012.
- (iv) Ainmnigh slí **AMHÁIN** a mbaineann rialtais úsáid as staitisticí faoin daonra.

[10]


4B. Fadhbanna Uirbeacha

- (i) Ainmnigh cathair **AMHÁIN** sa **domhan i mbéal forbartha** a bhfuil staidéar déanta agat uirthi.
- (ii) Déan cur síos ar **THRÍ** fhadhb a bhíonn ag daoine a mhaireann sa chathair sin.

[10]

Ceist 4. MEASCÁN TÍREOLAÍOCHTA (ar lean)

4C. Tomhas na hAimsire

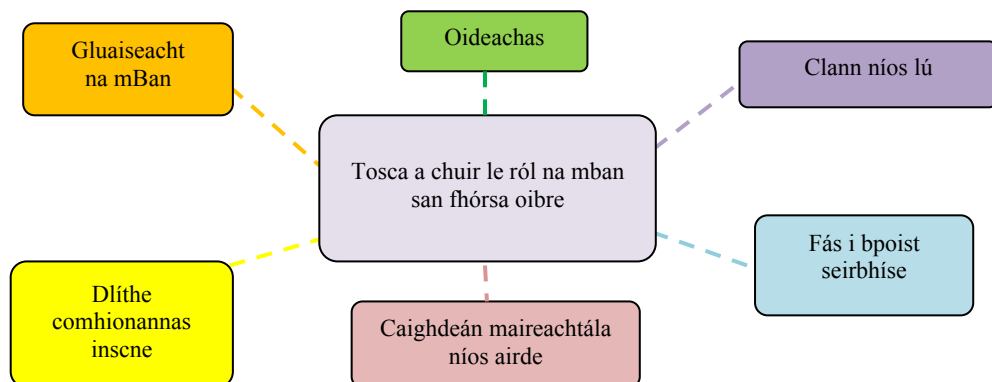


- (i) Ainmnigh **DHÁ** cheann ar bith de na gléasanna aimsire **A, B, C, D, E** a thaispeántar thuas.
- (ii) Mínígh cén fáth a bhfuil tábhacht ag baint le réamhaisnéisí aimsire cruinne i gcás **DHÁ** cheann de na grúpaí a leanas:

Iascairí Feirmeoirí Píolótaí Aerlínte Turasóirí.

[10]

4D. Mná san Fhórsa Oibre



Scrúdaigh an chairt thuas a thaispeánann na tosca (cúiseanna) a chuir le ról na mban san fhórsa oibre.

- (i) Mínígh conas a chabhraigh **DHÁ** cheann ar bith de na tosca (cúiseanna) thuas le cur le ról na mban san fhórsa oibre.
- (ii) Ainmnigh dúshlán **AMHÁIN** faoi ról na mban san fhórsa oibre.

[10]

Ceist 5. TÍREOLAÍOCHT FHISICEACH

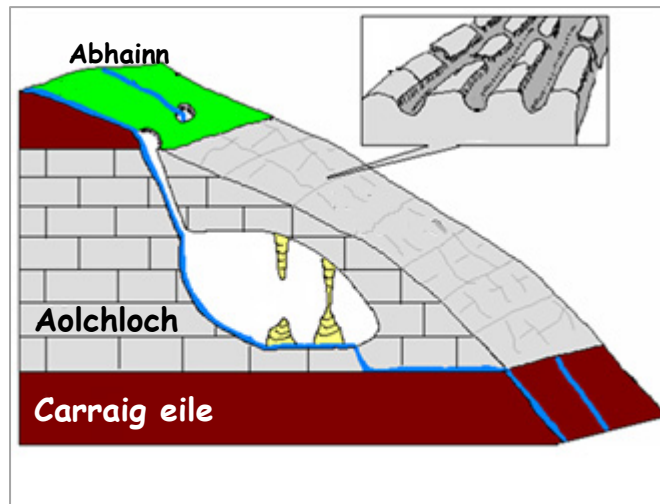
A. Creathanna Talún

Fócas	Gluaiseacht Ilchríochach	
Scála Richter	Seismeagraf	Súnámaí

- (i) Mínigh **DHÁ** cheann ar bith de na téarmaí sa liosta sa bhosca thuas.
- (ii) Ainmnigh áit **AMHÁIN** ar an domhan ina dtarlaíonn creathanna talún go minic.
- (iii) Déan cur síos ar **DHÁ** shlí a dtéann crith talún i bhfeidhm ar chathair mhór.

[10]

B. Síonchaitheamh



Taispeántar tírdhreach aolchloiche sa léaráid thuas.

- (i) Ainmnigh sampla **AMHÁIN** de thírdhreach aolchloiche in Éirinn.
- (ii) Ainmnigh gné **AMHÁIN** a fhaightear *faoi thalamh* i gceantar aolchloiche agus mínigh conas a cruthaíodh í.
- (iii) Ainmnigh gné *dhromchla* **AMHÁIN** a fhaightear i gceantar aolchloiche agus mínigh conas a cruthaíodh í.

[10]

C. Creimeadh

- (i) Ainmnigh gné **AMHÁIN** a bhíonn ann de thoradh creimeadh abhann **nó** oighearchreimeadh **nó** creimeadh cósta.
- (ii) Mínigh, le cabhair léaráide, conas a cruthaíodh an ghné sin.

[10]