



Coimisiún na Scrúduithe Stáit

SCRÚDÚ AN TEASTAIS SHÓISEARAIGH, 2013

TÍREOLAÍOCHT – GNÁTHLEIBHÉAL

ROINN 2 (90 marc)

DÉ hAOINE, 7 MEITHEAMH – MAIDIN, 9.30 - 11.30

Tá **ROINN 1** den pháipéar seo i bhfillteán ar leithligh, mar a bhfuil spásanna le haghaidh do chuid freagraí.

NÁ DEARMAD, LE DO THOIL, GO gCAITHFIDH TÚ **FILLTEÁN COMHLÁNAITHE ROINN 1** A THABHAIRT AR AIS LE DO FHREAGARLEABHAR.

ROINN 2 (90 marc)

Freagair **TRÍ** cheist ar bith.

Tá na ceisteanna uile ar cómharc.

Ceist 1. LÉARSCÁIL NA SUIRBHÉIREACHTA ORDANÁIS

Déan staidéar ar léarscáil na Suirbhéireachta Ordanáis d’Inis Córthaidh agus ar an eochair eolais a thugtar leis an bpáipéar seo.

- A. Tarraing sracléarscáil den limistéar a thaispeántar ar léarscáil na Suirbhéireachta Ordanáis.

Ar do shracléarscáil **taispeáin** agus **lipéadaigh** gach ceann acu seo a leanas:

- Abhainn na Sláine
- An limistéar faoi fhoirgnimh (le hais a chéile) in Inis Córthaidh
- Limistéar ina bhfuil Coill Nádúrtha
- Príomhbhóthar Náisiúnta an N11.

[10]

- B. “Seanbhaile é Inis Córthaidh. D’fhás sé sa suíomh seo ar chúiseanna éagsúla.”

Agus tagairtí eangai á n-úsáid agat, mínigh **THRÍ** chúis ar fhás Inis Córthaidh sa suíomh seo.

[12]

- C. Tá Eastát Tionsclaíochta (Industrial Estate) ar an taobh thoir den N11 ag **S 977 419**.

- Mínigh **DHÁ** chúis a dtógtar eastáit tionsclaíochta ar imeall bailte móra de ghnáth.
- Ainmnigh **DHÁ** sheirbhís ar bith atá ar fáil d’oibrithe monarchan sa limistéar faoi fhoirgnimh in Inis Córthaidh.

[8]

Ceist 2. AERFÓTAGRAF

Déan staidéar ar an aerfótagraf d'Inis Córthaidh a thugtar leis an bpáipéar seo.

[NÓTA: Cuimhnigh – is fótagraf fiar é seo. Dá bhrí sin, is cóir duit na **téarmaí cearta** a úsáid, e.g. cúlra ar clé, tulra ar dheis, etc.]

A. Tarraing sracléarscáil den limistéar ar fad a thaispeántar ar an aerfótagraf.

Ar do shracléarscáil, **taispeáin** agus **lipéadaigh** gach ceann acu seo a leanas:

- Abhainn
- Droichead do ghluaisteáin
- **DHÁ** shráid a bhuaileann le chéile
- Séipéal a bhfuil spuaic air.

[10]

B. Agus na téarmaí cearta á n-úsáid agat, ainmnigh agus luaigh suíomh **DHÁ** thalamhúsáid i mbaile mór Inis Córthaidh, agus déan cur síos ar gach talamhúsáid díobh.

[8]

C. Iarradh ort scoil nua a thógáil in Inis Córthaidh.


- (i) Agus na téarmaí cearta á n-úsáid agat, aimsigh suíomh oiriúnach don scoil sa limistéar a thaispeántar ar an aerfótagraf.
- (ii) Míinigh **DHÁ** chúis ar roghnaigh tú an suíomh seo.
- (iii) Luaigh míbhuntáiste **AMHÁIN** a bhaineann leis an suíomh seo.

[12]

Ceist 3. MEASCÁN TÍREOLAÍOCHTA

Freagair **TRÍ CINN AR BITH** de na ceisteanna **3A, 3B, 3C, 3D**.

3A. Cineálacha aeráide




www.wikispaces.com

Taispeánann na fótagraif thuas fásra i dtí limistéir dhifriúla ina bhfuil aeráid the.

- (i) Ainmnigh aeráid the **AMHÁIN** a bhfuil staidéar déanta agat uirthi agus dean cur síos ar an aeráid the seo.
- (ii) Déan cur síos ar an bhfásra a fhásann ann mar gheall ar an aeráid the.
- (iii) Ainmnigh slí **AMHÁIN** a dtéann an aeráid seo i bhfeidhm ar dhaoine.

[10]

3B. Éagothroime Eacnamaíochta



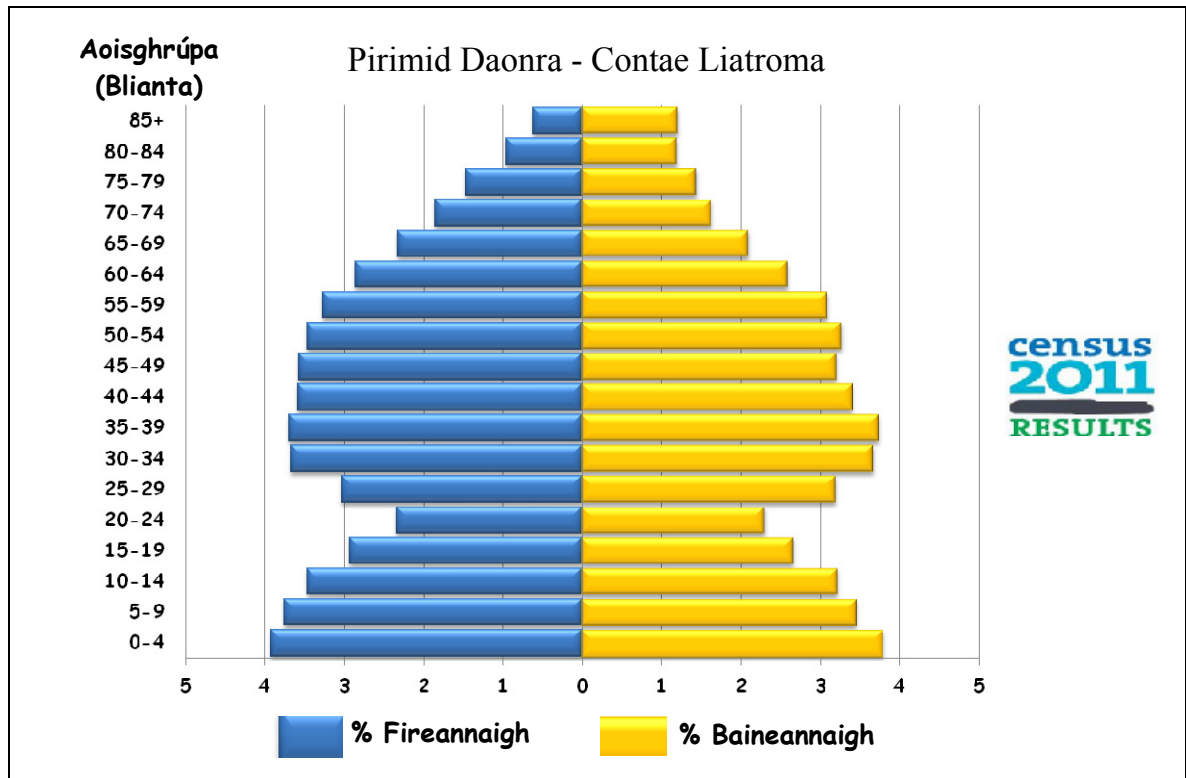
www.gatewayonline.com, www.omiusajpic.org, www.guardian.co.uk

- (i) Ainmnigh tír i mbéal forbartha a bhfuil staidéar déanta agat uirthi.
- (ii) Míneigh conas a chuir **TRÍ** cinn ar bith de na tosca sna pictiúir thuas moill ar fhorbairt na tíre seo.

[10]

Ceist 3. MEASCÁN TÍREOLAÍOCHTA (ar lean)

3C. Staidéar Daonra



Déan staidéar ar an bpirimid daonra thuas a thaispeánann struchtúr an daonra i gContae Liatroma i nDaonáireamh 2011.

- (i) Cén céatadán de na fireannaigh a bhí san aoisghrúpa 80 – 84 bliain?
- (ii) Cén t-aoisghrúpa a raibh níos mó fireannach ann, an t-aoisghrúpa 80 – 84 bliain nó an t-aoisghrúpa 30 – 34 bliain?
- (iii) Céatadán beag fireannach agus baineannach a bhí san aoisghrúpa 20 – 24 bliain.
Cad a chuireann sin in iúl dúinn mar gheall ar an imirce i gContae Liatroma, dar leat?
- (iv) Ainmnigh **DHÁ** shlí inar féidir úsáid a bhaint as an eolas ón Daonáireamh.

[10]

3D. Aibhneacha

- (i) Ainmnigh gné **AMHÁIN** a gcruthaíonn aibhneacha í.
- (ii) Agus léaráid mar chúnaimh agat, mínigh conas a cruthaíodh an ghné seo.
- (iii) Luaigh **DHÁ** shlí a mbaineann daoine úsáid as aibhneacha.

[10]

Ceist 4. TÍREOLAÍOCHT EACNAMAÍOCH

A. An Trácht i gCathair in Éirinn

Tréimhse Ama	9 a.m. go 10 a.m.	11 a.m. go 12 meán lae	2 p.m. go 3 p.m.	5 p.m. go 6 p.m.
Líon na Rothar	20	8	17	23
Líon na gCarranna	403	350	260	578
Líon na dTrucailí	79	58	35	89

Taispeánann an tábla thuas torthaí ó shuirbhé tráchta a rinne grúpa daltaí.

- (i) Cad é an líon trucailí a comhaireadh idir 9 a.m. agus 10 a.m.?
- (ii) Cad é an líon iomlán rothar a comhaireadh le linn an tsuirbhé?
- (iii) Luaigh cúis **AMHÁIN** ar comhaireadh líon níos airde carranna idir 5 p.m. agus 6 p.m.
- (iv) Mínigh **DHÁ** réiteach ar phlódú tráchta.

[10]

B. Gníomhaíochtaí Eacnamaíocha

- (i) Is féidir staidéar a dhéanamh ar ghníomhaíochtaí eacnamaíocha áirithe mar chórais a bhfuil ionchur, próisis agus aschur acu.

Agus tagairt agat d'fheirm **nó** do mhonarcha a bhfuil staidéar déanta agat uirthi, ainmnigh **DHÁ** ionchur, **DHÁ** phróiseas agus **DHÁ** aschur.

- (ii) Mínigh **DHÁ** cheann ar bith díobh seo a leanas:
 - Tionscal gan chuing
 - Feirm mheasctha
 - Amhábhair
 - Margáí.

[10]

Ceist 4. TÍREOLAÍOCHT EACNAMÁÍOCH (ar lean)

C. Turasóireacht



www.discoverireland.ie

www.irishrail.ie

- (i) Ainmnigh réigiún turasóireachta **AMHÁIN** in Éirinn a bhfuil staidéar déanta agat air agus déan cur síos ar **DHÁ** chúis a mealltar turasóirí go dtí an réigiún seo.
- (ii) Déan cur síos ar shlí **AMHÁIN** inar féidir leis an turasóireacht drochthionchar a bheith aici ar réigiún.
- (iii) Mínigh slí **AMHÁIN** inar féidir leis an turasóireacht cuidiú le feabhas a chur ar naisc iompair agus chumarsáide i réigiún.

[10]

Ceist 5. TÍREOLAÍOCHT FHSICEACH

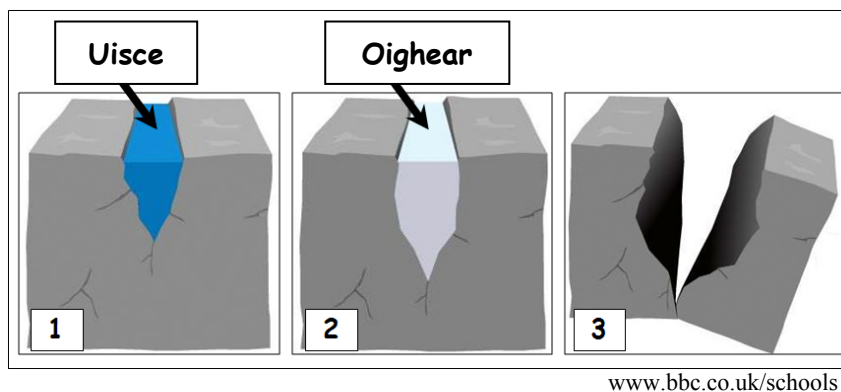
A. Carraigeacha

Tá trí mhórghrúpa carraigeacha ann: **Bruthcharraigeacha**, **Carraigeacha Dríodair** agus **Carraigeacha Meiteamorfacha**.

- (i) Ainmnigh carraig **AMHÁIN** as gach grúpa.
- (ii) Roghnaigh ceann **AMHÁIN** ar bith de na carraigeacha a d'ainmnigh tú agus déan cur síos ar conas a chruthaítear é.
- (iii) Luaigh **DHÁ** úsáid a bhaintear as an gcarraig seo.

[11]

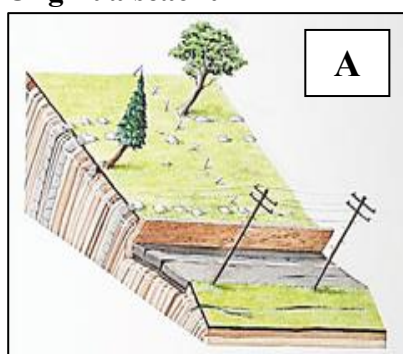
B. Síonchaitheamh



- (i) Agus na léaráidí thuas mar chúnaimh agat, mínigh conas a dhéanann reo is coscairt (sioc-smiotaíl) síonchaitheamh ar charraigeacha.
- (ii) Mínigh an téarma sceallach.

[9]

C. Ollghluaiseacht



www.patanography.wikispaces.com



www.blog.shaleshockmedia.org

Is féidir le hollghluaiseacht a bheith tapa nó mall.

- (i) Ainmnigh **gach** cineál ollghluaiseachta a thaispeántar sna pictiúir **A** agus **B** thuas.
- (ii) Roghnaigh cineál **AMHÁIN** ollghluaiseachta agus mínigh conas a tharlaíonn sí.

[10]