

## **RABHADH**

**Ná déan dearmad an páipéar seo a chur ar ais le do scrúdpháipéar, nó caillfear marcanna.**

Scríobh do Scrúduithe anseo:



## **Coimisiún na Scrúduithe Stáit**

**SCRÚDÚ AN TEASTAIS SHÓISEARAIGH, 2013**

---

**TÍREOLAÍOCHT – GNÁTHLEIBHÉAL**

**ROINN 1 – FILLTEÁN (60 marc)**

---


**DÉ hAOINE, 7 MEITHEAMH – MAIDIN, 9.30 - 11.30**

**NÓTA: TÁ ROINN 2 DEN SCRÚDÚ SEO AR PHÁIPÉAR AR LEITHLIGH**

## ROINN 1 (60 marc)

Freagair **GACH** ceist.  
Tá rogha agat laistigh de cheithre cheist.  
Déan deimhin de go dtugann tú an fillteán seo  
ar ais in éineacht le do fhreagarleabhar.  
Mura ndéanfaidh tú sin, caillfear marcanna.

### 1. ACMHAINNÍ



[www.oceanpowermagazine.net](http://www.oceanpowermagazine.net)

Tá feirmeacha gaoithe amach ón gcósta agus fuinneamh na dtonn ina samplaí:

D'fhuinneamh do-athnuaite

De bhreoslaí iontaise

D'fhuinneamh in-athnuaite

Cuir tic (✓) sa bhosca ceart.

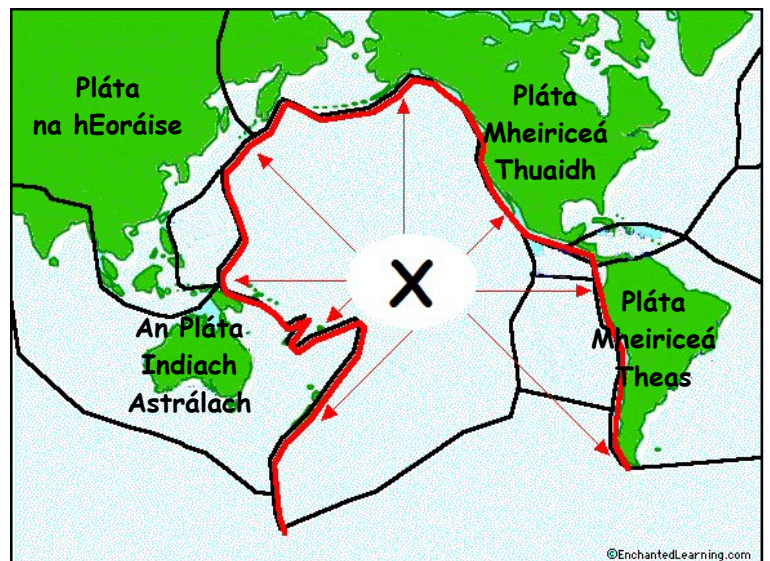
### 2. SCREAMH AN DOMHAIN

Is é a thugtar ar an limistéar a chuirtear in iúl ar an léarscáil leis an líne dhearg a bhfuil an lipéad X uirthi ná:

Droim an Atlantaigh Láir

Fáinne Tine an Aigéin Chitúin

Feacht te



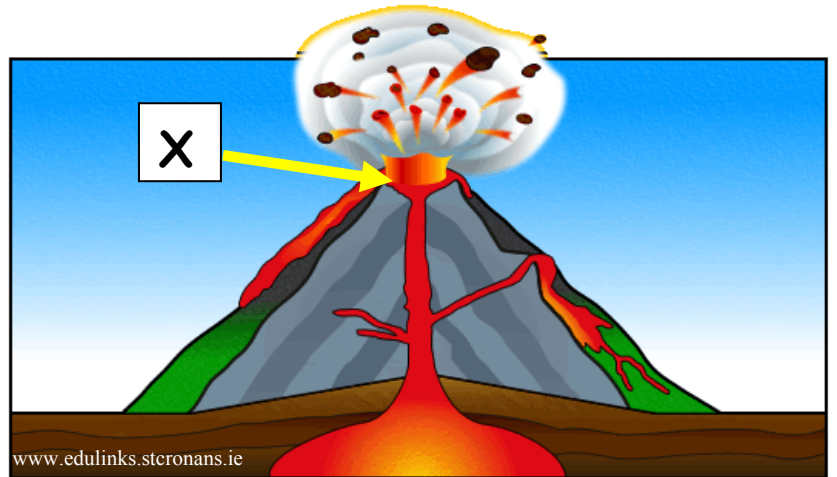
Cuir tic (✓) sa bhosca ceart.

### 3. BOLCÁIN

Taispeántar sliabh bolcánach sa léaráid seo.

Is é a tugtar ar an ngné a bhfuil an lipéad X uirthi ná:

- An Maintlín
- An Cráitéar
- Seomra Magma



Cuir tic (✓) sa bhosca ceart.

### 4. AIBHNEACHA

Taispeántar íomhá satailíte d'Abhainn na Níle ag sní isteach as bhfarraige san fhótagraf seo.

Gné a bhaineann le sil-leagan abhann an ghné a bhfuil an lipéad X uirthi. Is é a thugtar uirthi ná:

- Deilt
- Lúb
- Leibhé

Cuir tic (✓) sa bhosca ceart.



### 5. ITHREACHA

Tá tábhacht ag baint le miocroorgánaigh mar bhaictéir agus fungais san ithir mar:

Cuireann siad ocsaigin ar fáil do phlandaí

Tarlaíonn láisteadh mianraí mar thoradh ar iad a bheith ann

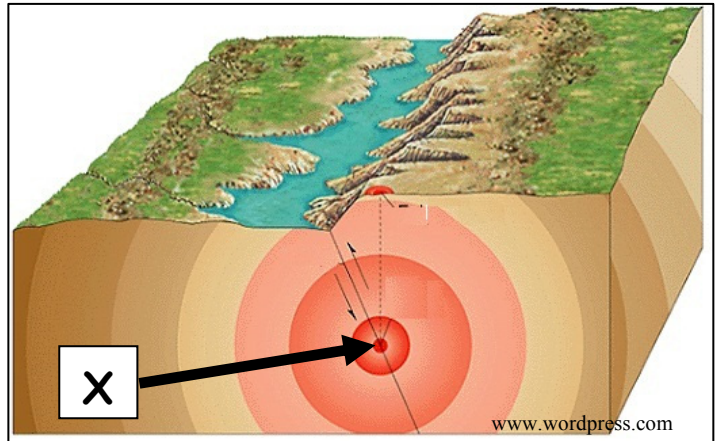
Briseann siad síos plandaí marbha agus déanann húmas astu

Cuir tic (✓) sa bhosca ceart.

## 6. CREATHANNA TALÚN

Is é a thugtar ar an bpointe a bhfuil an lipéad X air, áit a dtosaíonn crith talún go domhain faoi dhromchla an domhain, ná:

- Fócas
- Seismeagraf
- Tonn turrainge



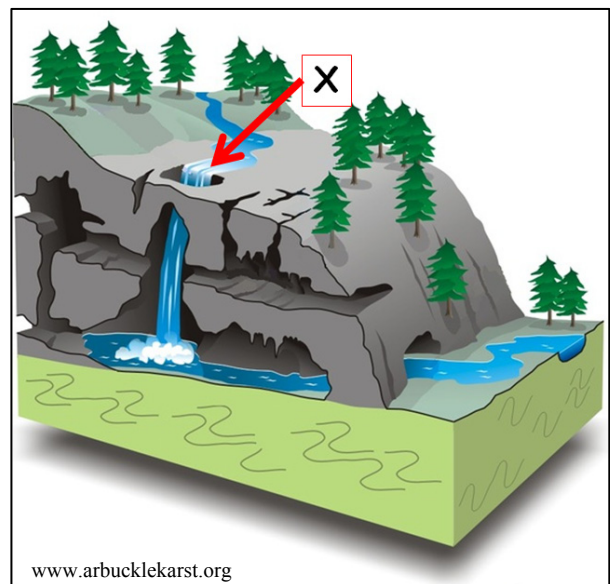
Cuir tic (✓) sa bhosca ceart.

## 7. GNÉITHE AOLCHLOICHE

Tá an ghné a bhfuil an lipéad X uirthi sa léaráid seo cosúil le gnéithe atá le fáil i mBoirinn i gContae an Chláir.

Is é a thugtar uirthi ná:

- Aolchuisne
- Súmaire
- Uaimh



Cuir tic (✓) sa bhosca ceart.

## 8. FREAGAIR 8A NÓ 8B

### 8A. TÍRGHNÉITHE CÓSTA

Is é a thugtar ar an tírghné chósta a thaispeántar ag X san fhótagraf ná:

Staca

Pluais

Ceann tíre

Cuir tic (✓) sa bhosca ceart.



## NÓ

### 8B. TÍRGHNÉITHE OIGHREACHA

Is é a thugtar ar an tírghné oighreach a thaispeántar san fhótagraf ná:

V-ghleann

Coire

U-ghleann

Cuir tic (✓) sa bhosca ceart.



## 9. FREAGAIR 9A NÓ 9B

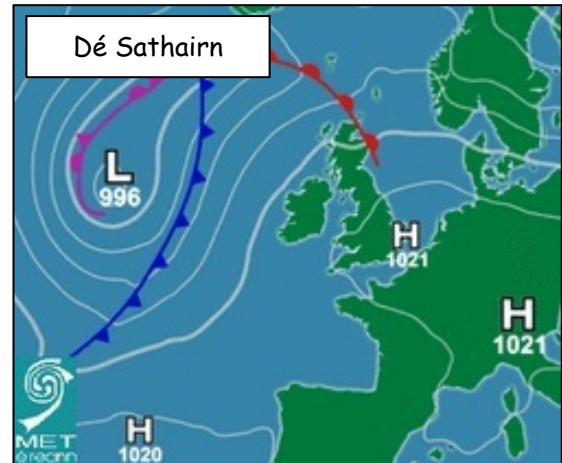
### 9A. AN tATMAISFÉAR ATHRAITHEACH

An brú i lár an lagraigh atá ag druidim i dtreo chósta iarthar na hÉireann, ina heicteapascail / milleabair ná:

1021

996

1020



Cuir tic (✓) sa bhosca ceart.

NÓ

### 9B. AN STÁISIÚN AIMSIRE

Tomhaiseann an gléas aimsire a thaispeántar san fhótagraf seo brú an atmaisféir.

Is é a thugtar air ná:

Ainéimiméadar

Taifeadán Campbell-Stokes

Baraiméadar anaróideach

Cuir tic (✓) sa bhosca ceart.



## 10. FREAGAIR 10A NÓ 10B

### 10A. NAISC CHUMARSÁIDE

Eitlíonn héileacaptar tarrthála ó aerfort Phort Láirge go haerfort Shligigh.

Cén **treo** ina dtaistealaíonn sé?

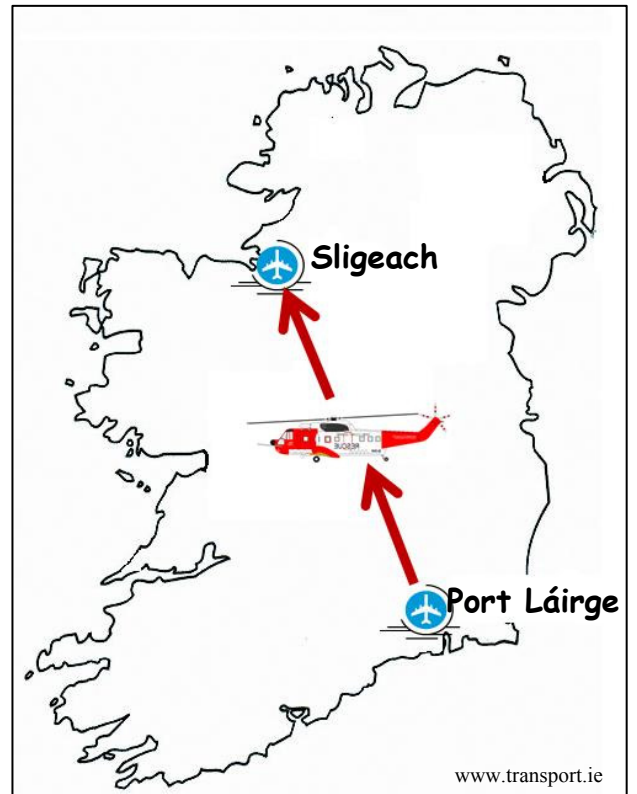
Ón Oir-Thuaisceart go dtí an tIar-Dheisceart

Ón Iar-Dheisceart go dtí an tOir-Thuaisceart

Ón Iar-Thuaisceart go dtí an tOir-Dheisceart

Ón Oir-Dheisceart go dtí an tIar-Thuaisceart

Cuir tic (✓) sa bhosca ceart.



## NÓ

### 10B. TALAMHÚSÁID UIRBEACH AGUS FEIDHMEANNA UIRBEACHA

An cineál talamhúsáide agus feidhme a thaispeántar san fhótagraf ná:

Tionsclaíoch

Cónaitheach

Miondíol


Gnó



Cuir tic (✓) sa bhosca ceart.

## 11. FREAGAIR 11A NÓ 11B

### 11A. IMIRCE



Féach ar na pictiúir a thaispeántar thuas.

Téann daoine ar imirce ó réigiún go réigiún ar chúiseanna éagsúla, Tosca Brú agus Tosca Tarraingthe san áireamh.

Cé acu ceann acu seo a leanas atá ina Toisc Tharraingthe?

Dífhostaíocht

Cogaíocht

Deiseanna oibre

Cuir tic (✓) sa bhosca ceart.

**NÓ**

### 11B. FAD AR LÉARSCÁIL

Féach ar léarscáil na Suirbhéireachta Ordanáis a thugtar leis an bpáipéar seo.

An fad ina líne dhíreach ('mar a d'eitleodh éan') ón Ionad Páirceála ag **S 964 367** go dtí an tIonad Páirceála ag **S 984 401** ná:

4 chiliméadar

8 gciliméadar

16 chiliméadar

Cuir tic (✓) sa bhosca ceart.



## 12. GNÍOMHAÍOCHTAÍ GEILLEAGRACHA



[www.ambulance-photos.com](http://www.ambulance-photos.com)



[www.textually.org](http://www.textually.org)



[www.finning.co.uk](http://www.finning.co.uk)

Cé acu ceann de na fótagraif thuas a thaispeánann sampla de ghníomhaíocht gheilleagrach **thánaisteach**?

- Seirbhís otharcharranna
- Monarcha
- Cairéal

Cuir tic (✓) sa bhosca ceart.

## 13. DLÚS DAONRA

Cuir ciorcal thart ar an bhfreagra cheart i **ngach** ceann de na ráitis thíos.

- Bíonn plódú, ganntanas uisce glan agus truailliú coitianta in áiteanna ina mbíonn dlús daonra **an-ard / an-íseal**.
- Samplaí iad Calcúta agus Hong Cong d'áiteanna ina bhfuil dlús daonra **an-ard / an-íseal**.
- In Éirinn, limistéar ina bhfuil dlús daonra an-íseal é **réigiún Bhaile Átha Cliath / Iarthar na hÉireann**.

## 14. CÚNAMH

Is é a thugtar ar an gcúnamh a thugann rialtas tíre amháin do rialtas tíre eile ná:

- Cúnamh Éigeandála
- Cúnamh Nasctha
- Cúnamh Déthaobhach

Cuir tic (✓) sa bhosca ceart.

## 15. AERFÓTAGRAF

Scrúdaigh an t-aerfótagraf d'Inis Córthaidh a thugtar leis an bpáipéar seo.

Cad é an phríomh-thalamhúsáid sa Chúlra ar Dheis?

Lárcheantar Gnó

Tionsclaíocht

Talmhaíocht

Cuir tic (✓) sa bhosca ceart.

## 16. LONNAÍOCHT

Féach go cúramach ar an sliocht seo as léarscáil.

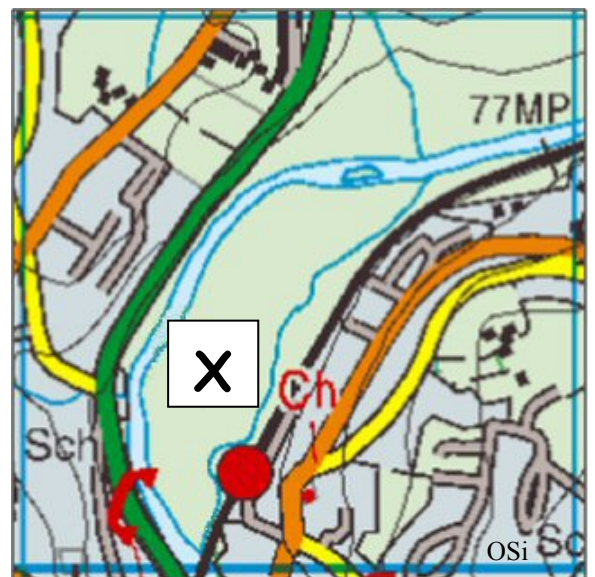
Níl aon fhoirgnimh sa limistéar timpeall ar X mar:

Tá sé ró-ard (airde)

Tá baol tuilte ann

Tá fána ró-ghéar ann (grádán)

Cuir tic (✓) sa bhosca ceart.



## 17. TAGAIRTÍ EANGAÍ

Féach ar léarscáil na Suirbhéireachta Ordanáis a thugtar leis an bpáipéar seo.

An ghné a thaispeántar ag an tagairt eangaí S 974 402 ná:

Stáisiún gardaí


Stáisiún traenach

Ionad páirceála

Ionad amhairc (Ionad dearctha)

Cuir tic (✓) sa bhosca ceart.

## 18. LONNAÍOCHT



Scríobh an litir cheart sa spás cuí sa tábla thíos chun gach cur síos ar shuíomh a mheaitseáil leis an tsracléarscáil cheart.

CUR SÍOS AR SHUÍOMH	LITIR
Tógadh droichead i suíomh ina bhféadfaí longa a dhíluchtú.	
Bhí oileán ina shuíomh tirim i measc na riasc.	
Thug an abhainn cosaint nádúrtha ar thrí thaobh den suíomh.	

## 19. TAGAIRTÍ ÉANGAÍ

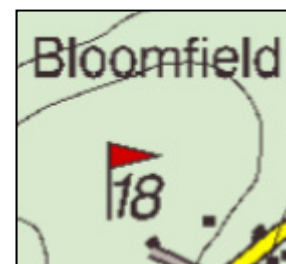
Féach ar léarscáil na Suirbhéireachta Ordanáis a thugtar leis an bpáipéar seo.

Cad í tagairt eangaí an Ghalfchúrsa ag Tom na Gráinneoige (Bloomfield) siar ó dheas ó Inis Córthaidh?

S 39 96

S 95 38

S 38 95



Cuir tic (✓) sa bhosca ceart.

## 20. STAITISTICÍ SA TÍREOLAÍOCHT

Léiríonn an phíchart an céatadán (%) den ghás nádúrtha a úsáideann earnálacha éagsúla i Stáit Aontaithe Mheiriceá.

An céatadán (%) den ghás nádúrtha (X) a úsáideann an Lucht Cónaithe ná:

20%

31%

27%

Cuir tic (✓) sa bhosca ceart.

