

RABHADH

Ná déan dearmad an páipéar seo a chur ar ais le do fhreagarleabhar, nó caillfear marcanna.

Scríobh do Scrúduithe anseo:



Coimisiún na Scrúduithe Stáit

SCRÚDÚ AN TEASTAIS SHÓISEARAIGH, 2012

TÍREOLAÍOCHT – GNÁTHLEIBHÉAL

ROINN 1 – FILLTEÁN (60 marc)

DÉ hAOINE, 8 MEITHEAMH – MAIDIN, 9.30 - 11.30

NÓTA: TÁ ROINN 2 DEN SCRÚDÚ SEO AR PHÁIPÉAR AR LEITHLIGH

ROINN 1 (60 marc)

Freagair **GACH** ceist.

Tá rogha agat laistigh de cheithre cheist.
Déan deimhin de go dtugann tú an fillteán seo
ar ais in éineacht le do fhreagarleabhar.
Mura ndéanfaidh tú sin, caillfidh tú marcanna.

1. AN DOMHAN Á CHUMADH

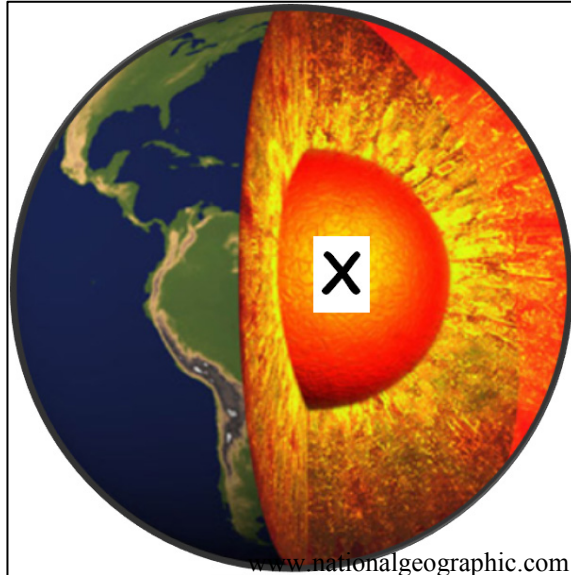
Is é a thugtar ar an ngné a thaispeántar ag **X** sa léaráid seo ná an:

Maintlín

Croí

Screamh

[cuir tic ✓ sa bhosca ceart]



2. ITHREACHA

Taispeántar próifíl thipiciúil ithreach sa léaráid seo.


An ghné a thaispeántar ag **X** ná:

Buncharraig

Húmas

Cruachiseal

[cuir tic ✓ sa bhosca ceart]



3. CARRAIGEACHA

Taispeánann an fótagraf seo Clochán an Aifir i gContae Aontroma. Cruthaíodh é nuair a d'fhuaireadh laibhe go tapa.

Is é a thugtar ar an gearraig seo ná:

Eibhear


Aolchloch

Basalt

[cuir tic ✓ sa bhosca ceart]



4. GNÉITHE FAOI THALAMH



Taispeánann an fótagraf seo gné faoi thalamh ag Pluais na Creige (Crag Cave) i gContae Chiarraí.

Is é a thugtar ar an ngné lipéadaithe **X** ná:

Aolchuisne

Gríog

Gallán

[cuir tic ✓ sa bhosca ceart]

5. OLLGHLUAISEACHT

An cineál ollghluaiseachta a d'fhág gur lúb an fáil a thaispeántar san fhótagraf seo ná:

Sciorradh talún

Maidhm shléibhe

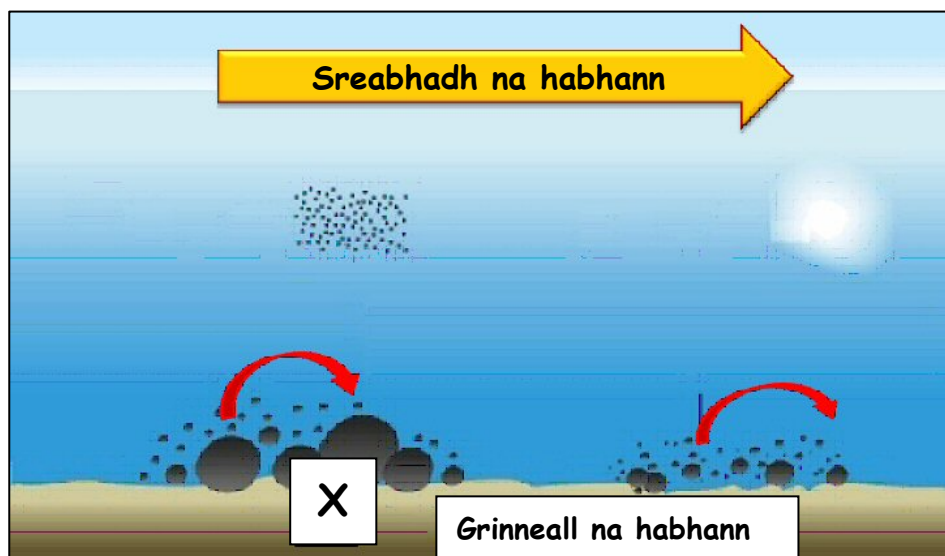
Brúchtadh portaigh

Ithirthéaltú



[cuir tic ✓ sa bhosca ceart]

6. AIBHNEACHA



Ag X sa léaráid thuas tá clocha á rolladh agus á dtarraingt feadh ghrinneall na habhann (tarraingt).

Seo sampla:

De chreimeadh abhann

D'iompar ar abhainn

De shil-leagan abhann

[cuir tic ✓ sa bhosca ceart]

7. FREAGAIR 7A NÓ 7B

7A. PRÓISIS CHÓSTA



Is é a thugtar ar an tírghné chósta marcáilte X san fhótagraf thuas ná:

Staca

Gob gainimh

Eang

[cuir tic ✓ sa bhosca ceart]

NÓ

7B. OIGHRIÚCHÁN


Anois is arís, d'iompair oighearchlúideacha carraigeacha móra, cosúil léi siúd san fhótagraf, agus d'fhág siad iad in áiteanna ina raibh cineál difriúil ithreach.

Is é a thugtar ar na carraigeacha seo ná:

Moiréin

Carraigeacha corra

Cré bholláin



[cuir tic ✓ sa bhosca ceart]

8. FREAGAIR 8A NÓ 8B

8A. FEACHTAÍ AIGÉIN

Tá iarmhairt ag an bhFeacht Aigéin marcáilte X ar an aimsir in Éirinn.

Is é a thugtar air ná:

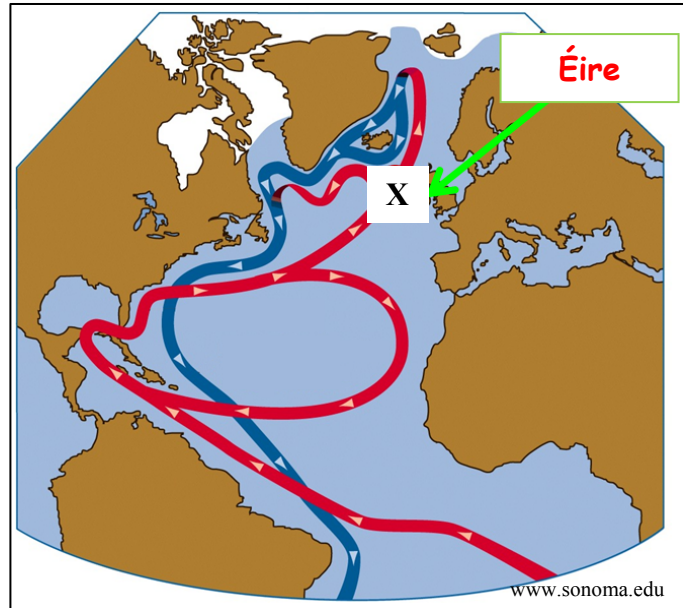
Feacht na gCanárach

Feacht Labrador

Síobadh Mór an Atlantaigh Thuaidh

Feacht na Graonlainne

[cuir tic ✓ sa bhosca ceart]



NÓ

8B. CINEÁLACHA AERÁIDE

Féach go cúramach ar léarscáil aeráide na hAfraice. An cineál aeráide (scáthlínithe dearg) ag X ná:

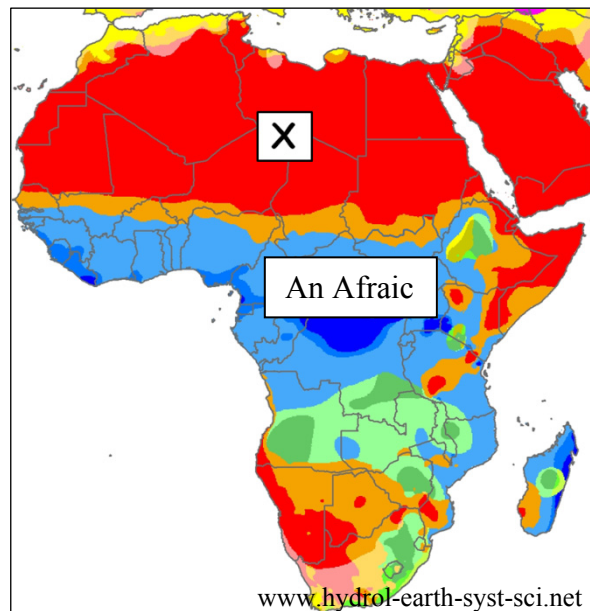
Measartha Fionnuar Aigéanach

Fásach Te

Tundra

Bóireach

[cuir tic ✓ sa bhosca ceart]



9. FREAGAIR 9A NÓ 9B

9A. NAISC CHUMARSÁIDE

Dá dtaistealófá ar thraein ó Shligeach go Baile Átha Cliath, cén **treo** ina mbeifeá ag taisteal?

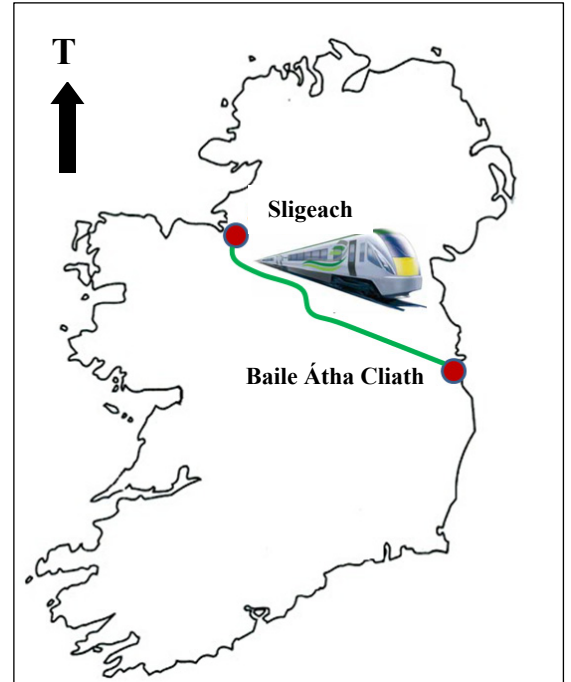
Ón Oirdheisceart go dtí an tIarthuaisceart

Ón Iarthuaisceart go dtí an tOirdheisceart

Ón Oirthear go dtí an tIarthar

Ón Iardheisceart go dtí an tOirthuaisceart

[cuir tic ✓ sa bhosca ceart]



NÓ

9B. TITHÍOCHT SA CHATHAIR

De ghnáth bíonn tithe leathscóite cosúil leo siúd a thaispeántar san fhótagraf seo lonnaithe:

Sa lárcheantar gnó (CBD)

Sna bruachbhailte

In eastáit thionsclaíochta

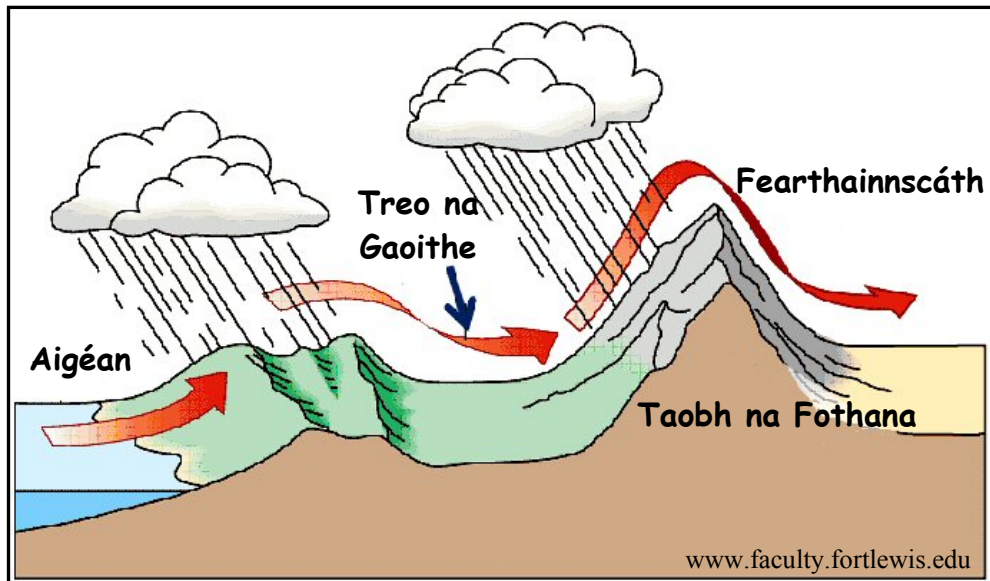
I bpáirceanna miondíola

[cuir tic ✓ sa bhosca ceart]



10. FREAGAIR 10A NÓ 10B

10A. FLIUCHRAS



Taispeánann an léaráid thuas fliuchras a mbíonn iarmhairt ag sléibhte air.

Is é a thugtar ar an gcineál seo fliuchrais ná:

Fliuchras Cioclónach nó Fliuchras Fronta

Fliuchras Comhiompair

Fliuchras Rilife

[cuir tic ✓ sa bhosca ceart]

NÓ

10B. AN COMHSHAOL

Féach go cúramach ar an léaráid seo. Ceapann gáis san atmaisféar cuid de theas na gréine.

Is é a thugtar ar an bpróiseas seo ná:

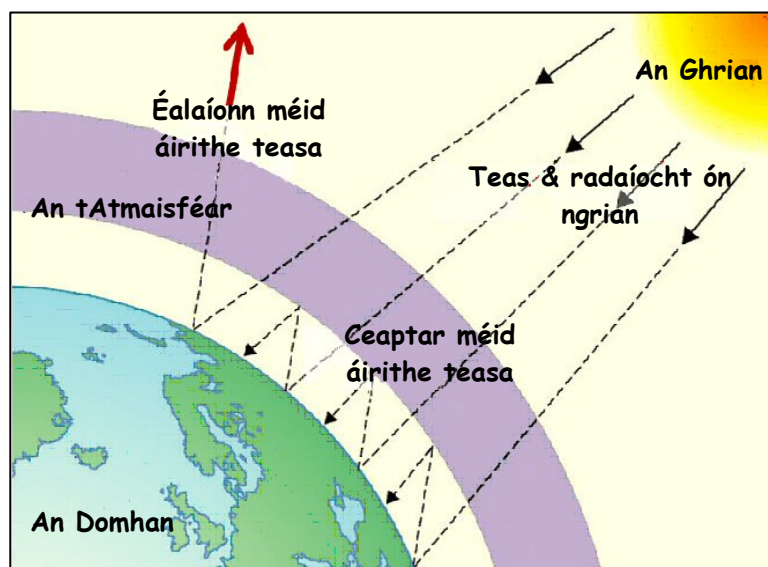
Iarmhairt cheaptha teasa

Ózón

Báisteach Aigéadach

Fairsingiú fásaigh

[cuir tic ✓ sa bhosca ceart]



11. GNÍOMHAÍOCHTAÍ GEILLEAGRACHA



Baint Móna

Óglaigh na hÉireann

Iascaireacht

Cé acu ceann de na fótagraif thuas a thaispeánann sampla de ghníomhaíocht threasach eacnamaíochta?

Baint móna

Óglaigh na hÉireann

Iascaireacht

[cuir tic ✓ sa bhosca ceart]

12. FAD AR LÉARSCÁIL

Féach ar léarscáil na Suirbhéireachta Ordanáis a tugadh leis an bpáipéar seo.

An fad i gciliméadair, i líne dhíreach ('mar a eitleodh éan') ón gCarrchlós ag **G 893 033** go dtí an carrchlós ag **M 940 994** ná:

4.8 ciliméadar

6.1 ciliméadar

12.2 ciliméadar

[cuir tic ✓ sa bhosca ceart]

13. STAITISTICÍ SA TÍREOLAÍOCHT

Fostaíocht sa Tionsclaíocht in Éirinn

2006	2007	2008	2009	2010
294,000	299,000	287,000	258,000	240,000

Curtha in oiriúint ó www.cso.ie

Taispeánann an tábla seo an t-athrú ar fhostaíocht sa tionsclaíocht in Éirinn.

Idir 2007 agus 2010 an titim a tháinig ar fhostaíocht sa tionsclaíocht ná:

59,000

69,000

53,000

[cuir tic ✓ sa bhosca ceart]

14. AERFÓTAGRAF

Scrúdaigh an t-aerfótagraf de Chora Droma Rúisc a tugadh duit.

Tá carrechlós mór suite:

Sa tulra ar dheis

Sa chúlra ar clé

Sa tulra láir

[cuir tic ✓ sa bhosca ceart]

15. GRÉASÁIN LONNAÍOCHTA

Féach go cúramach ar an sliocht seo as léarscáil na Suirbhéireachta Ordanáis.

An cineál gréasáin lonnaithe a thaispeántar taobh istigh den bhosca dearg ná:

Líneach

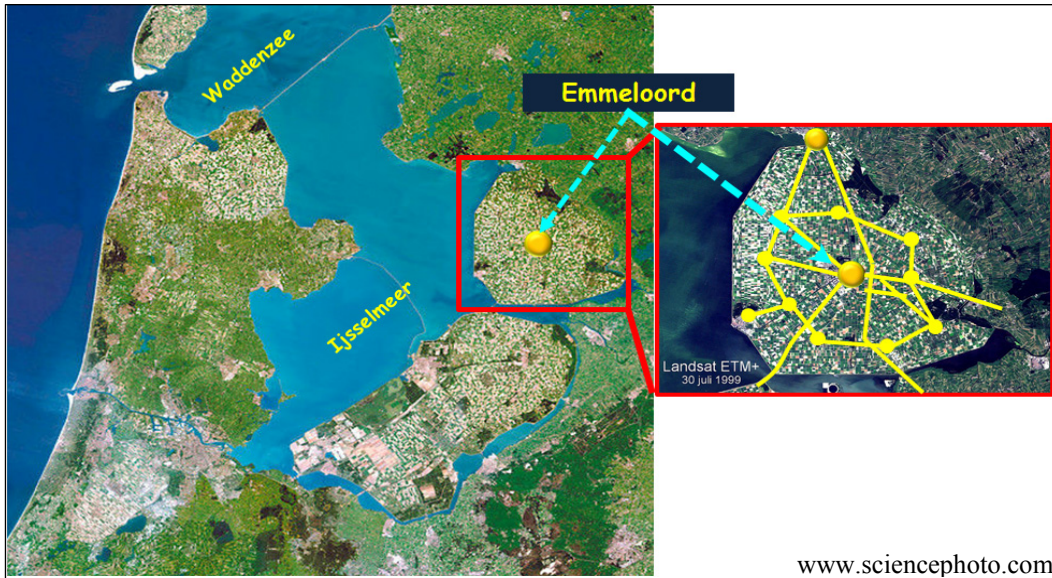
Scaipthe

Núicléatach

[cuir tic ✓ sa bhosca ceart]



16. LONNAÍOCHT SAN ÍSILTÍR



Taispeánann na híomhánna satailíte thuas lonnaíocht phleanáilte san Ísiltír.

Tá an lonnaíocht phleanáilte seo tógtha ar thalamh a gabhadh ón bhfarraige agus ar a dtugtar:

Tailte Portaigh

Poldair

Ósais

[cuir tic ✓ sa bhosca ceart]

17. TAGAIRTÍ EANGAÍ

Féach ar léarscáil na Suirbhéireachta Ordanáis a thugtar leis an bpáipéar seo.

An ghné abhann a thaispeántar ag tagairt eangaí **M 99 98** ná:

Lúbloch

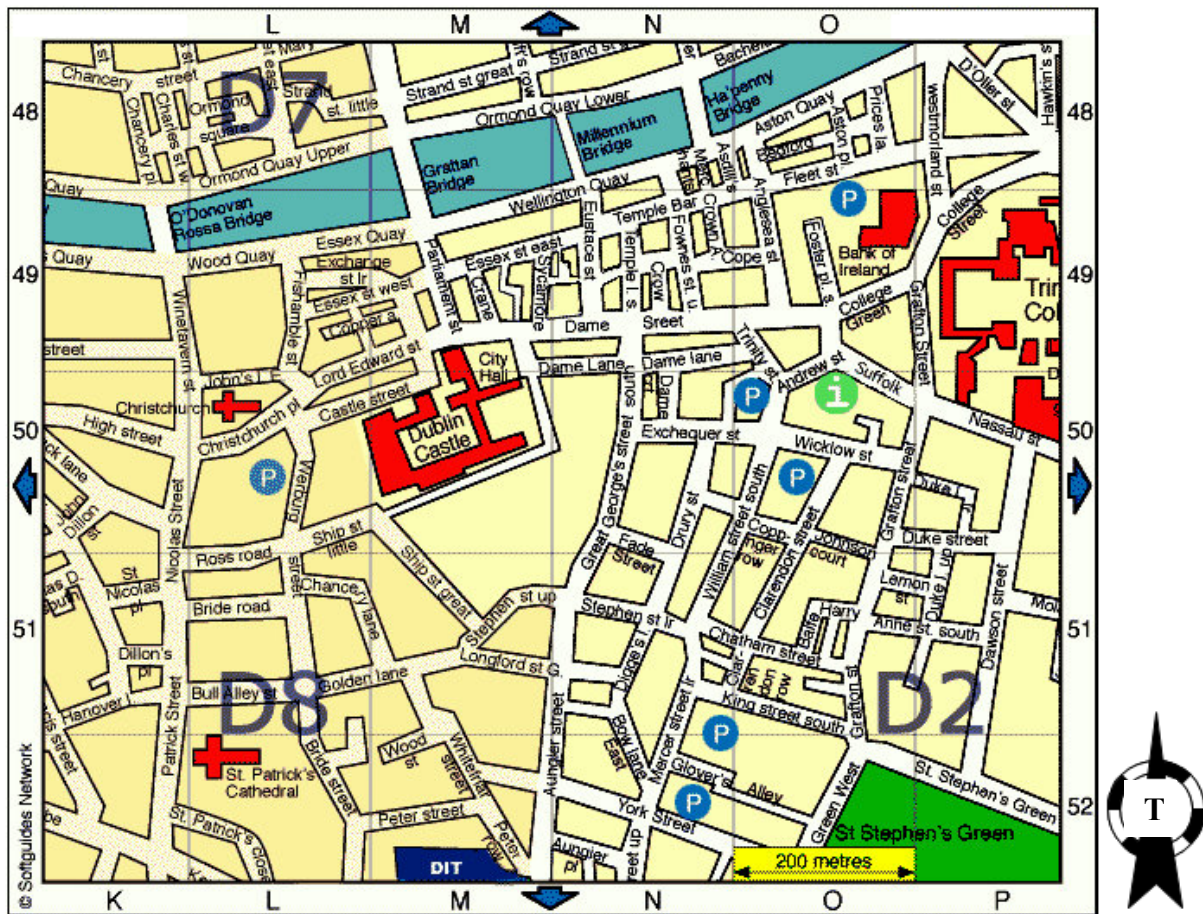
Lúb

Eas

Leibhé

[cuir tic ✓ sa bhosca ceart]

18. SUÍMH AR LÉARSCÁIL SRÁIDE



Féach ar an léarscáil sráide de lár chathair Bhaile Átha Cliath thuas agus ciorclaigh an freagra ceart i ngach ceann de na ráitis thíos.

- Sampla de spás oscailte caitheamh aimsire in oirdheisceart an léarscáil a thaispeántar ná *Faiche an Choláiste (College Green) / Faiche Stiabhna (St Stephen's Green)*.
- Tá Ardeaglais Naomh Pádraig (St Patrick's Cathedral) in *oirdeisceart / iardheisceart* an léarscáil a thaispeántar.
- Tá an abhainn i dtuaisceart na léarscáile. Dá siúlfa trasna Dhroichead na Milaoise (Millennium Bridge) ó Ché Urumhan Íochtarach (Ormond Quay Lower), shroichfeá *Cé Essex (Essex Quay) / Cé Wellington (Wellington Quay)*.

19. TAGAIRTÍ EANGAÍ

Féach ar léarscáil na Suirbhéireachta Ordanáis a thugtar leis an bpáipéar seo

Cad í an tagairt eangaí don Stáisiún Traenach in oirdheisceart Chora Droma Rúisc?

M 93 98

M 92 98

M 94 95

M 93 97

[cuir tic ✓ sa bhosca ceart]

20. ÉAGOTHROIME GHEILLEAGRACH IN ÉIRINN

‘Tá an tuairim ghinearálta ann go bhfuil difríochtaí idir réigiún Bhaile Átha Cliath agus réigiún na Teorann, Lár na Tíre agus an Iarthair (marcáilte le X ar an léarscáil).’

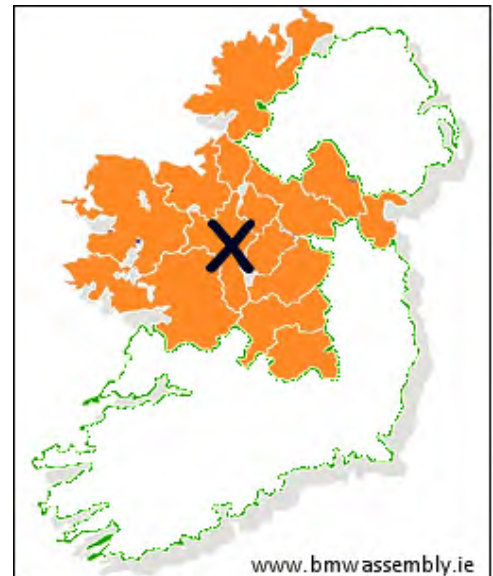
Sa réigiún scáthlínithe, marcáilte le X ar an léarscáil, is dóchúla:

go bhfuil céatadán níos airde daoine ag obair i ngníomhaíochtaí tánaisteacha agus treasacha.

nach bhfuil an talamh chomh torthúil céanna chun feirmeoireachta.

go bhfuil an meánioncam níos airde.

[cuir tic ✓ sa bhosca ceart]



Leathanach Bán

Leathanach Bán

Leathanach Bán