

# RABHADH

Ná déan dearmad an páipéar seo a chur ar ais le do fhreagarleabhar, nó caillfear marcanna.

Scríobh do Scrúduithe anseo:



## Coimisiún na Scrúduithe Stáit

SCRÚDÚ AN TEASTAIS SHÓISEARAIGH, 2011

---

TÍREOLAÍOCHT – GNÁTHLEIBHÉAL

ROINN 1 – FILLTEÁN (60 marc)

---

DÉ hAOINE, 10 MEITHEAMH – MAIDIN, 9.30 - 11.30

**NÓTA: TÁ ROINN 2 DEN SCRÚDÚ SEO AR PHÁIPÉAR AR LEITHLIGH**

## ROINN 1 (60 MARC)

Freagair **GACH** ceist.  
Tá rogha agat laistigh de 4 cheist.  
Déan deimhin de go dtugann tú an fillteán seo  
ar ais in éineacht le do fhreagarleabhar.  
Mura ndéanfaidh tú sin, caillfidh tú marcanna.

### 1. BOLCÁIN

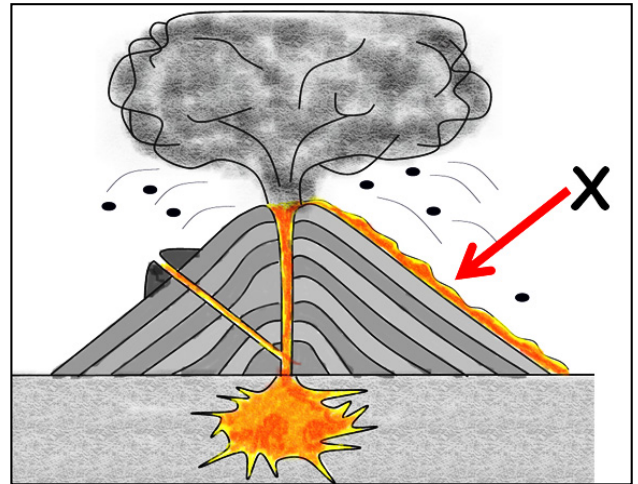
Is é a thugtar ar an gcarraig leáite a scaoiltear amach ar an dromchla as bolcán le linn brúchta, agus a thaispeántar ag **X** ar an léaráid seo ná:

Magma

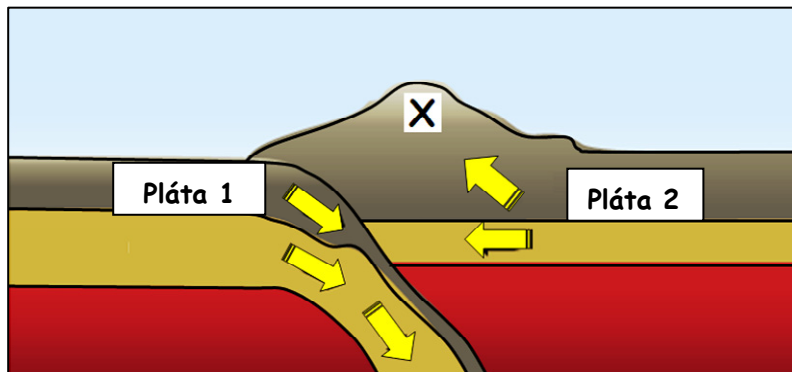
Luaithreamhán bolcánach

Laibhe

[cuir tic ✓ sa bhosca ceart]



### 2. PLÁTAÍ



Taispeánann an léaráid thuas dhá cheann de phlátaí screimhe an domhain i mbun imbhuailte.

An ghné a thaispeántar ag **X** ná:


Droim Lár-Aigéin

Fillsiabh

An Maintlín

[cuir tic ✓ sa bhosca ceart]

### 3. CARRAIGEACHA



Uaireanta úsáidtear an charraig i bhfótagraf A chun cuntair oibre cistine cosúil leis siúd a thaispeántar i bhfótagraf B a dhéanamh.

Is é a thugtar uirthi ná:

- Aolchloch
- Basalt
- Eibhear

[cuir tic ✓ sa bhosca ceart]

### 4. SÍONCHAITHEAMH

Taispeánann an fótagraf seo pábháil aolchloiche sa Bhoirinn, Co. an Chláir.

Is é a thugtar ar an ngné lipéadaithe X ná:

- Clint
- Gríog
- Súmaire



[cuir tic ✓ sa bhosca ceart]

## 5. OLLGHLUAISEACHT



An cineál ollghluaiseachta a thaispeántar san fhótagraf thuas ná:

Brúchtadh portaigh

Ithirthéaltú

Sciorradh talún

Maidhm shneachta

[cuir tic ✓ sa bhosca ceart]

## 6. GNÉITHE ABHANN

Cé acu ceann de na gnéithe abhann seo a chruthaítear mar thoradh ar an **gcreimeadh**?

Deilt

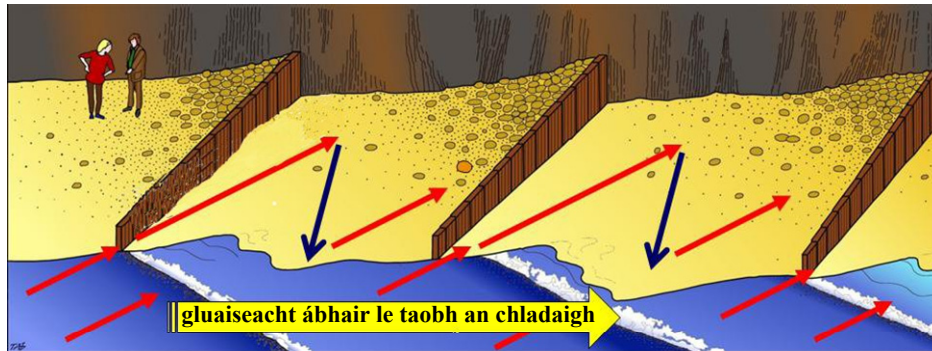
Eas

Leibhé

[cuir tic ✓ sa bhosca ceart]

## 7. FREAGAIR 7A NÓ 7B

### 7A. PRÓISIS CHÓSTA



Taispeánann an léaráid thuas conas mar a iompraítear ábhar le taobh an chladaigh.

Is é a thugtar ar an bpróiseas seo ná:

Creimeadh

Síobadh feadh cladaigh

Fuaidreán

[cuir tic ✓ sa bhosca ceart]

## NÓ

### 7B. OIGHRIÚCHÁN


Nuair a tháinig deireadh leis an Oighearaois, d'ardaigh leibhéal na farráige mar thoradh ar an leá-uisce, rud a líon na U-ghleannta.

Is é a thugtar ar an ngné san fhótagraf seo ná:

Fiord

Ria

Coire



[cuir tic ✓ sa bhosca ceart]

## 8. FREAGAIR 8A NÓ 8B

### 8A. AIMSIR

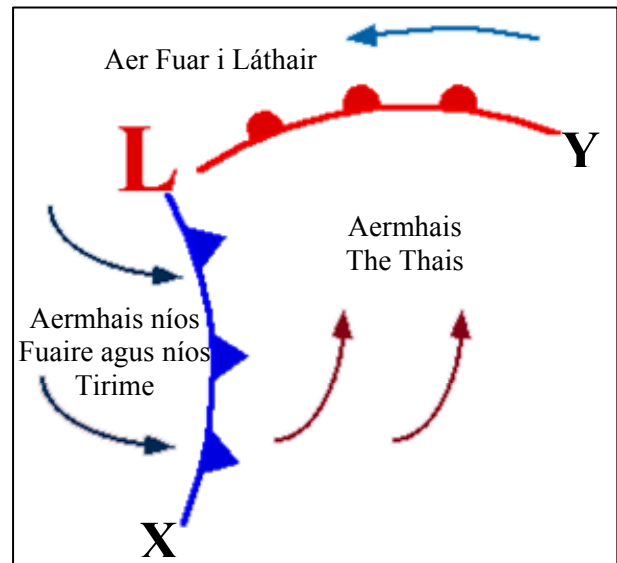
Féach go cúramach ar an léaráid seo de fhrontaí aimsire.

Taispeánann sí:

Fronta Te ag X agus Fronta Fuar ag Y.

Fronta Fuar ag X agus Fronta Te ag Y.

[cuir tic ✓ sa bhosca ceart]



NÓ

### 8B. STÁISIÚN AIMSIRE

Tomhaiseann an gléas aimsire a thaispeántar san fhótagraf seo luas na gaoithe.

Is é a thugtar air ná:

Eite Ghaoithe

Taifeadán Campbell Stokes

Ainéimiméadar

Scáthlán Stevenson

[cuir tic ✓ sa bhosca ceart]



## 9. FREAGAIR 9A NÓ 9B

### 9A. NAISC CHUMARSÁIDE

Dá dtaistealófá in eitleán ó Aerfort Chiarraí go hAerfort Bhaile Átha Cliath, cén **treo** ina mbeifeá ag taisteal?

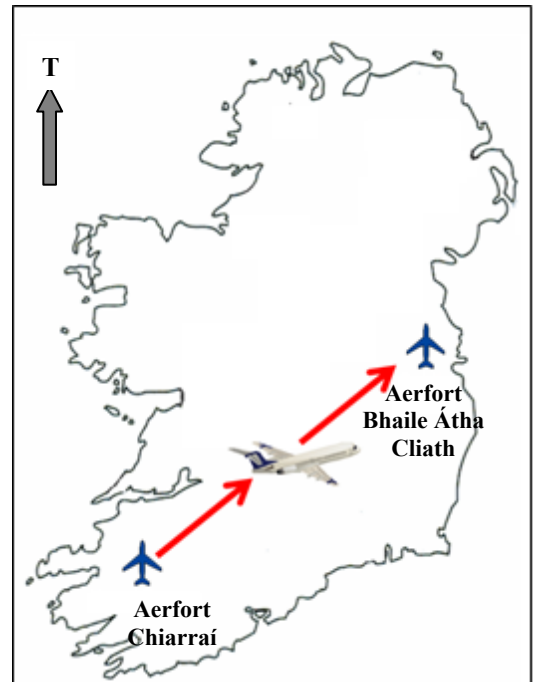
Ón Oir-Thuaisceart go dtí an tIar-Dheisceart

Ón Oir-Dheisceart go dtí an tIar-Thuaisceart.

Ón Iar-Dheisceart go dtí an tOir-Thuaisceart

Ón Deisceart go dtí an Tuaisceart

[cuir tic ✓ sa bhosca ceart]



**NÓ**

### 9B. FAD AR LÉARSCÁIL

Féach ar an léarscáil Shuirbhéireacht Ordanáis a thugtar leis an bpáipéar seo.

An fad i gciliméadair, i líne dhíreach ('mar a eitleodh éan') ón gCarrchlós ag **V 453 996** go dtí an trá ag **V 480 989** ná:

2.8 ciliméadar

5.6 ciliméadar

11.2 ciliméadar

[cuir tic ✓ sa bhosca ceart]

## 10. FREAGAIR 10A NÓ 10B

### 10A. STAIDÉAR AR DHAONRA

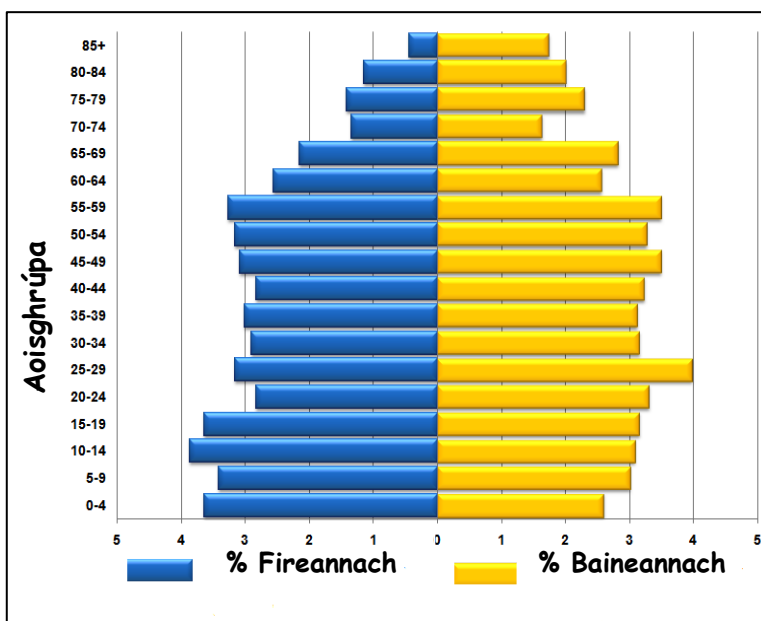
Taispeánann an phirimid seo struchtúr daonra baile in Éirinn i móráireamh 2006.

Cad é an céatadán de **bhaineannaigh** idir 5 agus 9 mbliana d'aois?

3%

4%

5%



Curtha in oiriúint ó Staidreamh Daonra i gCeantair Bheaga ón bPríomh-Oifig Staidrimh

[cuir tic ✓ sa bhosca ceart]

## NÓ

### 10B. DAOINE AG GLUAISEACHT



Féach ar na fótagraif thuas. Cé acu ceann de na tosca seo is dóichí a thiomáinfeadh daoine chun ceantar a fhágáil (Toisc Bhrú)?

Saoráidí maithe caitheamh aimsire

Deiseanna oibre

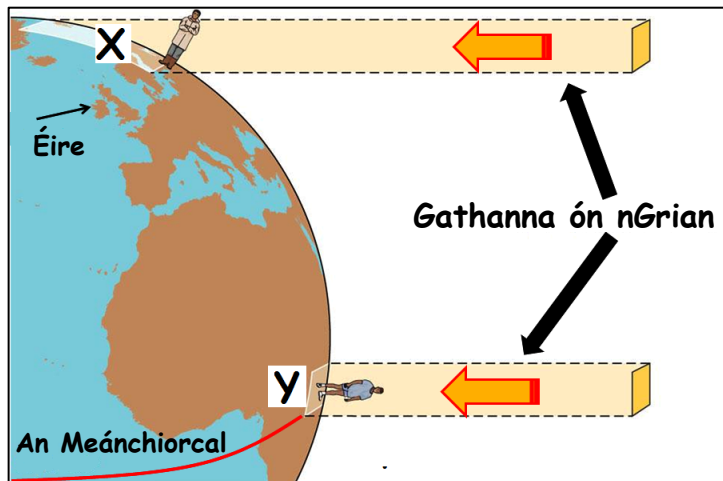
Drochdhálaí maireachtála

Tithíocht níos fearr

[cuir tic ✓ sa bhosca ceart]



## 11. GRIANFHUINNEAMH GO DTÍ AN DOMHAN



Scrúdaigh an léaráid thuas a thaispeánann téamh éagothrom thar dhromchla an domhain ag an ngrian.

Cé acu ceann de na ráitis a leanas atá **FÍOR**?

Is ag X sa leathsféar thuaidh is mó a bhíonn teas na gréine.

Is ag Y ar an meánchiorcal is mó a bhíonn teas na gréine.

[cuir tic ✓ sa bhosca ceart]

## 12. FÁSRA NÁDÚRTHA

Cén réigiún /ceantar aeráide ina mbeifeá ag súil leis go bhfaighfí an cineál fásra a thaispeántar san fhótagraf?

An Mheánmhuir

Fásach Te

Tundra

Measartha Fionnuar Aigéanach

[cuir tic ✓ sa bhosca ceart]



### 13. GNÍOMHAÍOCHTAÍ GEILLEAGRACHA



**Monarcha**



**Rige Gáis**



**Gárdaí**

Cé acu ceann de na gníomhaíochtaí a thaispeántar sna fótagraif seo ar gníomhaíocht phríomhúil í?

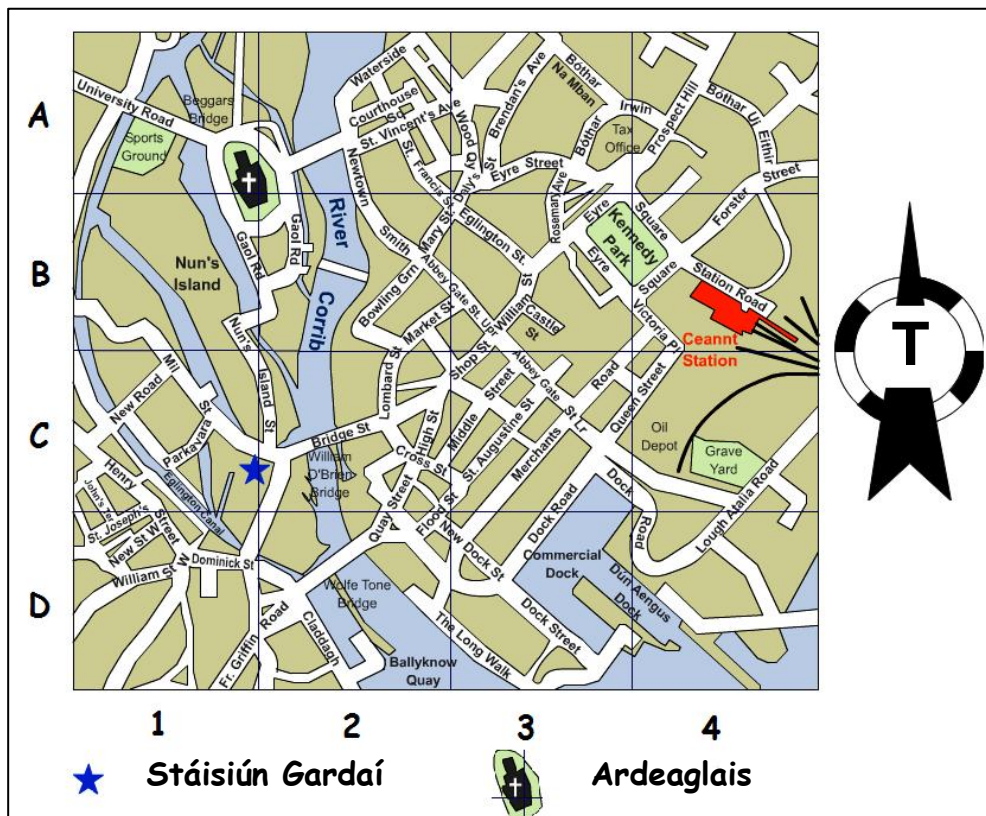
Monarcha

Rige Gáis

Na Gardaí

[cuir tic ✓ sa bhosca ceart]

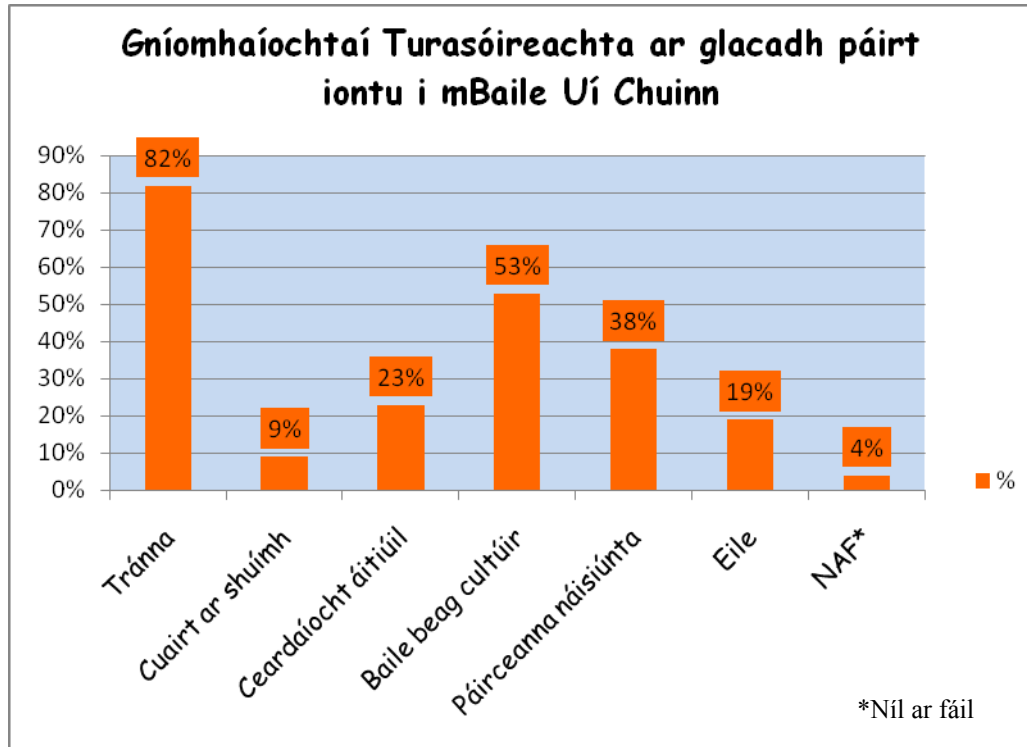
### 14. SUÍMH AR LÉARSCÁIL SRÁIDE



Féach ar an léarscáil sráide de lár chathair na Gaillimhe thuas agus ansin ciorclaigh an freagra ceart i ngach ceann de na ráitis thíos.

- Sampla de shaoráid caitheamh aimsire in iarthuaisceart an limistéir a thaispeántar ná *Páirc Uí Chinnéide (Kennedy Park) / an Fhaiche Spóirt (Sports ground)*.
- Tá an Duga Trádála (Commercial Dock) agus Duga Dhún Aonghasa (Dun Aengus Dock) in *oirthuaisceart / oirdheisceart* an limistéir a thaispeántar.
- In oirthear an limistéir a thaispeántar is sampla de shaoráid iompair é *Stáisiún Cheannt (Ceannt Station) / abhainn na Coiribe (River Corrib)*.

## 15. STAITISTICÍ TURASÓIREACHTA



Taispeánann an chairt seo gníomhaíochtaí ar ghlac turasóirí páirt iontu le linn na tréimhse a chaith siad i mBaile Uí Chuinn.

Cé acu ceann de na ráitis a leanas atá **FÍOR**?

Turais ar thránna 53%, turais ar pháirceanna náisiúnta 38%

Turais ar bhaile beag cultúir 53%, turais ar pháirceanna náisiúnta 19%

Turais ar thránna 82%, turais ar bhaile beag cultúir 53%

[cuir tic ✓ sa bhosca ceart]

## 16. AERFÓTAGRAF

Scrúdaigh an t-aerfótagraf den Daingean a thugtar.

Tá an pháirc imeartha suite:

Sa tulra ar clé

Sa chúlra ar dheis

Sa tulra ar dheis

[cuir tic ✓ sa bhosca ceart]

## 17. GRÉASÁIN LONNAÍOCHTA

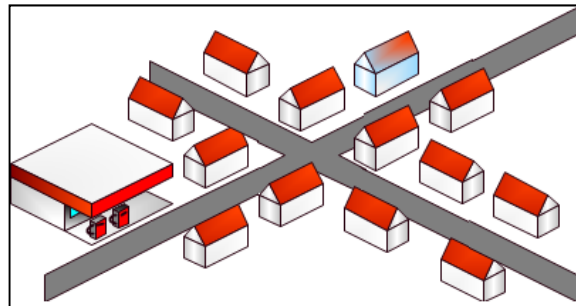
An cineál gréasáin lonnaíochta a thaispeántar sa phictiúir ná:

Scaipthe

Cnuasta

Stairiúil

[cuir tic ✓ sa bhosca ceart]



## 18. TAGAIRTÍ EANGAÍ

Féach ar an léarscáil Shuirbhéireacht Ordanáis a thugtar leis an bpáipéar seo.

An tseirbhís atá ar fáil ag tagairt eangaí **Q 446 014** ná:

Stáisiún Gardaí

Stáisiún Dóiteáin

Oifig Poist

Ionad Eolais Turasóireachta

[cuir tic ✓ sa bhosca ceart]

## 19. TAGAIRTÍ EANGAÍ

Féach ar an léarscáil Shuirbhéireacht Ordanáis a thugtar leis an bpáipéar seo.

Cad í an tagairt eangaí don Bhrú Óige atá thoir theas ón Daingean?

V 52 99

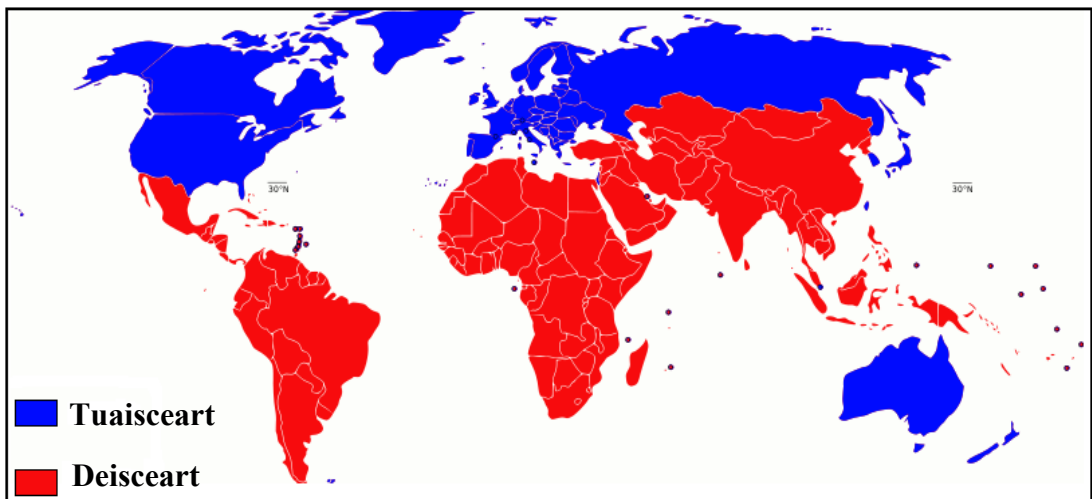
Q 46 00

Q 51 05

Q 47 00

[cuir tic ✓ sa bhosca ceart]

## 20. NEAMHIONANNAS DOMHANDA



Is é an dearcadh coitianta ná go bhfuil an domhain roinnte idir ‘an Tuaisceart saibhir’ agus ‘an Dheisceart bocht’.

Sa Deisceart:

Is beag airgead atá ag na bainc ar na tíortha

Tá an daonra ag dul i laghad

Oibríonn an chuid is mó de na daoine in oifigí agus i siopaí

Faigheann mórán leanaí óga bás den ocra agus de ghalair

[cuir tic ✓ sa bhosca ceart]

# **Leathanach Bán**

# **Leathanach Bán**

# **Leathanach Bán**