

RABHADH

Ná déan dearmad an páipéar seo a chur ar ais le do fhreagarleabhar, nó caillfear marcanna.

Scríobh do Scrúduithe anseo



Coimisiún na Scrúduithe Stáit

SCRÚDÚ AN TEASTAIS SHÓISEARAIGH, 2008

TÍREOLAÍOCHT – GNÁTHLEIBHÉAL

ROINN 1 – FILLTEÁN

DÉ hAOINE, 6 MEITHEAMH - TRÁTHNÓNA, 2.00 go 4.00

N.B. TÁ ROINN 2 DEN SCRÚDÚ SEO AR PHÁIPÉAR AR LEITHLIGH.

ROINN 1 (60 MARC)

Ní mór **GACH** ceist a fhreagairt.
Tá rogha agat **LAISTIGH de 4 cheist**.
Déan deimhin de an fillteán seo a thabhairt ar ais
in éineacht le do fhreagarleabhar.
Mura ndéanfaidh tú sin, caillfidh tú marcanna.

1. **An Domhan ón Spás**



www.earthobservatory.nasa.gov

Féach ar íomhá seo an Domhain ón Spás.
An t-aigéan a bhfuil X air, is é sin:

An tAigéan Ciúin Theas

An tAigéan Indiach

An tAigéan Artach

An tAigéan Atlantach Thuaid

[Cuir tic ✓ sa bhosca ceart]

2. Carraigeacha

Féach ar an bhfótagraf seo.
Cé acu díobh seo a leanas a thaispeánann sé?

Sreabh laibhe

Strataim charraige fillte

Lúba abhann

Staca mara



www.fas.org

[Cuir tic ✓ sa bhosca ceart]

3. An tAtmaisféar



www.outsidebanks.com

Féach ar an íomhá shatailíte seo.
Cé acu díobh seo a leanas a thaispeánann sé?

Stoirm sneachta

Hairicín

Fronta te

[Cuir tic ✓ sa bhosca ceart]

4. Gnéithe Abhann



Féach ar an bhfótagraf seo.

Cé acu de na gnéithe abhann seo a leanas a thaispeánann sé?

Easanna

Coiríní

Deilt

Aillte

[Cuir tic ✓ sa bhosca ceart]

5. Carraigeacha

Cé acu díobh seo a leanas ar **bruthcharraig** é?

Gual

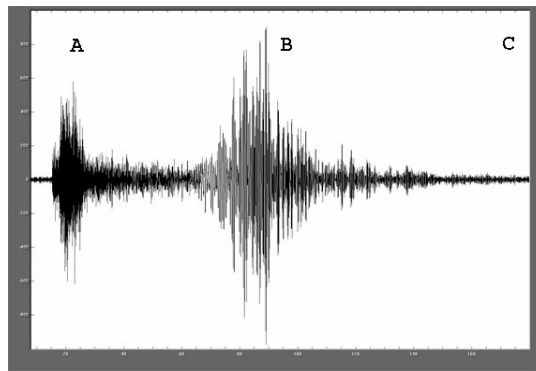
Aolchloch

Gaineamhchloch

Eibhear

[Cuir tic ✓ sa bhosca ceart]

6. Gluaiseacht i dTíreolaíocht



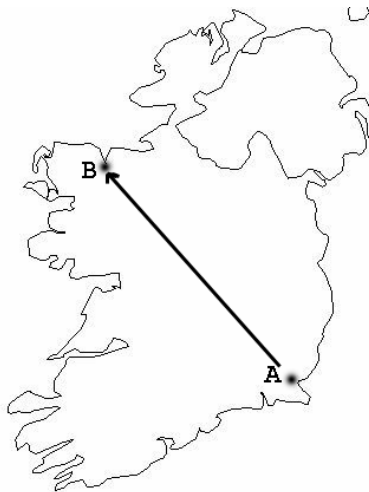
Glaotar **seismeagram** ar an ngraf seo agus úsáidtear é chun an neart atá i gceann amháin díobh seo a thaispeáint:

- Gaoth
- Stoirm ar an bhfarraige
- Stoirm thoirní
- Crith talún

[Cuir tic ✓ sa bhosca ceart]

7. Éire - Treo

Féach ar léarscáil seo d'Éirinn.



Dá rachfá ó bhaile mór **A** go baile mór **B**, cén **treo** a mbeifeá ag taisteal?

- Ón Tuaisceart go dtí an Deisceart
- Ón Oirthear Thuaidh go dtí an tIarthar Thuaidh
- Ón Oirthear Theas go dtí an tIarthar Thuaidh
- Ón Iarthar Thuaidh go dtí an tIarthar [Cuir tic ✓ sa bhosca ceart]

8. Freagair 8A NÓ 8B

8A Tírghnéithe Cósta - Sil-leagan



San fhótagraf thuas, is é a fhoirmítear as an ábhar a shil-leagtar ar an bhfarraige ná:

- Aill
- Staca mara
- Stua mara
- Gob gainimh

[Cuir tic ✓ sa bhosca ceart]

NÓ

8B Tírghnéithe Oighreacha - Sil-leagan



San fhótagraf thuas, is é atá san ábhar sil-leagtha a thaispeántar leis na saigheada ná:

- Moiréan
- Coire
- Fiord
- Droimnín

[Cuir tic ✓ sa bhosca ceart]

9. Freagair 9A NÓ 9B

9A Léarscáil Shuirbhéireacht Ordanáis

Féach ar an sliocht Suirbhéireacht Ordanáis a thugtar leis seo.

Cé acu ceann de na gnéithe seo a leanas a fhaightear ag tagairt eangaí M 324 247?

Caisleán

Láithreán carbhán

Droichead

Aerfort

[Cuir tic ✓ sa bhosca ceart]

NÓ

9B Gníomhaíochtaí Eacnamaíocha

Cé acu cineál gníomhaíochta eacnamaíche an bhfuil an bhean, a thaispeántar san fhótagraf seo, ag obair ann?

Gníomhaíocht Phríomhúil

Gníomhaíocht Thánaisteach

Gníomhaíocht Threasach

[Cuir tic ✓ sa bhosca ceart]




Iomhá ó www.answers.com

10. Freagair **10A NÓ 10B**

10A Léarscáil aimsire

Féach ar an léarscáil aimsire seo ó *Mheit. Éireann*.
Cé acu áit a raibh an aimsir ba ghriannmhair ann ar an lá seo?



- A
- B
- C

[Cuir tic ✓ sa bhosca ceart]

NÓ

10B Ródhaonra


Deirtear go bhfuil **ródhaonra** in áit nuair:

- atá cónaí ar a lán daoine san áit
- atá an daonra ag fás
- nach bhfuil go leor acmhainní do na daoine
go léir a bhfuil cónaí orthu san áit

[Cuir tic ✓ sa bhosca ceart]

11. Freagair 11A NÓ 11B

11A. Foirgnimh



www.dkimages.com

Is é is dóichí ná go bhfeictear foirgnimh cosúil leis na cinn san fhótagraf:

i mbruachbhailte cathrach

i gceantar tuaithe

i lárcheantar Gnó

in eastát tionsclaíoch

[Cuir tic ✓ sa bhosca ceart]

NÓ

11B. Tionscal gan Chuing

Cé acu díobh seo a leanas atá ina shampla de **thionscal gan chuing**?

Déantús Ríomhairí


Iarann agus Cruach

Monarcha Stroighne

Longthógáil

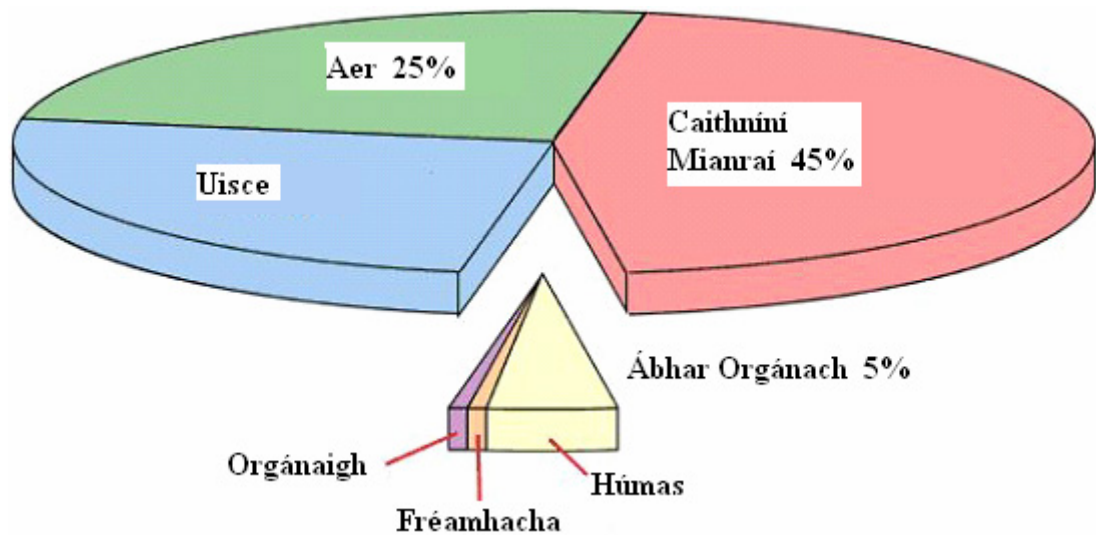
[Cuir tic ✓ sa bhosca ceart]

12. Trádáil an Chaife



Féach ar an léaráid thuas agus scríobh sa bhosca a thugtar an céatadán de phraghas an chaife a théann chuig na **Fásóirí agus Bainteoirí**.

13. Comhshuíomh na hIthreach



Féach ar an ngraf seo a thaispeánann comhshuíomh na hithreach.

Is é céatadán an **uisce** ná:

- 25%
- 30%
- 35%
- 40%

[Cuir tic ✓ sa bhosca ceart]

14. Léarscáileanna Suirbhéireacht Ordanáis

Is é a ghlaotar ar na línte a thaispeánann **airde** i léarscáileanna Suirbhéireacht Ordanáis ná:

- Iseabair
- Comhrianta
- Lúba

[Cuir tic ✓ sa bhosca ceart]

15. Léarscáil Shuirbhéireacht Ordanáis

Féach arís ar an sliocht Suirbhéireacht Ordanáis a thugtar leis seo.
Tá an gréasán lonnaíochta ar an mbóthar den tríú grád i gcearnóg eangaí **M 37 22**:

Cnuasaithe

Cnuasta

Scaipthe

Líneach nó Ribíneach

[Cuir tic ✓ sa bhosca ceart]

16. Scríos na gCoillte



www.bbc.co.uk

Is é a scríos na crainn san fhótagraf seo ná:

Stoirmeacha


Báisteach aigéadach

Taitneamh na gréine láidir

Poll an Ózóin

[Cuir tic ✓ sa bhosca ceart]

17. Fuinneamh



Féach ar na fótagraif seo, a thaispeánann sagsanna difriúla fuinnimh a úsáidtear i ndomhan na linne seo.

Cé acu dhá fhótagraf a thaispeánann **foinsí fuinnimh inathnuaite**?

A agus B

B agus C

A agus D

C agus D

[Cuir tic ✓ sa bhosca ceart]

18. Lonnaíocht

Is **Poldar** é:

Baile seantán sa Bhrasaíl

Ráth stairiúil in Éirinn

Talamh a tugadh chun míntíreachais san Ísiltír

Ceantar plódaithe le daoine i gCalcúta

[Cuir tic ✓ sa bhosca ceart]

19. **Aerfótagraf**

Féach ar an **aerfótagraf sceabhach** de chuid de chathair na Gaillimhe a thugtar leis seo. Bain úsáid as an gcóras tagartha suímh ceart thíos agus marcáil isteach an áit ar féidir leat droichead bóthair thar abhainn a fheiceáil:

	Ar Clé	Lár	Ar Dheis
Cúlra			
An Meán			
Tulra			

20. **Imirce**

Téann daoine ar imirce ar a lán cúiseanna, ar a nglaohtar **tosca brú** agus **tosca tarraingthe**.

Cé acu díobh seo a leanas ar toisc **bhrú** é?

Deiseanna oibre níos fearr

Tithíocht mhaith

Cogadh

Saol sóisialta níos fearr

[Cuir tic ✓ sa bhosca ceart]

Leathanach Bán

Leathanach Bán