



Coimisiún na Scrúduithe Stáit

SCRÚDÚ AN TEASTAIS SHÓISEARAIGH, 2007

TÍREOLAÍOCHT – GNÁTHLEIBHÉAL

ROINN 2

DÉ LUAIN, 11 MEITHEAMH – TRÁTHNÓNA, 1.30 go 3.30

Tá **ROINN 1** den pháipéar seo i bhfillteán ar leithligh, mar a bhfuil spásanna le haghaidh do chuid freagraí.

**N.B. CUIMNIGH AIR, LE DO THOIL, GO gCAITHFEAR AN FILLTEÁN
A THABHAIRT AR AIS LE DO FHREAGARLEABHAR**

THALL →

ROINN 2 (90 MARC)

Freagair **TRÍ** cheist.

Gabhann na marcanna céanna le gach ceist

1. TÍREOLAÍOCHT FHSICEACH

A. Is féidir le daoine **carraigeacha** a úsáid ina lán slite difriúla.

(i) Ainmnigh **trí** charraig agus abair conas is féidir gach ceann díobh a úsáid. [6]

(ii) Mínigh an fáth a gcuirfeadh daoine ina choinne, b'fhéidir, dá n-osclófaí cairéal, chun carraig a bhaint amach as, in aice lena n-áit chónaithe. [4]

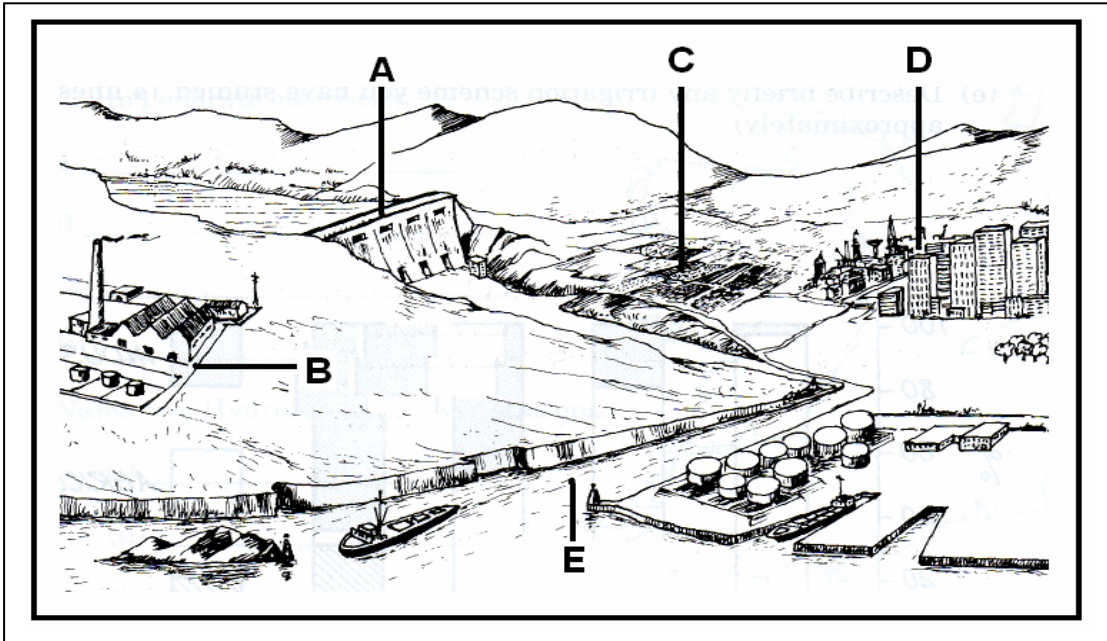
B. Aibhneacha

(i) Ainmnigh gné **amháin** de Chreimeadh Abhann.
Tarraing léaráid den ghné seo.
Mínigh conas a foirmíodh an ghné seo. [6]

(ii) Ainmnigh gné **amháin** de Shil-leagan Abhann.
Tarraing léaráid den ghné seo.
Mínigh conas a foirmíodh an ghné seo. [6]

1. TÍREOLAÍOCHT FHSICEACH ar leanúint.

C. Aibhneacha agus Daoine



Is féidir an t-uisce in abhainn a úsáid i slite éagsúla. Féach ar an léaráid thuas, a thaispeánann na húsáidí seo a leanas:

- | | | | |
|---|--------------------------|---|---------------------------|
| A | Cumhacht hidrileictreach | B | Tionsclaíocht |
| C | Talmhaíocht | D | Soláthairtí do chathracha |
| E | Iompar ar aibhneacha | | |

Roghnaigh **dhá** cheann de na húsáidí thuas agus abair cén fáth a bhfuil siad tábhachtach.

[8]

2. ITHREACHA

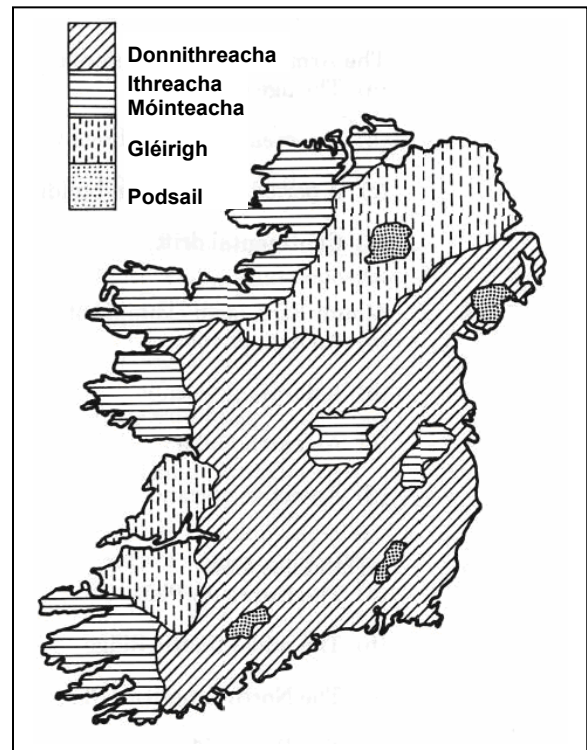
A. Déan staidéar cúramach ar an léarscáil seo.

(i) Cad é an príomhchineál ithreach a fhaightear in Éirinn?

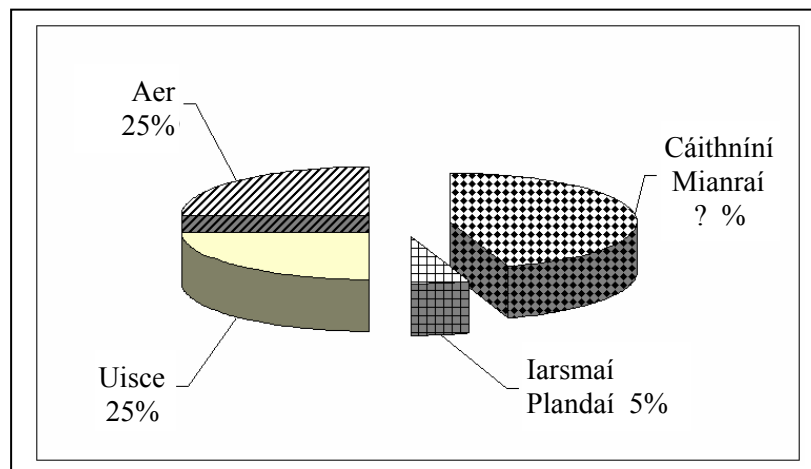
[3]

(ii) Cad é an príomhchineál ithreach a fhaightear sna limistéir ardtalaimh in Iarthuaisceart agus in Iardheisceart na hÉireann?

[3]



B. Féach go cúramach ar an léaráid seo a thaispeánann príomh-chomhábhair na hitreach.



(i) Cén céatadán den ithir atá déanta as cáithníní mianraí?

[3]

(ii) Déan cur síos ar an tábhacht a bhaineann le trí cinn ar bith díobh seo a leanas i gcomhdhéanamh na hitreach:

Cáithníní Mianraí; Aer; Uisce; Iarsmaí Plandaí.

[9]

C. Tá an ithir tábhachtach san fheirmeoireacht. Is córais iad feirmeacha agus tá **IONCHUIR, PRÓISIS** agus **ASCHUIR** acu.

(i) Ainmnigh ionchur **amháin**, próiseas **amháin** agus aschur **amháin** ar fheirm mheasctha a bhfuil staidéar déanta agat uirthi.

(ii) Déan cur síos achomair ar **thrí** jab a dhéanann feirmeoir ar fheirm mheasctha.

[12]

3. AERFÓTAGRAF

Déan staidéar ar an aerfótagraf de Dhroichead Átha, a thugtar leis an bpáipéar seo.

[**NOD:** Cuimhnigh air gur **fótagraf fiar** é seo. Mar sin, ba chóir duit na téarmaí cearta a úsáid, e.g. an Cúlra ar Clé, an Cúlra ar Dheis, etc.]

- A.** Tarraing sracléarscáil den cheantar go léir a thaispeántar san fhótagraf. Marcáil iad seo air agus ainmnigh iad:
- Abhainn
 - Droichead
 - Dhá bhóthar a chónascann a chéile
 - Eaglais
 - Carrchlós
- [12]
- B.** Roghnaigh, agus sainaithin go soiléir, áit ar an bhfótagraf ar mhaith leat cónaí ann. Tabhair **trí** chúis le do fhreagra agus bain úsáid as oiread sonraí agus is féidir ón bhfótagraf.
- [10]
- C.** **(i)** Cén tráth den bhliain a bhí ann nuair a tógadh an pictiúr seo? [2]
- (ii)** Bain úsáid as fianaise ón bhfótagraf agus tabhair cúis **amháin** le do fhreagra. [2]
- (iii)** Agus tú ag baint úsáide as fianaise ón bhfótagraf, ainmnigh agus tabhair suíomh **dhá** sheirbhís atá ar fáil i nDroichead Átha. [4]

4. LÉARSCÁIL SUIRBHÉIREACTH ORDANÁIS

A. Féach ar an léarscáil de chuid na Suirbhéireachta Ordanáis agus ar an eochair eolais a thugtar leis seo.

Tarraing sracléarscáil den cheantar a thaispeántar ar léarscáil na Suirbhéireachta Ordanáis.

Marcáil iad seo uirthi agus ainmnigh iad:

- Abhainn mhór
- An ceantar i nDroichead Átha atá faoi fhoirgnimh
- Mótarbhealach
- Trá
- Galfchúrsa

[12]

B. Féach arís ar léarscáil na Suirbhéireachta Ordanáis.

(i) “Is baile mór aosta é Droichead Átha. D’fhorbair sé ag an suíomh seo ar chúiseanna éagsúla.”

Bain úsáid as fianaise ón léarscáil agus déan cur síos ar **dhá** chúis ar fhorbair Droichead Átha ag an suíomh seo.

[6]

(ii) Cad é an fad ina chiliméadair, ar an R132 ón T-Acomhal ag Baile Iúiliáin (Julianstown) (O 133 708), ó thuaidh go dtí an stáisiún iarnróid i nDroichead Átha (O 099 748)?

[4]

C. Tá sé molta gur chóir Ionad Siopadóireachta a thógáil in aice leis an timpeallán ag O 065 767.

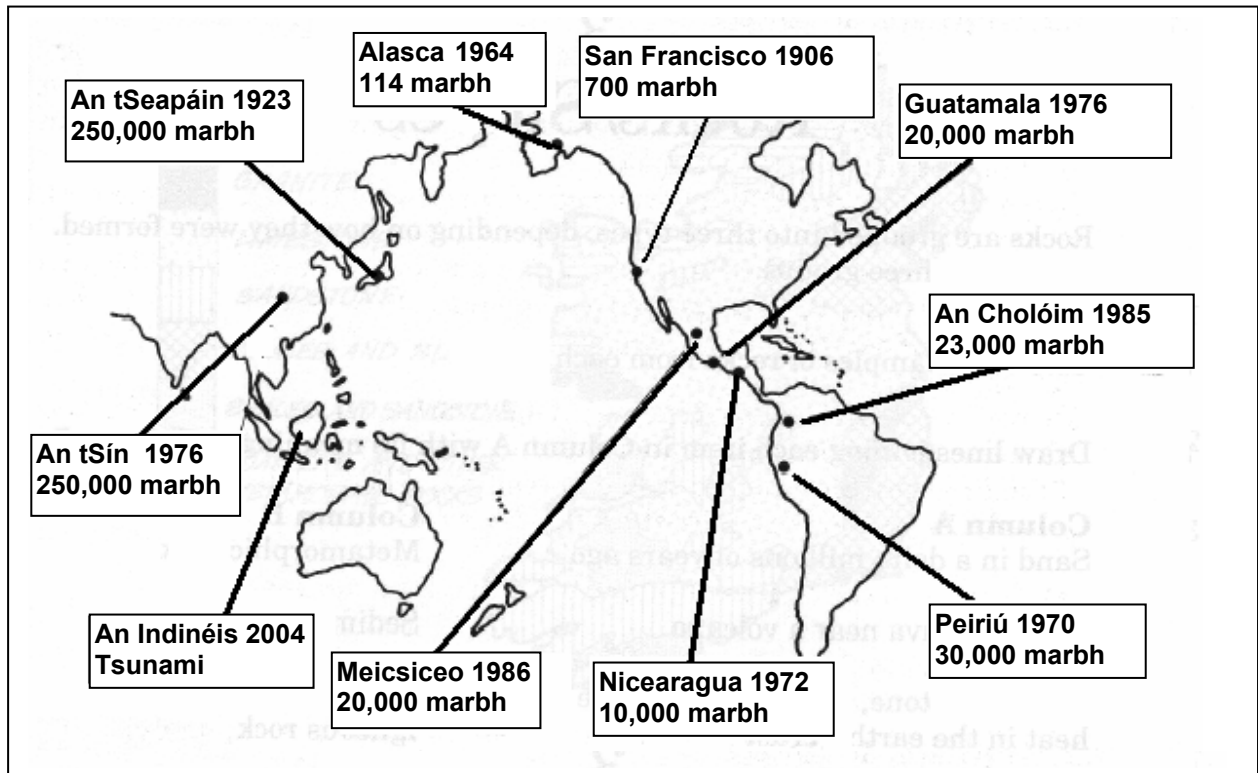
Déan cur síos ar bhuntáiste **amháin** agus ar mhíbhuntáiste **amháin** a bhaineann le hIonad Siopadóireachta a thógáil ag an suíomh seo.

[8]

5. MEASCÁN TÍREOLAÍOCHTA

Tabhair faoi **THRÍ CINN AR BITH** de na ceistanna: A, B, C, D.

5A. CREATHANNA TALÚN



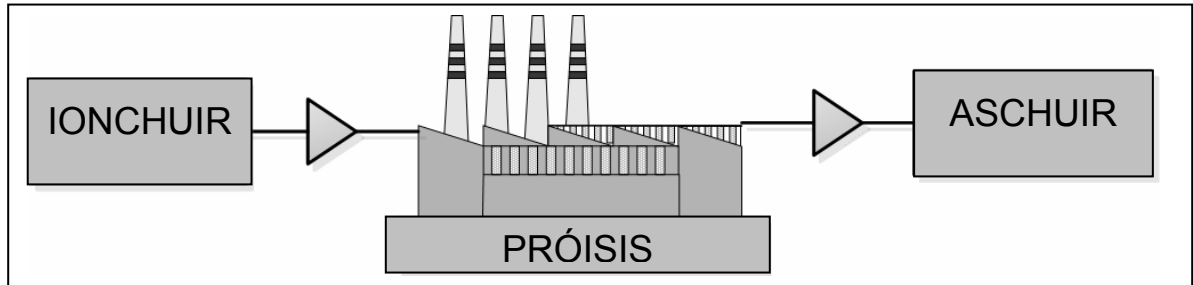
Déan staidéar ar an léarscáil thuas. D'fhulaing an limistéar seo den domhan a lán creathanna talún ó 1900 i leith.

- (i) Ainmnigh an **dá** thír leis an líon is mó daoine a fuair bás i gcreathanna talún. Ainmnigh an tír ina raibh crith talún ina chúis le **tsunami**. [6]
- (ii) Déan cur síos ar **dhá** thoradh a thagann as cathair mhór a bheith buailte ag crith talún. [4]

THALL →

5 MEASCÁN TÍREOLAÍOCHTA ar leanúint

5B. TIONSCAL DÉANTÚSAÍOCHTA



- (i) Ainmnigh tionscal déantúsaíochta a bhfuil staidéar déanta agat air.
- (ii) Ainmnigh sampla **amháin** de **gach** ceann de na **hionchuir**, de na **próisis** agus de na **haschuir** is tábhachtaí sa tionscal atá ainmnithe agat.
- (iii) Cad is **Eastát Tionsclaíoch** ann?

[10]

5C. DOMHAN SAIBHIR – DOMHAN BOCHT

- (i) Mínigh **dhá** cheann de na téarmaí seo a leanas:
- Dúshaothrú
 - Barr margaidh
 - Cúnamh Déthaobhach
 - Cúnamh Práinne
 - Cúnamh Forbartha

[6]

- (ii) Féach go cúramach ar an bhfótagraf seo.



San fhótagraf taispeántar bean agus cúnamh bia á fháil aici. Cén fáth a dteastódh cúnamh bia ó dhaoine? Luaigh **dhá** chúis.

[4]

5 MEASCÁN TÍREOLAÍOCHTA ar leanúint

5D. STAIDEÁR AR AN DAONRA

Féach go cúramach ar an tábla seo a leanas, a tógadh as **Daonáireamh 2006**. Taispeánann sé an t-athrú sa daonra i gCúige Chonnacht idir 1981 agus 2006.

An tAthrú sa Daonra i gCúige Chonnacht, 1981 – 2006

	1981	1986	1991	1996	2002	2006
GAILLIMH	172,018	178,552	180,364	188,854	209,077	231,035
LIATROIM	27,609	27,035	25,301	25,057	25,799	28,837
MAIGH EO	114,766	115,184	110,713	111,524	117,446	123,648
ROS COMÁIN	54,543	54,592	51,697	51,975	53,774	58,700
SLIGEACH	55,474	56,046	54,756	55,821	58,200	60,863

Foinse: POS, Daonáireamh 2006

- (i) Ainmnigh an **contae** ina raibh an daonra is mó in 2006. [2]
- (ii) Ríomh an **méadú ar** dhaonra **Chontae Shligigh** idir 1981 agus 2006. [2]
- (iii) Ainmnigh an **contae** ina dtaispeántar ar t-**athrú is lú** sa daonra idir 1981 agus 2006. [2]
- (iv) Is é an t-aon chontae amháin a thaispeánann méadú sa daonra gach bliain ná Gaillimh. An príomhchúis atá leis seo ná an tábhacht a bhaineann le cathair na Gaillimhe. Cén fáth a dtéann daoine ar imirce (Cén fáth a n-aistríonn daoine) le dul chun cónaithe sna cathracha? Luaigh **dhá** chúis. [4]

LEATHANACH BÁN

LEATHANACH BÁN

LEATHANACH BÁN