

RABHADH

Ná déan dearmad an páipéar seo a chur ar ais le do fhreagarleabhar, nó caillfear marcanna.

Scríobh d'Uimhir Scrúdaithe anseo



Coimisiún na Scrúduithe Stáit

SCRÚDÚ AN TEASTAIS SHÓISEARAIGH, 2005

TÍREOLAÍOCHT – GNÁTHLEIBHÉAL

ROINN 1 - FILLTEÁN

DÉ LUAIN, 13 MEITHEAMH - IARNÓIN, 1.30 go 3.30

N.B. TÁ ROINN 2 DEN SCRÚDÚ SEO AR PHÁIPÉAR AR LEITHLIGH.

ROINN 1 (60 MARC)

Ní mór **GACH** ceist a fhreagairt.
Tá rogha agat **LAISTIGH de 4 cheist**.
Déan deimhin de an fillteán seo a thabhairt ar ais in éineacht le do fhreagarleabhar.
Mura ndéanfaidh tú sin, caillfidh tú marcanna.

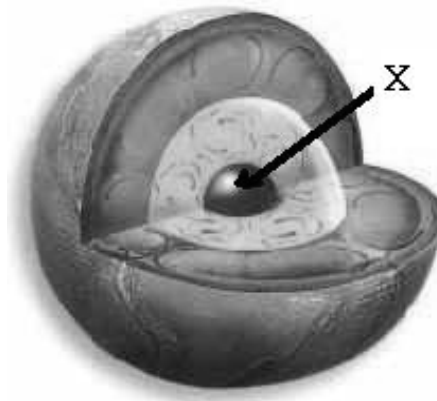
1. Laistigh den Domhan

Is é a ghlaotar ar an gcuid den domhan atá marcáilte le **X** sa léaráid seo ná :

An Screamh

An Ais

An Croí



[Cuir tic ✓ sa bhosca ceart]

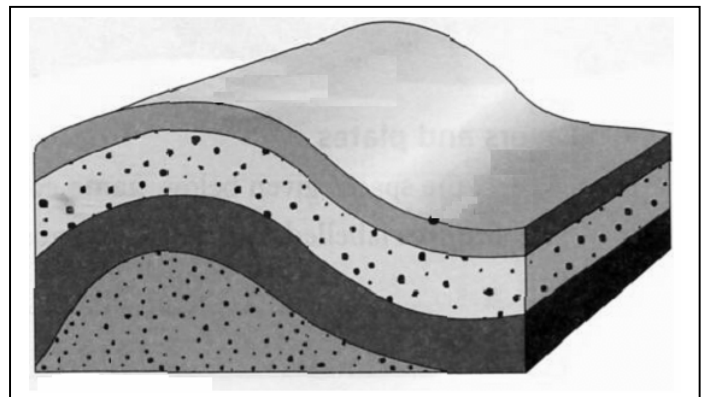
2. Screamh an Domhain á cumadh

Cé acu díobh seo a leanas atá léirithe sa léaráid seo:

Filleadh

Sciorradh talún

Ithirthéaltú



[Cuir tic ✓ sa bhosca ceart]

3. Freagair 3A NÓ 3B

3A. Treo – Éire

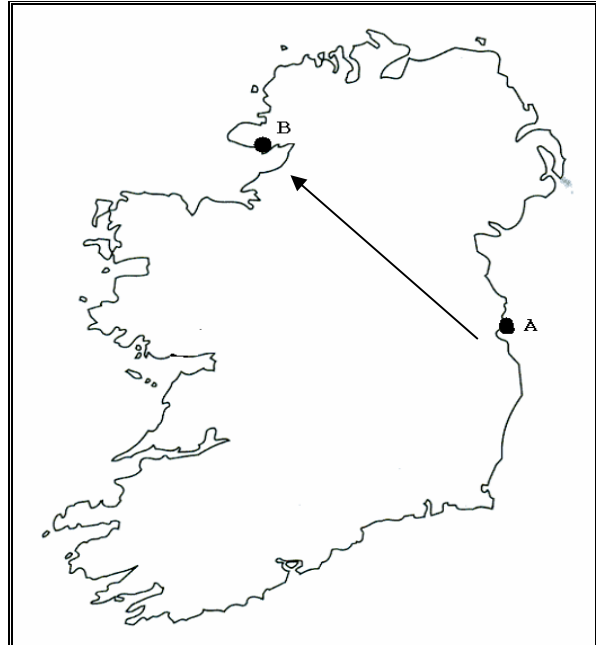
An Treo ó A go B ar an léarscáil ná:

Thiar theas

Thiar thuaidh

Ó Thuaidh

Thoir theas



[Cuir tic ✓ sa bhosca ceart]

NÓ

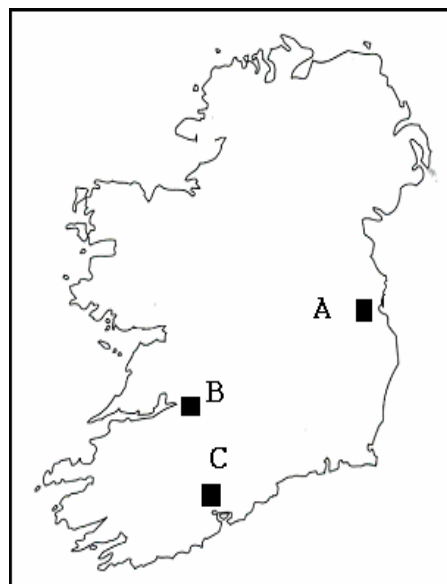
3B. Príomhchathair na hÉireann

Cé acu díobh seo a leanas Baile Átha Cliath?:

A

B

C



[Cuir tic ✓ sa bhosca ceart]

4. Freagair 4A NÓ 4B

4A. Gnéithe an Chósta

Is é a ghlaotar ar thírghné an chósta sa phictiúr seo ná:

Staic

Áirse

Dromchla tonnghearrtha

Ní haon cheann díobh sin thuas é

[Cuir tic ✓ sa bhosca ceart]



NÓ

4B. Oighriúchán

Cruthaítear an ghné atá marcáilte **B** sa léaráid seo trí oighearchreimeadh.
An rud a ghlaotar air ná:

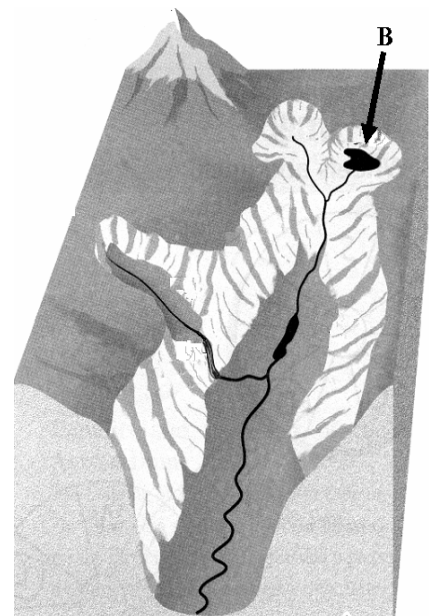
Gleann crochta

Coire

Loch ribíneach

Ní haon cheann díobh sin thuas é


[Cuir tic ✓ sa bosca ceart]



5. Freagair 5A NÓ 5B

5A. An Aimsir

Taispeántar lagrach sa léaráid seo:



An ghné leis an lipéad Y ná:

Fronta fuar

Fronta te

[Cuir tic ✓ sa bhosca ceart]

NÓ

5B. An Stáisiún Aimsire


Is é a ghlaotar ar an bpíosa trealaimh seo ná:

Ainéimiméadar

Scáthlán Stevenson

Méadar báistí

[Cuir tic ✓ sa bhosca ceart]



6. Freagair 6A NÓ 6B

6A. Tábhacht an Uisce

Is é is brí le **huisciú** ná:

Draenáil uisce ó thalamh fliuch

Tabhairt uisce go talamh tirim

Talamh nua a thabhairt chun míntíreachais ón bhfarraige
[Cuir tic ✓ sa bhosca ceart]

NÓ

6B. Tomhas Báistí

An gléas aimsire a úsáidtear chun báisteach a thomhas ná:

Teirmiméadar

Ainéimiméadar

Méadar báistí

[Cuir tic ✓ sa bhosca ceart] [



7. **Timthriall an Uisce**

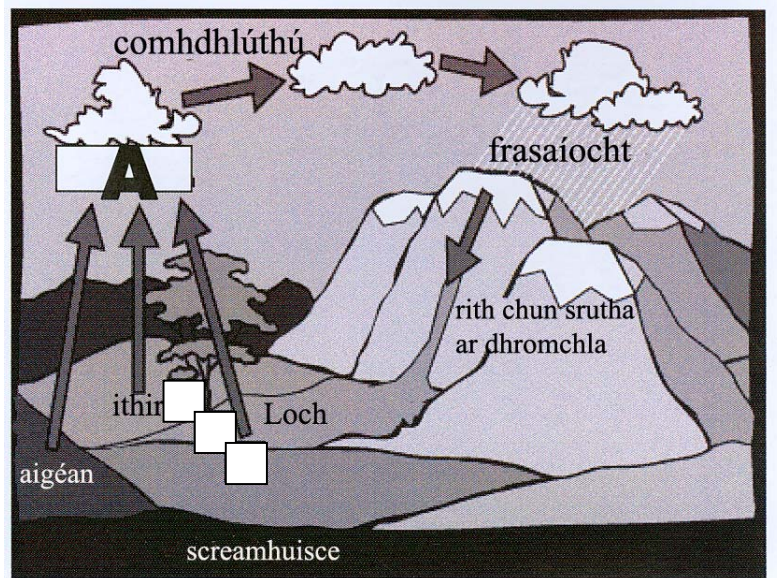
An próiseas atá ag tarlú ag A sa léaráid seo ná:

Rith chun srutha

Frasaíocht

Galú

[Cuir tic ✓ sa bhosca ceart]



8. **Aeráid na hÉireann**

Cé acu ceann de na ráitís seo a leanas a dhéanann an cur síos **is fearr** ar aeráid na hÉireann?:

Geimhreadh an-fhuar, samhradh gearr le báisteach éadrom

Samhradh te agus tirim, geimhreadh fuar agus tirim

Geimhreadh bog, samhradh teomheasartha, báisteach i rith na bliana go léir

[Cuir tic ✓ sa bhosca ceart]

9. **Pirimid Daonra**

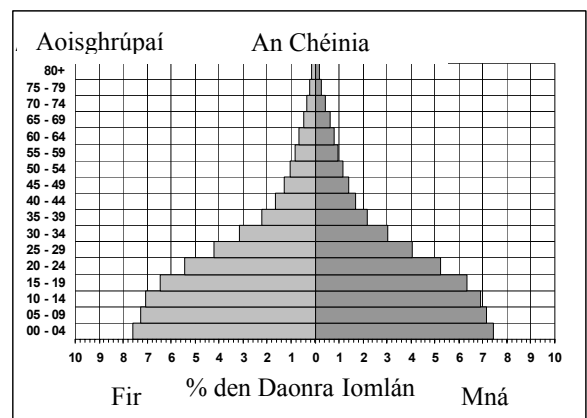
Féach ar an bpirimid daonra seo. Tá an % den daonra iomlán atá in aois 0 go 4 bliana thart ar:

15%

50%

7.5%

[Cuir tic ✓ sa bhosca ceart]



10. An Imirce

Téann daoine ar imirce [aistríonn siad áit chónaithe] de bharr cúiseanna a dtugtar **Tosca Brú agus Tosca Tarraingthe** orthu. Cé acu ceann díobh seo a leanas an toisc **bhrú** ?:

Dífhostaíocht

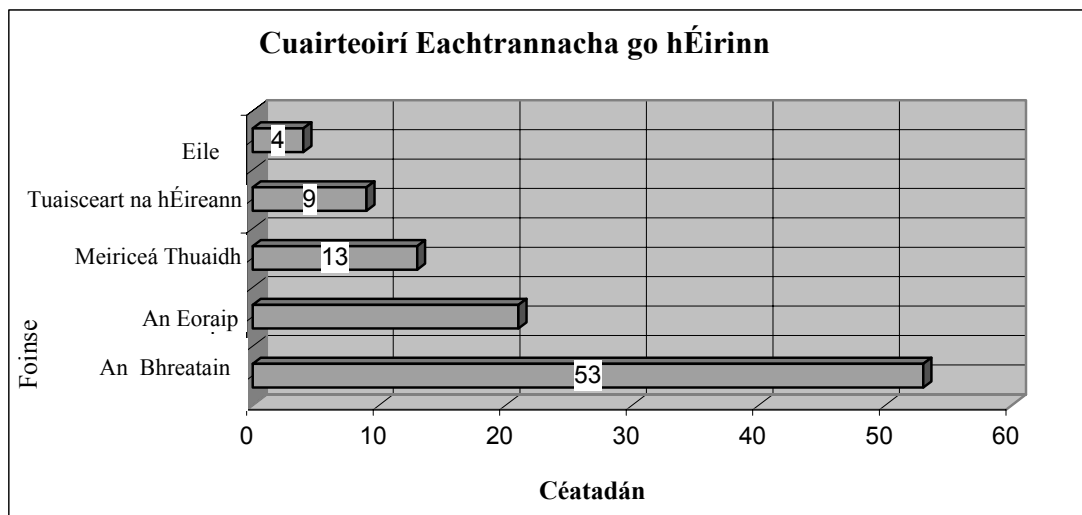
Saol sóisialta níos fearr

Radharc tire níos tarraingtí

Córas iompair poiblí níos fearr

[Cuir tic ✓ sa bhosca ceart]

11. Cuairteoirí Eachtrannacha go hÉirinn



Féach ar an gcairt seo, a thaispeánann cad as a dtagann na cuairteoirí eachtrannacha go hÉirinn gach bliain.

Cén céatadán de chuairteoirí a thagann ón Eoraip?:

12%

79%

21%

[Cuir tic ✓ sa bhosca ceart]

12. Fuinneamh

Cé acu ceann de na foinsí fuinnimh seo a leanas atá **inathnuaite**?:

Gual

Ola

Gaoth

Móin

[Cuir tic ✓ sa bhosca ceart]

13. Gníomhaíochtaí Treasacha

Cé acu ceann de na postanna seo a leanas atá ina Gníomhaíocht Treasach (Seirbhíse)?:

Feirmeoir

Mianadóir

Rúnaí oifige

Oibrí cruach

[Cuir tic ✓ sa bhosca ceart]

14. Stoic Éisc in Uiscí na hÉireann

Tá a lán saghsanna éisc mhara éirithe gann de bharr:

Úsáid bháid iascaireachta níos lú

Creathanna talún

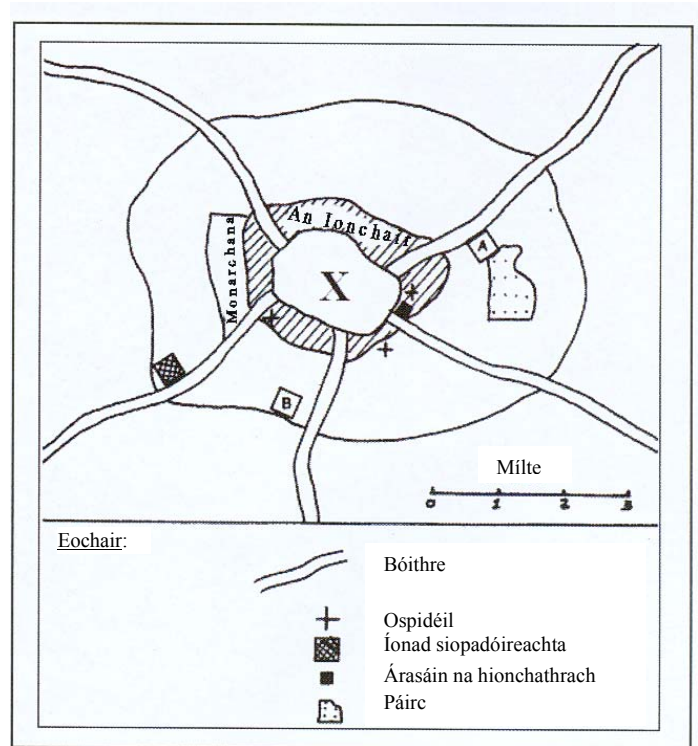
Ró-iascaireacht

[Cuir tic ✓ sa bhosca ceart]

15. Ceantair Uirbeacha

Féach go cúramach ar an léarscáil seo. Is é a ghlaotar ar an bpríomh-cheantar siopaí agus oifigí i gcathair (marcáilte X ar an léarscáil) ná :

- Na bruachbhailte
 - Ceantair Chónaithe
 - Ceantar Lárnach Gnó
 - Crios Tionsclaíochta
- [Cuir tic ✓ sa bhosca ceart]



16. Aerfótagraf den Mhuileann gCearr

Féach ar na **crainn** sa lár agus sa chúlionad ar dheis.
Cén cineál iad, sa chuid is mó?:

- Buaircíneach
- Duillsilteach

[Cuir tic ✓ sa bhosca ceart]

17. Aerfótagraf den Mhuileann gCearr

Féach arís ar an aerfótagraf.
Cén **t-am den bhliain** is dóichí a tógadh é, dar leat?

- Geimhreadh
- Samhradh

[Cuir tic ✓ sa bhosca ceart]

18. Sliocht Suirbhéireachta Ordanáis

Féach ar an sliocht Suirbhéireachta Ordanáis a thugtar.
An **ceann is mó** de na hoileáin i Lough Owel ná:

Oileán Srudarra

Oileán na mná uaisle
(Lady's Island)

Oileáin na hEaglaise
(Church Island)

[Cuir tic ✓ sa bhosca ceart]

19. Sliocht Suirbhéireachta Ordanáis

An bóthar a bhuaileann leis an N4 ag tagairt eangaí N 444 557 ná an:

R392

R390

R394

N52

[Cuir tic ✓ sa bhosca ceart]

20. Sliocht Suirbhéireachta Ordanáis

An airde de Frewin Hill N377 585 ná;

71 mhéadar

711 mhéadar

171 mhéadar

[Cuir tic ✓ sa bhosca ceart]

Leathanach Bán