

RABHADH

Ní mór duit an páipéar seo a chur ar ais le do fhreagarleabhar, nó caillfear marcanna.

Scríobh d'Uimhir Scrúdaithe anseo



Coimisiún na Scrúduithe Stáit

SCRÚDÚ AN TEASTAIS SHÓISEARAIGH, 2004

TÍREOLAÍOCHT – GNÁTHLEIBHÉAL

ROINN 1 - FILLTEÁN

DÉ LUAIN, 14 MEITHEAMH - IARNÓIN, 1.30 go 3.30

N.B. TÁ ROINN 2 DEN SCRÚDÚ SEO AR PHÁIPÉAR AR LEITHLIGH.

ROINN 1 (60 MARC)

Ní mór **GACH** ceist a fhreagairt.

Tá rogha agat **LAISTIGH de 4 cheist.**

Déan deimhin de an fillteán seo a thabhairt ar ais in éineacht le do leabhar freagraí.

Mura ndéanfaidh tú sin, caillfidh tú marcanna.

1. Síonchaitheamh

Is é an toradh a bhíonn ag síonchaitheamh ar screamh an domhain ná:

Tuile

Carraigeacha ag briseadh síos

Creathanna talún

Iontaisí

[Cuir tic ✓ sa bhosca ceart]

2. Carraigeacha

Is é an saghas carraige a fhaightear ag A, i sléibhte Chill Mhantáin ná:

Basalt

Aolchloch

Gaineamhchloch

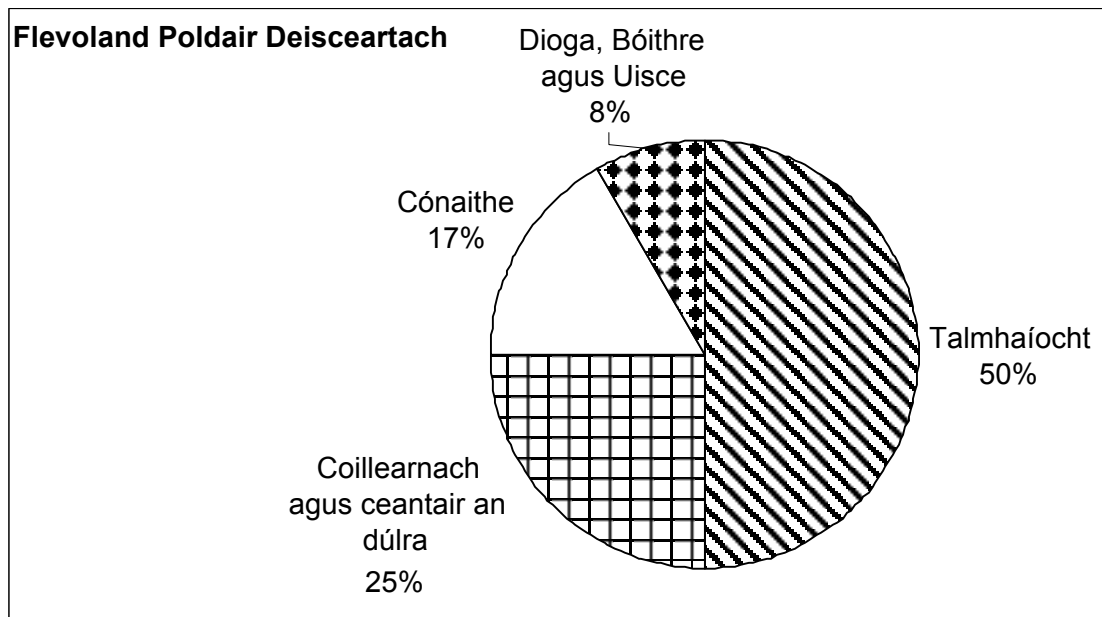
Eibhear

[Cuir tic ✓ sa bhosca ceart]



3. Freagair 3A NÓ 3B:

3A. Poldair



Féach ar an pí-chairt thuas.

Sna ráitisí thíos, ciorclaigh an freagra ceart i nGACH cás:

- Tá **CEATHRÚ AMHÁIN/LEATH** de thalamh Flevoland Theas do thalmhaíocht.
- Tá **CEATHRÚ AMHÁIN/TRIAN AMHÁIN** de thalamh Flevoland Theas mar Choillearnach agus Ceantair an Dúlra.
- San Flevoland Theas, tá Talamh Chónaithe **NÍOS MÓ/NÍOS LÚ** ná Talamh Choillearnach agus Ceantair an Dúlra.

NÓ

3B. Poldair

Is iad Poldair ná limistéir de thalamh a tugadh chun míntíreachais agus faightear iad go háirithe:

San Ísiltír

sa Ghearmáin

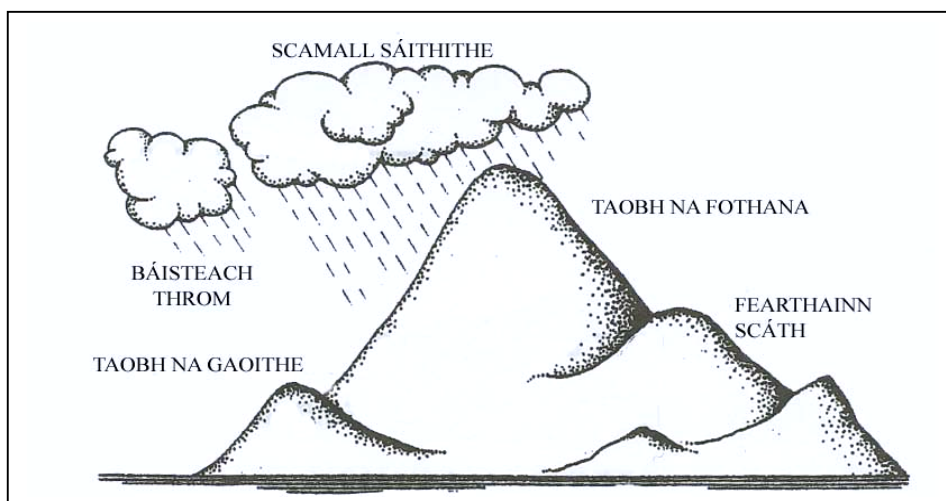
in Éirinn

sa Bhrasaíl

[Cuir tic ✓ sa bhosca ceart]

4. Freagair 4A NÓ 4B:

4A. Báisteach



Taispeánann an léaráid thuas sampla de:-

- Báisteach Rílife
- Báisteach Monsúin
- Báisteach chioclóin
- Báisteach chomhiompair

[Cuir tic ✓ sa bhosca ceart]

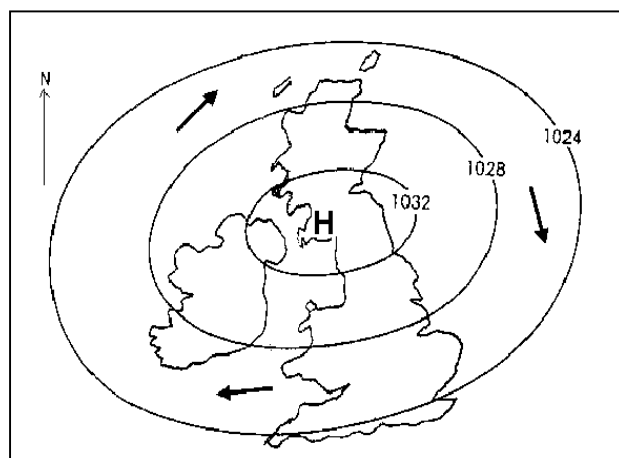
NÓ

4B. An tAtmaisféar Corrach (míshuaimhneach)

Taispeánann an learscáil seo córas brú do mhí Feabhra luath. An aimsir is dóichí don staid seo ná go mbeidh sé:

- Bog, fliuch agus gaofar
- Fuar, fliuch agus gaofar
- Spéir ghlan, grian i lár an lae ach fuar le sioc istoíche

[Cuir tic ✓ sa bhosca ceart]



5. Freagair 5A NÓ 5B:

5A. An Timpeallacht

Maraítear crainn mar na cinn san fhótagraf toisc:



Báisteach Aigéadach

An Ciseal Ózóin

Scríobchaitheamh

Fuinneamh na Gréine

[Cuir tic ✓ sa bhosca ceart]

NÓ

5B. Treo

Féach ar an léarscáil seo. Dá mbeifeá ag taisteal ó Shligeach go Loch Garman, bheifeá ag dul ó:

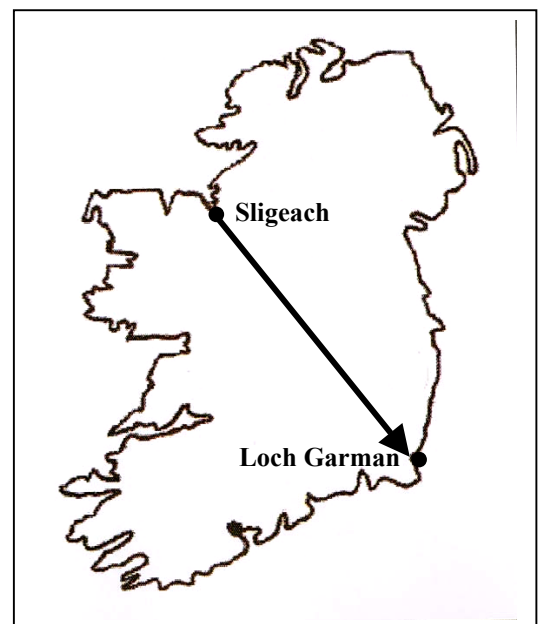
Thiar Thuaidh go Thoir Theas

Thiar Theas go Thoir Thuaidh

Thoir Theas go Thiar Thuaidh

Thiar Theas go Thiar Thuaidh

[Cuir tic ✓ sa bhosca ceart]



6. **An Ithir Bheo**

Is é is brí le láisteadh i ithreacha ná:-

Galú mianra suas

Scuabadh síos mianra ag uisce

Mianra a chur isteach san ithir

Fásra marbh á bhriseadh síos ag baictéir

[Cuir tic ✓ sa bosca ceart]

7. **Tithíocht sa Chathair**

Faightear tithe leathscoite go háirithe:

sa Lárcheantar Gnó

sna bruachbhailte

san ionchathair

in eastát tionsclaíoch

[Cuir tic ✓ sa bosca ceart]



8. Cúnamh do Thíortha i mBéal Forbartha

Is é atá i gCúnamh Éigeandála ná:

nuair a chaithfear an t-airgead a úsáid chun earraí a cheannach ón dtír a bhronann é

nuair a thugann Rialtas na hÉireann airgead do thír chun uirlisí feirmeoireachta a cheannach

nuair a bhronntar bia, blaincéid agus cógais ag am tubaiste nó gorta

[Cuir tic ✓ sa bosca ceart]

9. Lonnaíocht

Is é an gréasán lonnaíochta a thaispeántar ná:

Cnuasach

Líneach

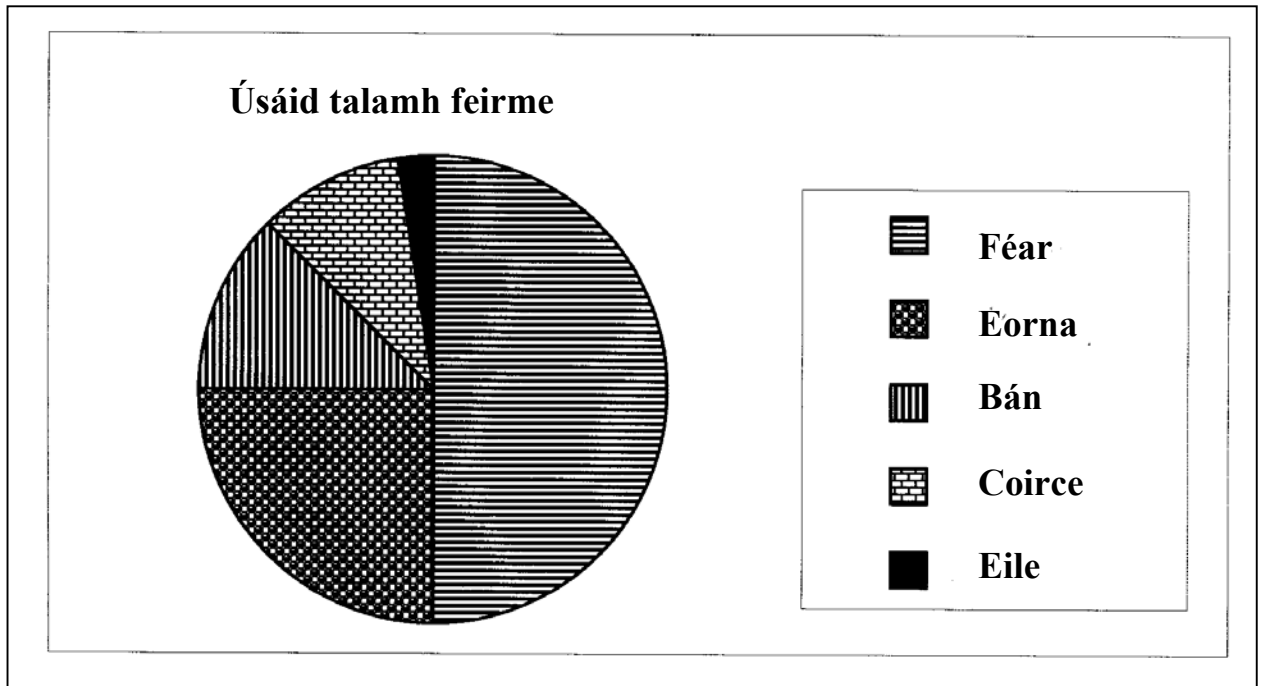
Uirbeach

Cosanta

[Cuir tic ✓ sa bosca ceart]



10. Léaráidí staitistice – Úsáid talún ar an bhFeirm



Cé acu díobh seo a leanas an céatadán talún a úsáidtear chun eorna a fhás ar an bhfeirm seo?

- 13%
- 20%
- 25%
- 40%

[Cuir tic ✓ sa bosca ceart]

11. Crainn in ár dTimpeallacht

Ionsúnn crainn dé-ocsaíd charbóin atá táirgthe ag daoine agus ag ainmhithe.

Toradh amháin ar Fhoraoiseacha Trópaiceacha Báistí a ghearradh síos ná:

- Maidhmeanna talún
- Éifeacht an tí-ghloine
- Bochtanas domhanda
- Aigéad carbónach

[Cuir tic ✓ sa bosca ceart]



12. Léarscáil den Líne DART, B.Á.C.

Féach ar an léarscáil thíos.



Ag dul ar bórd an Dart i stáisiún Dhún Laoire agus ag taisteal ó thuaidh, cén stáisiún a mbéadh tú ann tar éis seacht stopanna.

- Blackrock
- Booterstown
- Landsowne Road
- Tara Street

[Cuir tic ✓ sa bosca ceart]

13. Léarscáileanna Suirbhéireachta Ordanáis

Féach ar an léarscáil Suirbhéireachta Ordanáis agus ar an eochair atá leis.

Cé acu díobh seo leanas atá suite ag G 266 277?

- Láithreán faoi Mhóta
- Eaglais
- Caisleán
- Talamh Adhlactha

[Cuir tic ✓ sa bosca ceart]

14. Freagair **14A NÓ 14B**:

14A. Suirbhéireacht Ordanáis

Féach ar an léarscáil suirbhéireachta ordanáis agus ar an eochair atá ag gabháil leis.

Tá spotairde 17 méadar sa Chearnóg Eangaí:

G 18 20

G 28 16

G 17 14

G 22 14

[Cuir tic ✓ sa bosca ceart]

NÓ

14B. Daonra

Bíonn **ródhaonra** in áit nuair

a bhíonn a lán cathracha móra ann

a bhíonn an daonra ard

nach mbíonn go leor acmhainní do
na daoine go léir atá ag maireachtáil ann

a bhíonn an daonra ag fás

[Cuir tic ✓ sa bosca ceart]

15. **Gníomhaíochtaí Eacnamaíocha**


San fhótagraf tá an bhean a thaispeántar ag obair in oifig. Oibríonn sí:

i nGníomhaíocht Phríomhúil

i nGníomhaíocht Thánaisteach

i nGníomhaíocht Threasach

[Cuir tic ✓ sa bosca ceart]




16. **Gníomhaíochtaí Tánaisteacha**

Cé acu de na ráitis seo a leanas a chuireann síos is fearr ar an gcartún?

Uaireanta bíonn coimhlint idir thionsclaíocht agus leas na timpeallachta

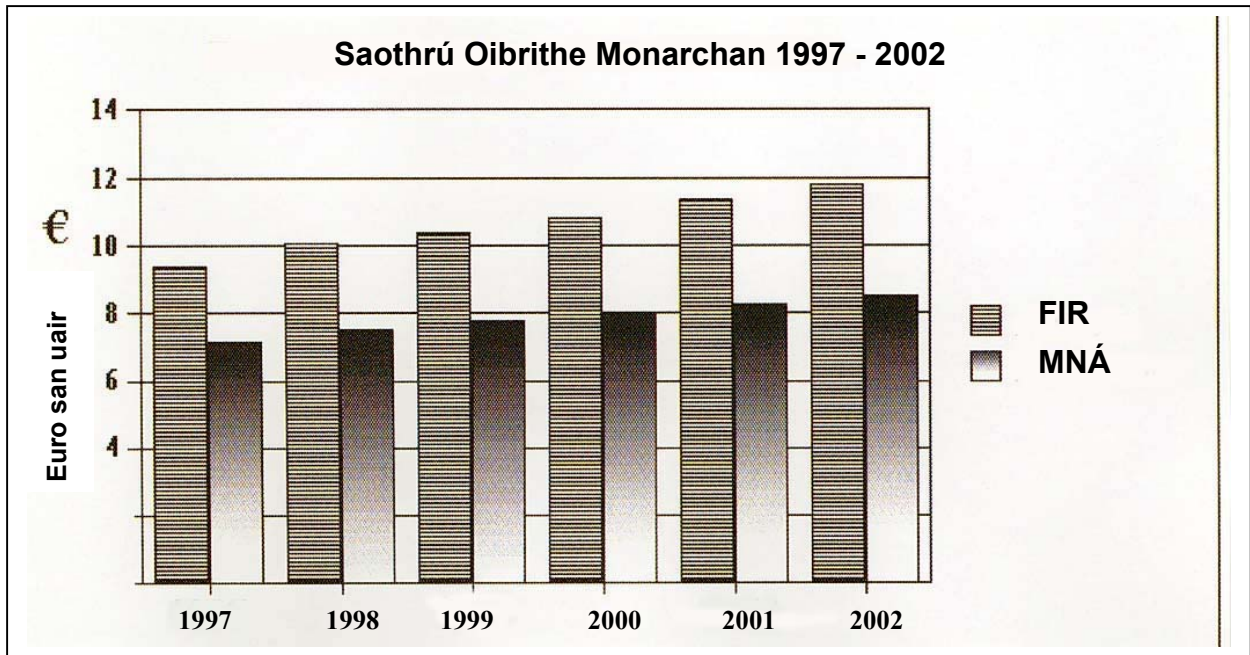
Oibríonn an tionsclaíocht i gcónaí chun an timpeallacht a chosaint

Ní oibríonn an tionsclaíocht riamh chun an timpeallacht a chosaint



[Cuir tic ✓ sa bosca ceart]

17. Fostaíocht i Monarchana



Cén abairt is fearr a léiríonn an léiráid thuas?

Tá níos mó in aghaidh an uair an chloig saothraithe ag mná ná ag fir i monarchana idir 1997 agus 2002.

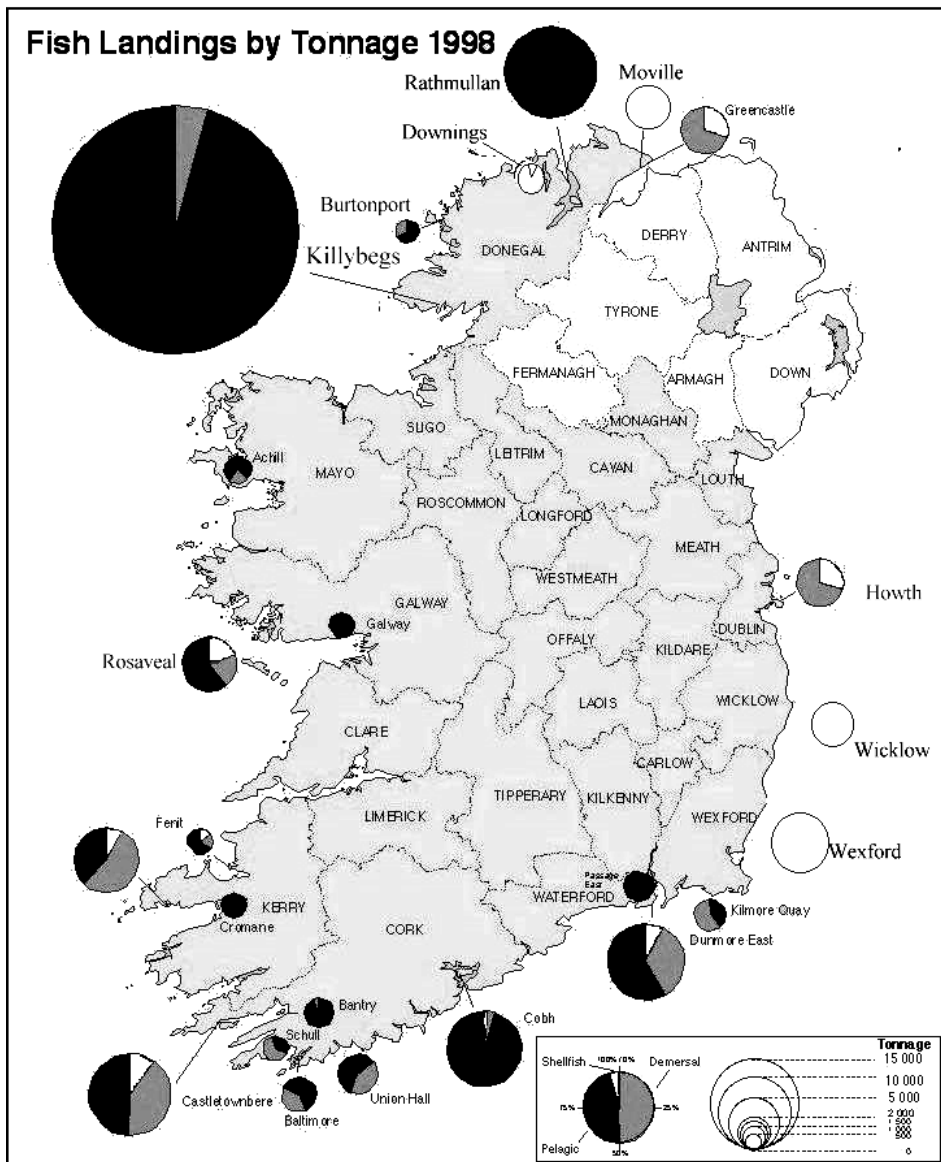
Tá pá cothrom in aghaidh an uair an chloig saothraithe ag fir agus ag mná i monarchana idir 1997 agus 2002.

Tá méadú beag tagtha ar an bpá in aghaidh an uair an chloig do mhná i monarchana in Éirinn idir 1997 agus 2001 ach fós níl sé cothrom le pá uair an chloig na bhfear

[Cuir tic ✓ sa bosca ceart]

18. Iascaireacht

Éisc tugtha i dtír 1998 (Tonnáiste).



Scrúdaigh an léarscáil thuas. Taispeánann sé an méid éisc, i ttonaí, a tugadh i dtír i gcalafoirt éagsúla i 1998. Tugadh an méid is mó éisc i dtír:

sna Cealla Beaga [Killybegs]

sa Dún Mór Thoir [Dunmore East]

Ráth Maoláin [Rathmullan]

Beann Éadair [Howth]

[Cuir tic ✓ sa bosca ceart]

19. Imirce

Tá roinnt cúiseanna ann go ndéanann daoine imirce. Tugtar Tosca Brú agus Tosca Tarraingthe orthu seo. Cé acu ceann díobh seo a leanas an toisc **Bhrú**?

Saol sóisialta aerach

Tithíocht mhaith

Postanna maithe

Cogadh

[Cuir tic ✓ sa bosca ceart]

20. Tíreolaíocht Dhomhanda

Taispeánann an léarscáil dhomhanda

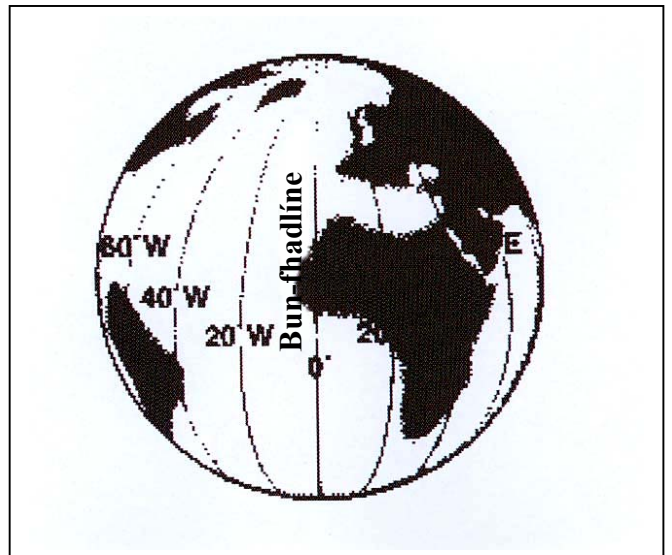
Línte dhomhanleithid

Imlínte chomh-airde

Línte chomhbhrú (Iseabair)

Línte dhomhanfhaid

[Cuir tic ✓ sa bosca ceart]



Leathanach Bán

Leathanach Bán