

RABHADH

Ná déan dearmad an chuid seo a chur ar ais le do leabhrán freagraí. Mura ndéanann tú sin, caillfidh tú marcanna.

Scríobh d'Uimhir Scrúdaithe anseo



Coimisiún na Scrúduithe Stáit

SCRÚDÚ AN TEASTAIS SHÓISEARAIGH, 2003

TÍREOLAÍOCHT – GNÁTHLEIBHÉAL

ROINN 1 - FILLTEÁN

DÉ LUAIN, 9 MEITHEAMH - IARNÓIN, 1.30 go 3.30

N.B. TÁ ROINN 2 DEN SCRÚDÚ SEO AR PHÁIPÉAR AR LEITHLIGH.

Scríobh d'Uimhir Scrúdaithe anseo

ROINN 1 (60 MARC)

Ní mór **GACH** ceist a fhreagairt.
Tá rogha agat i **gCEITHRE** cheist.
Déan deimhin de an fillteán seo a thabhairt ar ais in
éineacht le do leabhar freagraí.
Mura ndéanfaidh tú sin, caillfidh tú marcanna.

1. Gluaiseachtaí Talún

Cé acu díobh seo a leanas atá léirithe sa phictiúr?


Crith talún

Maidhm shneachta

Bolcán

Ithirthéaltú

[cuir ✓ sa bhosca ceart]



2. Carraigeacha

Is sampla de **bhruthcharraig** é:

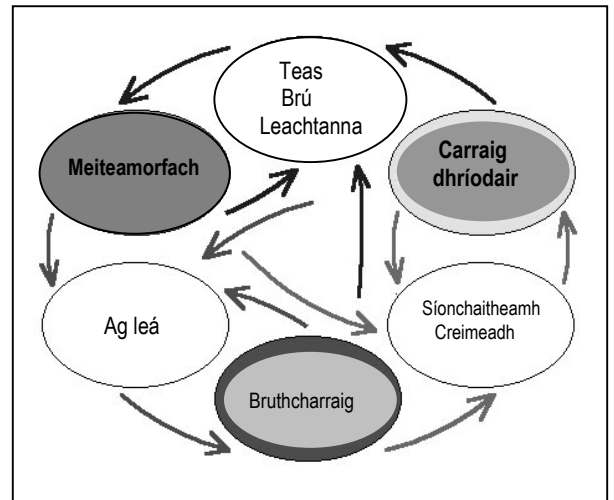
Marmar

Eibhear

Aolchloch

Gaineamhchloch

[cuir tic ✓ sa bhosca ceart]



3. **Ag tomhas na haimsire**

Is é an gléas a thaispeántar sa léaráid ná:

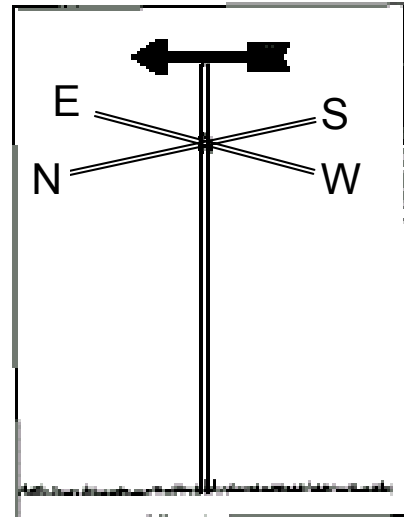
Eite ghaoithe

Teirmiméadar

Baraiméadar

Méadar báistí

[cuir tic ✓ sa bhosca ceart]



4. **Síonchaitheamh**

Tarlaíonn síonchaitheamh ceimiceach nuair:

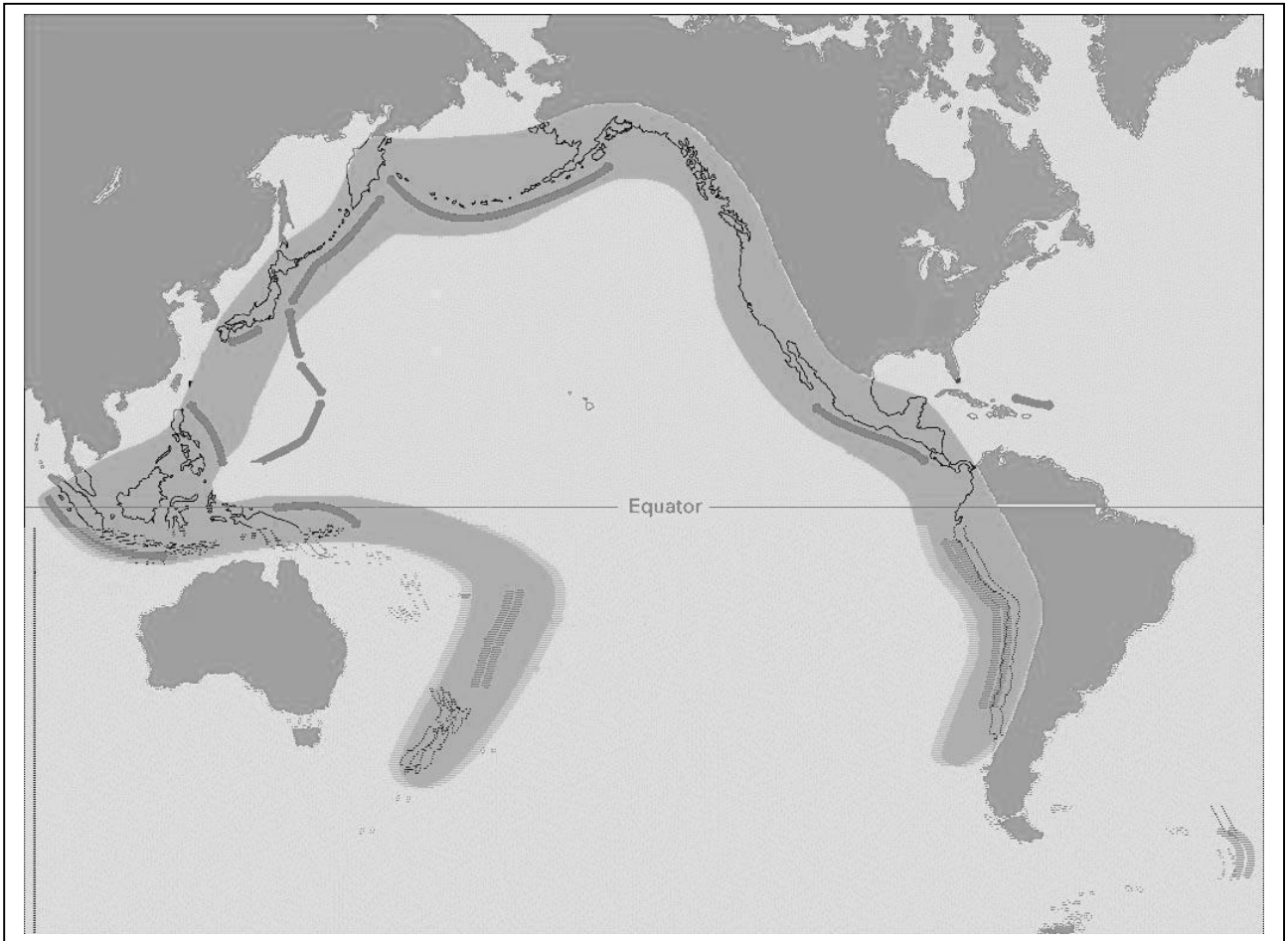
A chreimeann an fharraige aill

A bhristear carraigeacha as a chéile de bharr aigéad carbónach a bheith in uisce báistí

A bhristear carraigeacha as a chéile de bharr oibriú seaca

A dhéanann plandaí agus ainmhithe tochailt sa talamh

[cuir tic ✓ sa bhosca ceart]



5. **Screamh an Domhain**

Taispeánann an ceantar scáilithe bándearg ar an léarscáil thuas:

Ceantair fhásaigh

Crios tuillte

Fáinne tine an Aigéin Chiúin

Foraoisí báistí

[cuir tic ✓ sa bhosca ceart]

6. Freagair **6a NÓ 6b**

6a. Tíreolaíocht Shuímh

Cén **contae** ina bhfuil an Bhoireann suite?

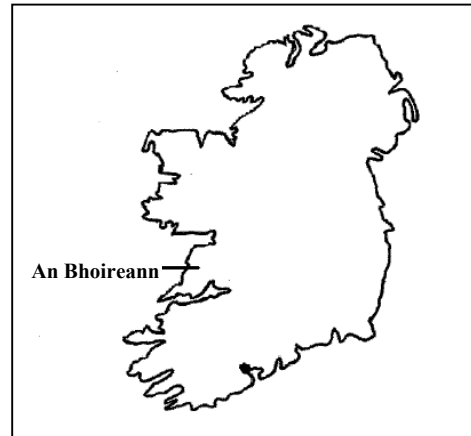
Contae Chorcaí

Contae Dhún na nGall

Contae Chiarraí

Contae an Chláir

[cuir tic ✓ sa bhosca ceart]



NÓ

6b. Treo

Féach ar an léarscáil seo. Dá mbeifeá ag taisteal ó Loch Garman go Leitir Ceanainn, bheifeá ag imeacht ó:

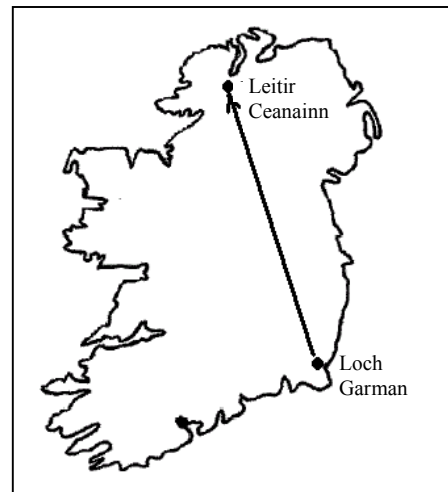
Thiar Thuaidh go Thoir Theas

Thiar Theas go Thoir Thuaidh

Thoir Theas go Thiar Thuaidh

Thiar Theas go Thiar Thuaidh

[cuir tic ✓ sa bhosca ceart]



7. Aibhneacha

Aibhneacha beaga a dhéanann cumar le haibhneacha móra mar a thaispeántar sa léaráid seo tugtar orthu:

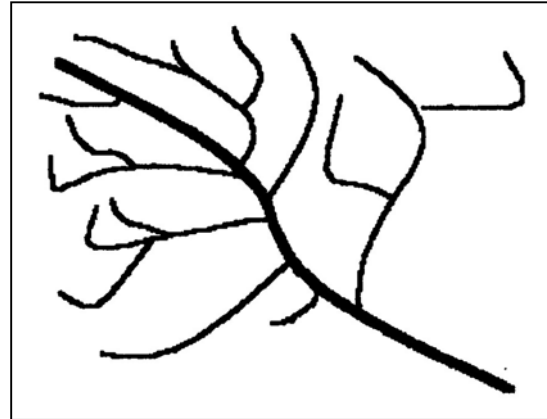
Deilteanna

Lúba

Locha

Fo-aibhneacha

[cuir tic ✓ sa bhosca ceart]



8. Cathracha

Féach go cúramach ar an gcartún seo.

Baineann an teachtaireacht le:


Tionscal

Coirpeacht

Sraoilleáil Uirbeach

Turasóireacht

[cuir tic ✓ sa bhosca ceart]



9. Freagair 9a NÓ 9b

9a. Oighriú

Féach ar an léaráid. Tugtar ar log cosúil leis seo ar thaobh sléibhe (agus loch go minic ann) a foirmíodh de bharr oighearchreimthe:

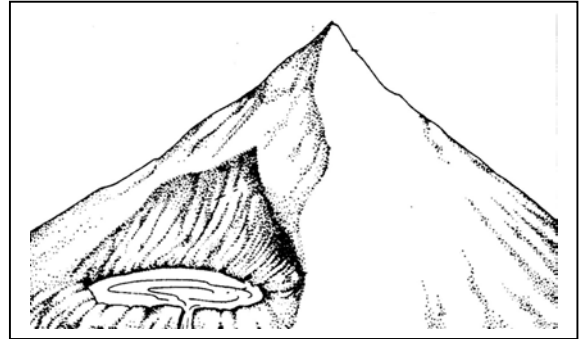
Droimnín

Corr

Moiréan

Coire

[cuir tic ✓ sa bhosca ceart]



NÓ

9b. Cóstaí

Ar an ngné marcáilte A sa léaráid, a foirmíodh de bharr creimeadh na farraige, tugtar:

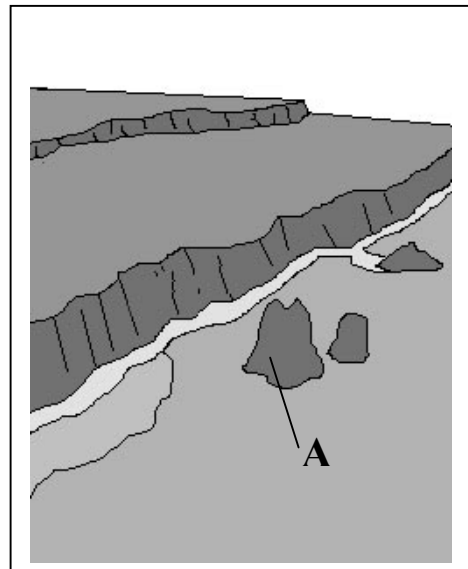
Gob gainnimh


Aill

Staic fharraige

Trá

[cuir tic ✓ sa bhosca ceart]





10. An Timthriall Uisce

Déan staidéar ar an léaráid den Timthriall Uisce. Tá an litir E in áit cé acu ceann de na focail thíos

- Creimeadh
- Galú
- Cónocht
- Meánchiorcal

[cuir tic ✓ sa bhosca ceart]

11. Lonnaíocht

Taispeánann fothrach caisleáin i mbaile go raibh tábhacht ag baint le ceann de na feidhmeanna seo a leanas san am atá caite:

- Tionscal
- Creideamh
- Margadh
- Cosaint

[cuir tic ✓ sa bhosca ceart]

12. Freagair 12a NÓ 12b

12a. Gníomhaíocht Eacnamaíoch

Is sampla de Thionscal Cos- Scaoilte é:

Monarcha ríomhairí

Monarcha cruach

Mianach guail

Rig ola

[cuir tic ✓ sa bhosca ceart]

NÓ

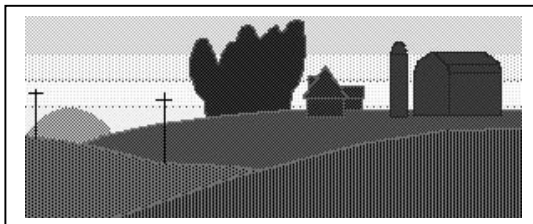
12b. Gníomhaíocht Eacnamaíoch

An fheirmeoireacht a thaispeántar sa léaráid is sampla é de:

Gníomhaíocht eacnamaíoch phríomhúil

Gníomhaíocht eacnamaíoch thánaisteach

Gníomhaíocht eacnamaíoch threasach



[cuir tic ✓ sa bhosca ceart]

13. Suirbhéireacht Ordanáis

Féach ar an léarscáil suirbhéireachta ordanáis agus ar an eochair atá ag gabháil leis.

Ainmnigh an ghné atá suite S 665 754.

Foraois dhuillsilteach

Sléibhte/talamh ard

Loch

Abhainn na Bearrú

[cuir tic ✓ sa bhosca ceart]

14. Freagair 14a NÓ 14b

14a. Feirmeoireacht

Cé acu díobh seo a leanas ar sampla é de tháirge ó fheirm:

Bainne

Treabhadh

Saothar/obair

Tarracóir

[cuir tic ✓ sa bhosca ceart]

NÓ

14b. Talamh Nua

San Ollainn ar thalamh míntírithe tugtar:

Húmas

Poldar

Imirce

Baile seantán

[cuir tic ✓ sa bhosca ceart]

15. Cúnamh don Deisceart

Cé acu díobh seo a leanas ar sampla d'Eagraíocht Neamh-Rialtais (N.G.O.) é?

Na Náisiúin Aontaithe

Concern

Rialtas na Brasaíle

An tAontas Eorpach

[cuir tic ✓ sa bhosca ceart]

16. Acmhainní Náúrtha

Cé acu díobh seo a leanas ar **foinse fuinnimh neamh-inathnuaite** é?



Gualstáisiún Leictreachais



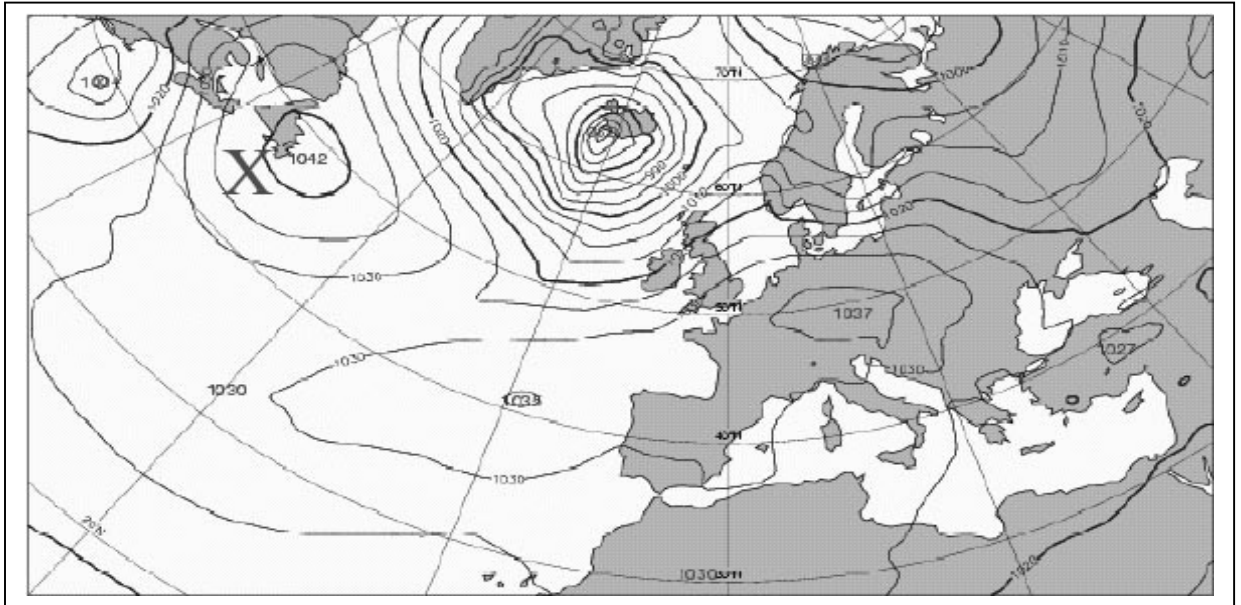
Cumhacht na Gaoithe



Uisce Reatha (Cumhacht hidrileictreach)

[cuir tic ✓ sa bhosca ceart]

17. **Réamhaisnéis Aimsire**



Taispeánann an pictiúr seo cairt aimsire. Is ceantar X de:

- Brú ard
- Fronta te
- Lagbhrú
- Fronta fuar

[cuir tic ✓ sa bhosca ceart]

18. **Cumarsáid**

Féach ar an leárscáil Suirbhéireachta Ordanáis agus ar an eochair atá ag gabháil léi.

Cé acu díobh seo a leanas atá suite ag S 724 730?

- Bóthar réigiúnach
- Príomhbhóthar Náisiúnta
- Bóthar Náisiúnta den dara grád
- Iarnród

[cuir tic ✓ sa bhosca ceart]

19. Diúscairt Dramhaíle

Comhdhéanamh dramhaíl bhaile a cuireadh go dumpanna fuílligh in Éirinn i 1998:

Páipéar	19.5%
Gloine	5.5%
Plaisteach	11.9%
Miotail	3.5%
Teicstílí	2.9%
Orgánaigh	32.9%
Eile	23.8%

Déan staidéar ar an tábla thuas agus taispeáin cé acu díobh seo a leanas atá ceart:

Ba é méid an pháipéir an ceann ba airde.

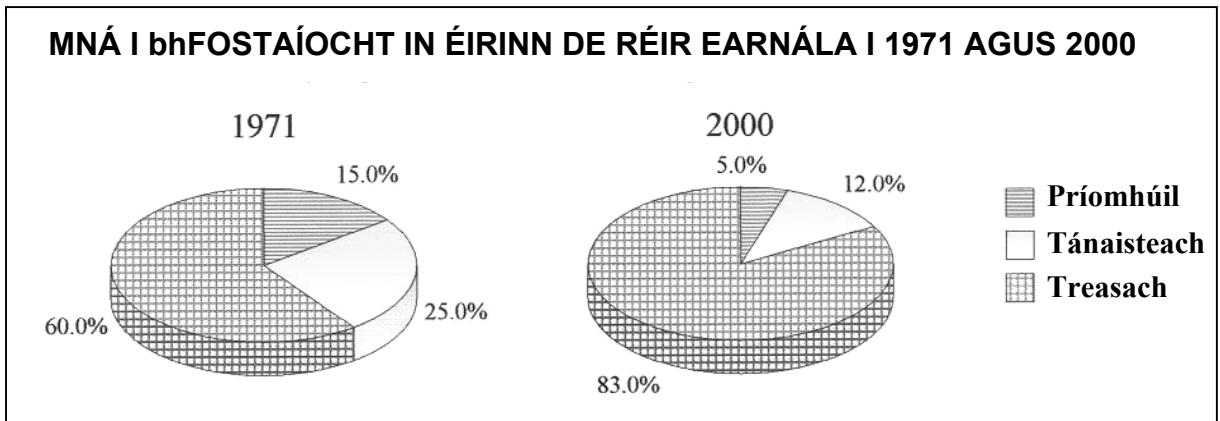
Bhí méid na gloine níos airde ná páipéar.

Bhí méid an phlaistigh níos airde ná teicstílí.

Bhí méid na dteicstílí níos airde ná orgánaigh.

[cuir tic ✓ sa bhosca ceart]

20. Léaráidí Staitistiúla - Mná ag Saothrú (obair)



Féach ar na léaráidí staitistiúla thuas. Sna trí chuid den cheist scríobh, sna spásanna atá ann dóibh, na freagraí cearta.

I 1971 is é an céatadán de mhná a bhí fostaithe san Earnáil **Phríomhúil** ná _____%.

I 2000 is é an céatadán de mhná a bhí fostaithe san Earnáil **Thánaisteach** ná _____%.

Is í an earnáil ar a dtáinig méadú de 23% idir 1971 agus 2000 ná _____.