



# Coimisiún na Scrúduithe Stáit

---

**SCRÚDÚ AN TEASTAIS SHÓISEARAIGH, 2003**

---

**TÍREOLAÍOCHT - GNÁTHLEIBHÉAL**

---

**ROINN 2**

---

**DÉ LUAIN, 9 MEITHEAMH - IARNÓIN, 1.30 GO 3.30**

---

Tá **ROINN 1** den pháipéar seo ar fhilleán ar leithligh mar a bhfuil spásanna le haghaidh do chuid freagraí.

**N.B. Cuimhnigh le do thoil go gcaithfear an fillteán a thabhairt ar ais le do leabhar freagraí.**

## ROINN 2 ( 90 MARC)

Freagair **TRÍ** cheist.

Gabhann na marcanna céanna le gach ceist.

### 1. AN SAOL I gCATHRACHA NUA-AOISEACHA

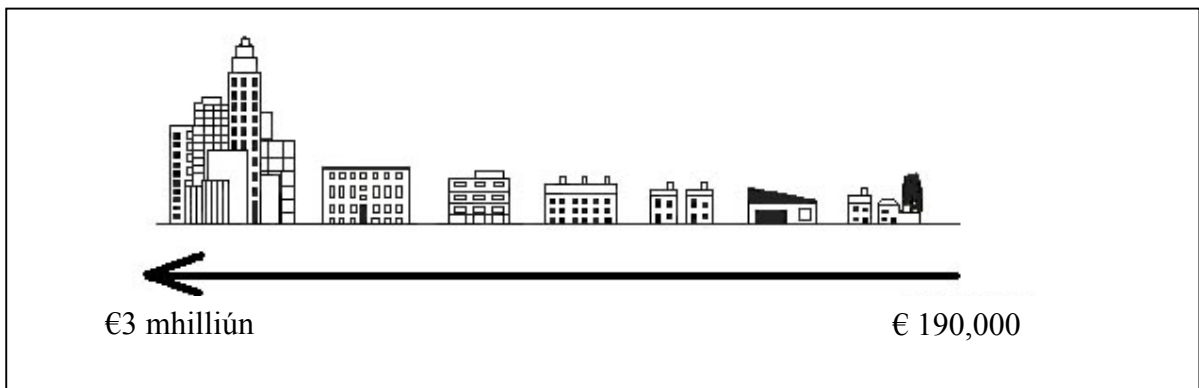
A. Ceannteideal Nuachtáin:

#### “Plódú Tráchtá Ag Dul In Olcas”

- (i) Ainmnigh **TRÍ** chúis le plódú tráchtá in aon bhaile mór nó cathair go bhfuil staidéar déanta agat air. [6]
- (ii) Déan cur síos ar **DHÁ** shlí chun plódú tráchtá a laghdú. [4]

B. (i) Ainmnigh **TRÍ** chúis le coirpeacht i gcathracha. [6]

- (ii) Mol **DHÁ** shlí chun go bhféadfai coirpeacht a laghdú i gcathracha. [4]

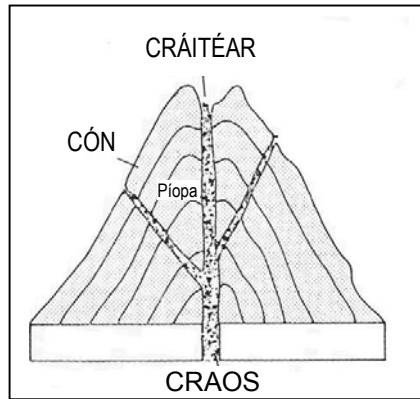


#### COSTAS TALÚN IN AGHAIDH AN AONAD FAIRSINGE

- C. Féach ar an bpictiúr thuas a thaispeánann go bhfuil costas talún i bhfad níos airde gar do lár na cathrach. Míng DHÁ chúis go bhfuil costas talún níos daoire gar do lár na cathrach [10]

## 2. TÍREOLAÍOCHT FHSICIÚIL

A.



Féach ar an léaráid thuas. Déan cur síos ar conas a fhoirmítear **BOLCÁN**.  
Bain úsáid as na hainmneacha ón léaráid i do fhreagra. [10]

- B. (i) Déan cur síos ar **THRÍ** chineál damáiste a tharlaíonn nuair a bhrúchtann bolcán. [6]
- (ii) Míniú **DHÁ** shlí inar féidir le bolcán a bheith úsáideach do dhaoine. [4]
- C. Is féidir le daoine úsáid a bhaint as carraigeacha ar shlite éagsúla.
- (i) Ainmnigh **TRÍ** charraig agus abair conas is féidir gach ceann a úsáid. [6]
- (ii) Míniú cén fáth go mb'fhéidir go gcuirfeadh daoine ina aghaidh dá n-osclofaí cairéal le carraig a bhaint as gar dá mbaile. [4]

## 3. LÉARSCÁIL SUIRBHÉIREACHTA ORDANÁIS

- A. Féach ar an léarscáil Suirbhéireachta Ordanáis agus an eochair atá ag gabháil léi.  
Tarraing sracléarscáil den cheantar a thaispeántar ar an **léarscáil**.  
Marcáil ar an sracléarscáil agus ainmnigh:
- An limistéar faoi fhoirgnimh de Cheatharlach
  - Abhainn na Berrú
  - Na Príomhbhóithre Náisiúnta
  - Eastát Tionsclaíoch
  - Iarnród [12]
- B. Féach ar an léarscáil Suirbhéireachta Ordanáis arís.  
'Tá cuid mhaith seirbhísí le tairiscint ag Ceatharlach do dhaoine áitiúla agus do thurasóirí.'
- (i) Ainmnigh agus aimsigh, ag baint úsáide as tagairtí eangaí, **TRÍ** cinn de na seirbhísí sin. [6]
- (ii) Déan cur síos ar conas a d'fhéadfadh daoine áitiúla úsáid a bhaint as ceann **AMHÁIN** de na seirbhísí sin. [3]
- C. Tá monarcha nua ríomhairí le tógáil ag S 737 778 in aice leis an N9, soir ó thuaidh ó lár bhaile Ceatharlach.

Míniú **TRÍ** chúis gur roghnaíodh an suíomh seo. I do fhreagra scríobh faoin bhfianaise atá le feiceáil agat ar an léarscáil leis na cúiseanna sin. [9]

#### 4. AERFÓTAGRAF DE BHAILE CEATHARLACH

A. Tarraing sracléarscáil den cheantar atá léirithe san **fhótagraf**.  
Marcáil agus sainaithin ar an sracléarscáil:

- an abhainn
- an droichead thar an abhainn
- dhá bhóthar a bhuaileann le chéile
- séipéal
- páirc mhór

[12]

B. Roghnaigh agus sainaithin go soiléir (déan tagairt don ‘chúlionad ar chlé’, ‘réamhionad ar dheis’ 7 rl.), áit ar an bhfótagraf ar mhaith leat cónaí ann. Tabhair **TRÍ** chúis le do fhreagra agus bain úsáid as an oiread sonraí agus is féidir ón bhfótagraf. [10]

C. Féach ar chúlionad clé an fhótagraif; tá cuid de sheanchaisleán in aice an droichid. Ainmnigh agus mínigh **DHÁ** chúis go gceapann tú gur tógadh an caisleán ag an suíomh seo. [8]

#### 5. MEASCÁN TÍREOLAÍOCH

Freagair **AON TRÍ CINN** de na ceisteanna: A, B, C, D.

(Leantar den cheist seo ar an gcéad leathanach eile.)

A. **ÁR nACMHAINNÍ - PORTAIGH MÓNA**

‘Tá athrú tagtha ar mhodhanna bainte agus sábhála ár n-acmhainní móna i gcaitheamh na mblianta.’

Déan cur síos ar **DHÁ** mhodh bainte agus sábhála móna a bhfuil staidéar déanta agat orthu. [10]

B. **TURASÓIREACHT**

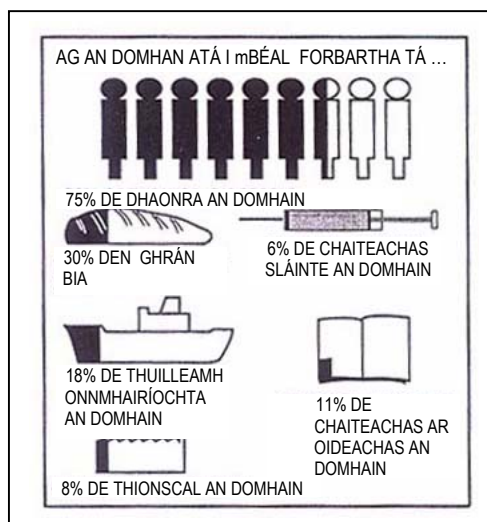
Tá tábhacht ag baint le go leor tíortha agus réigiún don turasóireacht.

Ainmnigh tír **NÓ** réigiún **AMHÁIN** den chineál sin.

Mínigh **TRÍ** chúis go mbaineann tábhacht le turasóireacht sa cheantar atá ainmnithe agat.

**Nóta:** Is ceist leanta é seo.

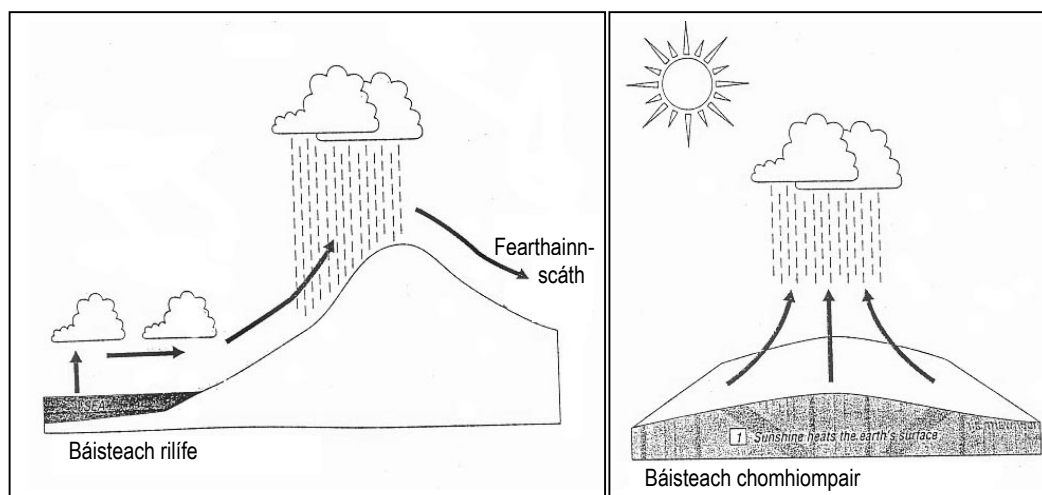
### C. DAONRA I nDOMHAN ÉAGOTHROM



Tá 75% de dhaonra an domhain ag an **DOMHAN I mBÉAL FORBARTHA**, ach tá céatadán níos lú den chaiteachas ar bhia, cúram sláinte agus oideachas. Ag baint úsáide as an eolas a thaispeántar thuas, freagair na ceisteanna seo a leanas:

- (i) Cén % de chaiteachas an domhain a chaitear ar **shláinte sa domhan i mbéal forbartha**? [1]
- (ii) Cén % de chaiteachas an domhain a chaitear ar **ghráin bia sa domhan i mbéal forbartha**? [1]
- (iii) Déan cur síos ar conas is féidir le caiteachas níos lú ar bhia agus cúram sláinte cur isteach ar rátaí Beireatais **agus** rátaí Báis sa domhan i mbéal forbartha (m.sh. tíortha Afraiceacha). [8]

### D. BÁISTEACH



Le cabhair na léaráide thuas, déan cur síos ar conas a tharlaíonn **báisteach rilife** agus **báisteach chomhiompair**. [10]