

# RABHADH

Ná déan dearmad an páipéar seo a chur ar ais le do fhreagarleabhar, nó caillfidh tú marcanna.

Scríobh do Scrúduithe anseo:



## Coimisiún na Scrúduithe Stáit

SCRÚDÚ AN TEASTAIS SHÓISEARAIGH, 2014

### TÍREOLAÍOCHT – ARDLEIBHÉAL

#### ROINN 1 – FILLTEÁN (60 marc)

DÉ hAOINE, 6 MEITHEAMH – MAIDIN, 9.30 – 11.30

Greille Mharcála an Fhillteáin				
Ceisteanna		Marc	Scrúdaitheoir	Scrúdaitheoir Comhairleach
	@	3		
	@	2		
	@	1		
	@	0		
Marc Iomlán				

**NÓTA: TÁ ROINN 2 DEN SCRÚDÚ AR PHÁIPÉAR AR LEITHLIGH**

## ROINN 1 (60 marc)

Freagair **GACH** ceist.  
Tá rogha agat laistigh de thrí cheist.  
Déan deimhin de go gcuireann tú an fillteán seo  
ar ais le do fhreagarleabhar.  
Caillfidh tú marcanna mura gcuireann.

### 1. SCREAMH AN DOMHAIN



Scrúdaigh an léarscáil thuas agus cuir ciorcal thart ar an rogha ceart i ngach ceann de na ráitis a leanas.

- (i) Is é a thugtar ar an limistéar atá á léiriú leis an líne dhearg ar an léarscáil ná Droim an Atlantaigh Láir. ***Fíor / Bréagach***
- (ii) Tá mórán bolcán sa limistéar seo. ***Fíor / Bréagach***
- (iii) Imbhuaileann plátaí screimhe le chéile sa limistéar seo. ***Fíor / Bréagach***

### 2. CREATHANNA TALÚN

Críochnaigh gach ceann de na habairtí a leanas.

- (i) Is é a thugtar ar an bpointe ar dhromchla an domhain díreach os cionn fhócas crith talún ná an \_\_\_\_\_.
- (ii) Tomhaistear méid crith talún ar Scála \_\_\_\_\_.
- (iii) Is é a thugtar ar thonn mhór a eascraíonn as crith talún faoi uisce in aigéan ná \_\_\_\_\_.

### 3. OLLGHLUAISEACHT



Is é a thugtar ar shraith iomairí beaga a chnuasaíonn mar thoradh ar ithirthéaltú ná:

- Glár
- Ithirchisil
- Láibshreabha
- Fargáiníní

Cuir tic (✓) sa bhosca ceart.

### 4. AER AG ÉIRÍ AGUS AG TITIM

Cuir tic (✓) sa bhosca ceart thíos chun a thaispeáint cé acu **trí** ráiteas díobh atá ceart.

1. Cruthaíonn aer fuar ag an bPol Thuaidh ardbhrú.
2. Tá baint ag frithchíoclón le haimsir fhuar fhliuch.
3. Is é is aeráid ann ná meánstaid an atmaisféir in imeacht tréimhse ghearr.
4. Tugtar doldrama ar réimsí lagbhrú in aice leis an meánchiorcal.
5. Is minic a thosaíonn lagrach os cionn an Atlantaigh Thuaidh.

1, 2, 3

2, 3, 4

1, 4, 5

2, 4, 5

## 5. FEACHTAÍ AIGÉIN

Cuir ciorcal thart ar an bhfreagra ceart i ngach ceann de na ráitis a leanas.

- (i) Cuidíonn Síobadh Mór an Atlantaigh Thuaidh chun an teocht in Éirinn sa gheimhreadh a *ardú / ísliú*.
- (ii) Bíonn *Feacht Labrador / Sruth na Murascaille* ina chúis le haimsir fhuar in Oirthear Cheanada.
- (iii) Feacht *te / fuar* a ghluaiseann i dtreo an mheánchiorcail é Feacht na gCanárach.

## 6. AIBHNEACHA

Sna boscaí a thugtar, meaitseáil gach ceann de na litreacha i **gColún X** le huimhir a phéire i **gColún Y**. Tá péire amháin déanta duit.

Colún X		Colún Y		X	Y
A	Cnaí	1	Fórsa uisce atá ag gluaiseacht.	A	
B	Scríobchaitheamh	2	Ceimiceáin in uisce a bhriseann said síos carraigeacha áirithe.	B	
C	Gníomhú Hidrálach	3	Ualach abhann ag bualadh i gcoinne ghrinneall na habhann agus i gcoinne na mbruach.	C	1
D	Tuaslagadh	4	Clocha ag bualadh i gcoinne a chéile agus iad á n-iompar ag an abhainn.	D	

## 7. LOMAIRT



Cuir ciorcal thart ar an bhfreagra ceart i ngach ceann de na ráitis a leanas.

- (i) Is é a thugtar ar an gcarraig bhriste sa limistéar ardtalún a thaispeántar san fhótagraf ná *glár / scileach*.
- (ii) Toradh ar shíonchaitheamh *ceimiceach / meicniúil* an charraig bhriste seo.
- (iii) *Domhantarraingt / creimeadh* a thugann ar an gcarraig bhriste gluaiseacht síos le fána an tsléibhe.

## FREAGAIR 8A NÓ 8B

### 8A. ITHREACHA

Críochnaigh gach ceann de na habairtí agus na téarmaí cearta as an liosta thíos á n-úsáid agat.

Donnithreacha	Cruachiseal	Miocrorgánaigh
Húmas	Podsail	Ithirchiseal B

- (i) \_\_\_\_\_ na hithreacha is coitianta in Éirinn.
- (ii) Ithreacha iad \_\_\_\_\_ a fhaightear i limistéir ardtalún in Éirinn.
- (iii) \_\_\_\_\_ a thugtar ar easair phlandaí nuair a bhristear síos í.

## NÓ

### 8B. AIBHNEACHA



Cuir ciorcal thart ar an bhfreagra ceart i ngach ceann de na ráitis a leanas.

- (i) Is é atá sa ghné abhann a thaispeántar san fhótagraf thuas ná **deilt / V-ghleann**.
- (ii) Faightear an ghné seo i gcúrsa **uachtarach / iochtarach** abhann.
- (iii) Is é an próiseas trínar cruthaíodh í ná **creimeadh / sil-leagan** abhann.

## FREAGAIR 9A NÓ 9B

### 9A. TÍREOLAÍOCHT UIRBEACH

Is é príomhfheidhm baile dórtúir ná:

Caitheamh aimsire

Conaí

Tionsclaíocht

Cosaint

Cuir tic (✓) sa bhosca ceart.

NÓ

### 9B. AERÁID



[www.depositphotos.com](http://www.depositphotos.com)

Léirínn an cartún seo an toradh a bhíonn ar cheann acu seo a leanas:

Báisteach aigéadach

Teicteonaic phlátaí

Síonchaitheamh

Téamh domhanda

Cuir tic (✓) sa bhosca ceart.

## FREAGAIR 10A NÓ 10B

### 10A. FUINNEAMH IN-ATHNUAITE



Taispeánann an fótagraf feirm ghaoithe ag Ceann an Chairn, Co. Loch Garman.

Ainmnigh **trí** chineál eile fuinnimh in-athnuaite.

(i) \_\_\_\_\_

(ii) \_\_\_\_\_

(iii) \_\_\_\_\_

NÓ

### 10B. FEIRMEOIREACHT

Is é atá sa bhosca thíos ná ionchuir, próisis agus aschuir ar fheirm.

Cuir ciorcal thart ar **thrí** aschur feirme.

*treabhadh*

*saothar*

*gearradh sadhlais*

*tarracóir*

*spraedáil*

*laonna*

*caipiteal*

*sciodar*

*cruithneacht*

## 11. SUÍOMH TIONSCAIL

Uaireanta fanann tionscal sa suíomh bunaidh cé go bhfuil na cúiseanna ar bunáidh sa suíomh sin é imithe ar neamhní. Is é a thugtar air seo ná:

Meath tionsclaíoch	<input type="checkbox"/>
Athshuíomh tionscail	<input type="checkbox"/>
Táimhe thionsclaíoch	<input type="checkbox"/>
Tionscal gan chuing	<input type="checkbox"/>

Cuir tic (✓) sa bhosca ceart.

## 12. TALAMH A TUGADH CHUN MÍNTÍREACHAIS

Cuir ciorcal thart ar an bhfreagra ceart i ngach ceann de na ráitis a leanas.

- (i) Is é a thugtar ar thalamh a tugadh chun míntíreachais ón bhfarraige ná ***poldar / tambaló***.
- (ii) Tír atá tar éis talamh a thabhairt chun míntíreachais ón bhfarraige ná ***an Ísiltír / an Ostair***.
- (iii) Bíonn lonnaíochtaí ar an talamh a tugadh chun míntíreachais ón bhfarraige ina ngréasáin ***neamhphleanáilte / phleanáilte*** de ghnáth.

## 13. GNIOMHAÍOCHT GHEILLEAGRACH

Cé acu liosta díobh seo a leanas ar samplaí iad go léir de dhaoine a ghlacann páirt i ngníomhaíocht gheilleagrach threasach?

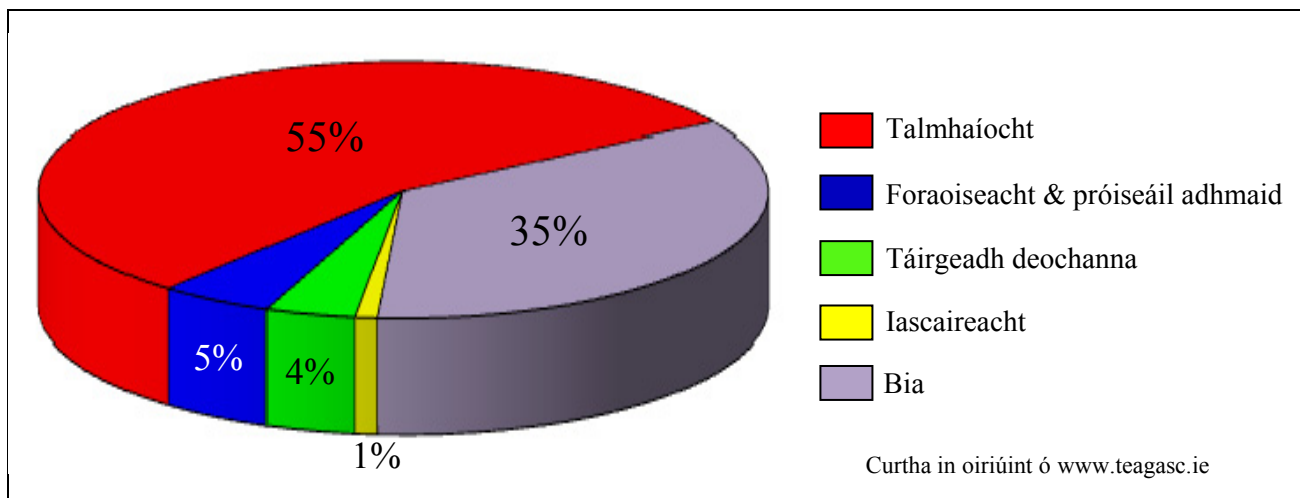
Mianadóir, feirmeoir, Garda, siopadóir.	<input type="checkbox"/>
Báicéir, altra, iascaire, dochtúir.	<input type="checkbox"/>
Gruagaire, oifigeach bainc, oibrí foraoise, pluiméir.	<input type="checkbox"/>
Fiaclóir, treoraí turas, tiománaí tacsáí, múinteoir.	<input type="checkbox"/>

Cuir tic (✓) sa bhosca ceart.



## 14. STRUCHTÚR FOSTAÍOCHTA

Fostaíocht in Earnáil an Agraibhia, 2011



Scrúdaigh an phíchart thuas a thaispeánann an fhostaíocht in earnáil an Agraibhia in 2011.

Cuir tic (✓) sa bhosca ceart thíos chun a thaispeáint cé acu **trí** ráiteas díobh seo atá ceart.

1. San iascaireacht a bhí an céatadán ba lú den fhostaíocht in earnáil an Agraibhia.
2. Sa talmhaíocht agus sa bhia a bhí 90% den fhostaíocht in earnáil an Agraibhia.
3. San iascaireacht agus i dtáirgeadh deochanna a bhí 8% den fhostaíocht in earnáil an Agraibhia.
4. Bhí beagán os cionn trian de na daoine fostaithe in earnáil an bhia.
5. Bhí an céatadán a bhí fostaithe i dtáirgeadh deochanna níos mó ná an céatadán fostaithe san fhoraoiseacht agus próiseáil adhmaid.

1, 2, 3

1, 3, 4

1, 2, 4

1, 4, 5

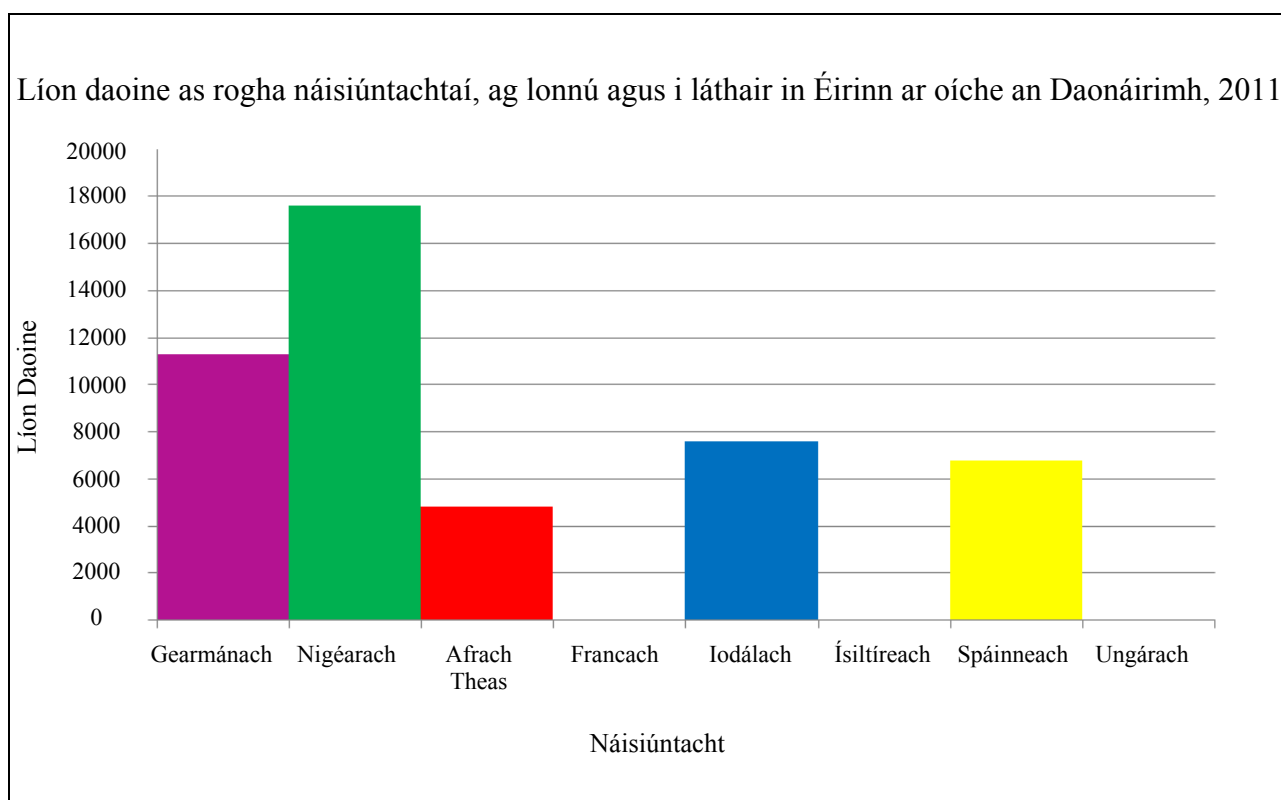
## 15. GRAF DAONRA

Taispeánann an tábla an líon daoine as rogha náisiúntachtaí a bhí ag lonnú agus i láthair in Éirinn ar oíche an Daonáirimh in 2011.

Bain úsáid as an eolas sa tábla chun an barragraf a chríochnú i gcás na náisiúnach de chuid na Fraince, na hÍsiltíre agus na hUngáire.

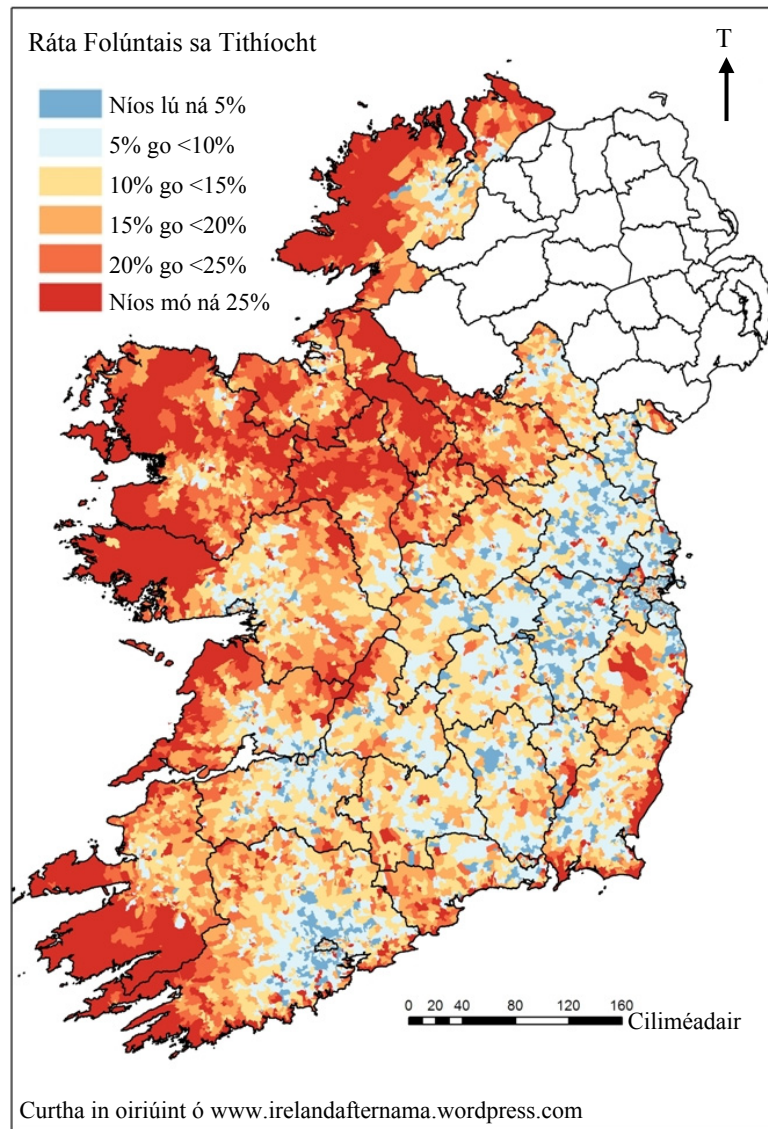
Náisiúntacht	Gearmánach	Nigéarach	Afracach Theas	Francach	Iodálach	Ísiltíreach	Spáinneach	Ungárach
Líon Daoine	11,300	17,600	4,800	10,000	7,600	4,000	6,800	8,000

Curtha in oiriúint ó [www.cso.ie](http://www.cso.ie)



## 16. ÉAGSÚLACHTAÍ RÉIGIÚNACHA

### Rátaí Folúntais sa Tithíocht bPoblacht na hÉireann, 2011



Cuir ciorcal thart ar an rogha ceart i ngach ceann de na ráitis a leanas.

- (i) Bhí an ráta folúntais sa tithíocht níos airde in iarthar na hÉireann ná mar a bhí san oirthear.
- (ii) 10% go < 15% an ráta folúntais sa tithíocht a bhí san fhormhór d'iarthar na Gaillimhe.
- (iii) 15% go < 20 % an ráta folúntais sa tithíocht a bhí i gContae an Chláir go léir.

*Fíor / Bréagach*

*Fíor / Bréagach*

*Fíor / Bréagach*

**17. LÉARSCÁIL NA SUIRBHÉIREACHTA ORDANÁIS**

Scrúdaigh léarscáil na Suirbhéireachta Ordanáis a thugtar leis an bpáipéar seo. Ainmnigh an gréasán lonnaíochta tuaithe ag X 293 935.

Gréasán lonnaíochta tuaithe \_\_\_\_\_

**18. LÉARSCÁIL NA SUIRBHÉIREACHTA ORDANÁIS**

Scrúdaigh léarscáil na Suirbhéireachta Ordanáis a thugtar leis an bpáipéar seo. Sna boscaí a thugtar, meaitseáil gach ceann de na litreacha i **gColún X** le huimhir a phéire i **gColún Y**. Tá péire amháin déanta duit.

Colún X	
A	S 275 006
B	X 277 958
C	X 249 952
D	S 246 007

Colún Y	
1	Foraois mheasctha
2	Spotairde 154
3	Carn
4	Crosaire

X	Y
A	
B	
C	4
D	

**19. LÉARSCÁIL NA SUIRBHÉIREACHTA ORDANÁIS**

Scrúdaigh léarscáil na Suirbhéireachta Ordanáis a thugtar leis an bpáipéar seo. Laistigh de chearnóg eangaí X 22 92 tá:

- Príomhbhóthar Náisiúnta
- Bóthar Tánaisteach Náisiúnta
- Bóthar den Tríú Grád
- Bóthar Réigiúnach

Cuir tic (✓) sa bhosca ceart.

**20. AERFÓTAGRAF**

Scrúdaigh an t-aerfótagraf de Dhún Garbhán a thugtar leis an bpáipéar seo. Is é atá ann ná:

- Fótagraf ceartingearach
- Fótagraf fiar

Cuir tic (✓) sa bhosca ceart.