



Coimisiún na Scrúduithe Stáit

SCRÚDÚ AN TEASTAIS SHÓISEARAIGH, 2011

TÍREOLAÍOCHT – ARDLEIBHÉAL

ROINN 2 (90 marc)

DÉ hAOINE, 10 MEITHEAMH – MAIDIN, 9.30 - 11.30

Nóta: Tá Roinn 1 den pháipéar seo ar fhilleán ar leith, mar a bhfuil spásanna le haghaidh do chuid freagraí. Ná dearmad, le do thoil, go gcaithfear **Filleán** comhlánaithe **Roinn 1** a thabhairt ar ais le do fhreagarleabhar.

ROINN 2 (90 MARC)

Freagair **TRÍ** cheist ar bith.
Tá na ceisteanna uile ar cómharc.

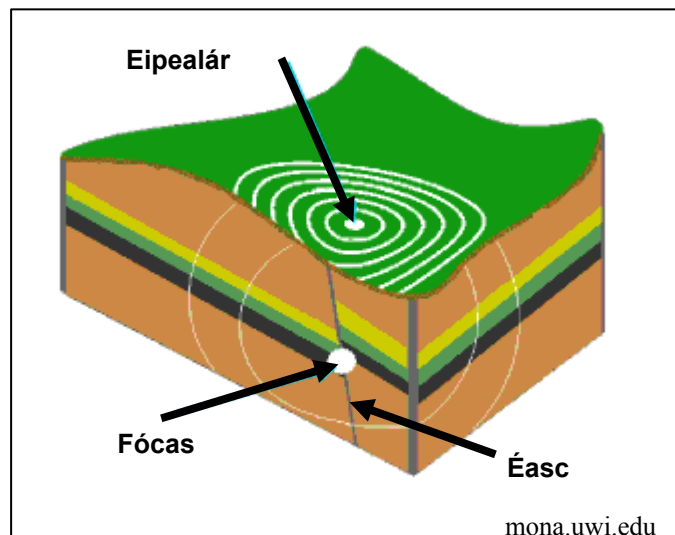
Ceist 1. DROMCHLA AN DOMHAIN AGUS AN PLÁINÉAD SEO AGAINNE

A. Tírdhreach Carstach - Aolchloch

- (i) Cén grúpa carraigeacha lena mbaineann an aolchloch?
- (ii) Ainmnigh suíomh ina bhfaightear aolchloch.
- (iii) Mínigh, le cúnamh léaráide, conas mar a fhoirmítear tírghné Charstach **amháin** faoi thalamh.

(10)

B. Creathanna Talún



- (i) Scrúdaigh an léaráid thuas agus mínigh gach ceann de na **trí** téarmaí a thaispeántar sa léaráid.
- (ii) Ainmnigh **dhá** thír ar domhan ina dtarlaíonn creathanna talún.
- (iii) Ainmnigh modh **amháin** chun an íarmhairt ag crith talún ar cheantar uirbeach a laghdú.

(10)

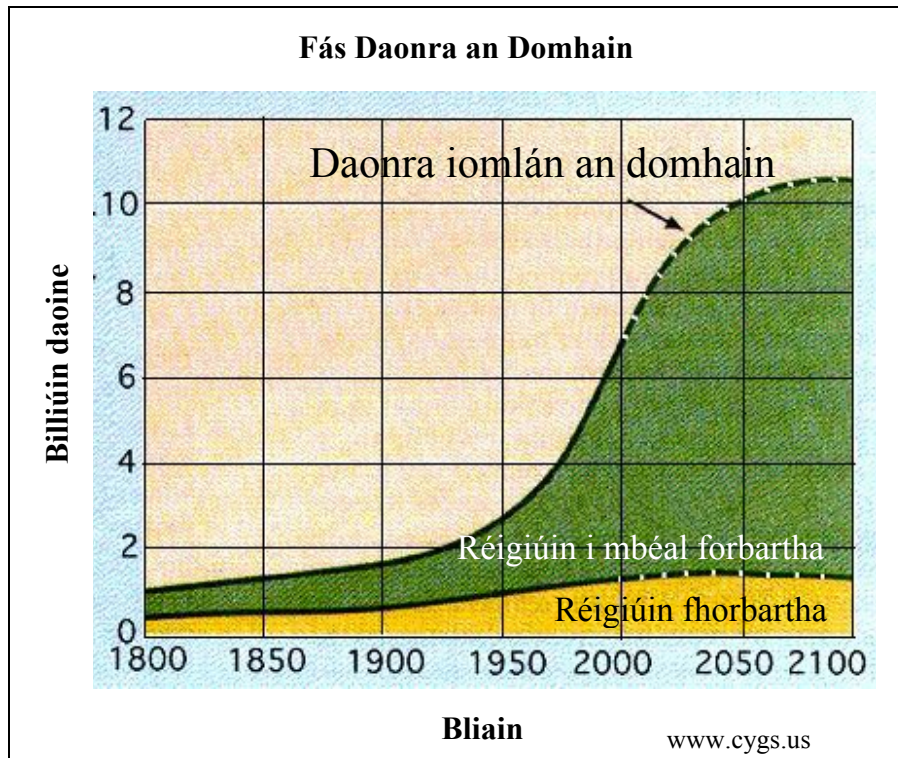
C. An tAtmaisféar

- (i) Ainmnigh **dhá** phríomhghás a fhaightear san atmaisféar.
- (ii) Mínigh, le cúnamh léaráide, conas mar a tharlaíonn an íarmhairt cheaptha teasa.
- (iii) Ainmnigh **dhá** shlí inar féidir an íarmhairt cheaptha teasa a laghdú.

(10)

Ceist 2. DAONRA, DAOINE AGUS IOMPAR

A. Fás Daonra



- (i) Ainmnigh cúis **amháin** ar thosaigh daonra an domhain ag méadú ó 1800 ar aghaidh.
- (ii) Cén daonra a bheidh ar domhan sa bhliain 2050?
- (iii) Mínigh **dhá** fhadhb a bhaineann leis an méadú tuartha ar dhaonra an domhain.

(10)

B. Imirce

- (i) Mínigh aon **dá** cheann de na téarmaí a leanas:
 - Eisimirce
 - Inimirce
 - Baic ar imirce.
- (ii) Agus tú ag tagairt do shampla d'imirce eagraithe **NÓ** d'imirce éigeantach a bhfuil staidéar déanta agat air, mínigh cén fáth ar tharla sí.

(12)

C. Iompar

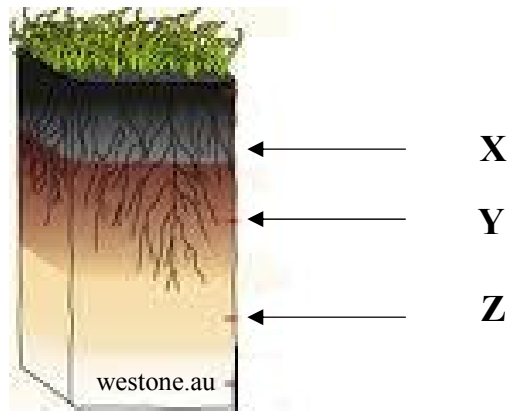
Mínigh forbairt aon líonra iompair a bhfuil staidéar déanta agat air.

(8)

Ceist 3. MEASCÁN TÍREOLAÍOCHTA

Freagair **TRÍ** cinn **AR BITH** de na ceisteanna a leanas **3A, 3B, 3C, 3D**.

3A. Ithreacha



- (i) Scrúdaigh an léaráid de phróifil ithreach thuas. Ainmnigh na sraitheanna lipéadaithe **X**, **Y** agus **Z**.
- (ii) Déan cur síos ar chomhdhéanamh aon ithreach **amháin** a bhfuil staidéar déanta agat uirthi.

(10)

3B. Léarscáil Shuirbhéireacht Ordanáis

Scrúdaigh an léarscáil Shuirbhéireacht Ordanáis a tugadh duit.

Tarraing sracléarscáil den cheantar a thaispeántar ar an léarscáil Shuirbhéireacht Ordanáis.

Ar do shracléarscáil **taispeáin agus lipéadaigh** gach ceann acu seo a leanas:

- An limistéar faoi fhoirgnimh sa Daingean
- An t-imeallbhord
- Slí Chorca Dhuibhne (Dingle Way)
- Abhainn na Gairfeanaí (Garfinny River).

(10)

Ceist 3. MEASCÁN TÍREOLAÍOCHTA (ar lean)

3C. FREAGAIR (i) nó (ii).

(i) Oighriúchán

Ainmnigh gné **amháin** a fhoirmítear mar thoradh ar oighearchreimeadh **NÓ** sil-leagan oighreach agus mínigh, le cabhair léaráide lipéadaithe, conas mar a foirmíodh í.

(10)

NÓ

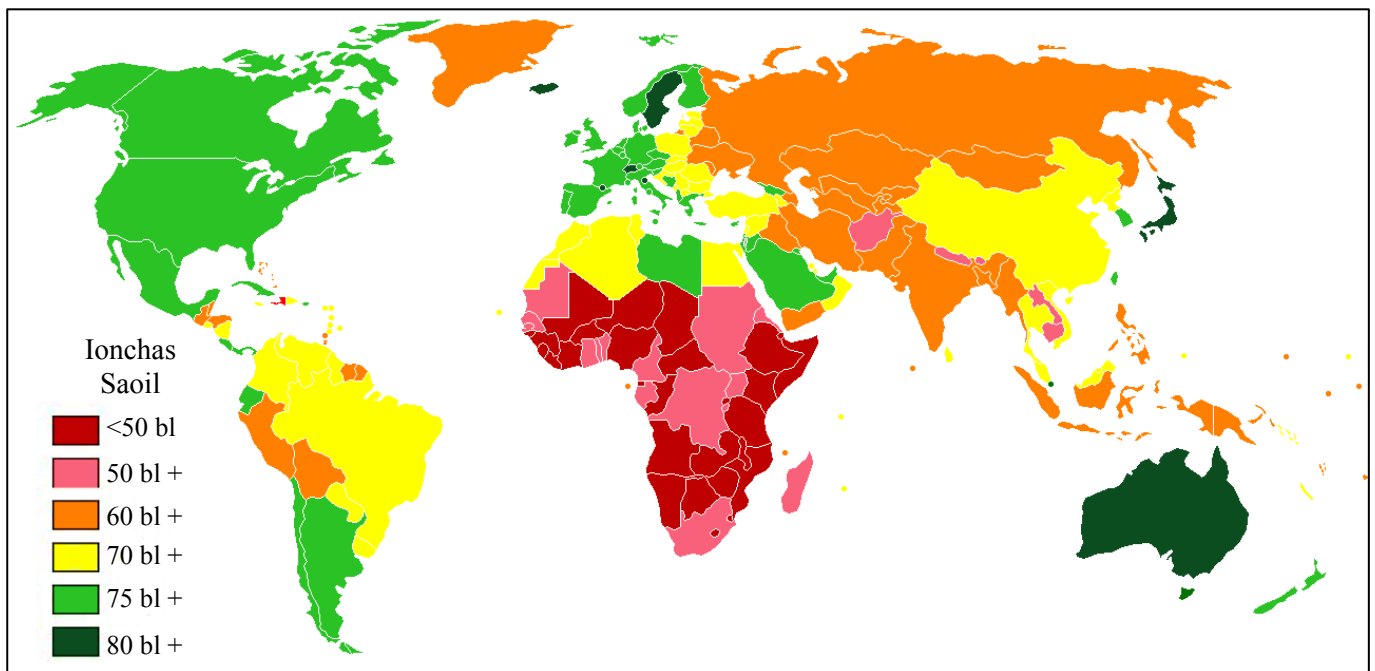
(ii) Cóstaí

Ainmnigh gné **amháin** a fhoirmítear mar thoradh ar chreimeadh cósta **NÓ** sil-leagan cósta agus mínigh, le cabhair léaráide lipéadaithe, conas mar a foirmíodh í.

(10)

3D. Patrúin Dhomhanda

Ionchas Saoil ar Domhan



www.wikimedia.org

Scrúdaigh an léarscáil thuas a thaispeánann ionchas saoil ar domhan.

(i) Cad é an t-ionchas saoil do **gach ceann** de na tíortha seo a leanas?

- Éire
- Mailí.

(ii) Mínigh an téarma 'ionchas saoil'.

(iii) Mínigh **dhá** chúis a bhfuil an t-ionchas saoil níos airde in Éirinn ná mar atá i dtíortha cosúil le Mailí.

(10)

Ceist 4. GNÍOMHAÍOCHT AGUS FORBAIRT GHEILLEAGRACH

A. Gníomhaíocht Gheilleagrach

- (i) Mínigh **dhá** thoisce a mbíonn tionchar acu ar shuíomh tionscail.
- (ii) Is féidir go gcothódh gníomhaíochtaí eacnamaíochta coimhlintí áitiúla. Ainmnigh agus mínigh, sampla choimhlint dá leithéid sin.

(10)

B. Turasóireacht

- (i) Ainmnigh **dhá** chineál réigiún turasóireachta.
- (ii) Mínigh iarmhairt dhearfach **amháin** ag turasóireacht agus tagairt agat do shampla a bhfuil staidéar déanta agat air.
- (iii) Mínigh iarmhairt dhiúltach **amháin** ag turasóireacht agus tagairt agat do shampla a bhfuil staidéar déanta agat air.

(10)

C. Éagothroime Gheilleagrach

- (i) Ainmnigh réigiún i mbéal forbartha a bhfuil staidéar déanta agat air.
- (ii) Mínigh **trí** chúis nach bhfuil an réigiún seo chomh forbartha ó thaobh an gheilleagair de is atá réigiúin eile.

(10)

Ceist 5. AERFÓTAGRAF AGUS LÉARSCÁIL SHUIRBHÉIREACHT ORDANÁIS

A. Scrúdaigh an tAERFÓTAGRAF a thugtar duit.

Tarraing sracléarscáil den fhótagraf.

Ar do shracléarscáil **taispeáin agus lipéadaigh** gach ceann de na gnéithe seo a leanas:

- Limistéar caitheamh aimsire
- An cuan
- Séipéal
- Depot / Garáiste busanna.

(10)

B. Ag úsáid an LÉARSCÁIL SHUIRBHÉIREACHT ORDANÁIS a thugtar duit, mínigh **trí** chúis ar fhorbair limistéar uirbeach an Daingin ar an suíomh seo.

(12)

C. Ag úsáid an LÉARSCÁIL SHUIRBHÉIREACHT ORDANÁIS a thugtar duit, mínigh **dhá** chúis a bhfuil a laghad sin lonnaíochta ó thuaidh ó Thuaidhlíne 04.

(8)

LEATHANACH BÁN

LEATHANACH BÀN