

# RABADH

Ní mór duit an páipéar seo a chur ar ais le do fhreagarleabhar nó mura gcuirtear,  
caillfear marcanna.

Scríobh do Scrúduithe anseo:



## Coimisiún na Scrúduithe Stáit

SCRÚDÚ AN TEASTAIS SHÓISEARAIGH, 2011

### TÍREOLAÍOCHT – ARDLEIBHÉAL

#### ROINN 1 – FILLTEÁN (60 marc)

DÉ hAOINE, 10 MEITHEAMH – MAIDIN, 9.30 - 11.30

Greille Mharcála an Fhillteáin					
	Ceisteanna		Marc	Scrúdaitheoir	Scrúdaitheoir Comhairleach
		@	3		
		@	2		
		@	1		
		@	0		
<b>Iomlán</b>					

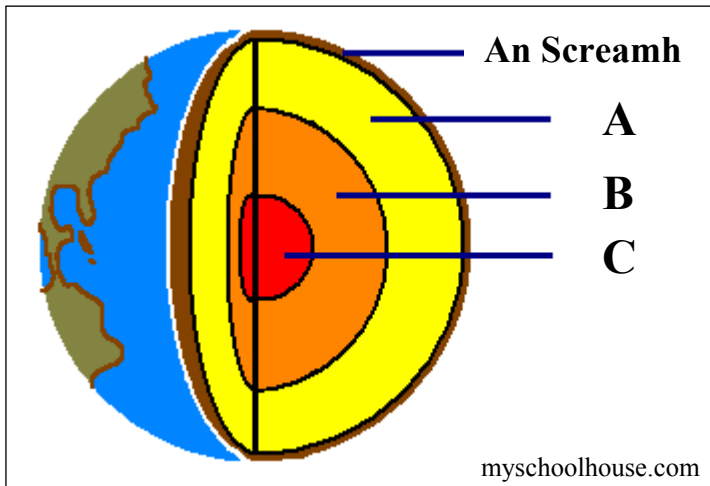
**NÓTA: TÁ ROINN 2 DEN SCRÚDÚ SEO AR PHÁIPÉAR AR LEITHLIGH**

## ROINN 1 (60 MARC)

Freagair **GACH** ceist.  
Tá rogha agat laistigh de thrí cheist.  
Déan deimhin de go gcuireann tú an fillteán seo ar  
ais le do fhreagarleabhar.  
Mura gcuireann tú, caillfidh tú marcanna.

### 1. AN DOMHAN

Taispeánann an léaráid an taobh istigh den Domhan.



Ainmnigh na sraitheanna den taobh istigh den Domhan marcáilte **A**, **B** agus **C**.

- A** \_\_\_\_\_  
**B** \_\_\_\_\_  
**C** \_\_\_\_\_

### 2. BOLCÁIN

Taispeánann na fótagraif cineálacha éagsúla bolcán.



Comhlánaigh na habairtí a leanas:

- (i) Is é a thugtar ar bholcán a bhrúctann go rialta ná \_\_\_\_\_.
- (ii) Is é a thugtar ar bholcán nár bhrúcht le fada, ach a bhféadfadh sé brúctadh arís ná \_\_\_\_\_.
- (iii) Is é a thugtar ar bholcán nár bhrúcht ó thús ré na staire ná \_\_\_\_\_.

### 3. LOMAIRT



Tá an charraig bhriste a fhaightear ar an talamh ard seo, Cruach Phádraig, ann mar thoradh ar an:

Tuaslagadh

Síonchaitheamh meicniúil (fisiceach)

Carbónú

Cuir tic (✓) sa bhosca ceart.

### 4. CARRAIGEACHA

Ciorclaigh an rogha cheart i **ngach ceann** de na ráitis thíos:

- (i) Is carraig thréscailteach í an ghaineamhchloch. *Fíor / Bréagach*
- (ii) Is carraig bhán í basalt. *Fíor / Bréagach*
- (iii) Is carraig dhríodair é an marmar. *Fíor / Bréagach*

## 5. CAIRTEACHA AIMSIRE

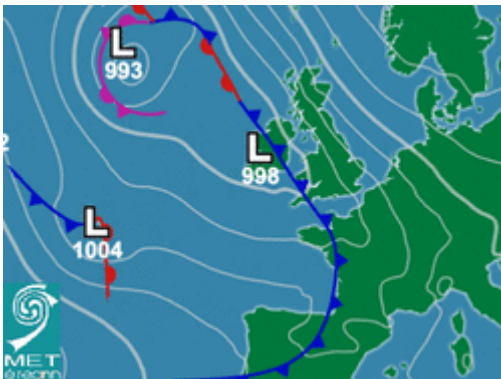
Scrúdaigh na cairteacha aimsire thíos.

Meaitseáil **gach ceann** de na téarmaí thíos leis an gcairt chuí agus an freagra ceart á scríobh agat sna spásanna a thugtar.

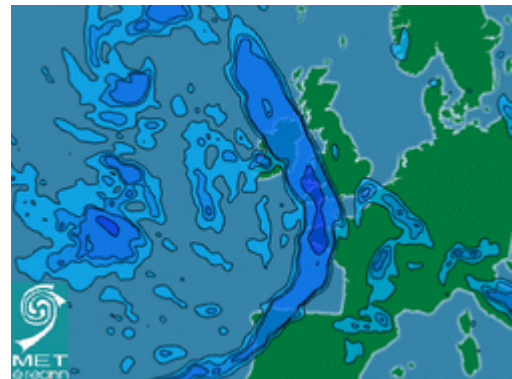
Isiteirmeacha

Iseabair

Isihiaití



A \_\_\_\_\_



B \_\_\_\_\_



C \_\_\_\_\_

## 6. GLÉASANNA AIMSIRE

Scrúdaigh an fótagraf agus comhlánaigh an t-alt thíos.



Is é a thugtar ar an mbosca bán seo ná \_\_\_\_\_.

Tomhaistear \_\_\_\_\_ agus úsáid á baint as teirmiméadar uasta is íosta (uasteochta is íosteochta) laistigh den bhosca seo. Faightear tairmheadar istigh sa bhosca freisin a thomhaiseann \_\_\_\_\_.

## 7. AIBHNEACHA

Taispeánann an fótagraf abhainn ag scoilteadh a bruacha agus ag tuile amach ar an talamh máguaird.




Ciorclaigh an freagra ceart i **ngach ceann** de na ráitis thíos:

- (i) Is é a thugtar ar an ngné ag X, áit a bhfuil an abhainn ag briseadh amach, ná **leibhé / deilt**.
- (ii) Faightear gnéithe mar seo ag **céim óigeanta / aosta** abhann.
- (iii) Is é a thugtar ar shil-leagan a fhágtar i ndiaidh tuile mar seo ná **moiréan / glár**.

## FREAGAIR 8A NÓ 8B

### 8A. CÓSTAÍ



Scrúdaigh an fótagraf thuas.

Ciorclaigh an freagra ceart i **ngach ceann** de na ráitis a leanas:

- (i) Foirmítear na gnéithe ag **Y** mar thoradh ar phróiseas *an chreimthe / an tsil-leagain* mhuirí.
- (ii) Is tonnta *tógála / scriosacha* iad na tonnta a fhoirmíonn na gnéithe seo.
- (iii) Faightear gnéithe cosúil le seo ar chósta thiar na hÉireann. *Fíor / Bréagach*.

## NÓ

### 8B. OIGHRIÚCHÁN



Scrúdaigh an fótagraf thuas.

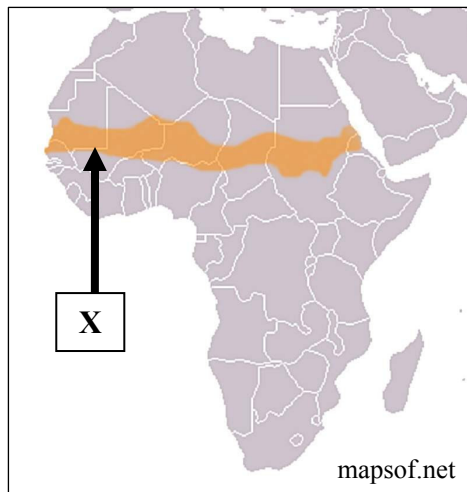
Ciorclaigh an freagra ceart i **ngach ceann** de na ráitis a leanas:

- (i) Is gné a bhaineann le *hoighearchreimeadh / sil-leagan oighreach* í an loch sa phictiúr seo.
- (ii) Is é a thugtar ar an loch sa phictiúr seo ná *airéit / comloch*.
- (iii) Faightear an loch seo ar *thalamh ard / thalamh íseal* i gceantar oighreach.

## FREAGAIR 9A NÓ 9B

### 9A. FAIRSINGIÚ FÁSAIGH

Scrúdaigh léarscáil na hAfraice thíos agus freagair na ceisteanna a leanas:



- (i) Ainmnigh an ceantar scáthlínithe **X**, ar an léarscáil ó dheas ó Fhásach an Sahára agus ina dtarlaíonn fairsingiú fásaigh.

Ainm \_\_\_\_\_

- (ii) Ainmnigh **dhá** réiteach ar an bhfairsingiú fásaigh.

1. \_\_\_\_\_

2. \_\_\_\_\_

**NÓ**

### 9B. CÚNAMH

Ainmnigh **trí** chineál cúnamh a thugann tíortha níos saibhre do thíortha níos boichte.

1. \_\_\_\_\_

2. \_\_\_\_\_

3. \_\_\_\_\_

## FREAGAIR 10A NÓ 10B

### 10A. FÁSRA NÁDÚRTHA



Ciorclaigh an freagra ceart i **ngach ceann** de na ráitis a leanas:

- (i) Tá crainn bhuaircíneacha tar éis iad féin a chur in oiriúint don aeráid trína gcuid spíonlach a *choimeád / chailliúint* sa gheimhreadh.
- (ii) Tá crainn bhuaircíneacha tar éis iad féin a chur in oiriúint don áit ina bhfásann siad trí fhréamhacha *fada / gearra* a bheith acu.
- (iii) Do cheantair ar thalamh *ard / íseal* is fearr a oireann na crainn bhuaircíneacha.

NÓ

### 10B. POLDAIR



Ciorclaigh an freagra ceart i **ngach ceann** de na ráitis a leanas:

- (i) Tagraíonn poldair do thalamh a tugadh chun míntíreachais. *Fíor / Bréagach*
- (ii) Tá cáil ar an nGearmáin as ucht a tírdhreach poldar. *Fíor / Bréagach*
- (iii) Tá fianaise ar fheirmeacha pleanáilte le feiceáil sna poldair. *Fíor / Bréagach*



## 11. GNÍOMHAÍOCHT GHEILLEAGRACH

Cuir tic (✓) sa bhosca ceart chun a thaispeáint cé acu **trí** ráiteas atá ceart.

1. Ní mór do thionscail nua-aimseartha lonnú in aice le hamhábhair fós.
2. Is tionscail gan chuing iad tionscail nua-aimseartha.
3. Is sampla de ghníomhaíocht gheilleagrach thánaisteach í an mhianadóireacht.
4. Is é is caipiteal ann ná an t-airgead a úsáidtear chun tionscal a bhunú.
5. Is sampla de ghníomhaíocht gheilleagrach threasach iad poist in earnáil an airgeadais.

1, 2, 3

2, 3, 4

1, 3, 5

2, 4, 5

## 12. ITHREACHA

<i>húmas</i>	<i>léaslínte</i>	<i>cruachiseal</i>
<i>láisteadh</i>	<i>podsal</i>	<i>ithreacha donna</i>

Úsáid cuid de na focail as an mbosca thuas chun na habairtí thíos a chomhlánú.

- (i) Is é a thugtar ar shraitheanna ithreach ná \_\_\_\_\_.
- (ii) \_\_\_\_\_ na hithreacha is coitianta in Éirinn.
- (iii) Nuair a dhéanann plandaí dianscaoileadh, cruthaíonn siad \_\_\_\_\_.

### 13. UIRBIÚ

Sna boscaí a thugtar, meaitseáil gach ceann de na litreacha i **gColún X** le huimhir a péire i **gColún Y**. Tá péire amháin déanta duit.

Colún X		Colún Y		X	Y
A	Sraoilleáil Uirbeach	1	Ceantar ina bhfuil oibrithe sár-oilte.	A	
B	Lárcheantar Gnó (CBD)	2	Daoine a ghabhann seilbh ar thithe go neamhdhleathach.	B	
C	Suiteoirí	3	Struchtúir nua-aimseartha á gcur in ionad seanfhoirgneamh.	C	2
D	Athnuachan Uirbeach	4	Fás gan phleanáil ar chathair.	D	

### 14. ACMHAINN NÁDÚRTHA

Cuir tic (✓) sa bhosca ceart chun a thaispeáint cé acu **trí** ráiteas atá ceart.

1. Tá na bratphortaigh an-domhain, suas le 10 méadar ar doimhneacht.
2. Is i lár na tíre is mó a fhaightear na portaigh ardaithe.
3. Déanann Bord na Móna forbairt ar thionscal móna na hÉireann.
4. Baineann grádóir an mhóin ar an bportach.
5. Is foinse fuinnimh neamh-in-athnuaite í an mhóin.

1, 3, 4

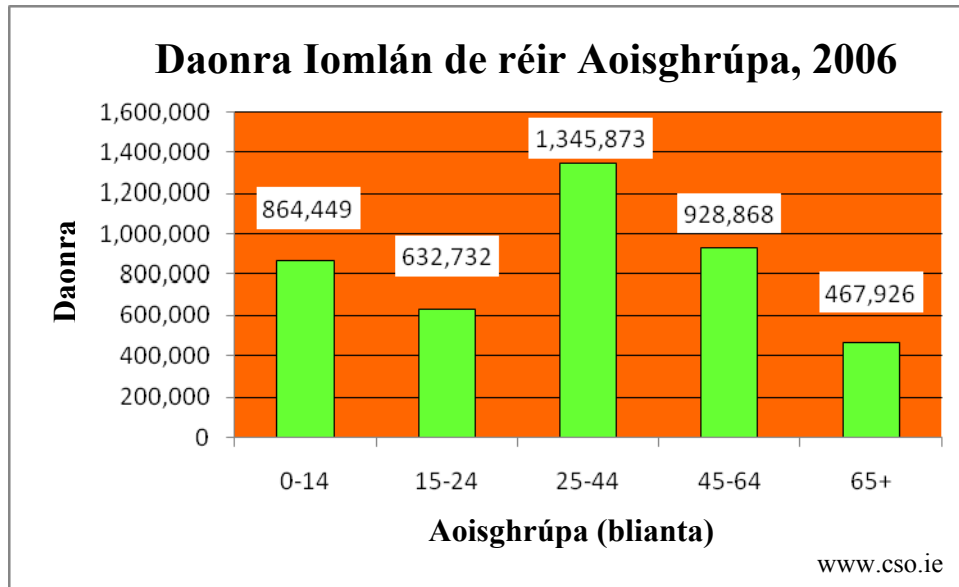
1, 4, 5

2, 3, 5

3, 4, 5

## 15. DAONRA

Taispeánann an graf thíos daonra iomlán na hÉireann de réir aoisghrúpa ón daonáireamh sa bhliain 2006.



Scrúdaigh an graf thuas agus freagair na ceistanna a leanas:

(i) Cén t-aoisghrúpa ina raibh an daonra ba mhó sa bhliain 2006?

\_\_\_\_\_

(ii) Cén **dá** aoisghrúpa a áirítear sa chóimheas cleithiúnais?

1. \_\_\_\_\_

2. \_\_\_\_\_

## 16. BAILTE SEANTÁN

Cuir tic (✓) sa bhosca ceart chun a thaispeáint cé acu **trí** ráiteas atá ceart.

1. I mbailte seantán is fadhbanna móra iad sláintíocht easnamhach agus uisce neamhghlan.
2. Is sampla d'áit lonnaithe phleanáilte é baile seantán.
3. Tugtar favelas ar na bailte seantán in Calcúta.
4. Bíonn na rátaí breithe ard i mbailte seantán.
5. Is ceantair le dlús ard daonra iad na bailte seantán.

1, 3, 4

1, 4, 5

2, 3, 5

2, 4, 5

## 17. LÉARSCÁIL SHUIRBHÉIREACHT ORDANÁIS

Déan staidéar ar an léarscáil Shuirbhéireacht Ordanáis a thugtar duit.  
Ainmnigh an gréasán lonnaíochta suite ag Q 423 003 ar an mbóthar R 559.

Is é a thugtar ar an ngréasán lonnaíochta ná \_\_\_\_\_.

## 18. LÉARSCÁIL SHUIRBHÉIREACHT ORDANÁIS

Déan staidéar ar an léarscáil Shuirbhéireacht Ordanáis a thugtar duit.  
Cuir in iúl cé acu fíor nó bréagach atá **gach** ráiteas agus ciorclú á dhéanamh agat ar an bhfreagra ceart.

- |       |   |                        |
|-------|---|------------------------|
| (i)   | Tá an pointe is airde ar an léarscáil ag Q 515 064. | <i>Fíor / Bréagach</i> |
| (ii)  | Ó thuaidh a shreabhann Abha Bhaile an Mhuilinn.     | <i>Fíor / Bréagach</i> |
| (iii) | Tá teach solais lonnaithe ag V 465 990.             | <i>Fíor / Bréagach</i> |

## 19. AERFÓTAGRAF

Scrúdaigh an t-aerfótagraf den Daingean a thugtar duit.  
Is é atá san fhótagraf seo ná:

Fótagraf ceartingearach.

Fótagraf sceabhach.

Cuir tic (✓) sa bhosca ceart.

## 20. AERFÓTAGRAF



Taispeántar na báid seo ar an aerfótagraf a thugtar leis an bpáipéar seo.

Luaigh suíomh na mbád seo agus bain úsáid as an ngnáthnodaireacht (cúlra ar clé, lár ar dheis, lár an tulra etc.).

Suíomh \_\_\_\_\_