



Coimisiún na Scrúduithe Stáit

SCRÚDÚ AN TEASTAIS SHÓISEARAIGH, 2009

TÍREOLAÍOCHT – ARDLEIBHÉAL

DÉ hAOINE, 5 MEITHEAMH – TRÁTHNÓNA, 2.00 go dtí 4.00

ROINN 2 (90 MARC)

Freagair **TRÍ** cheist.

Tá **ROINN 1** den pháipéar seo ar fhilleán ar leith mar a bhfuil spásanna le haghaidh do chuid freagraí. Ná dearmad, le do thoil, go gcaithfear an fillteán comhlánaithe a thabhairt ar ais le do fhreagarleabhar.

1. FLIUCHRAS, TÉAMH DOMHANDA AGUS BÁISTEACH AIGÉADACH

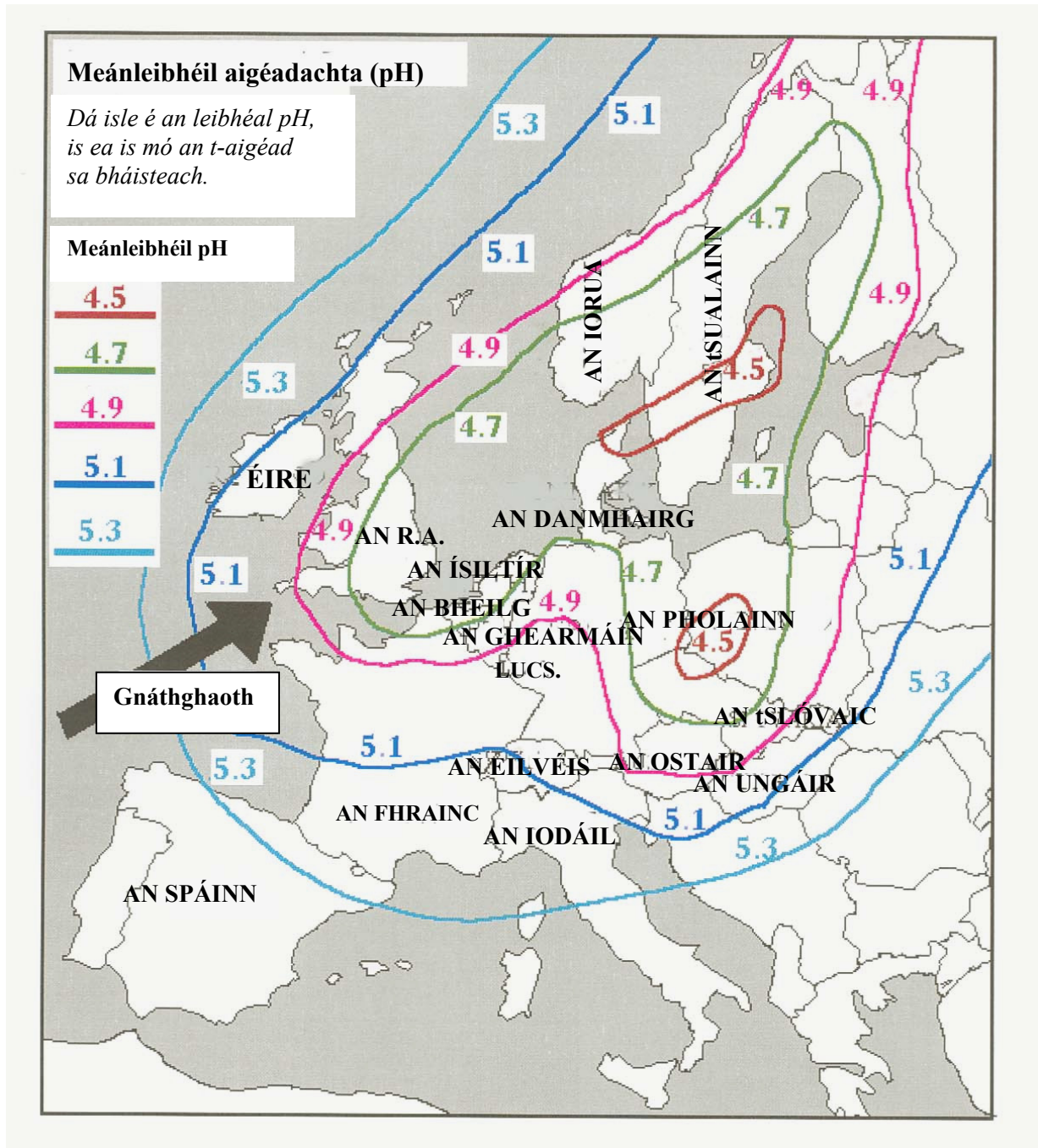
A. Báisteach Rilife

Mínigh, le cabhair léaráide, conas a tharlaíonn **báisteach rilife**.

(10)

B. Báisteach Aigéadach

Sa léarscáil thíos taispeántar na leibhéil den bháisteach aigéadach ar fud na hEorpa.



(i) De réir na léarscáile seo, cé acu **ceann** de na tíortha seo a leanas a mbeidh na **is measa** a raghaidh an bháisteach aigéadach i bhfeidhm uirthi: **An Spáinn, an R.A, an Fhrainc, an tSualainn?**

(2)

(ii) Déan cur síos ar **dhá shlí** a rachaidh an bháisteach aigéadach i bhfeidhm (**dhá iarmhairt** a bheidh uirthi).

(6)

C. Téamh Domhanda

Tá an téamh domhanda ag dul i bhfeidhm ar Éirinn cheana féin. Taispeánann tuarascáil nua eolaíochta go bhfuil méadú 0.7 °C tagtha ar mheánteocht na hÉireann le céad bliain anuas agus gur tharla an chuid is mó den mhéadú seo ó 1980 i leith.

De réir na gcomharthaí go léir, leanfaidh na meánteochtaí orthu ag ardú.

Idir an dá linn, táthar ag ceapadh go dtiocfaidh ardú thart ar 15% ar bháisteach an gheimhridh agus táthar ag tuar go dtitfidh leibhéal na báistí sa samhradh de 20%, b'fhéidir. D'fhéadfadh tionchar uafásach a bheith ag na hathruithe aeráide seo ar an talmhaíocht agus ar sholáthair an uisce baile. Táthar ag ceapadh gur in oirthear agus i ndeisceart na tíre is meas a bheidh cúrsaí.

(Bunaithe ar thuairisc san *Irish Examiner* 10 Meitheamh 2008)

(i) Freagair na ceistanna seo a leanas a bhaineann leis an *sliocht nuachtáin thuas*:

(a) Cén méadú atá tagtha ar mheánteochtaí na hÉireann le céad bliain anuas?

(b) Cé acu codanna den tír is measa ina mbeidh cúrsaí de bharr na n-athruithe aeráide a luaitear sa sliocht?

(4)

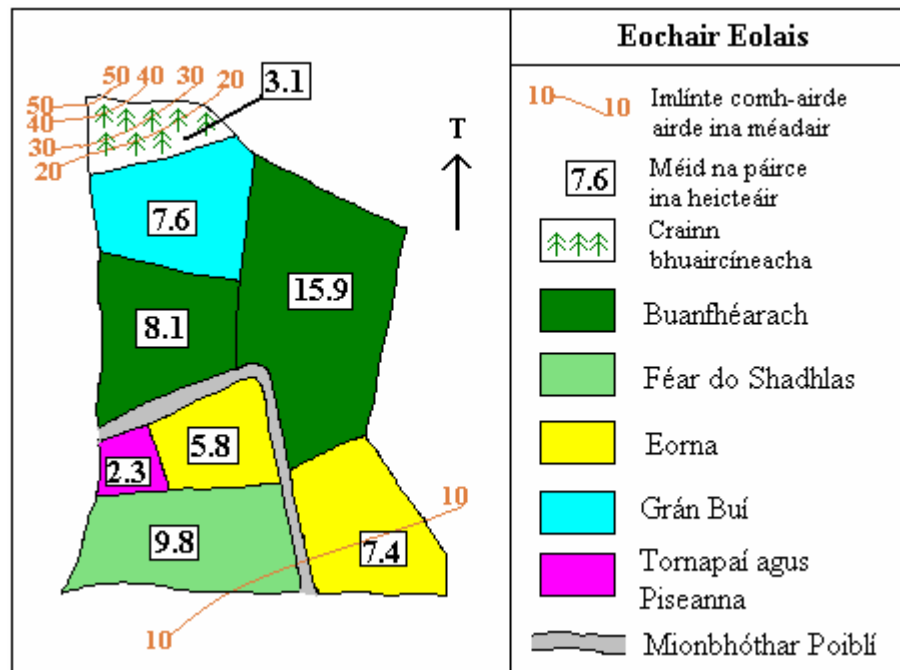
(ii) Déan cur síos ar **dhá chúis** leis an téamh domhanda.

(8)

2. TALMHAÍOCHT AGUS UISCIÚ

A. Feirm Éireannach

Scrúdaigh an tsracléarscáil den fheirm Éireannach thíos agus freagair na ceisteanna a leanann í:



- Cén mhéid, ina heicteáir, atá sa pháirc is mó ar an bhfeirm?
- Cé mhéad heicteár, san iomlán, atá faoi eorna?
- 60 heicteár an t-achar iomlán atá san fheirm. Ríomh céatadán na talún atá faoi bhuanfhéarach.
- Cén fáth ar úsáid chuí talún é crainn bhuaircíneacha a bheith ag fás sa pháirc 3.1 heicteár i dtuaisceart na feirme?

(11)

B. An Fheirmeoireacht mar Chóras

Is córas í an fheirmeoireacht ina bhfuil **ionchuir, próisis agus aschuir**.

Mínigh na **trí** téarmaí sin agus tabhair sampla de **gach** ceann acu.

(9)

C. Uisciú

Baineann feirmeacha ar fud an domhain leas uaireanta as tionscadail mhóra uiscithe.

- Cad is brí leis an téarma '**uisciú**'?
- Déan cur síos ar thionscadal mór uiscithe **amháin** a bhfuil staidéar déanta agat air.

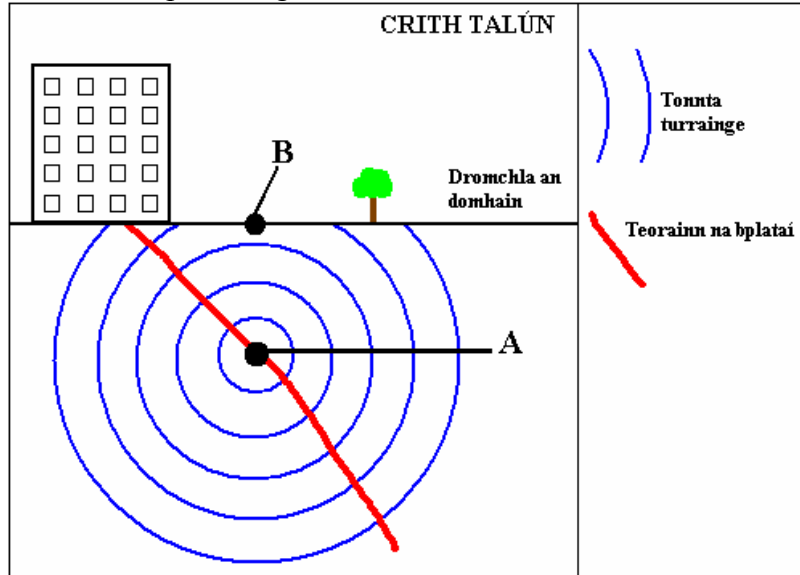
(10)

4. MEASCÁN TÍREOLAÍOCHTA

Freagair trí cinn de na ceisteanna seo a leanas, A, B, C agus D.

A. Creathanna Talún

- (i) Ainmnigh áit **amháin** ina dtarlaíonn creathanna talún.
- (ii) Scrúdaigh an léaráid a thaispeánann na tonnta turrainge ó chrith talún agus ainmnigh na limistéir a bhfuil na lipéid **A** agus **B** orthu.



- (iii) Déan cur síos achomair ar an **gcúis** atá le creathanna talún.

(10)

B. Turasóireacht

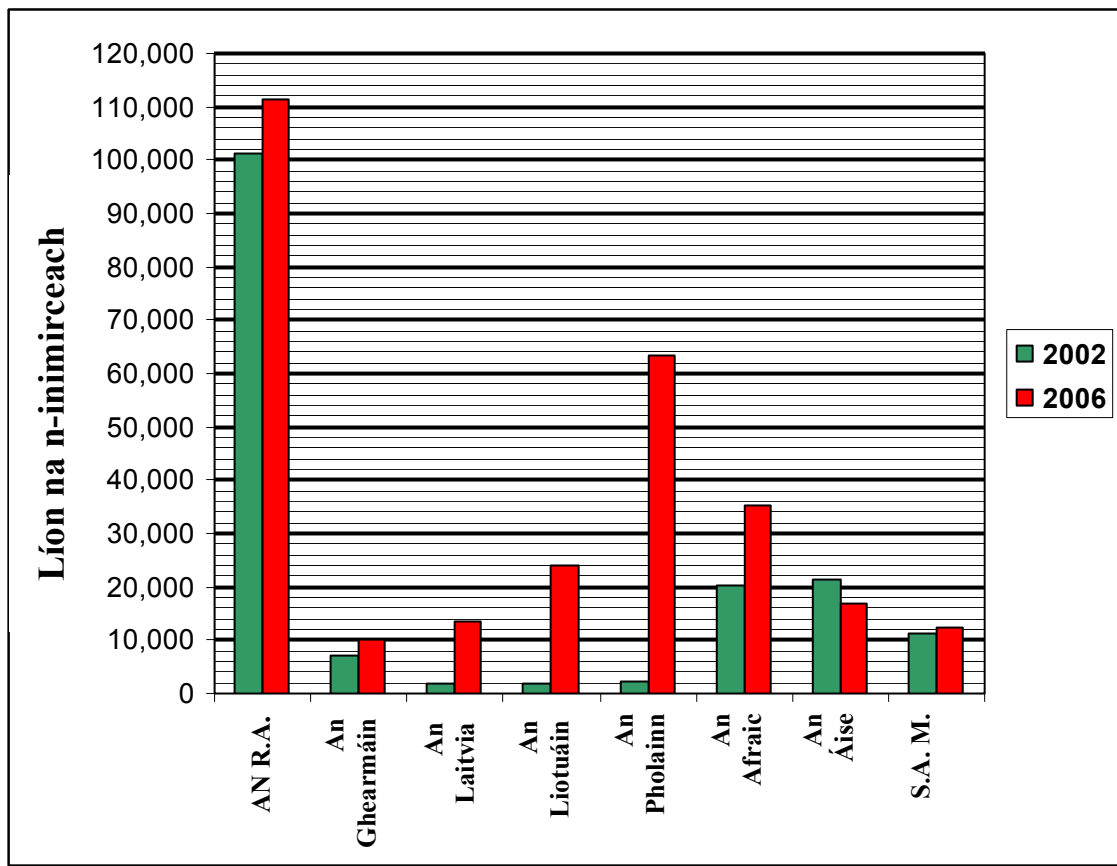


- (i) Luaigh **ceithre** chúis a dtagann turasóirí go hÉirinn.
- (ii) Bíonn **iarmhairtí nach mbíonn fáilte rompu** ag an turasóireacht mhórsála ar roinnt de na ceantair thurasóireachta. Déan cur síos ar **dhá** iarmhairt mar sin.

(10)

C. Imirce an Duine

- (i) Scrúdaigh an bharrachairt a thaispeánann líon na n-inimirceach ó réigiúin éagsúla a raibh cónaí orthu in Éirinn in 2002 agus in 2006.



Sonraí: POS

- (a) Cén tír as ar tháinig an líon is mó inimirceach in 2006?
- (b) Cén tír is tapúla ar tháinig fás ar an inimirce uathí go hÉirinn idir 2002 agus 2006?
- (c) Ríomh an méadú ar líon na n-inimirceach ón Liotuáin go hÉirinn idir 2002 agus 2006. (4)
- (ii) Míniú na téarmaí seo a leanas a bhaineann le himirce an duine:
- (a) Tosca tarraingthe.
- (b) Eisimirceach. (6)

D. An t-aerfótagraf

Scrúdaigh an t-aerfótagraf atá leis an scrúdpháipéar seo.

- (i) Sainithin agus luaigh suímh **dhá** chineál talamhúsáide **uirbí** atá le feiceáil ar an bhfótagraf.
- (ii) Cén t-am den bhliain ar tógadh an fótagraf seo? Míniú cúis **amháin** le do fhreagra. (10)

5. LÉARSCÁIL NA SUIRBHÉIREACHTA ORDANÁIS

Scrúdaigh an léarscáil de chuid na Suirbhéireachta Ordanáis a thugtar.

- A. Tarraing sracléarscáil** den cheantar a thaispeántar ar an léarscáil de chuid na Suirbhéireachta Ordanáis.

Taispeáin gach ceann díobh seo a leanas ar do shracléarscáil agus **cuir lipéad orthu**:

- Fad iomlán an iarnróid mar a thaispeántar ar an léarscáil é
- An limistéar atá faoi fhoirgnimh i mbaile Chill Mhantáin
- Gníomhaíochtaí bádóireachta
- Limistéar d'fhoraois bhuaircíneach.

(10)

- B. (i)** Déan achar na farraige a thaispeántar sa léarscáil a mheas ina chiliméadair chearnacha. (4)

- (ii) Tomhais, ina chiliméadair, fad an iarnróid ón stáisiún traenach i gCill Mhantáin ag T 307 947 go dtí an áit ina bhfágann sí an léarscáil ag T 260 933. (4)

- C.** Cén fáth ar fhorbair baile Chill Mhantáin ag an suíomh seo? Míneigh **trí** chúis.

(12)