

**RABHADH**

Ní mór duit an páipéar seo a chur ar ais le do fhreagarleabhar, nó caillfear marcanna.

Scríobh do Scrúduithe Anseo



# Coimisiún na Scrúduithe Stáit

---

**SCRÚDÚ AN TEASTAIS SHÓISEARAIGH, 2006**

---

**TÍREOLAÍOCHT – ARDLEIBHÉAL**

**ROINN 1 – FILLTEÁN**

---

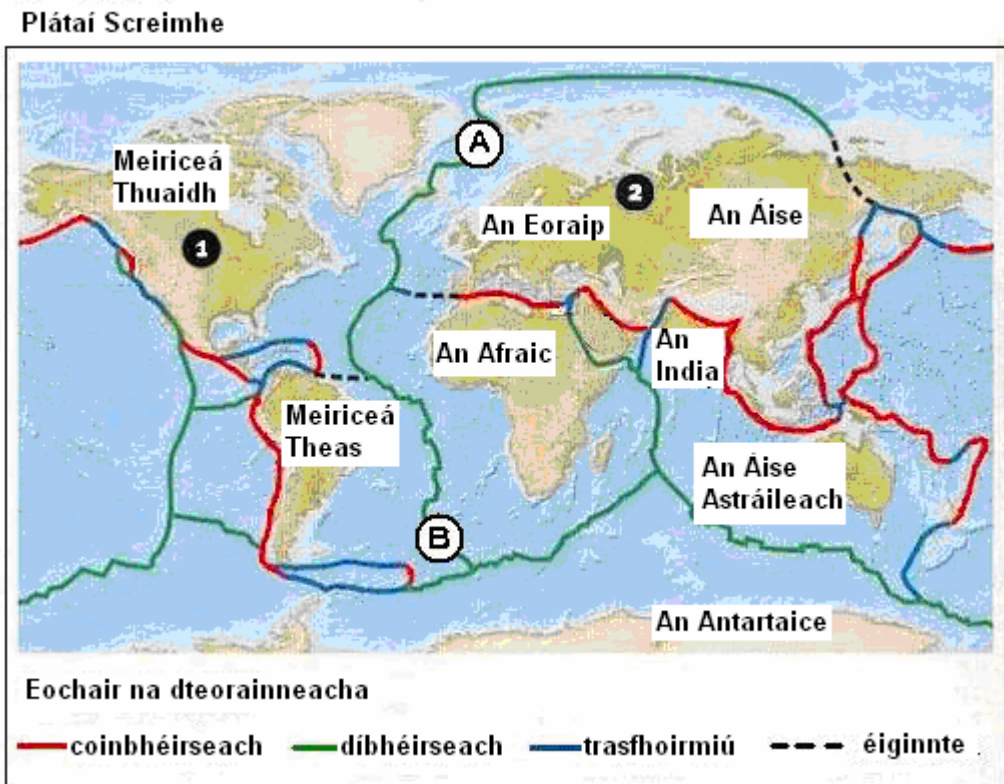
**DÉ LUAIN, 12 MEITHEAMH – TRÁTHNÓNA, 1.30 go 3.30**

---

**ROINN 1 (60 MARC)**

Caithfear tabhairt faoi **gach** ceist.  
*Tá rogha agat laistigh de thrí cheist.*  
*Déan deimhin den fhillteán seo a chur ar ais*  
*le do fhreagarleabhar.*  
 Mura ndéanann tú sin, caillfidh tú marcanna.

# 1. PLÁTAÍ SCREIMHE




Scrúdaigh an léarscáil a thaispeánann príomhplátaí screimhe an domhain.

- (i) Ainmnigh an pláta screimhe a bhfuil “1” air. \_\_\_\_\_
- (ii) Ainmnigh an pláta screimhe a bhfuil “2” air. \_\_\_\_\_
- (iii) Ainmnigh an ghné aigéin a tharlaíonn de bharr na plátaí a bheith ag scaradh feadh na líne A-B \_\_\_\_\_

## 2. CARRAIGEACHA

Bain úsáid as na leideanna seo agus comhlánaigh an crosfhocal trí-phíosa:

1. Carraig dhríodair gharbh, rua nó donn, a fhaightear i sléibhte na Mumhan.
2. Bruthcharraig gharbh ildathach.
3. Carraigeacha a athraíodh faoi ardbhrú nó le teas.



## 3. OLLGHLUAISEACHT

An cineál ollghluaiseachta a léirítear sna léaráidí ná:

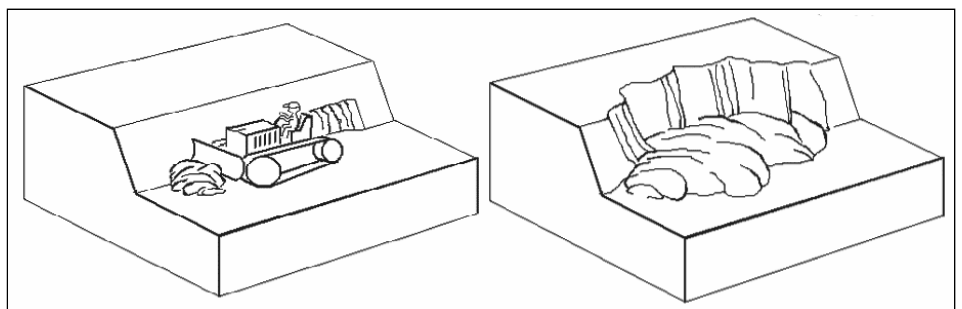
*Cuir tic (✓) sa bhosca cuí.*

Ithirthéaltú

Sreabh láibe

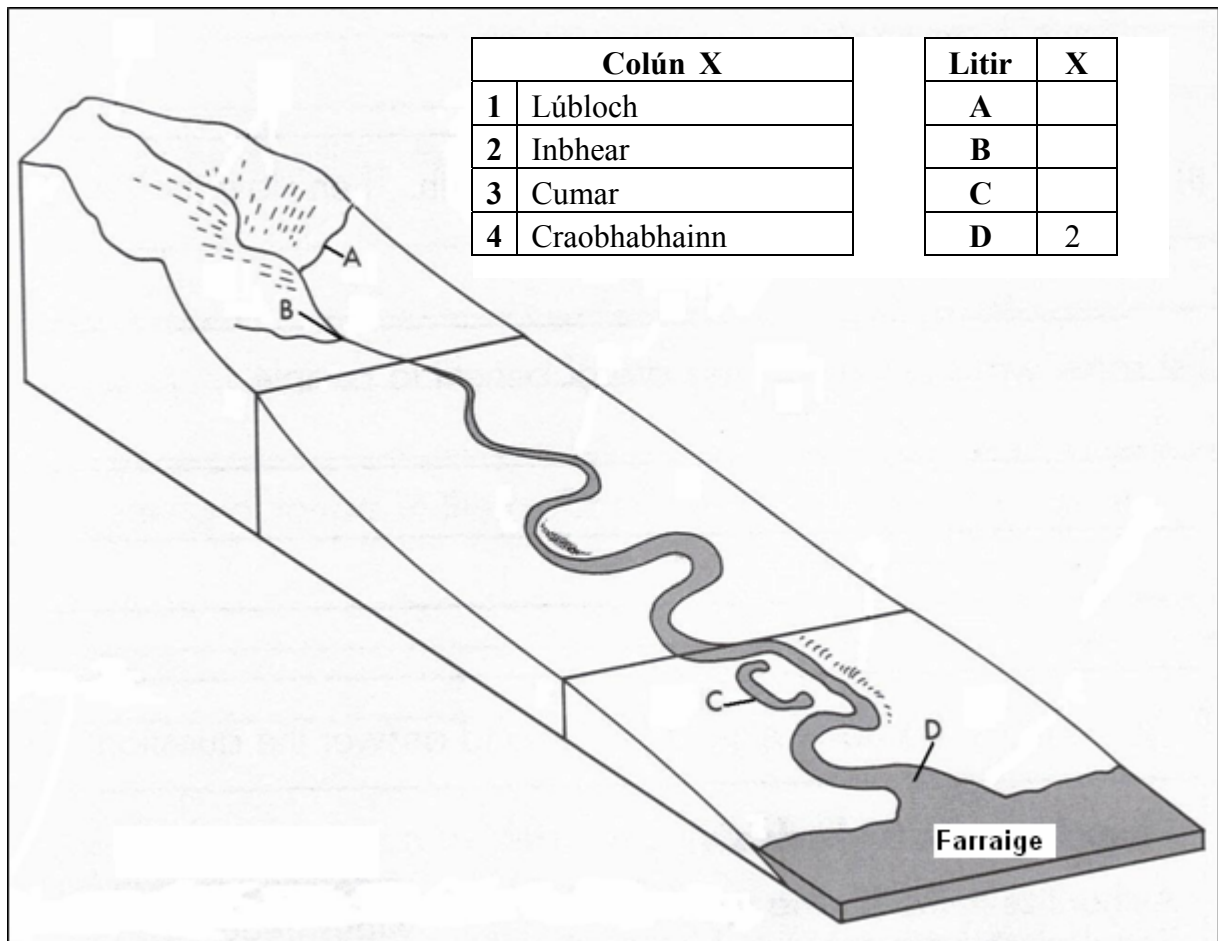
Sciordradh talún

Maidhm phortaigh



#### 4. AIBHNEACHA

Sna boscaí atá ann dóibh, meaitseáil **gach** ceann de na litreacha **A** go **D** sa léaráid leis an uimhir chúil i gColún X. Tá péire amháin déanta duit.



## 5. STAITISTICÍ AERÁIDE

Scrúdaigh na staitisticí teochta agus frasaíochta i mbaile mór i lár na hEorpa

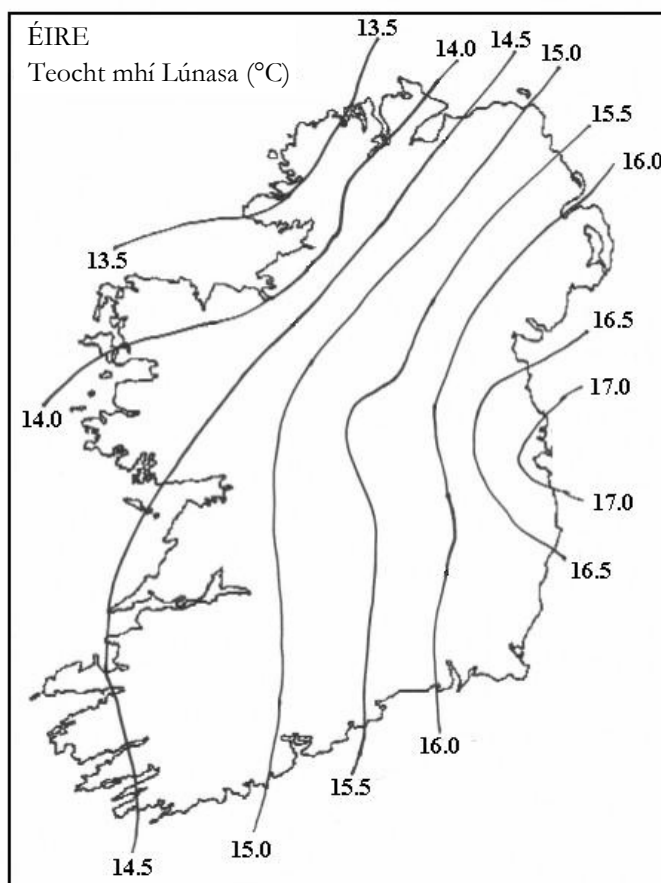
	E	F	M	A	B	M	I	L	MF	DF	S	N
Teocht (°C)	-4.5	-0.5	2.5	6.0	8.5	12.5	16.0	17.5	12.5	6.5	2.0	-1.0
Frasaíocht (mm)	11	15	42	36	62	75	99	97	31	32	24	19

Cuir ciorcal thart ar an bhfreagra ceart i **ngach** ceann de na ráitis seo a leanas:

- (i) Is í an mhí is teo ná *mí Iúil / mí Lúnasa*.
- (ii) Is é an raon teochta bliantúil ná  $22^{\circ}\text{C} / 13^{\circ}\text{C}$
- (iii) Úsáideadh *taismhéadar / méadar báistí* chun na leibhéil bháistí a thomhas don chairt seo.

## 6. LÉARSCÁIL TEOCHTA

Scrúdaigh léarscáil na teochta in Éirinn i mí Lúnasa.

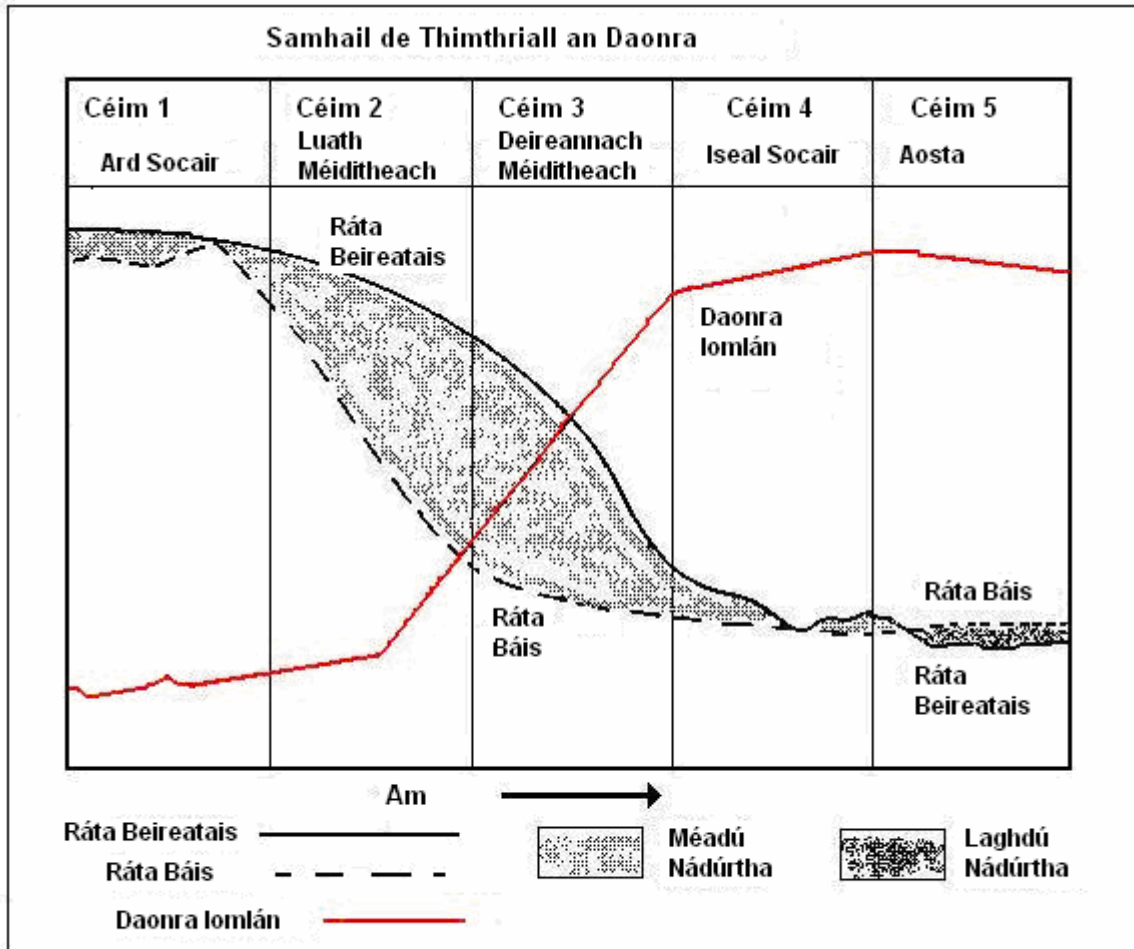


Cuir ciorcal thart ar an bhfreagra ceart i **ngach** ceann de na ráitis seo a leanas.

- (i) An chuid is fionnuaire d'Éirinn ná an taobh *thoir thuaidh / thiar thuaidh*.
- (ii) Tá teocht *díreach os cionn 17°C / díreach faoi 17°C* sa réigiún is teo.
- (iii) An t-ainm atá ar na línte sa léarscáil a cheanglaíonn áiteanna den teocht chéanna ná *iseabair / isiteirmeacha*.

## 7. ATHRÚ DAONRA

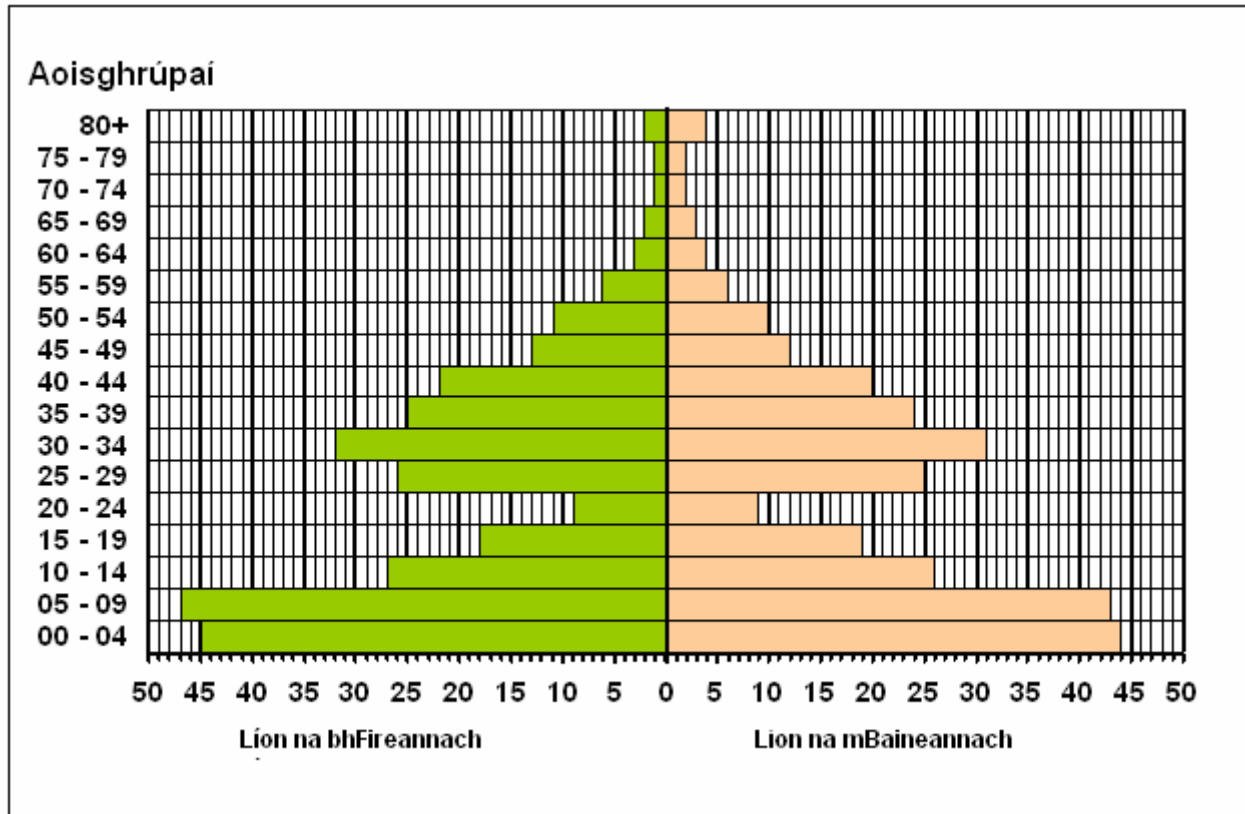
Scrúdaigh an léaráid a thaispeánann timthriall an daonra.



- (i) Cé acu ceann de na cúig chéim ina bhfuil an ráta báis is airde? \_\_\_\_\_
- (ii) Cé acu ceann de na cúig chéim ina bhfuil an méadú is tapúla ar an daonra iomlán?  
\_\_\_\_\_
- (iii) Cé acu ceann de na cúig chéim ina bhfuil lánlaghdú ar an daonra iomlán? \_\_\_\_\_

## 8. STRUCHTÚR DAONRA

Scrúdaigh an léaráid, a léiríonn struchtúr an daonra i gceantar beag uirbeach.

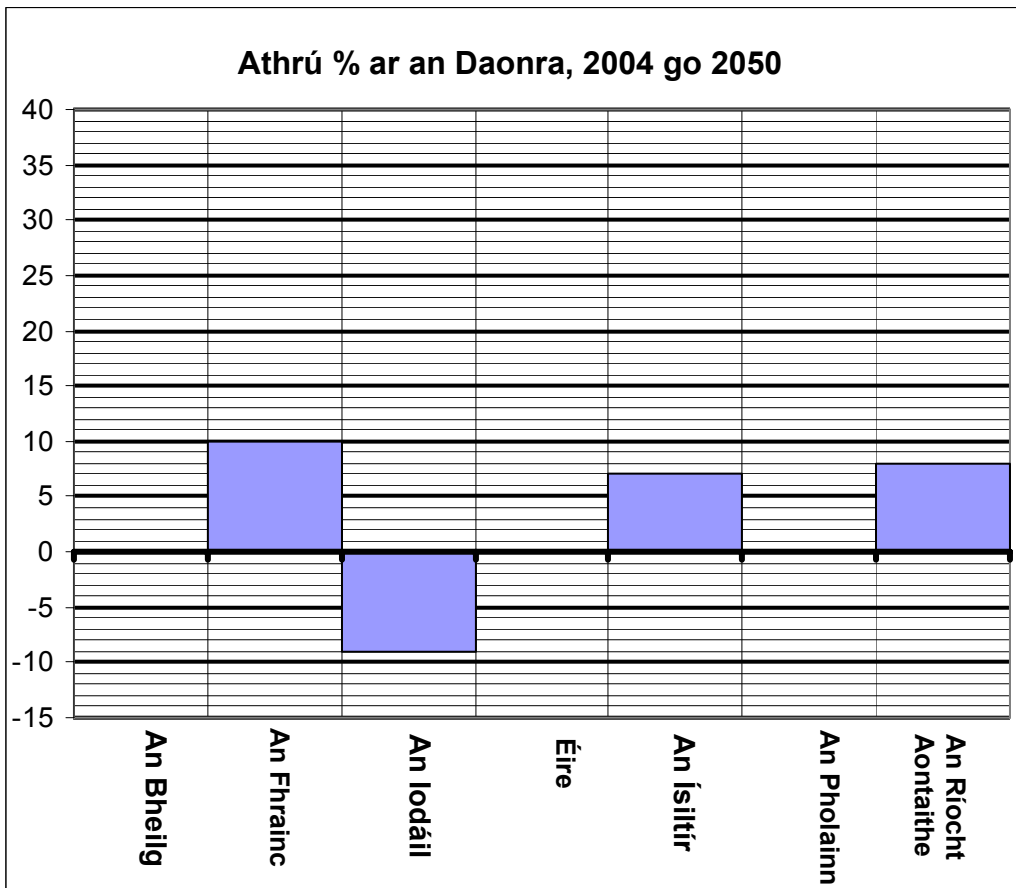


- (i) Cé mhéad fireannach atá san aoisghrúpa 0 – 4? \_\_\_\_\_
- (ii) Léiríonn an léaráid seo ceantar ina bhfuil an chuid is mó den daonra déanta suas de theaghlaigh óga / de dhaoine aosta. (Cuir ciorcal thart ar an rogha cheart.)
- (iii) Cén t-ainm a thugtar ar an gcineál sin léaráide? \_\_\_\_\_

## 9. GRAIF A THARRAINGT

Seasann na barraí don eolas a thugtar i dtábla na bhfigiúirí. Tarraing na barraí a sheasann don Bheilg, d'Éirinn agus don Pholainn.

<b>Tábla na bhFigiúirí</b>	
An t-athrú daonra a bhfuil súil leis idir 2004 agus 2050 i roinnt tíortha.	
<i>Tír</i>	<i>Athrú céatadán</i>
<b>An Bheilg</b>	<b>+5</b>
<b>An Fhrainc</b>	<b>+10</b>
<b>An Iodáil</b>	<b>-9</b>
<b>Éire</b>	<b>+36</b>
<b>An Ísiltír</b>	<b>+7</b>
<b>An Pholainn</b>	<b>-12</b>
<b>An Ríocht Aontaithe</b>	<b>+8</b>
<i>(Foinse: The Irish Times, 9 Aibreán 2005)</i>	





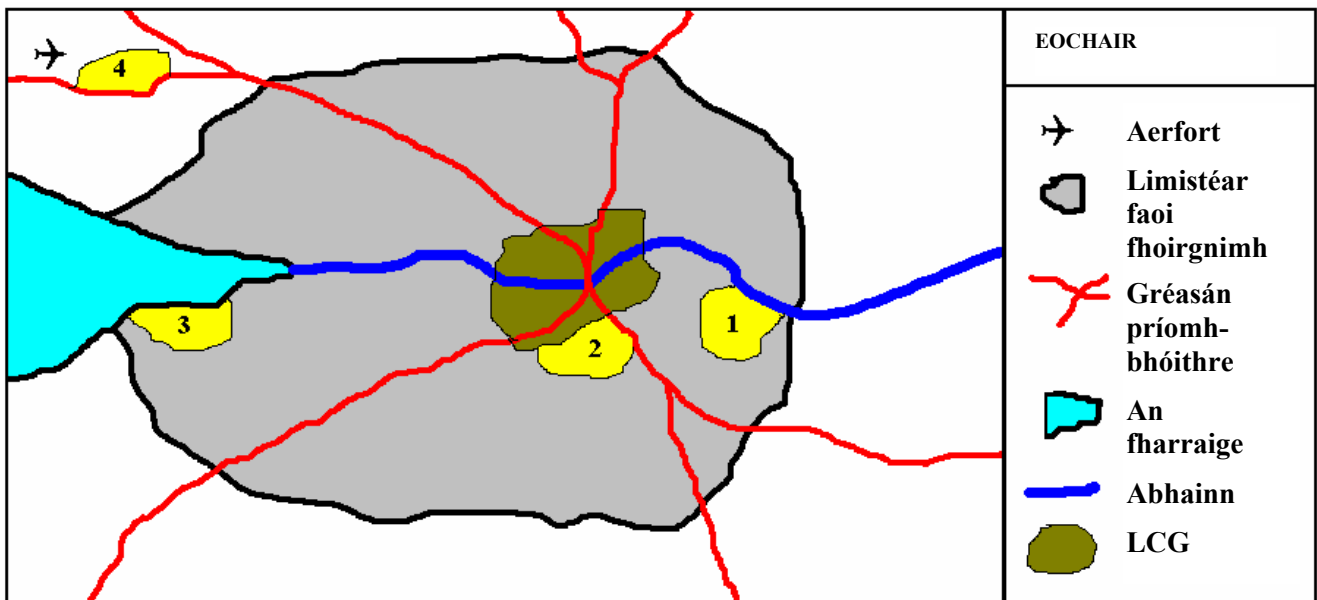
10. **LONNAÍOCHT**

Sna boscaí a thugtar, meaitseáil **gach** litir i gColún X leis an uimhir chuí i gColún Y. Tá péire amháin déanta duit.

Colún X		Colún Y		X	Y
A	Tamhlacht	1	Talamh tugtha chun míntíreachais ón bhfarraige	A	3
B	Mailí	2	Baile seantán	B	
C	Poldair	3	Baile nua	C	
D	Bustaithe	4	Dlús íseal daonra	D	

11. **CRIOSANNA FEIDHME LAISTIGH DE CHATHRACHA**

Déan staidéar ar an tsracléarscáil a thaispeánann roinnt criosanna feidhme laistigh de chathair.



Sna boscaí a thugtar, meaitseáil **gach** ceann de na huimhreacha 1 go 4 sa tsracléarscáil leis an litir chuí i gColún X. Tá péire amháin déanta duit.

Colún X		X	Colún
A	Tionscail taobh leis na dugaí	A	
B	Limistéar Cónaithe Seanbhunaithe	B	
C	Eastát Tionsclaíoch Nua-Aimseartha	C	
D	Limistéar Cónaithe Nuabhunaithe	D	1

## 12. GNÉITHE DEN LONNAÍOCHT

Léigh na ráitis thíos. Níl na ráitis go léir fíor.

1. Is comharthaí seanlonnaíochta iad seo uile: dolmainí, liosanna agus caisleáin.
2. Bíonn gréasán ribíneach lonnaíochta ag sráidbhaile a chnuasaíonn timpeall ar acomhal bóithre.
3. Tá an daonra níos dlúithe in Iarthar na hÉireann ná in Oirthear na hÉireann.
4. De ghnáth, méadaíonn ar luach na talún i dtreo lár cathrach.
5. Ritheann abhainn na Réine tríd an nGearmáin ach sroicheann sí an fharraige san Ísiltír.

**Is iad na ráitis cearta ná:**

*Cuir tic (✓) sa bhosca cuí.*

1, 4, 5

1, 3, 4

2, 3, 4

2, 4, 5

## FREAGAIR 13A NÓ 13 B

### 13A. TAIRBHE A BHAINT AS PORTAIGH MHÓNA NA hÉIREANN

Cuir ciorcal thart ar an bhfreagra ceart i **ngach** ceann de na ráitis seo a leanas:

- (i) Déantar draenacha a thochailt sna portaigh le hinnill ar a nglaoitear *innill draenála / innill díge*.
- (ii) Scríobtar codanna beaga móna ó na portaigh agus stróictear ina mionbhlúirí iad le hinnill ar a nglaoitear *innill ghrádaithe / innill mhuilleoireachta*.
- (iii) San am fadó, d'úsáidtear uirlisí láimhe ar a nglaoitear *sleánta / brácaí* chun fóid mhóna a bhaint ar an bportach.

## NÓ

### 13B. CATHRACHA PRÍOMHA

**Is é atá i gcathair phríomha ná**

*Cuir tic (✓) sa bhosca cuí.*

Cathair ina dtagann parlaimint na tíre le chéile.

An chathair is sine i dtír.

Áit a dtaistealaíonn daoine ar obair uaidh agus ar ais gach lá.

Cathair ina bhfuil an daonra ar a laghad dhá uair níos mó ná aon chathair eile sa tír.

## FREAGAIR 14A NÓ 14B

### 14A. ITHIR

Roghnaigh trí théarma ón mbosca roghnachais chun na bearnaí sa sliocht thíos a líonadh..

#### **Bosca Roghnachais**

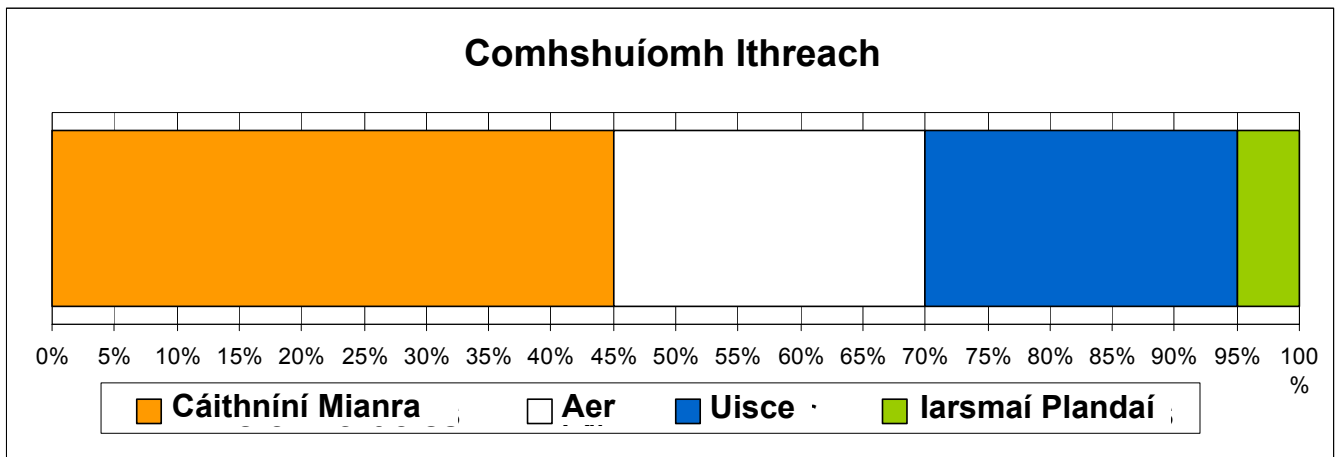
Láisteadh; Miocrorgánaigh; Húmas; Cáithníní Mianraí; Podsail; Cruachasil

“Cabhraíonn dianscaoileadh bruscar plandaí ina \_\_\_\_\_ chun an talamh a leasú. Féadann próisis mar an \_\_\_\_\_ damáiste a dhéanamh don ithirthorthúlacht toisc go sileann na cothaitheigh síos faoi bhun de réimse fréamhacha na bplandaí. Is cineál ithreach iad \_\_\_\_\_ a fhaightear de ghnáth i limistéir thaise in ardchríocha na hÉireann.

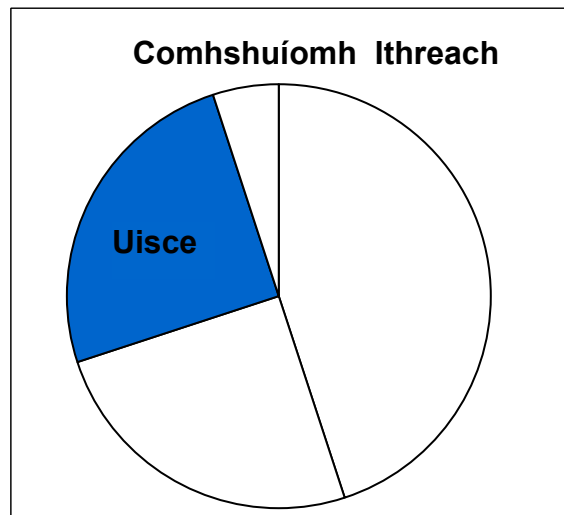
NÓ

### 14B. ITHIR

Taispeántar comhshuíomh na hithreach sa bharra-chairt roinnte seo.



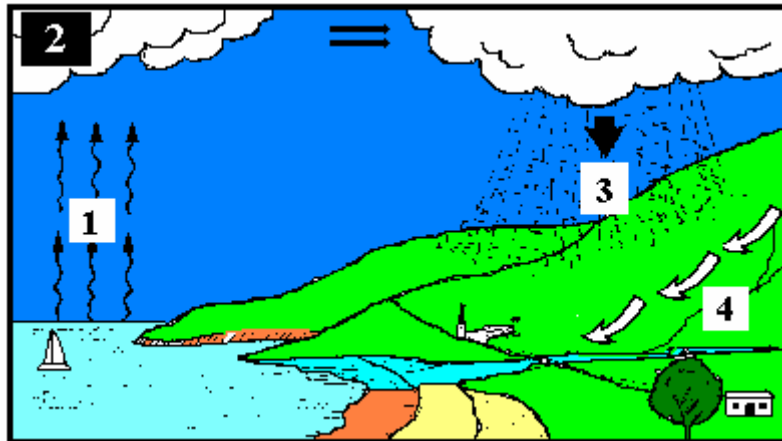
Bain úsáid as an eolas ar an mbarra-chairt roinnte thuas agus cuir lipéid ar an bpíchart.



## FREAGAIR 15A NÓ 15B

### 15A TIMTHRIALL AN UISCE

Déan staidéar ar an léaráid seo de thimthriall an uisce.



Sna boscaí a thugtar, meaitseáil **gach** ceann de na huimhreacha 1 go 4 sa léaráid leis an litir chuí phéire i gColún X. Tá péire amháin déanta duit.

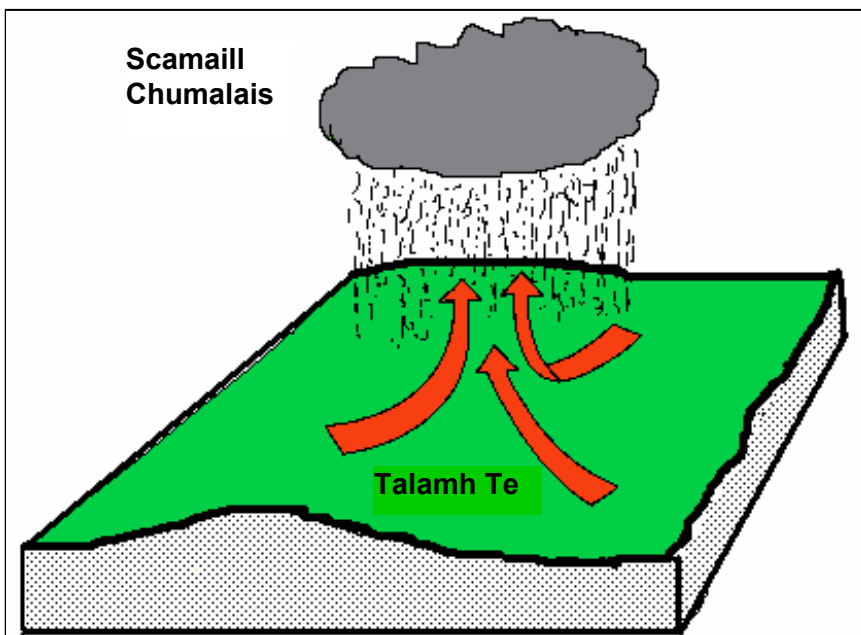
Colún X	
A	Frasaíocht
B	Comhdhlúthú
C	Rith chun srutha agus Sú
D	Galú

X	Uimhir
A	
B	2
C	
D	

NÓ

### 15B CINEÁLACHA BÁISTÍ

Déan staidéar ar an léaráid thíos.



Taispeánann an léaráid  
Cuir tic (✓) sa bhosca cuí.

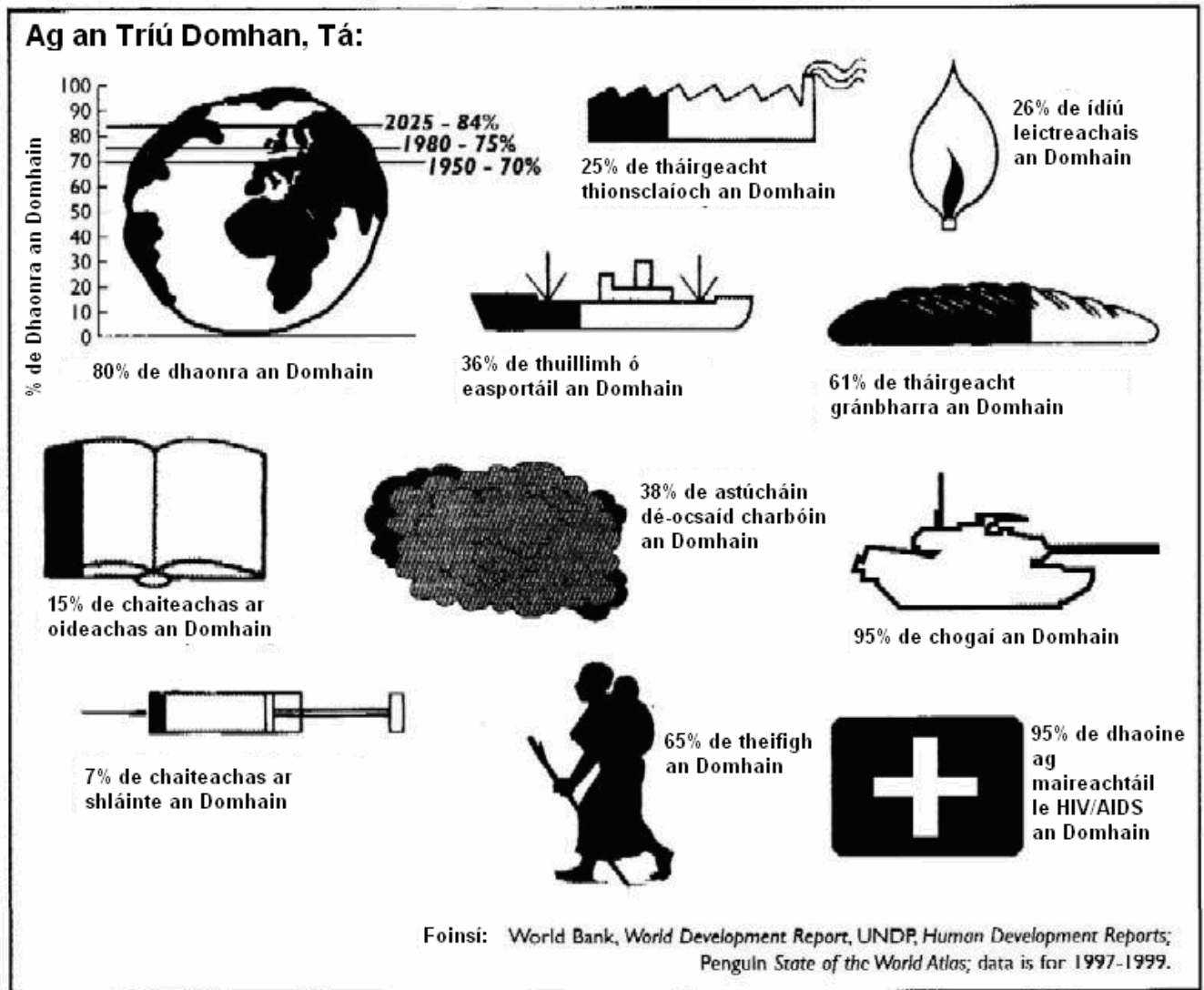
Báisteach Rilífe

Báisteach Chomhiompair

Báisteach Chioclóin /  
Fhrontach

## 16. AN TRÍÚ DOMHAN

Scrúdaigh an t-eolas a thugtar faoin Tríú Domhan.



Léigh na ráitis thíos. Níl na ráitis go léir fíor.

Cuir tic (✓) a chur sa bhosca cuí le cur in iúl cé na ráitis atá fíor.

1. Tá níos mó ná trí cheathrú de phobal an domhain sa Tríú Domhan.
2. Sa Tríú Domhan a dhéantar formhór an astúcháin dé-ocsaíd charbóin sa domhan.
3. Déantar níos lú ná an deichiú cuid de chaiteachas sláinte an domhain sa Tríú Domhan.
4. Sa Tríú Domhan a fhástar an chuid is mo de tháirgeacht arbhair an domhain.
5. Sa Tríú Domhan a dhéantar 36% de tháirgeacht thionsclaíoch an domhain.

Is iad na ráitis atá fíor ná

1, 2, 3

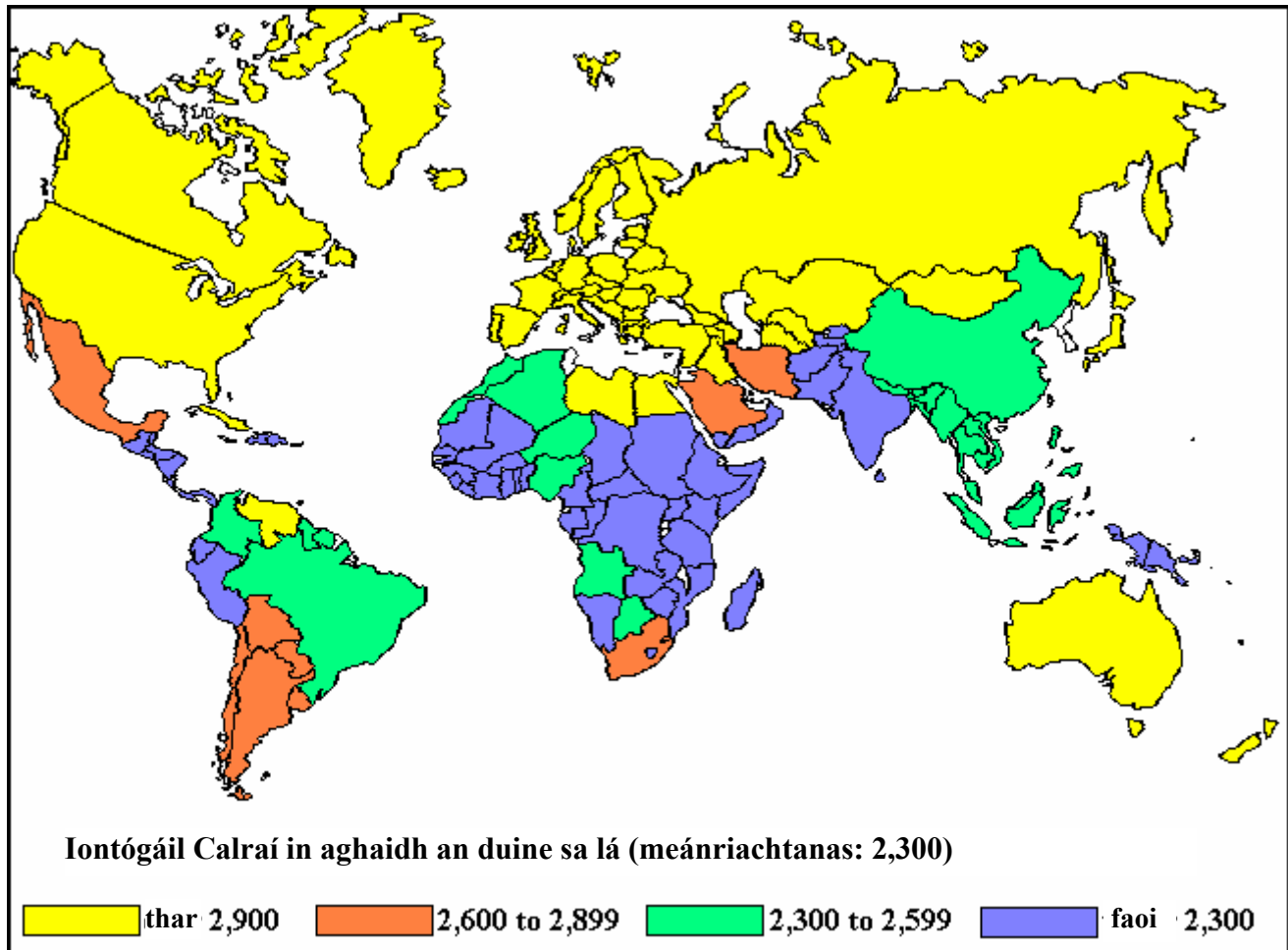
2, 3, 4

1, 3, 4

3, 4, 5

## 17. OCRAS AGUS FLÚIRSE

Taispeánann an léarscáil an mheán-iontógáil calraí sa lá i dtíortha éagsúla.



Scríobh an iontógáil calraí in aghaidh an duine sa lá i ngach ceann de na tíortha seo a leanas:



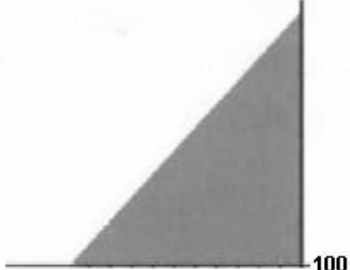


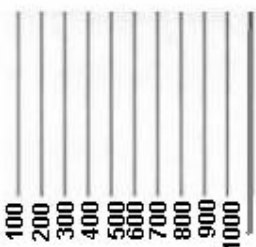

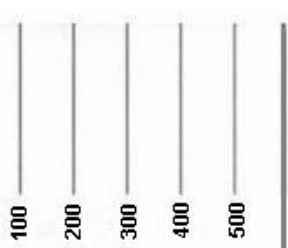
In Éirinn \_\_\_\_\_

Sa Bhrasáil \_\_\_\_\_

I Mailí \_\_\_\_\_

**18. AN tSUIRBHÉIREACHT ORDANÁIS - FÁNAÍ**

Sna boscaí a thugtar, meaitseáil **gach** litir i gColún X leis an uimhir chuí i gColún Y. Tá péire amháin déanta duit.

Colún X		Colún Y		X	Y
A		1		A	
B		2		B	3
C		3		C	
D		4		D	

**19. AN tSUIRBHÉIREACHT ORDANÁIS – TAGAIRTÍ EANGAÍ**

Déan staidéar ar an léarscáil SUIRBHÉIREACHT ORDANÁIS a thugtar.

Sna boscaí a thugtar, meaitseáil **gach** litir i gColún X leis an litir chuí i gColún Y. Tá péire amháin déanta duit.

Colún X		Colún Y		X	Y
A	V 957 856	1	Ardeaglais	A	2
B	V 933 927	2	Oileán an Diabhail	B	
C	V 959 908	3	Láithreán Carbhán	C	
D	V 908 923	4	Amharcphointe	D	



**20. AN tSUIRBHÉIREACHT ORDANÁIS – ACHAR**

Scrúdaigh an léarscáil SUIRBHÉIREACHT ORDANÁIS a thugtar leis an scrúdú seo.

Tá tuairim is an t-achar seo a leanas i Loch Léin agus i Loch Mhucrois le chéile:

*Cuir tic (✓)sa bhosca cuí.*

14 chiliméadar chearnacha

19 gciliméadar chearnacha

22 ciliméadar cearnach

25 ciliméadar cearnach

# **Leathanach Bán**