

RABHADH

Ní mór duit an páipéar seo a chur ar ais le do fhreagarleabhar, nó caillfear marcanna.

Scríobh d'Uimhir Scrúdaithe Anseo



Coimisiún na Scrúduithe Stáit

SCRÚDÚ AN TEASTAIS SHÓISEARAIGH, 2005

TÍREOLAÍOCHT -ARDLEIBHÉAL

ROINN 1 - FILLTEÁN

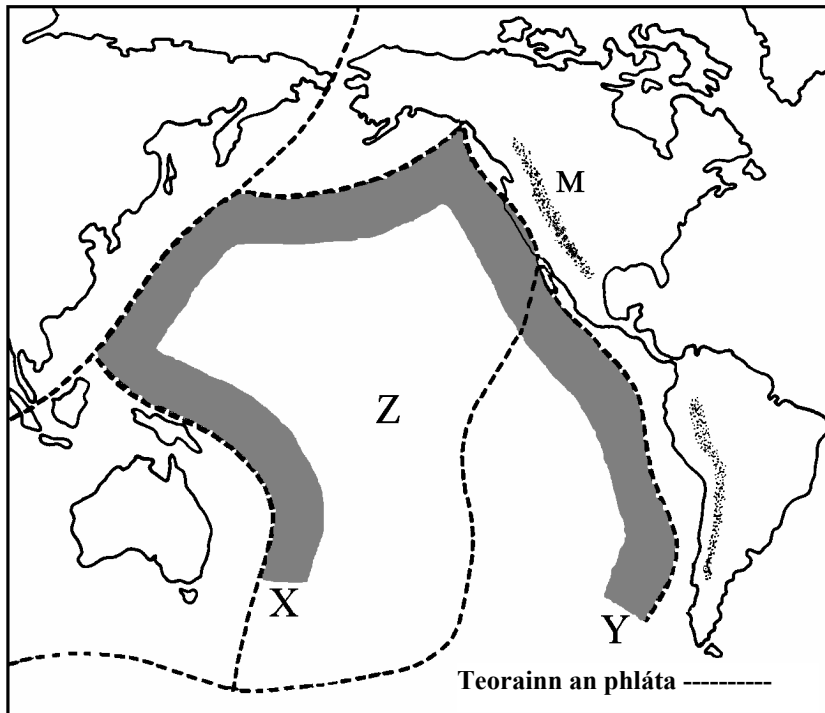
DÉ LUAIN, 13 MEITHEAMH - TRÁTHNÓNA, 1.30 go 3.30

ROINN 1 (60 MARC)

Caithfear tabhairt faoi **gach** ceist.
*Tá rogha agat laistigh de thrí cheist.
 Déan deimhin de an fillteán seo a chur ar ais
 le do fhreagarleabhar.
 Mura ndéanann tú sin, caillfidh tú marcanna.*

1. PLÁTAÍ SCREIMHE

Taispeánann an léarscáil roinnt plátaí screimhe agus a dteorainneacha.

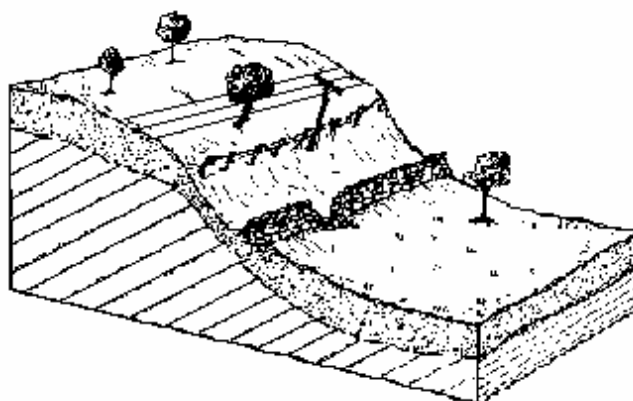


Cuir ciorcal thart ar an bhfreagra ceart i ngach ceann de na ráitis thíos:

- (i) An limistéar atá scáthlínithe le lipéad “X-Y” air is ea *Fáinne Tine an Aigéin Chiúin/Limistéar an Oighir agus na Tine*.
- (ii) An Pláta le lipéad “Z” air is ea *Pláta Nazca / Pláta an Aigéin Chiúin*.
- (iii) Na sléibhte le lipéad “M” orthu ná *Na hAindéis / Na Sléibhte Creagacha*.

2. OLLGHLUAISEACHT

Scrúdaigh an léaráid thíos.



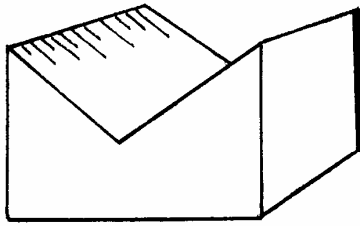
Cé acu saghas ollghluaiseachta a taispeánann sé?

Cuir tic (✓) sa bhosca ceart.


- | | | | |
|--------------------|--------------------------|-----------------|--------------------------|
| Maidhm shléibhe | <input type="checkbox"/> | Ithirthéaltú | <input type="checkbox"/> |
| Pléascadh portaigh | <input type="checkbox"/> | Sciordadh talún | <input type="checkbox"/> |

3. PRÓISEIS ABHANN


Taispeánann na léaráidí A, B agus C abhainn ina cúrsa uachtarach, cúrsa meánach agus cúrsa íochtarach.



Léaráid A



Léaráid B



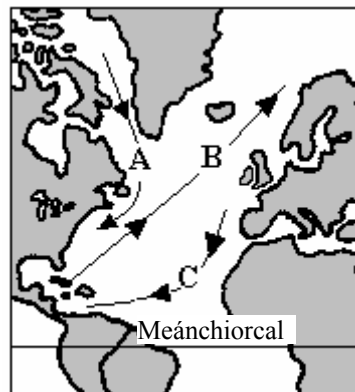
Léaráid C

Cuir ciorcal thart ar an bhfreagra ceart **i ngach ceann** de na ráitis thíos:

- (i) Is i *Léaráid A / Léaráid B / Léaráid C* is mó a tharlaíonn creimeadh cliathánach.
- (ii) Is i *Léaráid A / Léaráid B / Léaráid C* is mó a tharlaíonn sil-leagan.
- (iii) Is i *Léaráid A / Léaráid B / Léaráid C* is mó a tharlaíonn creimeadh le fána.

4. FEACHTANNA AIGÉIN

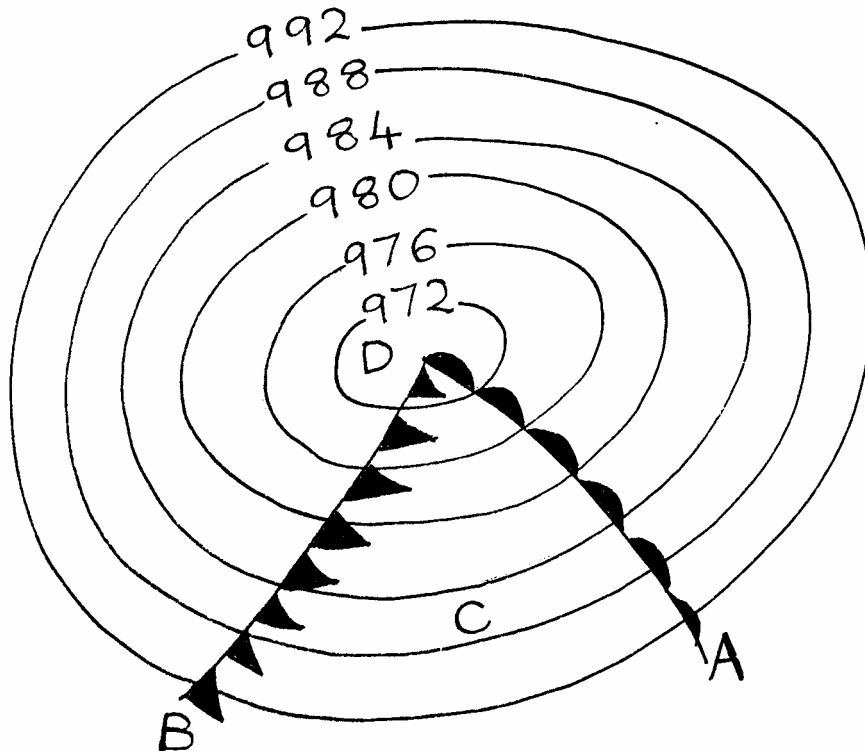
Taispeánann an léarscáil trí cinn de fheachtanna aigéin an Atlantaigh Thuaidh.



- (i) Ainmnigh an feacht aigéin le lipéad A air _____
- (ii) Ainmnigh an feacht aigéin le lipéad B air _____
- (iii) Abair cé acu feacht fuar nó feacht te é an feacht le lipéad C air. _____

5. LAGRACH

Scrúdaigh an léaráid de lagrach a thugtar thíos.



Sna boscaí a thugtar, meaitseáil **gach** ceann de na lipéid **A-D** ar an léaráid leis an uimhir dá phéire i gColún Y. Tá péire amháin déanta duit.

Colún Y	
1	Fronta Fuar
2	Áit leis an brú baraiméadrach is ísle
3	Teascóg The
4	Fronta Te

Lipéad Léaráide	Y
A	
B	
C	3
D	

6. TIMTHRIALL AN UISCE

Sna boscaí a thugtar, meaitseáil **gach** ceann de na téarmaí i gColún X leis an péire a théann leis i gColún Y. Tá péire amháin déanta duit.

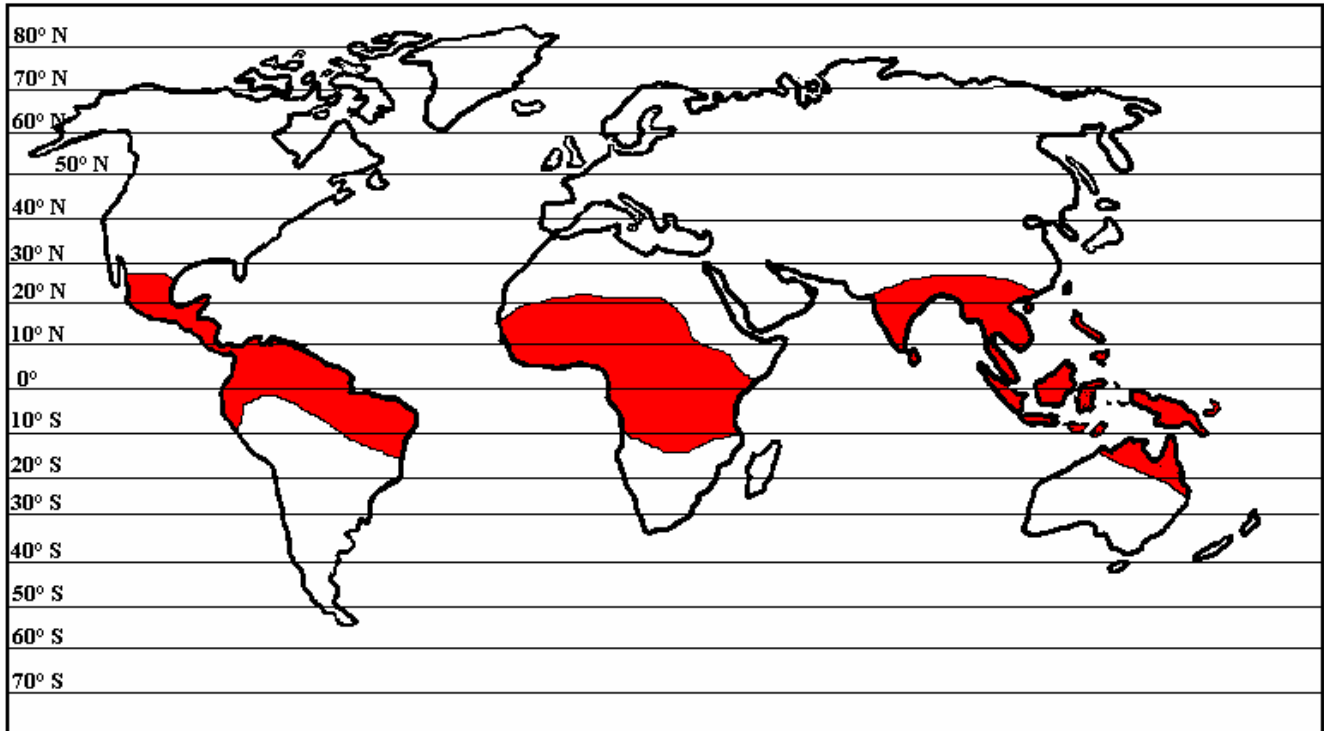
Colún X	
A	Frasaíocht
B	Comhdhlúthú
C	Sú agus rith chun srutha
D	Galú

Colún Y	
1	Déantar scamall dá bharr
2	Cuireann sé uisce ar ais san fharraige
3	Athraíonn uisce go gás
4	Tá baisteach, cloichshneachta, flichshneachta agus sneachta ann

X	Y
A	
B	
C	
D	3

7. SAGHSANNA ITHREACH

Scrúdaigh an léarscáil thíos.

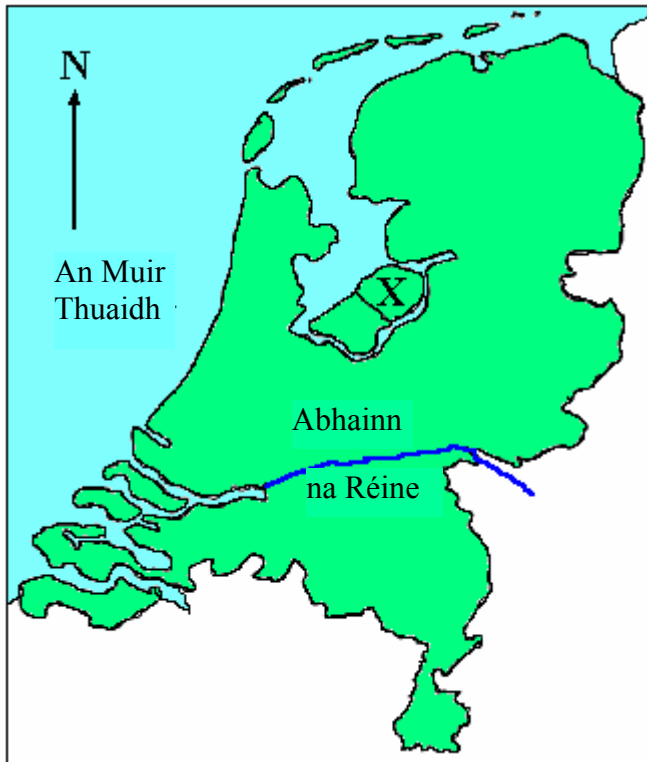


An saghas ithreach sna limistéir scáthlínithe sa léarscáil ná:
Cuir tic (✓) sa bhosca ceart.

- Podsail
- Gléirigh
- Ithreacha Donna
- Ithreacha Dearga Teochriosacha

8. TÍR EORPACH

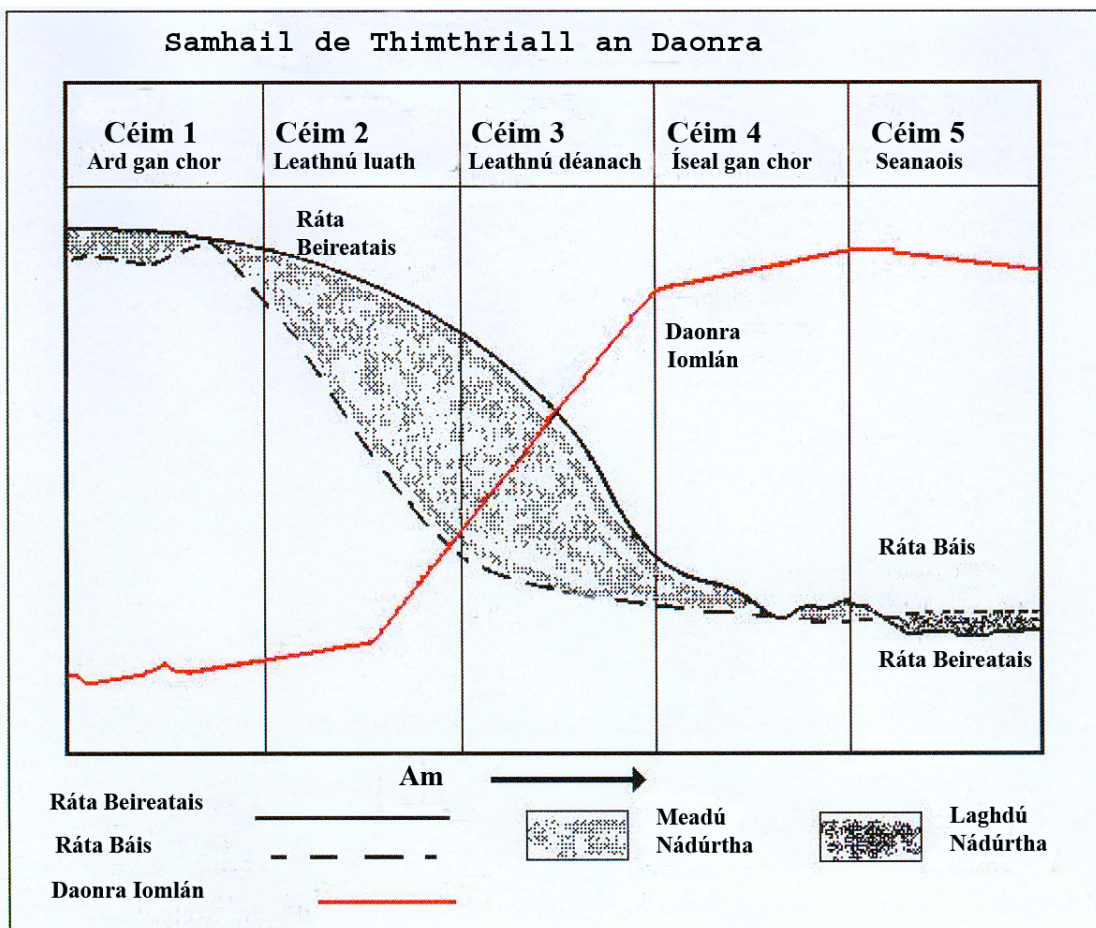
Scrúdaigh an léarscáil de thír Eorpach.



Taispeáin an bhfuil **gach** ceann de na ráitis thíos fíor nó bréagach trí ciorcal a chur thart ar an rogha “Fíor” nó “Bréagach”.

- (i) An tír atá ann ná an Bheilg. *Fíor / Bréagach*
- (ii) Is sampla de pholdar é an ceantar leis an lipéad “X” air. *Fíor / Bréagach*
- (iii) Ritheann Abhainn na Réine siar go ginearálta tríd an tír. *Fíor / Bréagach*

9. ATHRÚ DÉIMEAGRAFACH (TIMTHRIALL AN DAONRA)



Scrúdaigh an léaráid . Ansin léigh na ráitis thíos. Níl na ráitis go léir fíor.

1. Taispeánann an léaráid go mbíonn rátaí beireatais i gcónaí níos airde ná rátaí báis.
2. Taispeánann an léaráid go bhfuil fás an daonra mall i gCéim 1.
3. Taispeánann an léaráid go bhfuil an daonra ag laghdú i gCéim 5.
4. Taispeánann an léaráid go bhfuil titim thapaidh i rátaí beireatais i gCéim 1.
5. Taispeánann an léaráid go bhfuil an daonra ag fás go tapaidh i gCéim 2.

Is iad na ráitis cearta ná:

Cuir tic (✓) sa bhosca ceart.

1, 2, 4

2, 3, 5

2, 3, 4

3, 4, 5

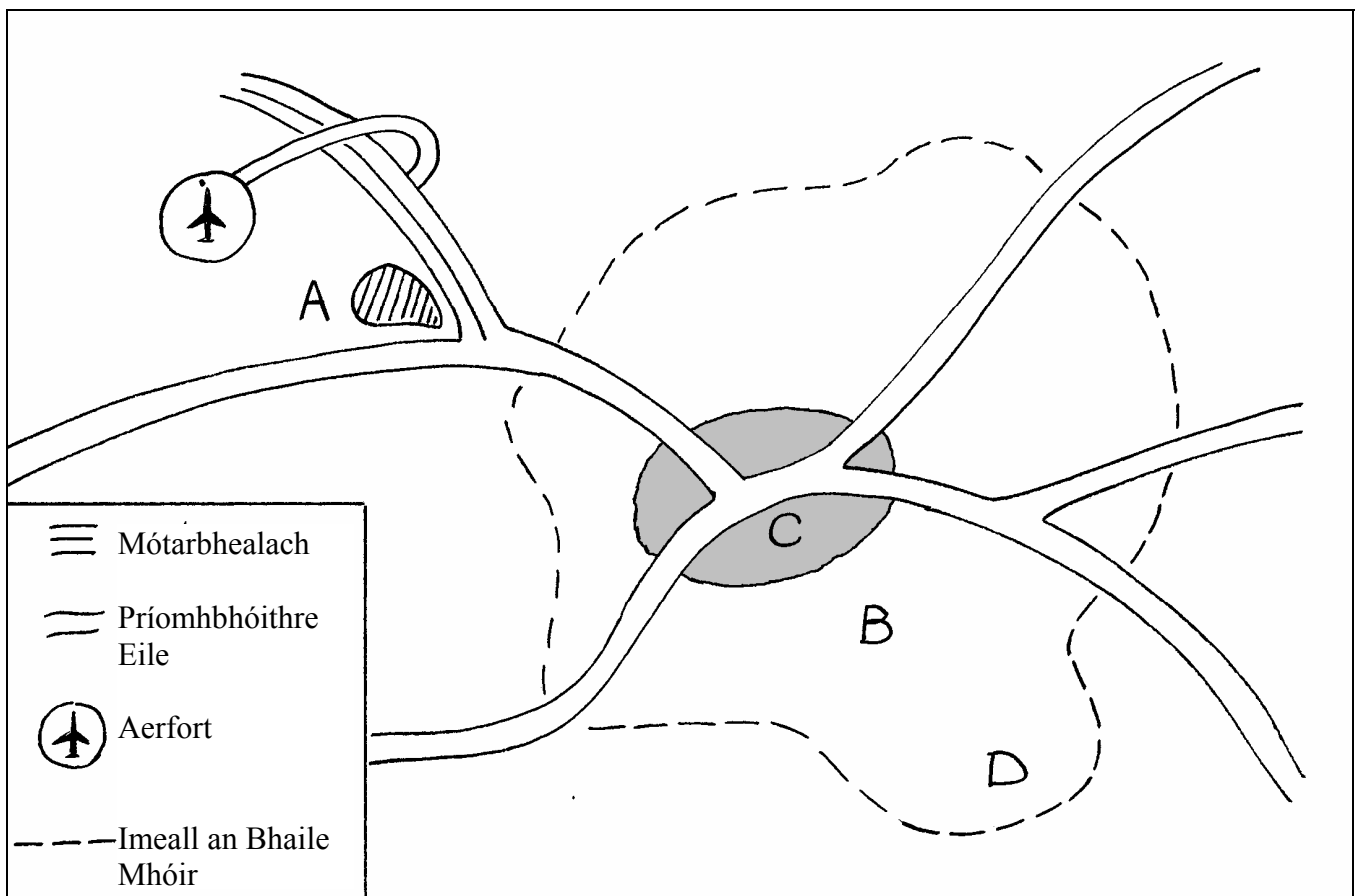
10. TÍREOLAÍOCHT UIRBEACH

Taispeáin cé acu an bhfuil **gach** ceann de na ráitis thíos fíor nó bréagach trí chiorcal a chur thart ar an rogha “Fíor nó “Bréagach.”

- (i) Bíonn ar a laghad dhá oiread an daonra ag **cathair phríomha** thar aon chathair eile i dtír. *Fíor / Bréagach*
- (ii) **Bustaí** is ea plódcheantar i gcathair i dtír i mbéal forbartha. *Fíor / Bréagach*
- (iii) Is daoine iad **comaitéirí** a thaistealaíonn turais fhada ar obair gach lá. *Fíor / Bréagach*

11. CRIOSANNA FEIDHME UIRBEACHA

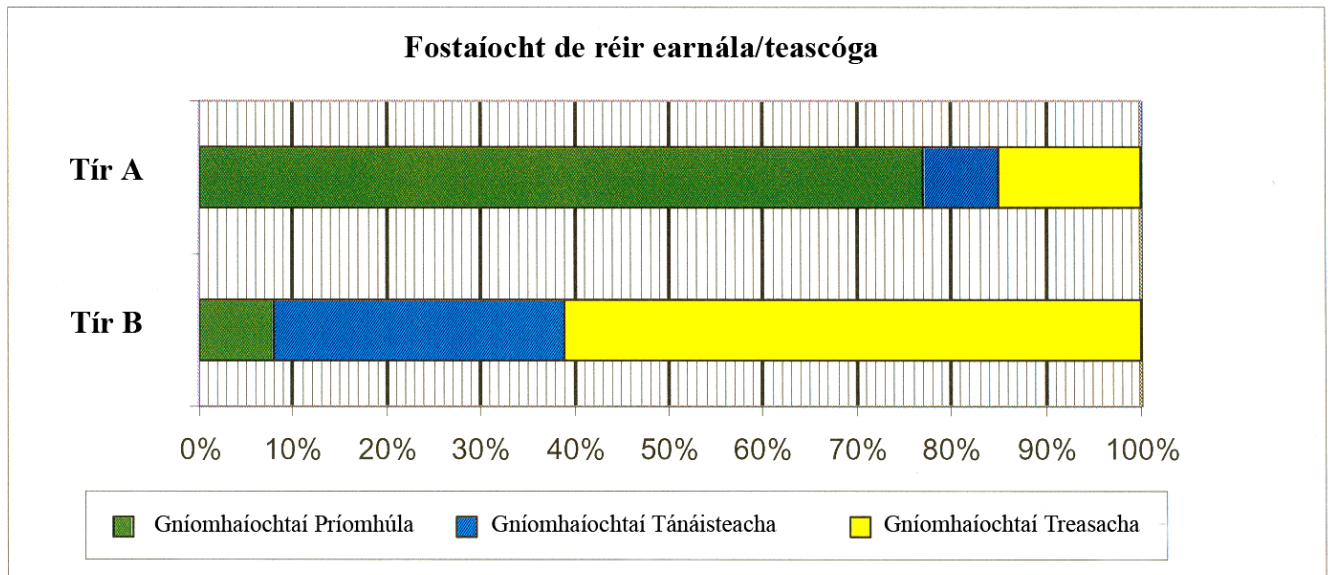
Sa sracléarscáil tá ceithre chrios feidhme, le lipéid orthu, i mbaile mór samhailteach in Éirinn.



Meatseáil **gach** ceann de na lipéid **A-D** ar an léarscáil leis an bpéire a théann leis ó na ceithre Chrios Feidhme atá ar an liosta sa tábla thíos. Tá péire amháin déanta duit.

Crios Feidhme	Lipéad a théann leis (litir)
C.B.D.	
Sean-cheantar cónaithe (tithíocht)	
Ceanntar cónaithe nua	
Eastát tionsclaíoch	A

12. GNÍOMHAÍOCHTAÍ EACNAMAÍOCHA



Taispeánann na léaráidí céatadán fostaíochta de réir earnála i dTír A (tír atá go mall i mbéal forbartha) agus i dTír B (tír fhorbartha). Baineann na ráitis thíos leis na léaráidí. Níl na ráitis go léir ceart.

1. Tá furmhór na n-oibrithe i dTír A fostaithe i ngníomhaíochtaí príomhúla.
2. Tá fostaíocht i ngníomhaíochtaí tánaisteacha ag níos mó ná 10% de na hoibrithe i dTír A.
3. Tá fostaíocht i ngníomhaíochtaí tánaisteacha agus treasacha (le chéile) ag níos mó ná 90% den lucht oibre i dTír B.
4. Tá fostaíocht i ngníomhaíochtaí tánaisteacha (ina aonar) ag céatadán níos mó de na hoibrithe i dTír B ná mar atá i ngníomhaíochtaí tánaisteacha agus treasacha (le chéile) i dTír A.
5. Tá fostaíocht i ngníomhaíochtaí tánaisteacha ag 39% den lucht oibre i dTír B.

Is iad na ráitis **cearta** ná:

Cuir tic (✓) sa bhosca ceart.

1, 3, 4

2, 3, 4

1, 3, 5

3, 4, 5

FREAGAIR 13A NÓ 13B

13A. AERÁID

Scrúdaigh Tábla na bhFigúirí, a bhaineann le teocht agus frasaíocht i gCathair Saidhbhín, Co. Chiarraí



Mí	E	F	M	A	B	M	I	L	MF	DF	S	N
Teocht (°C)	5	7	9	11	12	14	15	16	14	11	9	6
Frasaíocht (mm)	92	117	56	19	45	35	23	20	40	75	98	102

(i) Cad é an mheánteocht mhíosúil do na míonna Nollaig, Eanáir agus Feabhra le chéile?

(ii) Ainmnigh an mhí, a bhfuil an fhrasaíocht is lú aige _____

NÓ

13B. TOMHAS AIMSIRE



Scrúdaigh na gléasanna aimsire le lipéid A, B agus C orthu. Léigh na ráitis thíos. Níl na ráitis go léir ceart.

1. An gléas le lipéad A air is ea baraiméadar.
2. Úsáidtear an gléas le lipéad B air chun teocht a thomhas.
3. Coimeádtar an gléas le lipéad B air de ghnáth i Scáthlán Stevenson.
4. An gléas le lipéad C air is ea ainéimiméadar agus tomhaiseann sé luas na gaoithe.
5. An gléas le lipéad C air is ea eite ghaoithe agus tomhaiseann sé luas na gaoithe.

Is iad na ráitis cearta ná:

Cuir tic (✓) sa bhosca ceart.

1, 2, 4

2, 3, 4

2, 3, 5

3, 4, 5

FREAGAIR 14A NÓ 14B

14A. FEIRMEOIREACHT MHEASCTHA MAR CHÓRAS

Cé acu díobh seo a leanas a mbeidís **go léir** mar **aschuir** ann d'fheirm mheasctha Éireannach:
Cuir tic (✓) sa bhosca ceart.

Eorna, tarracóir, sicíní, uibheaca

Prátaí, eorna, saothar, talamh

Bainne, sadhlas, fear, aoileach

Foirgnimh fheirme, laonna, sadhlas, olann

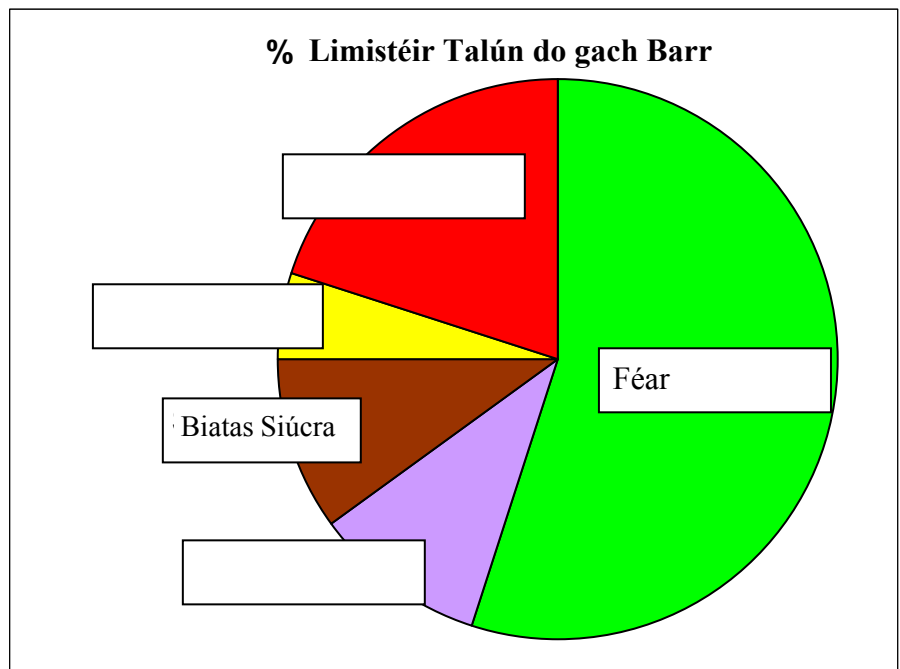
NÓ

14B. ÚSÁID TALÚN I bhFEIRMEOIREACHT MHEASCTHA

Taispeánann an t-eolas sa **tábla** agus sa **phíchart** an % limistéar a thugtar do úsáidí éagsúla talún i bhfeirm mheasctha in Éirinn.

Críochnaigh an **phíchart** leis an ainm de **gach** barr a scríobh ina bhosca ceart.

Barr	% Limistéir
Féar	55
Cruithneacht	20
Biatas Siúcra	10
Eorna	10
Prátaí	5



FREAGAIR 15A NÓ 15B.

15A. TIONSCAL DÉANTÚSAÍOCHTA

Sna boscaí a thugtar, meaitseáil **gach** litir i **gColún X** leis an uimhir dá phéire i **gColún Y**.
Tá péire amháin déanta duit.

Colún X	
A	Caipiteal
B	Gan chuing
C	Tionscal Trom
D	Cistí Struchtúracha

Colún Y	
1	Tionscal a fhéadann a bheith suite i raon leathan áiteanna
2	Déanamh iarainn agus cruach
3	Cuidiú le tionscal trí chabhrú i bhfeabhsú bóithre 7rl.
4	Airgead a bhíonn riachtanach chun tionscal a chur ar bun nó a rith.

X	Y
A	4
B	
C	
D	

NÓ

15B. SUÍOMH TIONSCLÍOCH

D'athraigh tionscal iarainn agus cruach na Breataine a shuíomh i rith na mblianta:
Cuir tic (✓) sa bhosca ceart.

Ó chóstaí go gualcheantair

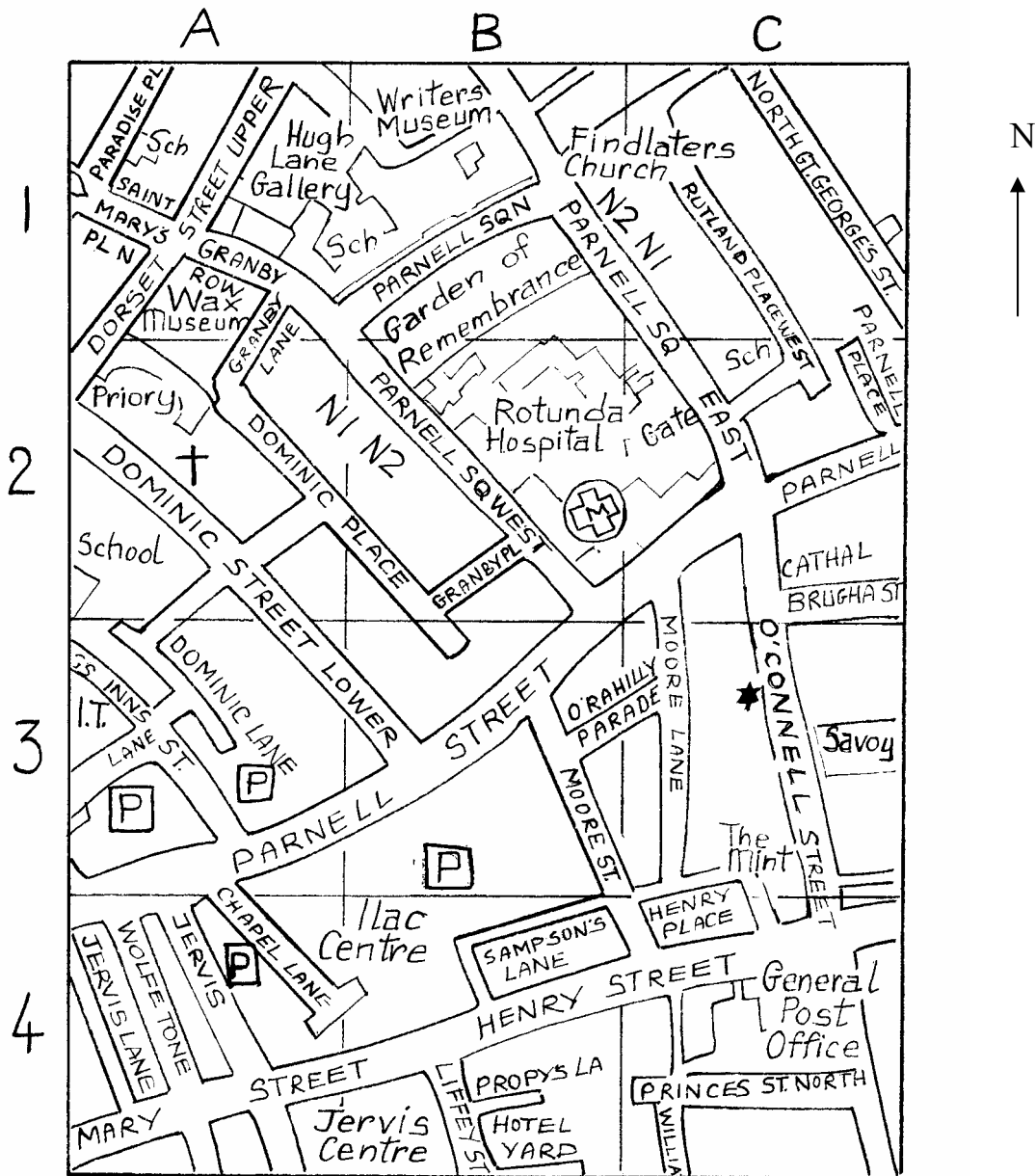
Ó ghualcheantair go limistéir fhoraoise

Ó ghualcheantair go cóstaí

Ó chóstaí go limistéir fhoraoise

16. LÉARSCÁIL SRÁIDE

Scrúdaigh an léarscáil sráide, a thaispeánann cuid de Lár Bhaile Átha Cliath.



Samhlaigh gur iarradh ort an turas seo a leanas a leanúint:

- Siúl feadh Parnell Sq. West (eangach B2) sa treo thoir-theas.
- Cas ar dheis feadh Parnell Street sa treo thiar-theas.
- Ansin téigh isteach sa tsráid ar an dara casadh ar clé.

Cé acu sráid a mbeifeá ann ansin?

Cuir tic (✓) sa bhosca ceart.

Dominic Street Lower

O'Rahilly Parade

Parnell Place

Chapel Lane

17. AERFÓTAGRAF

Déan staidéar ar an aerfótagraf a thugtar.

Cuir ciorcal thart ar an bhfreagra ceart **i ngach** ceann de na ráitis thíos.

- Tá an chuid is mó de na crainn sa chúlionad ar dheis *buaircíneach/duillsilteach*.
- Is *abhainn / canáil* é an t-uiscebhealach sa chúlionad ar clé.
- Is é is dóichí gur tógadh an fótagraf sa *ghreimhreadh/samhradh*.

18. SUIRBHÉIREACHT ORDANÁIS

Déan staidéar ar an léarscáil Suirbhéireachta Ordanáis agus an eochair eolais a thugtar.

Sna boscaí a thugtar, meaitseáil **gach** litir **i gColún X** le huimhir a phéire **i gColún Y**.
Tá péire amháin déanta duit.

Colún X	
A	N 401 541
B	N 453 553
C	N 448 568
D	N 426 587

Colún Y	
1	Crannóg
2	Talamh caomhnaithe an Dúlra (Nature reserve)
3	Loch
4	Créfort

X	Y
A	
B	
C	
D	3

19. SUIRBHÉIREACHT ORDANÁIS

Déan staidéar ar an léarscáil Suirbhéireachta Ordanáis agus an eochair eolais a thugtar.

Is é **an treo** ón Picnic Site ag N 420 585 go dtí Talamh Caomhnaithe an Dúlra (nature reserve) ag N 426 587 ná:

Cuir tic (✓) sa bhosca ceart.

Thoir-thuidh

Thiar-thuidh

Thoir-theas

Thiar-theas

20. SUIRBHÉIREACHT ORDANÁIS

Is é an gréasán lonnaíochta tuaithe laistigh den chearnóg eangaí N 47 55 ná:

Cuir tic (✓) sa bhosca ceart.

Líneach sa chuid is mó

Scaipthe sa chuid is mó

Cnuasta sa chuid is mó

Cuid de scaipthe agus de cnuasta

Leathanach Bán

Leathanach Bán