



Coimisiún na Scrúduithe Stáit

SCRÚDÚ AN TEASTAIS SHÓISEARAIGH, 2005

TÍREOLAÍOCHT - ARDLEIBHÉAL

DÉ LUAIN, 13 MEITHEAMH - TRÁTHNÓNA, 1.30 GO 3.30

ROINN 2 (90 MARC)

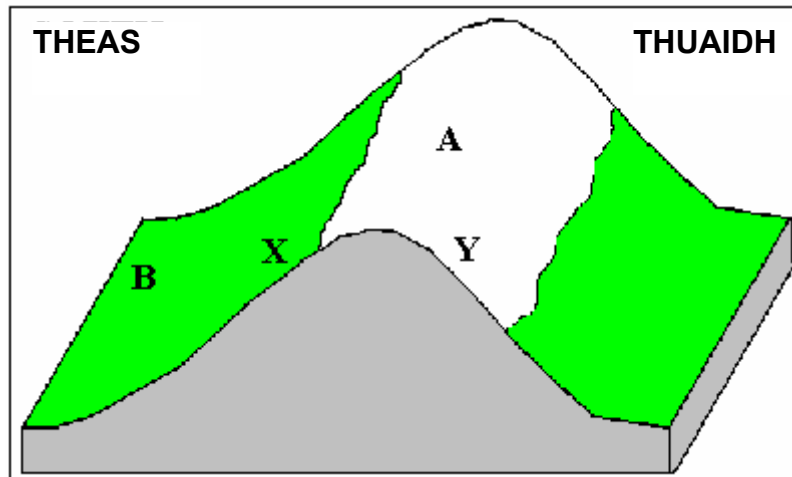
Freagair TRÍ cheist.

Tá **Roinn 1** den pháipéar seo ar fhilleán ar leithligh mar a bhfuil spásanna le haghaidh do chuid freagraí. Cuimhnigh le do thoil go gcaithfear an fillteán a thabhairt ar ais le do fhreagarleabhar.

1. AERÁID AGUS TURASÓIREACHT

A “Féadann tionchar a bheith ag Airde agus Treoíocht (Aspect) ar aeráid aitiúil limistéir.”

Scrúdaigh an léaráid thíos agus freagair na ceisteanna a leanann é..

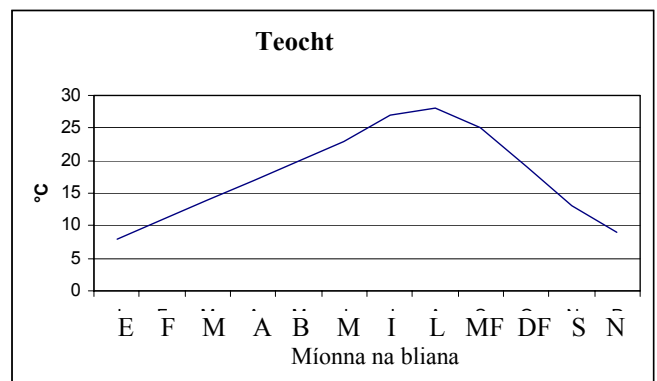
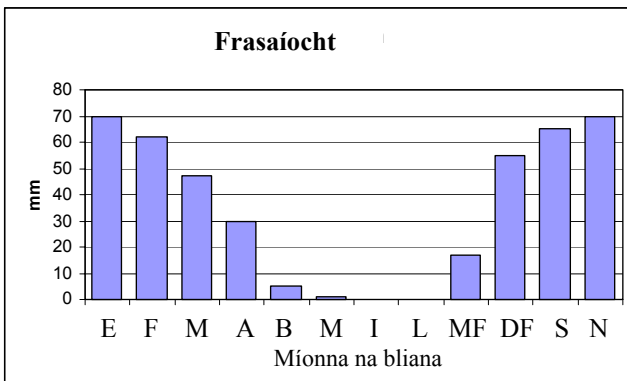


- (i) Mínigh cúis **amháin** cén fáth gur dóichí go bhfuil an áit le lipéad **A** air níos fuair ná an áit le lipéad **B** air.
- (ii) Mínigh cúis **amháin** cén fáth gur dóichí go bhfuil an áit le lipéad **X** air níos teo ná an áit le lipéad **Y** air.

(8)

B. “Bíonn réigiúin áirithe tarraingteach do thurasóirí de bharr na haeráide acu.”

Scrúdaigh na graif thíos, a thaispeánann figiúirí frasaíochta agus teochta do réigiún turasóireachta tarraingteach san Eoraip. Freagair na ceisteanna a leanann iad.



- (i) Déan cur síos ar **dhá** shlí ina dtarraingeodh an aeráid seo turasóirí.
- (ii) Ainmnigh an cineál aeráide atá ann.
- (iii) Ainmnigh tír **amháin** san Eoraip a bhfuil an aeráid seo le fáil ann.

(10)

C. “Féadann turasóireacht ar scála mór fadhbanna móra a chruthú do réigiúin bhroidiúla turasóireachta”.

Déan cur síos ar **thrí** fhadhb a bhaineann le turasóireacht ar scála mór.

(12)

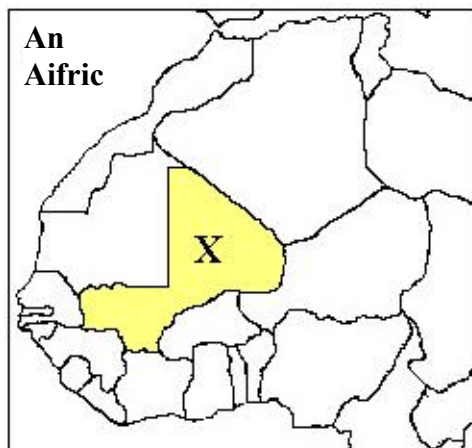
2. LONNAÍOCHT AGUS PLEANÁIL UIRBEACH

A. Mínigh conas a bhíonn tionchar ag **dhá** cheann ar bith de na gnéithe seo a leanas ar dhlúis dhaonra ar fud an domhain:

- Ithreacha
- Rilíf (an cruth atá ar dhromchla na talún)
- Saibhreas Mianra

(8)

B. Scrúdaigh an léarscáil thíos, a thaispeánann cuid den Afraic Thuaidh. Freagair na ceisteanna a leanann é.



Tá dlús daonra daonna an-íseal ag an tír marcáilte X ar an léarscáil.

- Ainmnigh an tír marcáilte X.
- Déan cur síos ar **dhá** fhadhb a **chruthaíonn** dlús daonra íseal agus a bhfuil tionchar acu ar an tír marcáilte X ar an léarscáil. (10)

C. “**Athnuachan Uirbeach, Athfhorbairt Uirbeach** agus **Bailte Móra Nua**: baineann pleanálaithe úsáid astu go léir chun fadhbanna saoil nua-chathrach a laghdú.”

- Scrúdaigh an sliocht ó nuachtán a thugtar anseo agus abair an dtagraíonn sé do Athnuachan Uirbeach nó do Athfhorbairt Uirbeach.

Tá Bardas Bhaile Átha Cliath ag iarraidh a áiteamh ar dhaoine in áiteanna as ceantar sean-líbeartaí na hionchathrach gan a sean-chomharsanachtaí a thréigean. Agus é seo i gceist, tá an Bardas ag athchóiriú a lán tithe agus tá seirbhísí nua pobail á soláthar sa cheantar.

- Déan cur síos gairid ar dhifriocht **amháin** idir Athnuachan Uirbeach agus Athfhorbairt Uirbeach.
- Ainmnigh aon Bhaile Mór Nua **ar bith** in Éirinn.
- Déan cur síos gairid ar **dhá** ghné thipiciúil den Bhaile Mór Nua seo.

(12)

3. ACMHAINNÍ NÁDÚRTHA AGUS DAOINE

- A. Scrúdaigh Pictiúr A agus Pictiúr B, a thaispeánann dhá **chineál carraige** éagsúla in Éirinn. Freagair na ceisteanna a leanann iad.

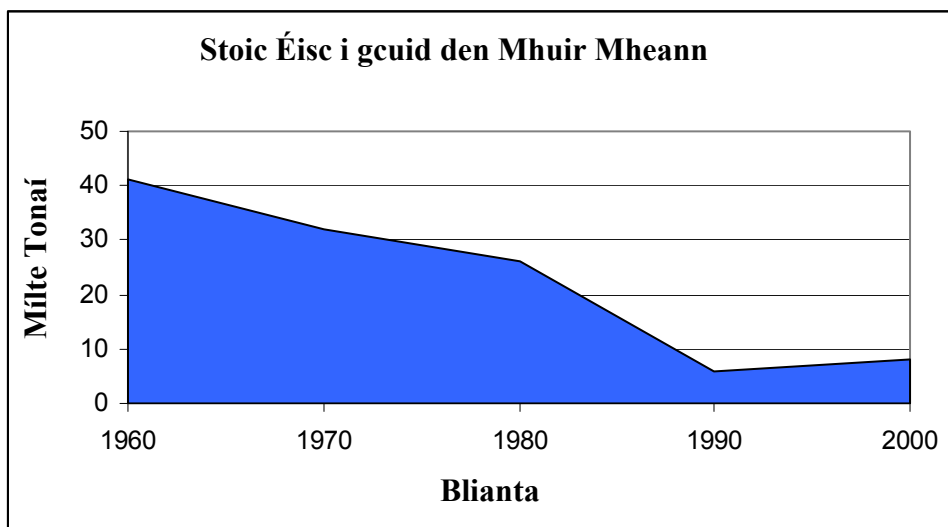


Pictiúr B -An Boireann

Pictiúr A – Clochán An Aifir

- (i)
- Ainmnigh an cineál carraige a thaispeántar i **Pictiúr A** agus an cineál carraige a thaispeántar i **Pictiúr B**.
 - Cuir in iúl, faoi **gach** ceann de na cineálacha carraige a ainmníonn tú, cé acu iad: bruthcharraig, carraig dhríodair nó carraig mheitheamorfach
- (ii) Déan cur síos ar **dhá** shlí a mbainfeadh daoine úsáid eacnamaíoch as carraigeacha. (12)
- B. Féach arís ar Pictiúr B den Bhoireann. Mínigh go hiomlán conas a dhéanann uisce báistí síonchaitheamh ar an gearraig a thaispeántar sa phictiúr seo. (8)

- C. Scrúdaigh an graf, a thaispeánann go bhfuil **stoic éisc** éirithe ídithe le blianta anuas i gcuid den Mhuir Mheann. Freagair na ceisteanna a leanann é.



- (i) Ríomh laghdú na stoc éisc a thaispeántar idir 1960 agus 1990.
- (ii) Déan cur síos ar **dhá** chúis ar féidir a thabhairt do ídiú na stoc éisc sna farraigí timpeall ar Éirinn. (10)

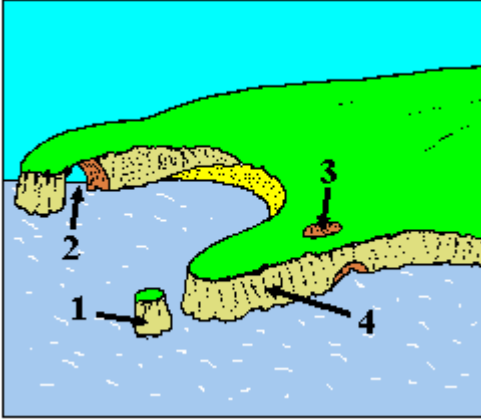
4. MEASCÁN TÍREOLAÍOCH

Freagair TRÍ CINN AR BITH de na ceisteanna A – D thíos.

- A. Freagair na ceisteanna faoi **Chreimeadh Farraiige NÓ** na ceisteanna faoi **Oighearchreimeadh**.

Creimeadh Farraiige.

Scrúdaigh an léaráid a thaispeánann roinnt gnéithe cósta. Freagair na ceisteanna a leanann é.

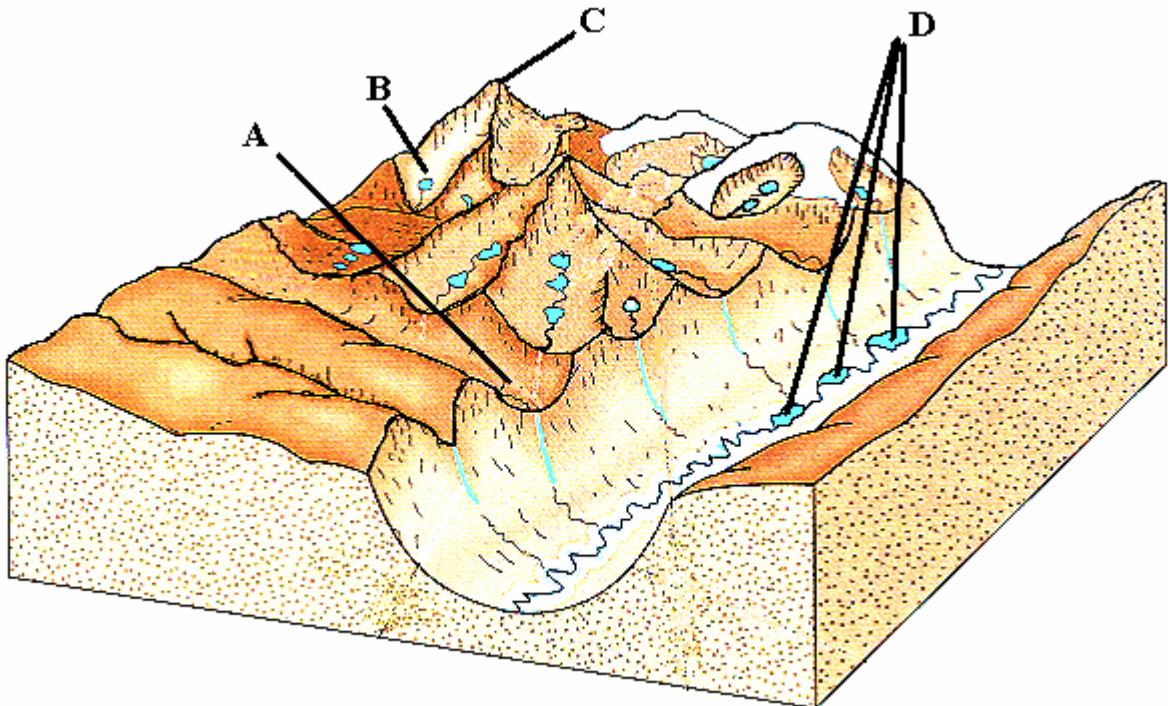


- (i) Ainmnigh na **ceithre** ghné de chreimeadh farraiige le lipéid **1 – 4** orthu sa léaráid.
- (ii) Déan cur síos ar **dhá** phróiseas (dhá shlí) ina gcreimeann na tonnta an cósta. (10)

NÓ

Oighearchreimeadh

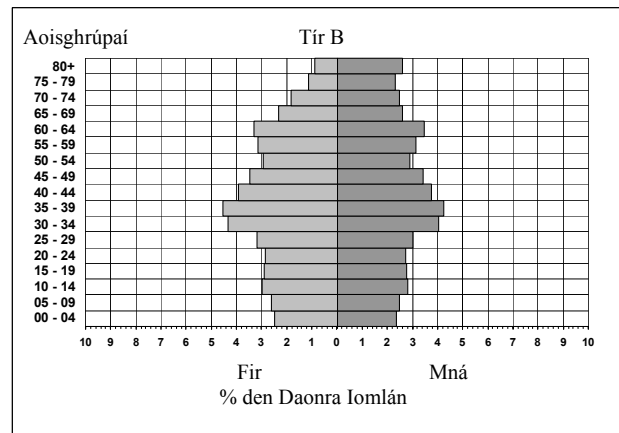
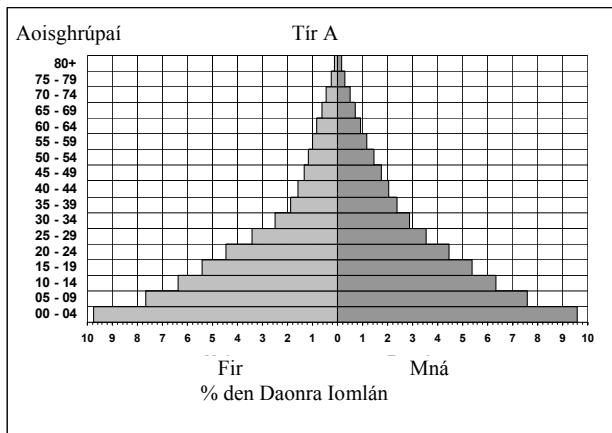
Scrúdaigh an léaráid a thaispeánann roinnt gnéithe oighriúcháin. Freagair na ceisteanna a leanann é.



- (i) Ainmnigh na **ceithre** ghné oighriúcháin le lipéid **A – D** orthu sa léaráid.
- (ii) Déan cur síos ar **dhá** phróiseas (dhá shlí) ina bhfuil an tírdhreach creimthe ag oighear-aistriú. (10)

B. Pirimidí Daonra

Scrúdaigh na pirimidí daonra leis na lipéid **Tír A** agus **Tír B** orthu. Taispeánann pirimid amháin an struchtúr daonra de thír i mbéal forbartha agus taispeánann an ceann eile an struchtúr daonra de thír fhorbartha. Freagair na ceisteanna a leanann iad.



- (i) Cé acu tír, **A** nó **B**, an tír fhorbartha?
- (ii) Mínigh **cén fáth** a bhfuil na struchtúir dhaonra, de thíortha i mbéal forbartha agus de thíortha forbartha, chomh héagsúil faoi na cinnteidil seo a leanas:
- Rátaí beireatais
 - Rátaí báis
 - Ionchas saoil
- (10)

C. Imirce Eagraithe

- (i) Ainmnigh sampla **amháin** d'imirce eagraithe idirnáisiúnta.
- (ii) Déan cur síos ar **dhá** chúis cén fáth ar tharla an imirce eagraithe seo.
- (iii) Déan cur síos ar thoradh fadtréimhseach **amháin**, a bhí ag an imirce seo, sa tír cheannphointe.
- (10)

D. Cogadh, Caitheamh Míleata agus Forbairt.

Mínigh **dhá** shlí ina bhfuil forbairt eacnamaíoch coiscthe ag cogadh agus ag airgead atá caite ar airm, i dtír ainmnithe **amháin**, i mbéal forbartha, de do rogha.

(10)

5. SUIRBHÉIREACHT ORDANÁIS AGUS AERFÓTAGFRAF

A. Déan staidéar ar an **Léarscáil Suirbhéireachta Ordanáis** agus an eochair eolais a thugtar.

(i) Cad é an fad, i **line díreach i gciliméadar**, ó mhullach Frewin Hill [171] ag N 377 586 go dtí Talamh Caomhnaithe an Dúlra (Nature Reserve) N 426 587?

(ii) Cad é an fad, i **gCiliméadar**, feadh an bhóthair **R 394** ón eaglais ag N 437 532 go dtí an eaglais ag N 447 584?

(6)

B. Agus gan á úsáid agat ach fianaise ón **Léarscáil Suirbhéireachta Ordanáis**, mínigh **trí** chúis cén fáth a dtarraingeofaí turasóirí go dtí an ceantar a thaispeántar ar an léarscáil.

(12)

C. Tarraing sracléarscáil den cheantar a thaispeántar ar an **Aerfótagraf**. Taispeáin **agus** ainmnigh na gnéithe seo a leanas:

- **Dhá** shráid ag cónascadh
- Eaglais
- Carrchlós
- Cuid de chanáil
- Ceantar de Fhearann Páirce

(12)

Leathanach Bán