

RABHADH

Ní mór duit an páipéar seo a chur ar ais le do fhreagarleabhar,
nó caillfear marcanna.

Scríobh d'Uimhir Scrúdaithe Anseo



Coimisiún na Scrúduithe Stáit

SCRÚDÚ AN TEASTAIS SHÓISEARAIGH, 2004

TÍREOLAÍOCHT -ARDLEIBHÉAL

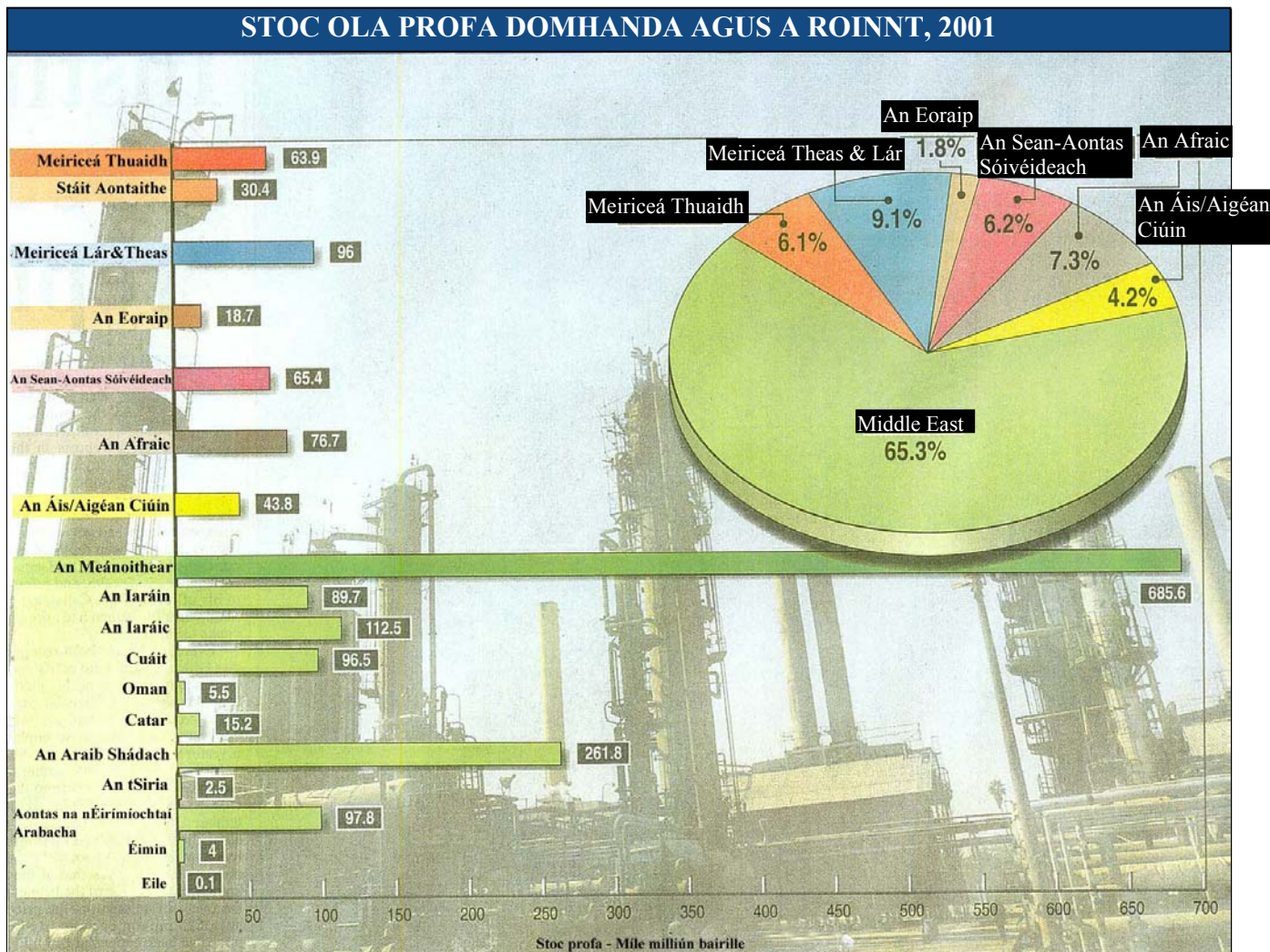
ROINN 1 - FILLTEÁN

DÉ LUAIN 14 MEITHEAMH - TRÁTHNÓNA, 1.30 go 3.30

ROINN 1 (60 MARC)

Caithfear tabhairt faoi **gach** ceist.
Tá rogha agat *laistigh* de thrí cheist.
Déan deimhin de an fillteán seo a chur ar ais
le do fhreagarleabhar.
Mura ndéanann tú sin, caillfidh tú marcanna.

1. ACMHAINNÍ OLA DOMHANDA



Léigh na ráitis thíos. Níl na ráitis go léir fíor.

1. Tá 65.3% den stoc ola profa ag an Meánoithear.
2. Tá an % is lú den stoc ola profa ag an Eoraip.
3. Tá % níos lú de stoc ola ag Meiriceá Thuaidh, Theas agus Lár ná mar atá ag an sean-Aontas Sóivéideach.
4. Tá 261.8 míle milliún tona de stoc ola ag An Araib Shádach.
5. Tá níos lú de stoc ola ag an Iaráic ná ag na Stáit Aontaithe.

Tá na ráitis atá ceart uimhrithe thíos.

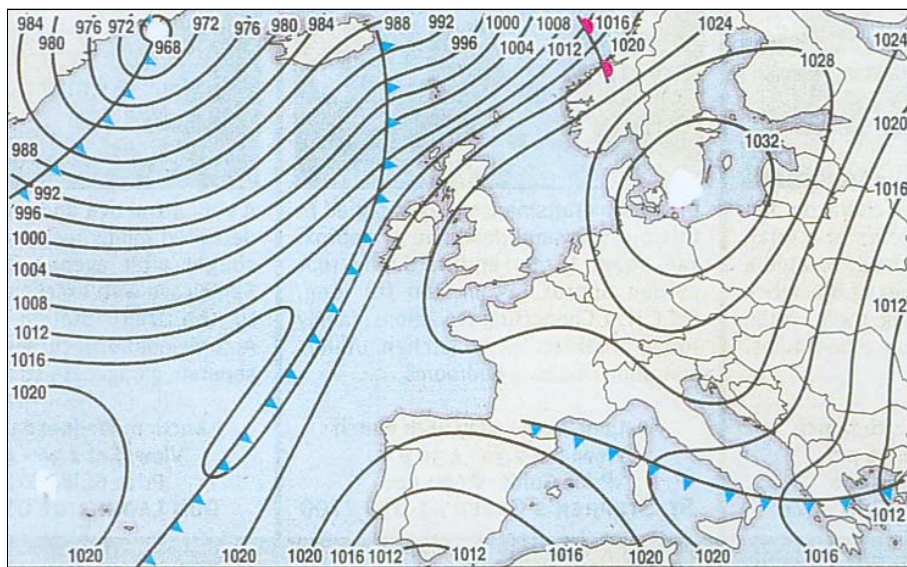
Cuir tic (✓) sa bhosca ceart.

- | | | | |
|---|---|---|--------------------------|
| 1 | 2 | 3 | <input type="checkbox"/> |
| 2 | 4 | 5 | <input type="checkbox"/> |
| 1 | 3 | 5 | <input type="checkbox"/> |
| 1 | 2 | 4 | <input type="checkbox"/> |

2. LÉARSCÁIL AIMSIRE

Scrúdaigh an léarscáil aimsire agus freagair na ceisteanna thíos:

- (i) **Cuir isteach** an focal **ARD** in áit chuí ar an léarscáil.
- (ii) **Ciorclaigh** an focal ceart i **ngach** ceann de na habairtí thíos.
 - ❑ Tá na gaotha siar ó Éirinn **láidir** / **caoin**.
 - ❑ De réir mar a rachaidh an fronta fuar trasna na hÉireann tabharfaidh sé **grian** agus teochta níos airde / **báisteach** agus teochta níos ísle.



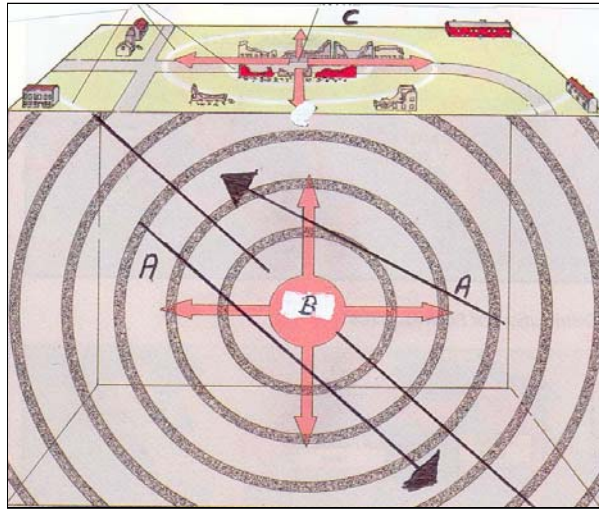
FREAGAIR 3A NÓ 3B

3A. CREATHANNA TALÚN

Scrúdaigh an léaráid thíos a thaispeánann conas a tharlaíonn CRITH TALÚN.

Sa bhosca atá ann, cuir isteach gach ceann de na lipéid A, B, agus C a thaispeántar ar an léaráid lena théarma meaitseála seo a leanas: **FORLÁR**; **FÓCAS**; **PLÁTAÍ IMBHUAILTE**.

TÉARMA	LITIR
Forlár	
Plátaí Imbhualte	
Fócas	



NÓ

3B SÍONCHAITHEAMH

Taispeánann an fótagraf torthaí an tsíonchaitheimh ar leacht poiblí.

Tá sé seo mar thoradh:

Ar Shíonchaitheamh Fisiceach

Ar Shíonchaitheamh Bitheolaíoch

Ar Aimsir Ghriannmhar

Ar Shíonchaitheamh Ceimiceach

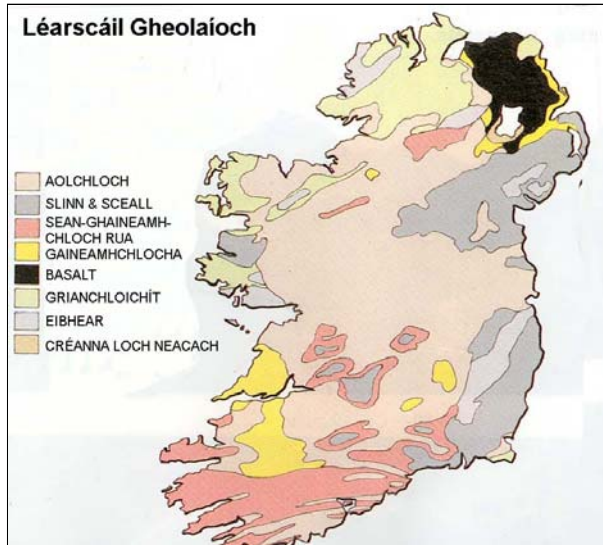
Cuir tic (✓) sa bhosca ceart.



FREAGAIR CEIST 6A NÓ 6B

6A. LÉARSCÁIL GHEOLAÍOCH NA hÉIREANN

Scrúdaigh Léarscáil Gheolaíoch na hÉireann agus freagair na ceistanna a leanann é:



Ainmnigh an **phríomhcharraig** a fhaightear ag na suímh seo a leanas.

Faightear an charraig _____ san OIRTHUAISCEART.

Faightear an charraig _____ go forleathan i LÁR NA TÍRE.

NÓ

6B. PLEAN BHAILE DHÚN NA nGALL

Scrúdaigh plean Bhaile Dhún an nGall agus freagair na ceistanna a leanann é.

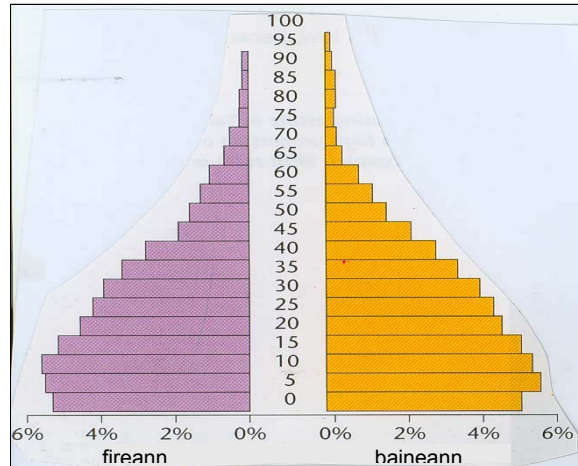


(i) Cén logainm i mbaile Dhún na nGall a thugann le fios gur baile margaidh é seo.

(ii) Aithin píosa fianaise a thugann le fios gur lonnáiocht chosanta a bhí sa bhaile seo tráth.

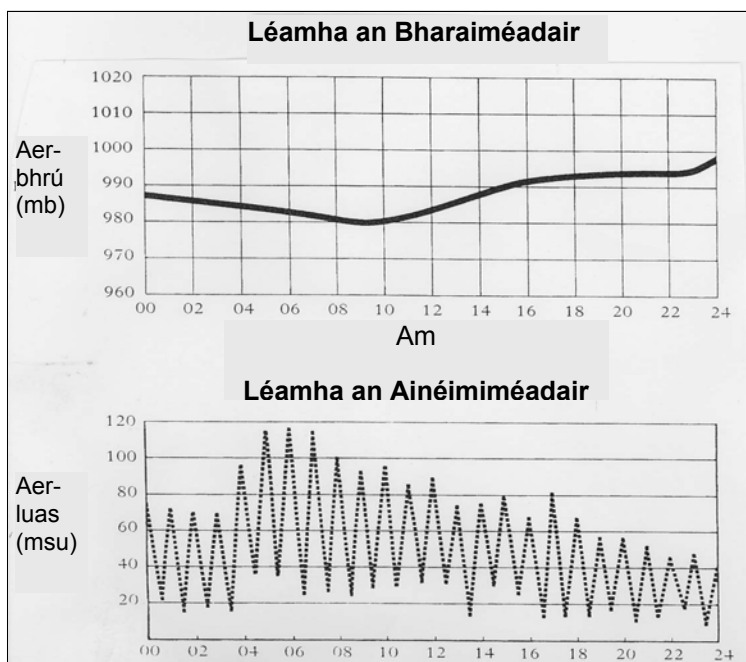
7. STRUCHTÚR DAONRA

Taispeánann an léaráid struchtúr daonra tíre.



- (i) Cén t-ainm a thugtar do léaráid mar seo _____
- (ii) **Ciorclaigh** an freagra ceart i **ngach** ceann de na ceisteanna seo a leanas.
- Tagraíonn an struchtúr daonra seo do **Thír Fhorbartha / do Thír i mbéal Forbartha**.
 - Is é an céatadán den daonra faoi 5 bliana ná **5 % , 10 % , 22 %** .

8. TAIFID AIMSIRE



Léigh na ráitis thíos. Níl siad go léir fíor.

1. Idir 8 r.n agus 10 r.n ba é an tAerbhrú ná 980 milleabar.
2. Idir 4 r.n agus 8 r.n mhéadaigh an tAerluas.
3. Mhéadaigh an tAerluas de réir mar a mhéadaigh an tAerbhrú.
4. De réir mar a thit an tAerbhrú, mhéadaigh an tAerluas.
5. Shroich an tAerluas an pointe is tapúla ag deireadh na tréimhse 24 uair an chloig.

Tá na ráitis cearta uimhrithe thíos. Cuir tic (✓) sa bhosca ceart.

- | | | | |
|---|---|---|--------------------------|
| 1 | 3 | 5 | <input type="checkbox"/> |
| 1 | 2 | 3 | <input type="checkbox"/> |
| 1 | 2 | 4 | <input type="checkbox"/> |
| 3 | 4 | 5 | <input type="checkbox"/> |

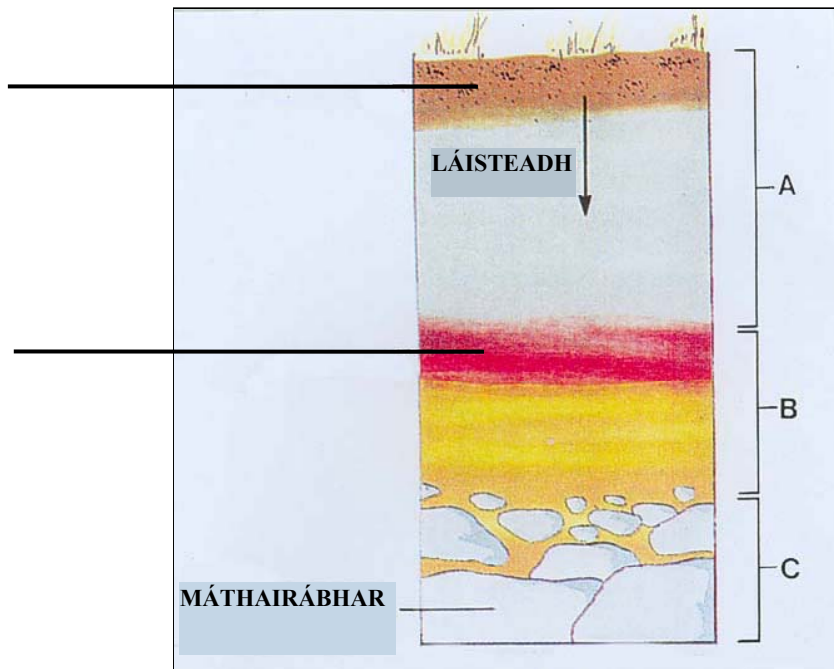
9. SUÍOMH TIONSCLAÍOCH

Mol *trí* chúis go bhfuil Éire mar shuíomh tarraingteach do Chomhlachtaí Ilnáisiúnta.

- A. _____
- B. _____
- C. _____

10. ITHIR

Taispeánann an léaráid Ithirphróifil de ithir atá Láiste.



- ❑ Cuir isteach na focail **HÚMAS** agus **CRUA-CHISEAL** ag an áit chuí ar na línte atá ann.
- ❑ **Ciorclaigh** an freagra ceart san abairt thíos:

Is é a thugtar ar an saghas seo ithreach ná **Donnithir / Podsal**.

FREAGAIR 11A NÓ 11B

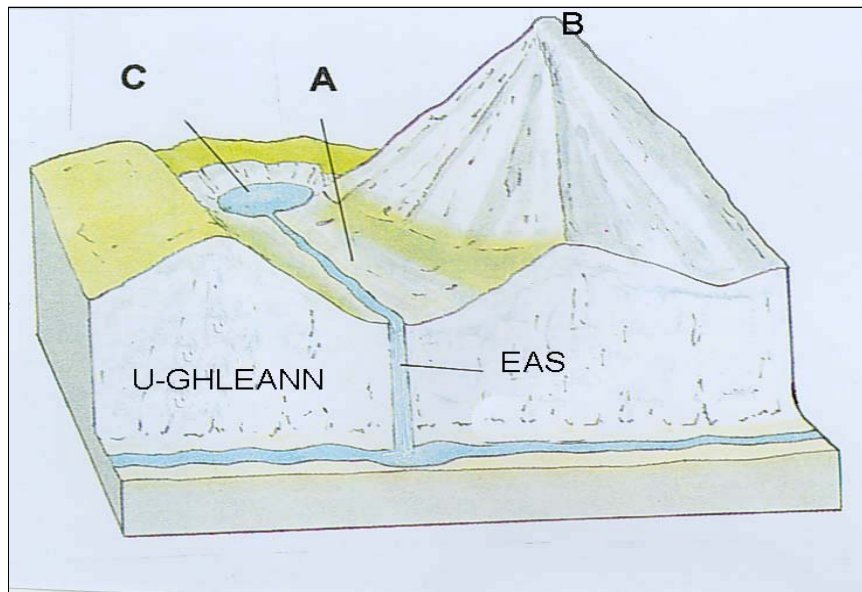
11A. GNÉITHE OIGHRIÚCHÁIN

Taispeánann an léaráid limistéar ardtalún a bhí Oighrithe.

Sa bhosca atá ann, cuir isteach gach ceann de na lipéid A, B agus C a thaispéantar ar an léaráid lena théarma meaitseála:

Coire, Gleann Crochta agus Adharc.

TÉARMA	LITIR
Coire	
Gleann Crochta	
Adharc	



NÓ

11B. GNÉITHE AN CHÓSTA

Déan staidéar ar an bhfótagraf de thírghnéithe chósta.



Tógadh an fótagraf seo i 1984.

Taispeánann an sceitse líne an chósta céanna sa bhliain 2001.

- ❑ *Ainmnigh na gnéithe chósta marcáilte A agus B.*

A _____ B _____

- ❑ *Ar an sceitse, ainmnigh an ghné C.*




B

12. BÁISTEACH

Is é an saghas Báistí a thaispeántar sa léaráid thíos ná:

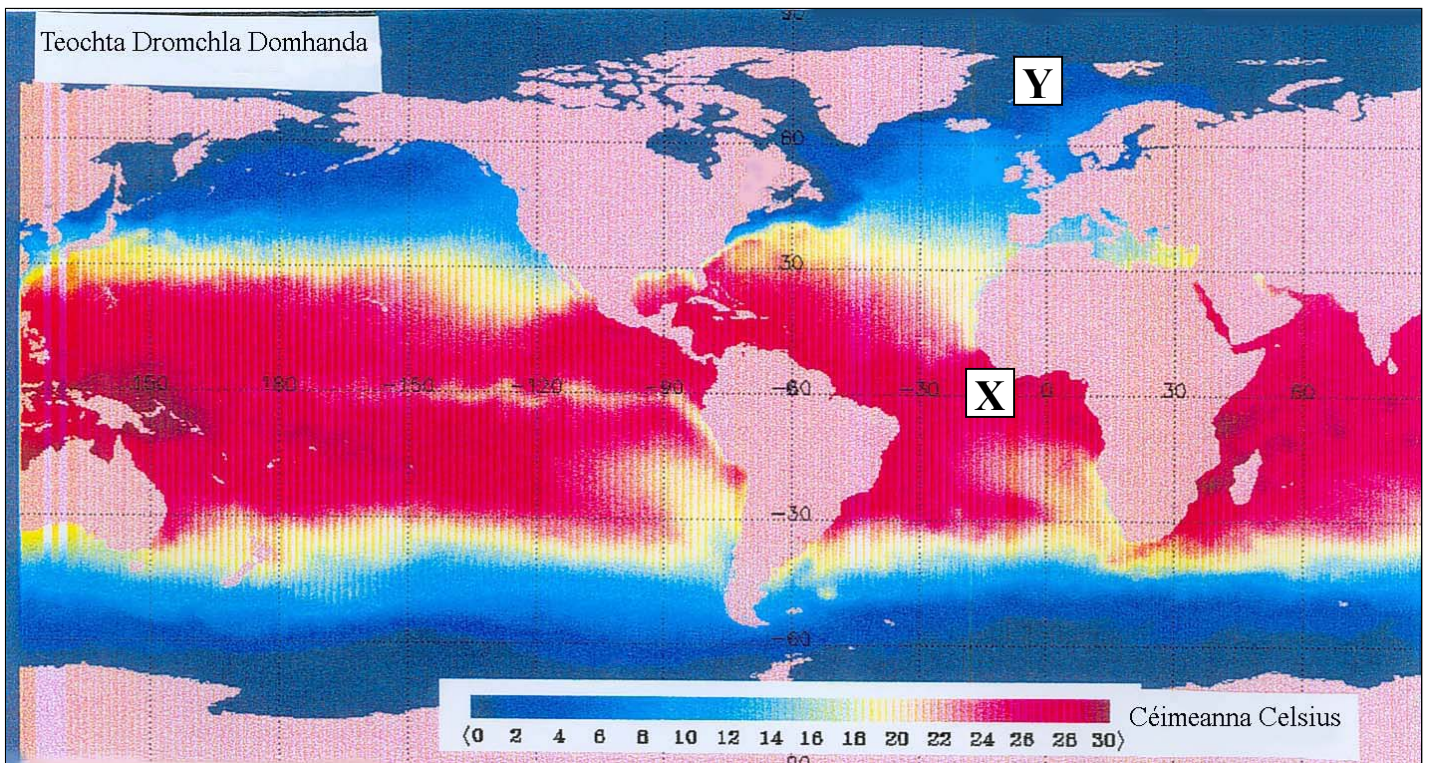
- Báisteach Rilífe
- Báisteach Fhrontach
- Báisteach Éadrom
- Báisteach Chomhiompair

Cuir tic (✓) sa bhosca ceart.



13. TOSCA A IMRÍONN TIONCHAR AR AERÁID

Scrúdaigh an léarscáil de Theochta Domhanda.

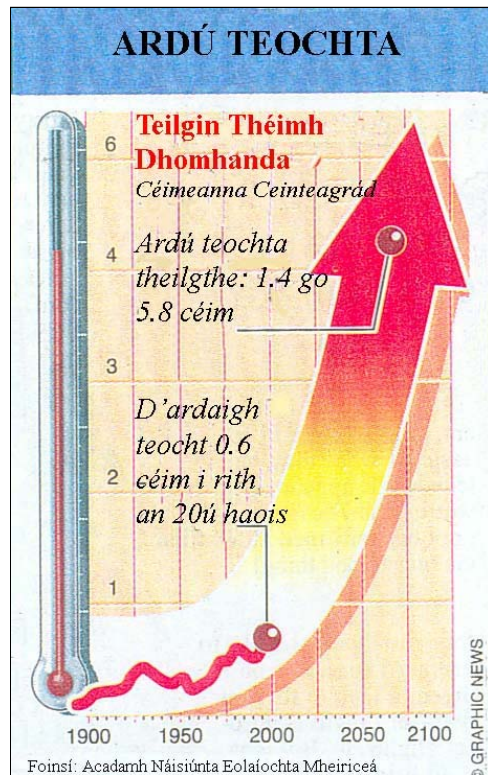


An féidir leat a mhíniú cén fáth a bhfuil na farraigí ag X níos teo ná na farraigí ag Y?

Freagra _____

14. TÉAMH DOMHANDA

Scrúdaigh an léaráid “Ardú Teochta” agus freagair na ceistanna seo a leanas.



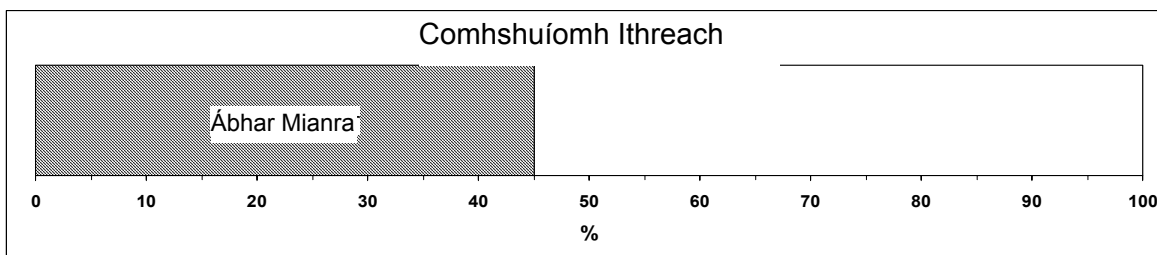
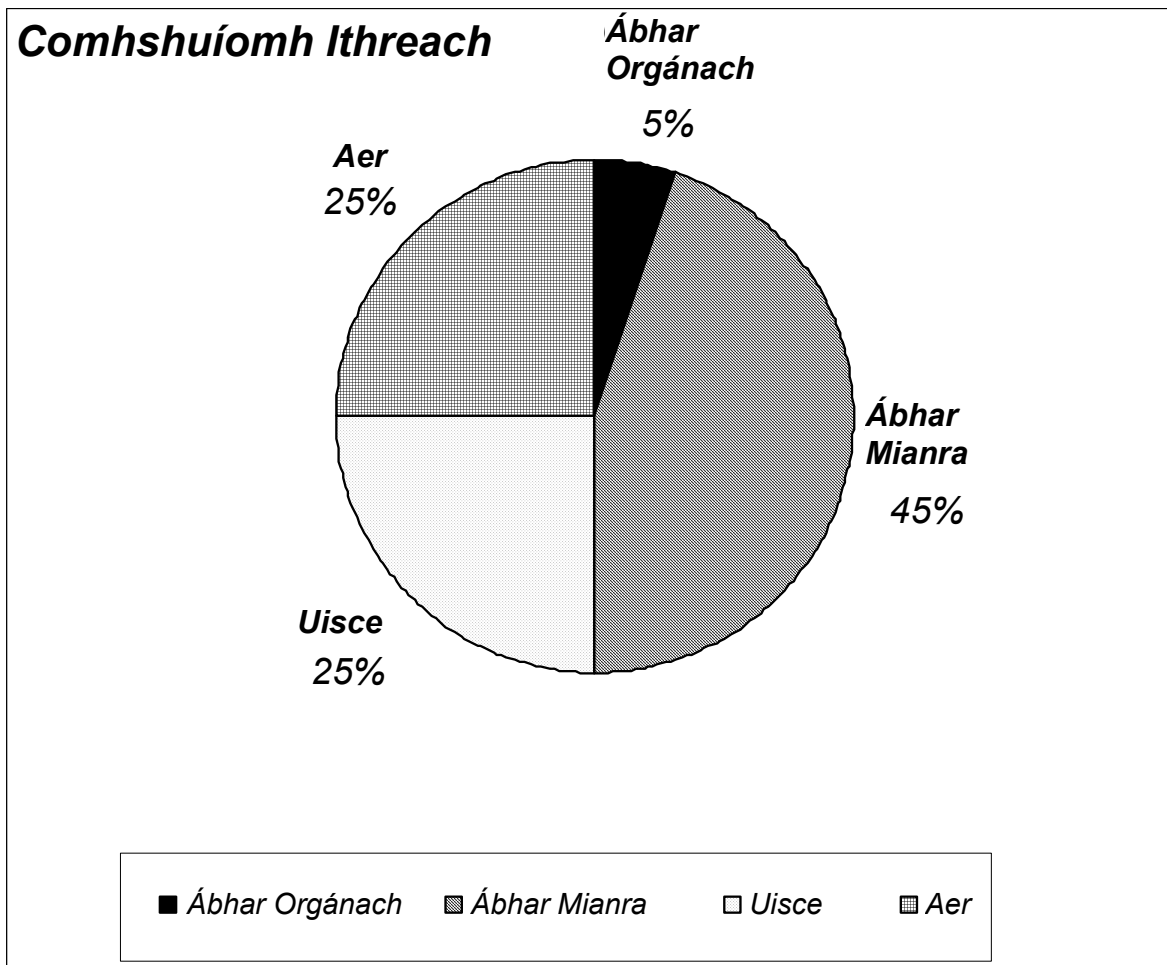
Ciorclaigh an freagra ceart i **ngach** ceann de na habairtí seo a leanas:

- (i) I rith an fichiú haois d'ardaigh teochta **1.4°C / 0.6°C**.
- (ii) Faoin mbliain 2100 táthar ag súil go n-ardóidh teochta idir **0.6°C go 1.4°C / 1.4°C go 5.8°C**.
- (iii) Is é an príomhchúis den Téamh Domhanda ná astú **CO₂/Báisteach Aigéadach**.

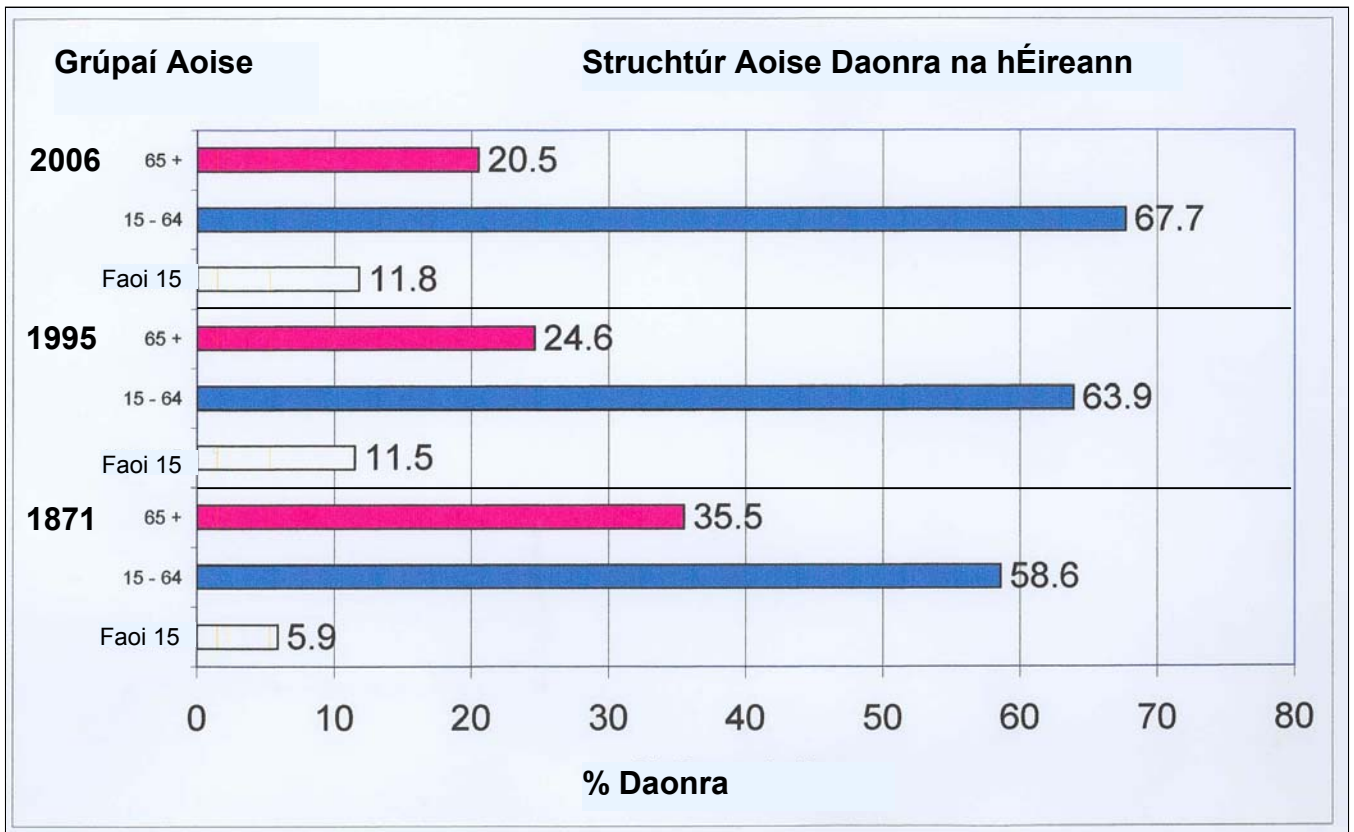
15. SCILEANNA STAITISTICE

Taispeánann an phíchart an Comhshuíomh Ithreach.

Críochnaigh agus cuir lipéid ar an dronuilleog roinnte, ag úsáid an eolais sa phíchart.



16. DAONRA na hÉIREANN



Léigh na ráitis thíos. Níl siad go léir fíor.

1. I 1995 bhí 63.9% den daonra idir 15 agus 64.
2. Faoi 2006 méadóidh % an daonra os cionn 65 bliana i gcomparáid le 1995.
3. Bhí an % os cionn 65 níos mó i 1871 ná i 1995.
4. Bhí méadú ar % an daonra os cionn 65 gach bliain.
5. Bhí an % faoi 15 níos lú i 1871 ná i 1995.

Tá na ráitis cearta uimhrithe thíos.

Cuir tic (✓) sa bhosca ceart.

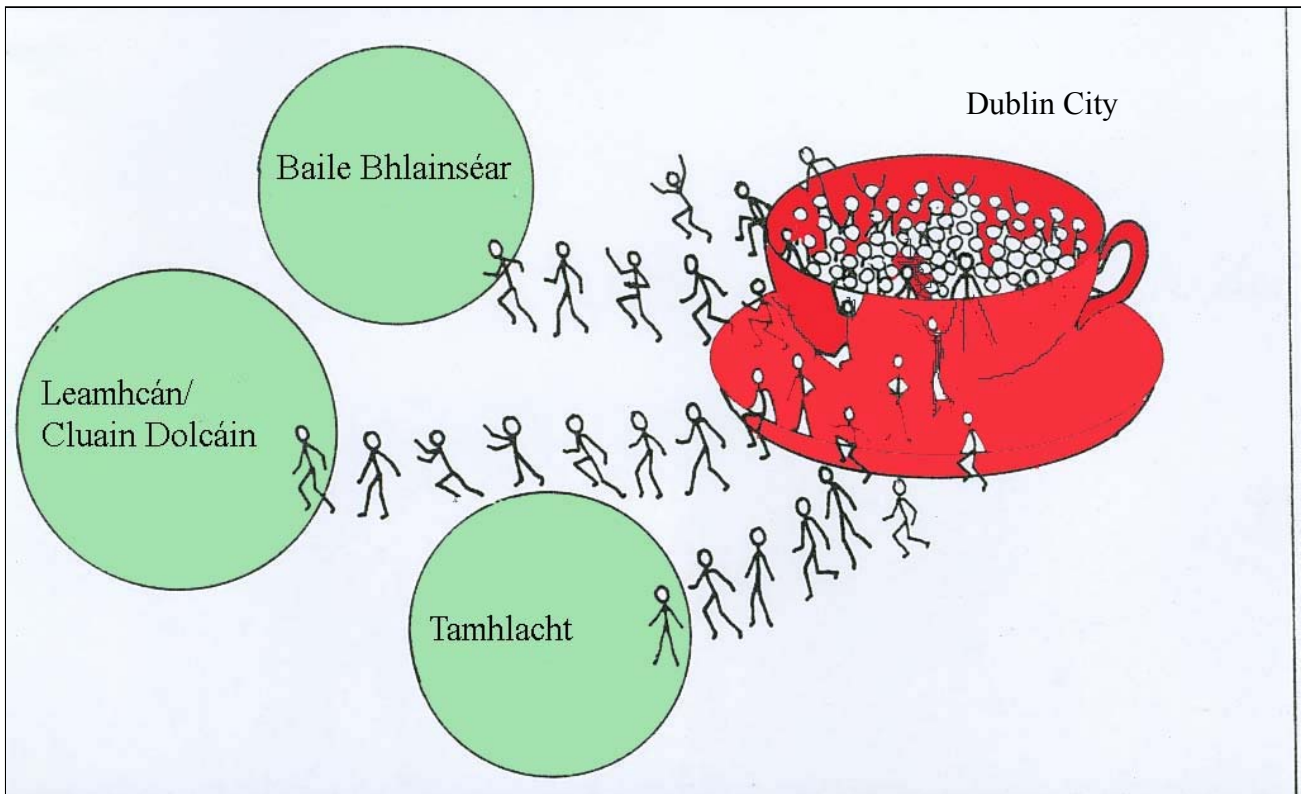
- | | | | |
|---|---|---|--------------------------|
| 1 | 2 | 3 | <input type="checkbox"/> |
| 2 | 4 | 5 | <input type="checkbox"/> |
| 1 | 3 | 5 | <input type="checkbox"/> |
| 1 | 3 | 4 | <input type="checkbox"/> |

17. TÍREOLAÍOCHT UIRBEACH---CARTÚN

Cé acu de na ráitis seo a leanas a chuireann síos is fearr ar an eolas a thaispeántar sa chartún?

- (i) Bíonn cónaitheoirí nua ó limistéir forimeallacha ag déanamh ionradh de shíor ar Chathair Bhaile Átha Cliath
- (ii) Tá Cathair Bhaile Átha Cliath cosúil le logán i gcruth sásair
- (iii) Tógann bailte nua lasmuigh de Bhaile Átha Cliath an sceitheadh daonra ón gcathair
- (iv) Bíonn Tamhlacht de shíor ag íslíú i ndaonra

Cuir tic (✓) sa bhosca ceart.



18. SUIRBHÉIREACHT ORDANÁIS – FAD

Ríomhaigh fad bóthair N59 ón áit a dtagann sé isteach sa léarscáil (G 289 230) go dtí an áit a dtrasnaíonn sé abhainn na Muaidhe ag an droichead (G 249 190)

Is é an fad ná _____ ciliméadar

19. SUIRBHÉIREACHT ORDANÁIS - AIRDE

Sna boscaí atá ann meaitseáil gach litir i gcolún X lena phéire i gcolún Y.

Tá péire amháin líonta isteach duit

Colún X		Colún Y	
A	G 256 146	1.	níos lú ná 10 méadar
B	G 266 154	2.	19 méadar
C	G 222 228	3.	10 méadar
D	G 185 183	4.	níos mó ná 40 méadar

X	Y
A	1
B	
C	
D	

20. SUIRBHÉIREACHT ORDANÁIS

Scrúdaigh abhainn na Muaidhe ar an léarscáil.

(i) *Ciorclaigh an freagra ceart san abairt thíos.*

Tá fianaise ann go bhfuil abhainn na Muaidhe i gcéim **na hÓige** / **Seanaoise**.

(ii) Luaigh **dhá** chúis do do fhreagra.

1. _____

2. _____

Leathanach Bán