

RABHADH

Freagair gach ceist sna spásanna cúí ar an bpáipéar seo.

Scríobh do Scrúduithe anseo.

**Coimisiún na Scrúduithe Stáit****SCRÚDÚ AN TEASTAIS SHÓISEARAIGH, 2016****STAIDEAR IMSHAOIL AGUS SÓISIALTA****GNÁTHLEIBHÉÁL****Dé hAOINE, 10 MEITHEAMH – MAIDIN 9.30-11.30****Treoracha d'iarrthóirí:****Freagair GACH CEANN de na CÚIG cheist laistigh**

- Ceist 1 ar leathanaigh 2, 3, 4 agus 5
Freagair codanna (A), (B) agus (C)
- Ceist 2 ar leathanaigh 6, 7, 8 agus 9
Freagair cuid (A) nó (B)
- Ceist 3 ar leathanaigh 10, 11, 12 agus 13
Freagair cuid (A). Ansin freagair cuid (B) nó (C)
- Ceist 4 ar leathanaigh 14 agus 15
Freagair cuid (A) agus cuid (B)
- Ceist 5 ar leathanach 16
Seiceáil ar dtús an bhfuil an léarscáil agus an t-aerfótagraf agat. Freagair na ceistanna go léir.

Don scrúdaitheoir amháin:

<i>Ceist</i>	MARC
1	
2	
3	
4	
5	
IOMLÁN	
GRÁD	

CEIST 1

24 marc

Freagair GACH ceann de na TRÍ chuid – (A) agus (B) agus (C)

(A) CEISTEANNA ILROGHNACHA

(12 mharc)

Freagair 12 de na ceisteanna seo a leanas. Cuir tic (✓) sa bhosca ceart i ngach cás.

Sampla: Is í an chathair is mó in Éirinn ná:

- | | | | | |
|-----------------------|-------------------------------------|------------------|--------------------------|-----|
| (a) Gaillimh | <input type="checkbox"/> | (b) Béal Feirste | <input type="checkbox"/> | |
| (c) Baile Átha Cliath | <input checked="" type="checkbox"/> | (d) Port Láirge | <input type="checkbox"/> | (1) |

1. Tomhaistear fad in:

- | | | | | |
|----------------|--------------------------|-----------------|--------------------------|-----|
| (a) milleabair | <input type="checkbox"/> | (b) ciliméadair | <input type="checkbox"/> | |
| (c) céatadáin | <input type="checkbox"/> | (d) céimeanna | <input type="checkbox"/> | (1) |

2. Úsáidtear uillinntomhas chun tomhas a dhéanamh:

- | | | | | |
|--------------------|--------------------------|--------------|--------------------------|-----|
| (a) ar chion uisce | <input type="checkbox"/> | (b) ar fhad | <input type="checkbox"/> | |
| (c) ar chéimeanna | <input type="checkbox"/> | (d) ar threo | <input type="checkbox"/> | (1) |

3. Tá Baile Átha Cliath, Corcaigh, Cill Chainnigh, Gaillimh, Luimneach, Sligeach agus Port Láirge ar fad tógtha le hais:

- | | | | | |
|----------------|--------------------------|--------------|--------------------------|-----|
| (a) lochanna | <input type="checkbox"/> | (b) sléibhte | <input type="checkbox"/> | |
| (c) aibhneacha | <input type="checkbox"/> | (d) tráanna | <input type="checkbox"/> | (1) |

4. Is é a bhíonn i 'limistéar foraoisithe' de ghnáth ná:

- | | | | | |
|----------------------|--------------------------|------------------------------|--------------------------|-----|
| (a) mórán crann | <input type="checkbox"/> | (b) mórán tithe | <input type="checkbox"/> | |
| (c) mórán monarchana | <input type="checkbox"/> | (d) mórán oifigí agus siopaí | <input type="checkbox"/> | (1) |

5. Ar léarscáil na Suirbhéireachta Ordanáis, is í an tsiombail do chumann gailf ná:

- | | | | | |
|--------------------|--------------------------|--------------------------|--------------------------|-----|
| (a) triantán dearg | <input type="checkbox"/> | (b) bratach bheag dhearg | <input type="checkbox"/> | |
| (c) réalta ghorm | <input type="checkbox"/> | (d) an litir mhór 'G' | <input type="checkbox"/> | (1) |

6. Is é an t-aigéan atá ar an taobh thiar d'Éirinn ná:

- | | | | | |
|--------------------------|--------------------------|------------------------|--------------------------|-----|
| (a) An tAigéan Atlantach | <input type="checkbox"/> | (b) An tAigéan Indiach | <input type="checkbox"/> | |
| (c) An tAigéan Ciúin | <input type="checkbox"/> | (d) An tAigéan Artach | <input type="checkbox"/> | (1) |


7. Tháinig na Lochlannaigh go hÉirinn:

- | | | | | |
|---------------------------|--------------------------|----------------------|--------------------------|-----|
| (a) ar thraein | <input type="checkbox"/> | (b) de shiúl na gcos | <input type="checkbox"/> | |
| (c) ar chapall agus cairt | <input type="checkbox"/> | (d) ar bhád | <input type="checkbox"/> | (1) |

8. Is é a thaispeánann comhrianta ar léarscáil ná:

- | | | | | |
|----------------|--------------------------|---|--------------------------|-----|
| (a) aibhneacha | <input type="checkbox"/> | (b) seanmhianaigh | <input type="checkbox"/> | |
| (c) cosáin | <input type="checkbox"/> | (d) airde os cionn leibhéal na farraige | <input type="checkbox"/> | (1) |

9. Is minic a fhaightear struchtúr mar seo le hais bhóithre na hÉireann. Úsáidtear é chun:



- | | | | | |
|-------------------------------------|--------------------------|--|--------------------------|-----|
| (a) cabhrú le héin neadú | <input type="checkbox"/> | (b) breith ar dhaoine a bhíonn ag tiomáint róthapa | <input type="checkbox"/> | |
| (c) eolas faoin aimsir a thairfeadh | <input type="checkbox"/> | (d) fótagraif a thógáil d'ulchabháin | <input type="checkbox"/> | (1) |

10. Úsáideadh droichead tógála chun:

- | | | | | |
|------------------------|--------------------------|-------------------------|--------------------------|-----|
| (a) túirín a thrasnú | <input type="checkbox"/> | (b) forbhalla a thrasnú | <input type="checkbox"/> | |
| (c) daingean a thrasnú | <input type="checkbox"/> | (d) díog a thrasnú | <input type="checkbox"/> | (1) |

11. Tháinig na Normannaigh:

- | | | | | |
|---------------------|--------------------------|-------------------------------|--------------------------|-----|
| (a) as an nGearmáin | <input type="checkbox"/> | (b) as an Normainn sa Fhrainc | <input type="checkbox"/> | |
| (c) as Albain | <input type="checkbox"/> | (d) as an Spáinn | <input type="checkbox"/> | (1) |

12. Cé acu díobh seo a leanas atá ina fhoinse cumhachta **IN-ATHNUAITE**?

- | | | | | |
|--------------------|--------------------------|---------|--------------------------|-----|
| (a) gual | <input type="checkbox"/> | (b) gás | <input type="checkbox"/> | |
| (c) grianchumhacht | <input type="checkbox"/> | (d) ola | <input type="checkbox"/> | (1) |

13. Is é an ceantar in Éirinn is mó a raibh tionchar ag an Réabhlóid Thionsclaíoch air ná:

- | | | | | |
|------------------|--------------------------|-----------------------|--------------------------|-----|
| (a) Béal Feirste | <input type="checkbox"/> | (b) Baile Átha Cliath | <input type="checkbox"/> | |
| (c) Luimneach | <input type="checkbox"/> | (d) Corcaigh | <input type="checkbox"/> | (1) |

14. Is é is mó a fhaightear i gceantar feirmeoireachta ná:

- | | | | | |
|--------------|--------------------------|----------------------------|--------------------------|-----|
| (a) lochanna | <input type="checkbox"/> | (b) locháin charraige | <input type="checkbox"/> | |
| (c) trána | <input type="checkbox"/> | (d) talamh feirmeoireachta | <input type="checkbox"/> | (1) |

Féach ar na pictiúir thíos agus freagair na ceisteanna a leanann iad.

Taispeánann na pictiúir seo bruscar timpeall ar lochanna, aibhneacha agus canálacha in Éirinn.



Pictiúir le caoinhead ó Victor Kutischev www.underwater-ireland.com

1. Ainmnigh cineál **AMHÁIN** ábhair atá le feiceáil sna fótagraif thuas agus ar féidir é a athchúrsáil.

(1)

2. Mol bealach **AMHÁIN** le daoine a spreagadh chun a gcuid bruscair a chur in araid bhruscair nó é a thabhairt abhaile leo.

(1)

3. Cén fáth a bhfuil sé chomh dainséarach sin don timpeallacht bruscar a chaitheamh san uisce nó in aice leis an uisce?

(4)

CEIST 2

24 marc

Freagair cuid (A) nó (B)

(A) PLANDÁIL IN ÉIRINN SA 17ú hAOIS

(24 marc)

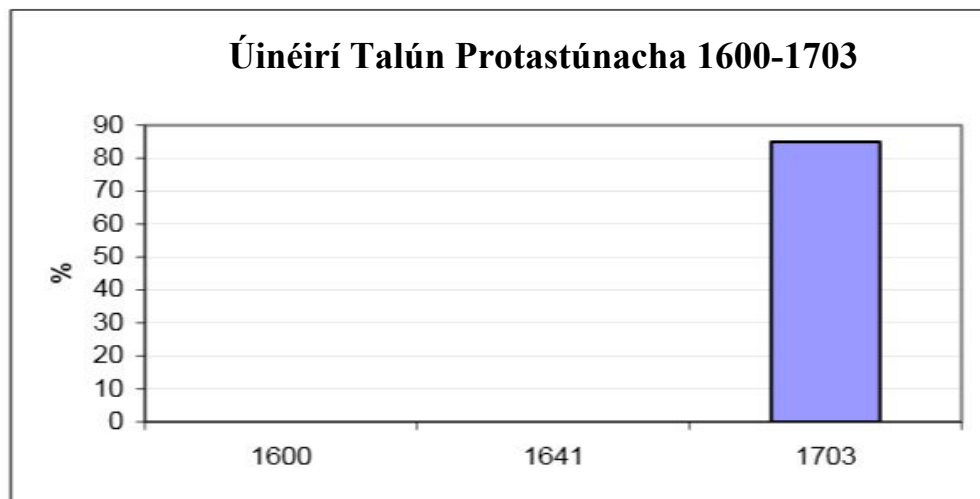
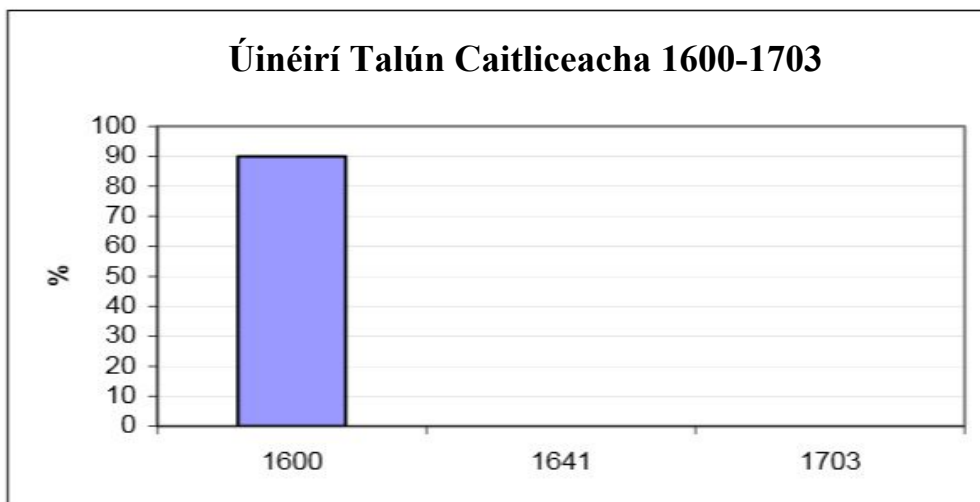
Úinéireacht Talún in Éirinn 1600 – 1703.

Úinéireacht Talún	1600	1641	1703
Caitlicigh	90%	60%	15%
Protastúnaigh	10%	40%	85%

1. Taispeánann na figiúirí thuas gur thit céatadán (%) na gCaitliceach a bhí ina n-úinéirí talún in Éirinn ó _____ in 1600 go dtí _____ in 1703.

D'ardaigh céatadán (%) na bProtastúnach a bhí ina n-úinéirí talún in Éirinn ó _____ in 1600 go dtí _____ in 1703. (4)

2. Bain úsáid as na figiúirí ón bpainéal thuas chun na graif thíos a chomhlánú chomh néata agus is féidir leat.



(4)

3. Tabhair **DHÁ** chúis a bhí le plandálacha in Éirinn.

(4)

4. Ainmnigh **DHÁ** chontae in Éirinn inar tharla plandálacha.

_____ agus _____ (4)

5. Faoi gach ceannteideal thíos, ainmnigh athrú **AMHÁIN** a tharla in Éirinn de bharr na bPlandálacha.

Teanga: _____

Creideamh: _____

Feirmeoireacht: _____

Bailte móra: _____

(8)

4. Tabhair cúis **AMHÁIN**, dar leat, nach dtrustann daoine in Vila Autodromo an méara.

(2)

5. Tabhair **DHÁ** chúis go mb'fhéidir nach mbeadh daoine in Vila Autodromo ag iarraidh bogadh go dtí páirt eile den chathair.

(4)

6. Féach ar an bpictiúr seo agus líon isteach na **TRÍ** thoisic bhrú agus na **TRÍ** thoisic tharraingthe a chuireann iallach ar dhaoine bogadh ón tuath le cónaí i gcathracha nó i dtíortha eile. Tá roinnt tugtha duit cheana féin mar thús.

TOSCA TARRAINGTHE

Ag tnúth leo seo a leanas a fháil

1. Deiseanna oibre
2. Sábháilteacht
3. Deis oideachais níos fearr
4. _____
5. _____
6. _____

Ag iarraidh imeacht ó

1. Easpa jabanna
2. Cogadh agus coimhlint
3. Oideachas teoranta
4. _____
5. _____
6. _____

TOSCA BRÚ

CHUIG SAOL NÍOS FEARR

(6)

CEIST 3

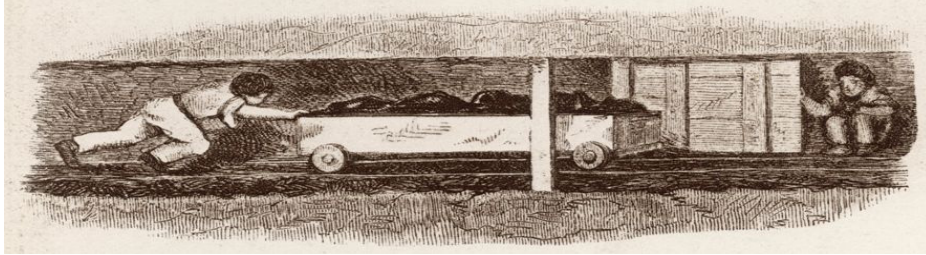
24 marc

Freagair cuid (A), ansin freagair cuid (B) nó (C)

(A) AN RÉABHLÓID THIONSCLAÍOCH


(12 mharc)

Suas go dtí 1842, ba mhinic mná agus páistí ag obair i mianaigh. Féach ar na pictiúir agus ar an eolas thíos agus freagair na ceisteanna ar an leathanach thall.




An Doirseoir

Ba mhinic gurbh é an doirseoir an duine ab óige sa chlann ag obair faoi thalamh. Ba é an cúram a bhí ar an duine sin na doirse adhmaid (comhlaí tógála) a lig don aer úr gluaiseacht tríd an mianach a oscailt agus a dhúnadh. De ghnáth, bheidís ina suí ansin agus iad go hiomlán sa dorchadas ar feadh suas le dhá uair déag an chloig, ag fanacht leis an tobán guail a ligean tríd an doras. Ní raibh an obair deacair ach d'fhéadfadh sí a bheith dainséarach. Dá dtitfidís ina gcodladh, d'fhéadfaidís a bheith mar chúis le drochthimpiste.



Na Tarraingeoirí agus na Sáiteoirí

Mná a bhíodh mar tharraingeoirí go minic. Bhíodh criosanna á gcaitheamh acu a chuidigh leo na tobáin ghuail a tharraingt. Páistí a bhíodh sna sáiteoirí agus bhídís ag brú na dtobán guail ón taobh thiar agus iad ag úsáid a gcloigne go minic. Chaill mórán sáiteoirí a gcuid gruaige ó bheith ag sá na dtobán. D'fhéadfadh na tobáin ghuail a bheith chomh trom le capall lánfhásta, agus b'éigean iad a stiúradh trí bhóithríní nach raibh ach méadar ar airde uaireanta.



Na Faighteoirí

Fir lánfhásta a bhí sna faighteoirí agus bhain siadsan an gual ó bhallaí an mhianaigh. Bhí sé thar a bheith te thíos sa mhianach agus bhí an obair crua. Mar sin, is beag éadaí a chaith siad. Bhíodh deannach guail á anáilú acu i gcaitheamh an lae agus bhí an-drochshláinte acu. Tharla mórán timpistí nuair a thit ballaí an mhianaigh agus gur clúdaíodh faighteoirí, sáiteoirí, tarraingeoirí agus doirseoirí. Ní raibh aon trealamh sábháilteachta acu.

1. Cad a rinne doirseoir?

(2)

2. Cén tionchar a bhí ag an obair ar shláinte na sáiteoirí agus na dtarraingeoirí?

(2)

3. Cad iad na príomhchineálacha mianach a bhí sa Bhreatain le linn na Réabhlóide Tionsclaíche?

_____ agus _____ (2)

4. Ainmnigh **DHÁ** fhoinse cumhachta i gcomhair inneall sa Réabhlóid Thionsclaíoch.

_____ agus _____ (2)

5. Tabhair **DHÁ** chúis ar úsáideadh páistí agus mná óga mar oibrithe sna mianaigh.


(4)

FREAGAIR CUID (B) NÓ CUID (C)

(B) AN CHÉAD CHOGLADH DOMHANDA

(12 mharc)

Féach ar na fótagraif thíos agus freagair na ceisteanna.



D'úsáid saighdiúirí colúir sa Chéad Chogadh Domhanda chun fótagraif a thógáil ón aer agus chun teachtaireachtaí a sheoladh. Is iomaí beatha a sábháladh mar thoradh ar theachtairachtaí a d'iompair colúir.

1. Ainmnigh **DHÁ** ainmhí eile ar baineadh úsáid astu chun cabhrú le saighdiúirí sa Chéad Chogadh Domhanda.

_____ agus _____ (2)

2. Déan cur síos ar an gcaoi ar chabhraigh ceann **AMHÁIN** de na hainmhithe a d'ainmnigh tú thuas leis na saighdiúirí.

_____ (2)

3. Scríobh alt gairid faoi cheann **AMHÁIN** díobh seo a leanas:

(a) An Saol sna Trinsí; (b) Cath an Somme; (c) Na cúiseanna a bhí leis an gCéad Chogadh Domhanda.

_____ (8)

1. Ainmnigh tír **AMHÁIN** a bhí ar thaobh na Gearmáine sa Chéad Chogadh Domhanda.

_____ (2)

2. Ainmnigh tír **AMHÁIN** a bhí ar thaobh na Breataine sa Chéad Chogadh Domhanda.

_____ (2)

3. Baineann na pictiúir seo a leanas le haslonnú páistí ó chathracha sa Bhreatain.

A MHÁITHREACHA
Seol amach as Londain iad



Tabhair deis ar shábháilteacht agus ar shláinte níos fearr dóibh



(a) Cén fáth ar aistríodh páistí amach as cathracha sa Bhreatain?

_____ (2)

(b) Cár cuireadh iad?

_____ (2)

(c) Cad atá sna boscaí beaga cairtchláir atá ar crochadh ar mhuiníl na bpáistí?

_____ (2)

(d) Cén fáth a gceapann tú go bhfuil lipéid ceangailte de na páistí?

_____ (2)

CEIST 4

24 marc

AN DOMHAN I mBÉAL FORBARTHA - ATHCHÚRSÁIL

(24 marc)

Is féidir le buidéal phlaisteacha an-dochar a dhéanamh don timpeallacht. Seo dhá thionscadal a bhfuil súil acu na buidéal a úsáid chun rud éigin úsáideach a dhéanamh. Léigh fúthu agus féach ar na fótagraif, ansin freagair na ceisteanna ar an gcéad leathanach eile.

Is deacair fuinneoga a chur i dtithe bochta mar favelas agus bailte seantán a thógann na daoine féin agus bíonn leictreachas gan. Dá bhrí sin, bíonn mórán daoine dorcha ar an taobh istigh, cé go bhfuil siad i dtíortha griannmhara.



Fuair mic léinn amach gur féidir buidéal lán le huisce agus tuarthóir a úsáid chun solas a scaipeadh taobh istigh de theach dorcha. Dá bharr sin, tá sé níos éasca ar dhaoine maireachtáil sna tithe, cócaráil, obair bhaile a dhéanamh agus aire a thabhairt do pháistí. Ní chosnaíonn sé mórán na 'soilse' sin a dhéanamh.



Bealach eile ar féidir buidéal phlaisteacha a úsáid ná chun ballaí a dhéanamh. Líontar na buidéal le gaineamh agus éiríonn siad crua cosúil le brící chun ballaí a thógáil. Úsáideadh na buidéal seo, a bhailítear ó óstáin agus ó ghnólachtaí sula gcaitear amach iad, chun tithe agus scoileanna a thógáil. Mar sin is féidir tithe agus scoileanna a thógáil go saor.



Tá beagán gluaiseachta sna tithe seo atá déanta de bhuidéal phlaisteacha agus mar sin ní thiteann siad chomh héasca sin i gceantair ina mbíonn creathanna talún. Is féidir iad a thógáil go tapa freisin. Tá ballaí na dtithe piléardhíonach chomh maith mar gheall ar an ngainimh sna buidéal.

CEIST 5

24 marc

Seiceáil go bhfuil léarscáil agus fótagraf agat sula bhfreagraíonn tú na ceisteanna seo.

Scrúdaigh an léarscáil 1: 50,000 de chuid na Suirbhéireachta Ordanáis agus an t-aerfótagraf a ghabhann leis an bpáipéar seo. Ansin freagair na ceisteanna thíos.

Taispeánann an léarscáil agus an fótagraf baile Neidín agus an ceantar ina thimpeall.

1. Úsáid an léarscáil agus ainmnigh **DHÁ** bhóthar náisiúnta den dara grád a thaispeántar uirthi.

_____ agus _____ (4)

2. Ó bheith ag féachaint ar an léarscáil, marcáil na ráitis seo **FÍOR** nó **BRÉAGACH** de réir mar is cuí.

- | | | | | | | |
|----|---------------------------------|------|--------------------------|----------|--------------------------|-----|
| a. | Tá Neidín suite le hais abhann | FÍOR | <input type="checkbox"/> | BRÉAGACH | <input type="checkbox"/> | |
| b. | Tá Neidín ar fhána sléibhe | FÍOR | <input type="checkbox"/> | BRÉAGACH | <input type="checkbox"/> | |
| c. | Tá stáisiún traenach i Neidín | FÍOR | <input type="checkbox"/> | BRÉAGACH | <input type="checkbox"/> | |
| d. | Tá stáisiún na nGardaí i Neidín | FÍOR | <input type="checkbox"/> | BRÉAGACH | <input type="checkbox"/> | (4) |

3. Úsáid an léarscáil agus ainmnigh **DHÁ** loch i gceantar Neidín.

_____ agus _____ (4)

4. Ó bheith ag féachaint ar an **bhfótagraf**, cad é an foirgneamh, i lár an tulra i bhfíoríocht an fhótagraif?

_____ (4)

5. Is é a thugtar ar an bpointe is airde ar an léarscáil seo ná _____ agus tá sé ag airde _____ méadar. (4)

6. Tá turasóir a bhfuil suim aige/aici sa **siúl agus sa rothaíocht** ag tabhairt cuairte ar Neidín.

Agus tú ag úsáid na léarscáile agus an fhótagraif, cad iad na gníomhaíochtaí a d'fhéadfá a mholadh dóibh a dhéanamh sa cheantar?

_____ (4)