

**RABHADH**

Freagair gach ceist sna spásanna atá ann dóibh ar an bpáipéar seo.

Scríobh do Scrúduithe anseo.

**Coimisiún na Scrúduithe Stáit**


---

**SCRÚDÚ AN TEASTAIS SHÓISEARAIGH, 2014**


---

**STAIDEAR IMSHAOIL AGUS SÓISIALTA**


---

**GNÁTHLEIBHÉAL**


---

**DÉ hAOINE, 6 MEITHEAMH – MAIDIN 9.30 - 11.30****Treoracha d'iarrthóirí:****Freagair GACH CEANN de na CÚIG cheist laistigh**

- Ceist 1 ar na leathanaigh 2, 3, 4 agus 5  
Freagair na codanna (A), (B) agus (C)
- Ceist 2 ar na leathanaigh 6, 7, 8 agus 9  
Freagair cuid (A) nó (B)
- Ceist 3 ar na leathanaigh 10, 11, 12 agus 13  
Freagair cuid (A). Ansin freagair cuid (B) nó (C)
- Ceist 4 ar na leathanaigh 14 agus 15  
Freagair na codanna (A) agus (B)
- Ceist 5 ar leathanach 16  
Déan deimhin de ar dtús go bhfuil an léarscáil agus an t-aerfótagraf agat. Freagair na ceistanna go léir.

**Don scrúdaitheoir amháin:**

<i>Ceist</i>	<b>MARC</b>
<b>1</b>	
<b>2</b>	
<b>3</b>	
<b>4</b>	
<b>5</b>	
<b>IOMLÁN</b>	
<b>GRÁD</b>	

# CEIST 1

24 marc

Freagair GACH ceann de na TRÍ chuid – (A) agus (B) agus (C)

## (A) CEISTEANNA ILROGHNACHA

(12 mharc)

Freagair 12 de na ceisteanna seo a leanas. Cuir tic (✓) sa bhosca ceart i ngach cás.

*Sampla:* Is í an chathair is mó in Éirinn ná:

- |                       |                                     |                  |                              |
|-----------------------|-------------------------------------|------------------|------------------------------|
| (a) Gaillimh          | <input type="checkbox"/>            | (b) Béal Feirste | <input type="checkbox"/>     |
| (c) Baile Átha Cliath | <input checked="" type="checkbox"/> | (d) Port Láirge  | <input type="checkbox"/> (1) |

1. Bíonn an tsnáthaid ar chompás dírithe i gcónaí:

- |               |                          |             |                              |
|---------------|--------------------------|-------------|------------------------------|
| (a) ó thuaidh | <input type="checkbox"/> | (b) ó dheas | <input type="checkbox"/>     |
| (c) soir      | <input type="checkbox"/> | (d) siar    | <input type="checkbox"/> (1) |

2. Is é is dífhoraóisíú ann ná:

- |                                       |                          |   |                              |
|---------------------------------------|--------------------------|---|------------------------------|
| (a) nuair a phlandálann daoine crainn | <input type="checkbox"/> | (b) nuair a dhéanann daoine staidéar ar chrainn | <input type="checkbox"/>     |
| (c) nuair a dhreapann daoine crainn   | <input type="checkbox"/> | (d) nuair a leagann daoine crainn               | <input type="checkbox"/> (1) |

3. Thóg na Normannaigh in Éirinn:

- |                        |                          |                     |                              |
|------------------------|--------------------------|---------------------|------------------------------|
| (a) crannóga           | <input type="checkbox"/> | (b) cloigthishe     | <input type="checkbox"/>     |
| (c) caisleáin chloiche | <input type="checkbox"/> | (d) tuamaí pasáiste | <input type="checkbox"/> (1) |

4. Is é an t-aigéan ar an taobh thiar d'Éirinn ná:

- |                          |                          |                          |                              |
|--------------------------|--------------------------|--------------------------|------------------------------|
| (a) An tAigéan Ciúin     | <input type="checkbox"/> | (b) An tAigéan Atlantach | <input type="checkbox"/>     |
| (c) An tAigéan Antartach | <input type="checkbox"/> | (d) An tAigéan Artach    | <input type="checkbox"/> (1) |

5. Ar léarscáil na Suirbhéireachta Ordanáis, is í an tsiombail do stáisiún traenach ná:

- |                               |                          |                                       |                              |
|-------------------------------|--------------------------|---------------------------------------|------------------------------|
| (a) spota dearg ar líne dhubh | <input type="checkbox"/> | (b) ciorcal agus cearnóg timpeall air | <input type="checkbox"/>     |
| (c) an litir mhór H           | <input type="checkbox"/> | (d) triantán dearg                    | <input type="checkbox"/> (1) |

6. Is í bratach an Aontais Eorpaigh ná:

- |                               |                          |                                     |                              |
|-------------------------------|--------------------------|-------------------------------------|------------------------------|
| (a) gorm le EU scríofa uirthi | <input type="checkbox"/> | (b) gorm le ciorcal de réaltaí órga | <input type="checkbox"/>     |
| (c) dearg, bán agus gorm      | <input type="checkbox"/> | (d) gorm agus bán                   | <input type="checkbox"/> (1) |

7. Is é an gléas a úsáidtear chun teocht a thomhas ná:

- |                  |                          |                   |                              |
|------------------|--------------------------|-------------------|------------------------------|
| (a) baraiméadar  | <input type="checkbox"/> | (b) méadar báistí | <input type="checkbox"/>     |
| (c) teirmiméadar | <input type="checkbox"/> | (d) ainéimiméadar | <input type="checkbox"/> (1) |

8. Is ionaid iad bainc, comhair chreidmheasa agus oifigí poist:

- (a) d'airgeadas  (b) d'oideachas   
(c) do chaitheamh aimsire  (d) do thaighde  (1)

9.



Is é seo an lógó atá ag grúpa ar a dtugtar:

- (a) Fair Trade  (b) Cumann na Croise Deirge   
(c) Concern  (d) Na Náisiúin Aontaithe  (1)

10. De ghnáth, d'fhaightí foirgnimh ar a dtugtar cloigthishe:

- (a) i gcrannóg  (b) i gcaisleán   
(c) i mainistir  (d) i loch  (1)

11. Sampla d'acmhainn **INATHNUAITE** is ea:

- (a) gaioth  (b) gual   
(c) gás  (d) móin  (1)

12. Le linn na Réabhlóide Tionsclaíche, ba é a chuireadh cumhacht ar fáil do mheaisíní ná:

- (a) ola  (b) gás   
(c) gual  (d) iarann  (1)

13.



Is é a thugtar ar thithe atá nasctha le chéile mar atá na cinn san fhótagraf seo ná:

- (a) tithe leathscoite  (b) tithe sraithe   
(c) tithe scoite  (d) árasáin  (1)

14. Is é is cumhacht na gréine ann ná:

- (a) cumhacht ón ngaioth  (b) cumhacht ó thonnta   
(c) cumhacht ó ola  (d) cumhacht ó sholas na gréine  (1)





*Gareth Chaney/RollingNews.ie – in úsáid le caoinchead*

In 2002, bhí Éire ar cheann de na chéad tíortha ar domhan a chuir tobhach ar na málaí plaisteacha a bhí á dtabhairt amach ag ollmhargaí. Tugadh isteach an tobhach in iarracht dul i ngleic leis an truailliú agus an dochar don fhiadhúlra a bhí á dhéanamh ag málaí plaisteacha ar fud na tíre agus a bhí ag dul i méid.

Laghdaigh úsáid málaí plaisteacha ó 1300 milliún mála go dtí 20 milliún sa bhliain ó tugadh isteach an tobhach in 2002.

Tar éis cúpla bliain, thosaigh úsáid málaí plaisteacha ag fás arís. In 2013, úsáideadh 140 milliún mála plaisteach in Éirinn.

1. Tabhair sampla **AMHÁIN** den chaoi a bhféadfadh truailliú le plaistigh dochar a dhéanamh don fhiadhúlra.

---

---

---

(2)

2. Cén fhianaise atá ann gur éirigh leis an tobhach ar mhálaí plaisteacha i dtús báire?

---

---

(2)

3. Mol beart **AMHÁIN** a laghdódh an líon málaí plaisteacha a úsáidtear in Éirinn, b'fhéidir.

---

---

(2)

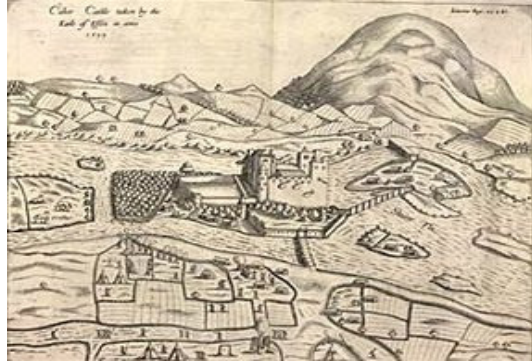

# CEIST 2

24 marc

Freagair cuid (A) NÓ cuid (B)

## (A) PLANDÁIL IN ÉIRINN SA 17ú hAOIS

(24 marc)



1. Ainmnigh **DHÁ** chontae i gCúige Uladh a plandáladh.

\_\_\_\_\_ agus \_\_\_\_\_ (2)

2. Ainmnigh contae **AMHÁIN** i gCúige Uladh **NÁR** plandáladh.

\_\_\_\_\_ (2)

3. Cén baile i gCúige Uladh ar cuireadh Londain lena ainm mar thoradh ar an bPlandáil?

\_\_\_\_\_ (2)

4. Tabhair **DHÁ** chúis a raibh rí agus rialtas Shasana ag iarraidh Plandáil in Éirinn.

\_\_\_\_\_  
\_\_\_\_\_  
\_\_\_\_\_  
\_\_\_\_\_  
\_\_\_\_\_ (4)

5. Míniú **DHÁ** cheann de na téarmaí seo a leanas:

Gealltóir

\_\_\_\_\_  
\_\_\_\_\_

Bábhún

\_\_\_\_\_  
\_\_\_\_\_

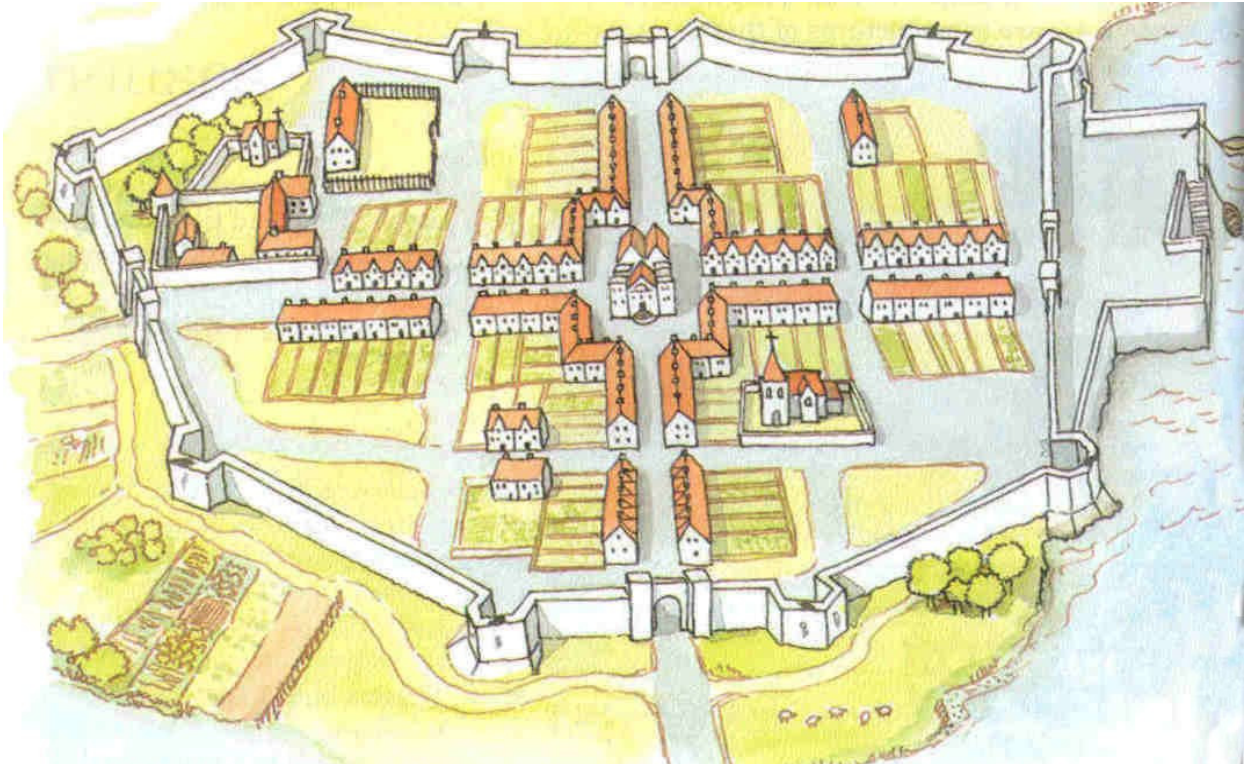
Seirbheoir

\_\_\_\_\_  
\_\_\_\_\_ (4)

6. Cad iad na tíortha ar tháinig formhór na bplandóirí i gCúige Uladh astu?

(2)

7. Féach ar an líníocht, a thaispeánann baile plandála in Éirinn, agus freagair an cheist a leanann é:



Tabhair **DHÁ** chúis a mbeadh sé deacair an baile sa líníocht a ionsaí.

(4)

8. Líon isteach an t-eolas atá ar iarraidh sa tábla seo:

	Roimh an bPlandáil	I ndiaidh na Plandála
An príomhtheanga a labhraíodh		
An príomhchreideamh		
Rialtóirí	Tiarnaí agus taoisigh Éireannacha	Rí nó Banríon Shasana

(4)

## NÓ

### (B) AN BHRASAÍL SAN FHICHIÚ hAOIS

(24 marc)

Féach ar an eolas agus ar an bpictiúr thíos agus freagair na ceisteanna a leanann iad.

Is féidir favelas a fháil ar imeall beagnach gach cathair sa Bhrasaíl. Nuair a aistríonn daoine chuig na cathracha, is minic nach dtuigeann siad cé chomh costasach agus atá an cíos agus cé chomh deacair agus atá sé post a íocann airgead maith a fháil. Dá bhrí sin, is in favelas a bhíonn cónaí orthu ar deireadh. Tá cuid de na daoine ina gcónaí in favelas le blianta fada agus níl siad ag iarraidh bogadh.



Creidiúint as an bhfótagraf: Milton Jung

1. Cén fáth gur ina gcónaí in favelas a chríochnaíonn mórán daoine i gcathracha na Brasaíle ar deireadh?

---

---

(2)

2. Cad iad na hábhair thógála agus na modhanna tógála a bhí ag na daoine a thóg na favelas?

---

---

---

---

(4)

3. Mol CEITHRE chúis a mbogann daoine chuig na cathracha sa Bhrasaíl.

---

---

---

---

---

(4)



4. Beidh Corn an Domhain ar siúl sa Bhrasaíl i samhradh na bliana 2014. Tá an lucht eagraithe ag iarraidh roinnt de na favelas in aice leis na staideanna peile a ghlanadh chun siúil. Féach ar na fótagraif seo agus freagair na ceisteanna thíos.



*Na fótagraif in úsáid le caoinchead rioonwatch.org*

- (a) Tabhair **DHÁ** chúis a bhfuil na favelas á nglanadh chun siúil dar leat.

---

---

(2)

- (b) An gceapann tú go bhfuil na daoine atá ina gcónaí sna favelas sásta faoi seo? Tabhair cúis le do fhreagra.

---

---

(2)

5. Tá mórán fadhbanna ag na favelas, ach tá mórán rudaí maithe ag baint leo freisin. Scríobh faoi na gnéithe dearfacha agus diúltacha de shaol an favela sa Bhrasaíl.

**Gnéithe diúltacha** (drochrudaí) a bhaineann le bheith i do chónaí in favela

---

---

---

---

---

(5)

**Gnéithe dearfacha** (rudaí maithe) a bhaineann le bheith i do chónaí in favela

---

---

---

---

---

(5)

# CEIST 3

24 marc


Freagair cuid (A), ansin freagair cuid (B) nó (C)

(A) AN RÉABHLÓID THIONSCLAÍOCH

(12 mharc)

Féach ar an léaráid seo agus freagair na ceisteanna ina dhiaidh.

## an LÁ OIBRE A BHÍ AG AN OIBRÍ MONARCHAN SA 19<sup>Ú</sup> haois



1. Cá mhéad uair sa lá a chaitear ag obair sa mhuileann?

(1)

2. Cá mhéad sos a fhaigheann na hoibrithe sa mhuileann le linn an lae?

(1)

3. Cá fhad a bhíonn ag na hoibrithe i gcomhair dinnéir?

(1)

Léigh go cúramach an tuarascáil seo ar shláinte daoine sa Réabhlóid Thionsclaíoch, ansin freagair na ceisteanna.

Sa bhliain 1836-37, d'fhreastail mé ar theaghlach a raibh trí dhuine dhéag ann agus bhí an tífeas ar dháréag acu, gan leaba sa siléar, gan tuí ná scamhacháin adhmaid. Luigh siad ar an urlár agus bhí sé chomh plódaithe sin gur ar éigin a bhí ar mo chumas mo bhealach a dhéanamh eatarthu.

I dteach eile, d'fhreastail mé ar cheithre othar déag. Ní raibh sa teach ach dhá leaba. Bhí na hothair ar fad, mar lóistéirí, ina luí ar chláir le linn a gcuid tinnis, gan a gcuid éadaí a bhaint díobh in aon chor.

Feicfear go scuabann an bás leis triúr as gach céad i mbailecheantar Mhanchain gach bliain, le daonra de bheagnach 80,000. Ag an am céanna, ní fhaigheann ach níos lú ná duine as gach céad bás i gceantar bruachbhailteach níos rathúla.

Edwin Chadwick

“The Sanitary Condition of the Labouring Population of Great Britain”

4. Cén galar atá ar dháréag den teaghlach a bhfuil trí dhuine dhéag ann?

(1)

5. Cé aige a bhfuil an ráta báis is airde, bailecheantar Mhanchain nó an ceantar bruachbhailteach?

(1)

6. Tabhair **DHÁ** phíosa fianaise a thaispeánann go raibh dálaí maireachtála na ndaoine seo an-dona.

(2)

7. Scríobh faoi na cúiseanna a raibh sé dainséarach oibriú i monarcha i dtús na Réabhlóide Tionsclaíche.

(5)

FREAGAIR CUID (B) NÓ CUID (C)

(B) AN CHÉAD CHOGADH DOMHANDA

(12 mharc)

Taispeánann an fótagraf seo trinse Briotanach i mí Mheán Fómhair 1917. Féach air agus freagair na ceisteanna thíos.



1. Tá scáthán ar bharr an raidhfil ag an bhfear a bhfuil an raidhfil aige. Cén fáth?

---

---

(2)

2. An gceapann tú gur tógadh an fótagraf seo le linn catha? Tabhair cúis **AMHÁIN** le do fhreagra.

---

---

(2)

3. Scríobh faoi cheann **AMHÁIN** díobh seo a leanas:

(a) Uirlisí nua troda a úsáideadh sa Chéad Chogadh Domhanda **NÓ** (b) An saol sna trinsí.

---

---

---

---

---

---

---

---

---

---

(8)

Féach ar na fótagraif agus freagair na ceistanna thíos.



Tharla Kristallnacht (Oíche na Gloine Briste) ar an 9ú/10ú Samhain 1938, sa Ghearmáin agus san Ostair. An oíche sin, ionsaíodh agus scriosadh gnóthais agus sionagóga Giúdacha.

1. Cén fáth ar díriodh ar ghnóthais agus ar shionagóga Giúdacha?

---



---

(2)

2. Tabhair sampla AMHÁIN de dhlí frith-Ghiúdach a tugadh isteach i nGearmáin na Naitsithe.

---



---

(2)

3. Scríobh faoi cheann AMHÁIN díobh seo a leanas:

(a) Sluachampaí géibhinn

NÓ

(b) Blitzkrieg

---



---



---



---



---



---



---

(8)

# CEIST 4

24 marc

Freagair an DÁ chuid – (A) agus (B).

## TEACHT AR UISCE GLAN

(24 marc)

Féach ar na fótagraif agus ar an eolas thíos agus freagair na ceisteanna a leanann iad:



Fótagraf le Bob Metcalf  
An léaráid san iochtar le caoinchead ó [www.turnonthetap.org.uk](http://www.turnonthetap.org.uk)



Fótagraf le D.O'Neil

**Gheobhaidh 4,500 páiste bás inniu mar thoradh ar ghalair a bhaineann le huisce.**

Faigheann breis agus 3.4 milliún duine bás gach bliain ar chúiseanna a bhaineann le huisce, sláintíocht agus sláinteachas.

Tarlaíonn beagnach 99% de na básanna seo sa domhan atá i mbéal forbartha.



Tá teacht ag níos mó daoine ar phón póca

ná ar leithreas



Léaráid le caoinchead ó [www.practicalaction.org](http://www.practicalaction.org)



Úsáideann cúig nóiméad de chithfholcadh níos mó uisce ná mar a úsáideann duine as sluma i dtír i mbéal forbartha i lá iomlán.

1. Cá mhéad páiste a gheobhaidh bás inniu ar fud an domhain mar thoradh ar ghalair a bhaineann le huisce?  
\_\_\_\_\_ (2)
2. Cá mhéad duine a fhaigheann bás ar fud an domhain gach bliain mar thoradh ar ghalair a bhaineann le huisce?  
\_\_\_\_\_ (2)
3. Tabhair sampla **AMHÁIN** de ghalair a d'fhéadfadh duine a fháil ó uisce salach a ól.  
\_\_\_\_\_ (2)
4. Dá mbeadh teacht ag gach duine sa domhan ar uisce glan, cé acu de na fíricí ar an leathanach thall nach mbeadh fíor a thuilleadh?  
\_\_\_\_\_  
\_\_\_\_\_  
\_\_\_\_\_ (2)
5. Cé acu de na híomhánna nó de na píosaí eolais ar an leathanach thall is mó a chuir alltacht nó ionadh ort? Tabhair **DHÁ** chúis le do fhreagra.  
\_\_\_\_\_  
\_\_\_\_\_  
\_\_\_\_\_ (4)
6. Tabhair **DHÁ** shampla den chaoi a gcuireann roinnt daoine uisce amú in Éirinn.  
\_\_\_\_\_  
\_\_\_\_\_  
\_\_\_\_\_ (4)
7. Tá méadair uisce á dtabhairt isteach in Éirinn. An gceapann tú go gcuirfidh daoine níos lú uisce amú mar thoradh air seo? Tabhair **DHÁ** chúis le do fhreagra.  
\_\_\_\_\_  
\_\_\_\_\_  
\_\_\_\_\_ (4)
8. Déan cur síos ar **DHÁ** athrú dhearfacha a tharlódh mar thoradh ar sconna uisce glan a thógáil i sráidbhaile san Afraic.  
\_\_\_\_\_  
\_\_\_\_\_  
\_\_\_\_\_ (4)

# CEIST 5

24 marc

Déan deimhin go bhfuil léarscáil agus fótagraf agat sula bhfreagraíonn tú na ceisteanna seo.

Scrúdaigh an léarscáil 1: 50,000 de chuid na Suirbhéireachta Ordanáis agus an t-aerfótagraf a thagann leis an bpáipéar seo. Ansin freagair na ceisteanna thíos.

Taispeánann an léarscáil agus an fótagraf baile Inis Córthaidh agus an ceantar ina thimpeall.

1. Ainmnigh **DHÁ** abhainn a thaispeántar ar an léarscáil.

\_\_\_\_\_ agus \_\_\_\_\_ (4)

2. Ó bheith ag féachaint ar an léarscáil, marcáil na ráitis seo **FÍOR** nó **BRÉAGACH** de réir mar is cuí.

a. Tá aerfort in Inis Córthaidh FÍOR  BRÉAGACH

b. Tá stáisiún traenach in Inis Córthaidh FÍOR  BRÉAGACH

c. Tá oifig turasóireachta in Inis Córthaidh FÍOR  BRÉAGACH

d. Tá oifig an phoist in Inis Córthaidh FÍOR  BRÉAGACH  (4)

3. Ag úsáid na léarscáile, tabhair ainmneacha **DHÁ** phríomhbhóthar náisiúnta sa cheantar.

\_\_\_\_\_ agus \_\_\_\_\_ (4)

4. Ainmnigh an t-oileán atá ag S 975 318 ar an léarscáil.

\_\_\_\_\_ (4)

5. Cén áis do chaitheamh aimsire a bheadh le fáil agat ag S 955 385 ar an léarscáil?

\_\_\_\_\_ (4)

6. Ag féachaint ar an **bhFÓTAGRAF**, tá paiste mór féir ar an mbruach ar thaobh na lámhe deise den abhainn i lár an fhótagraif. Tabhair **DHÁ** chúis a gceapann tú nach ndearnadh aon tógáil air seo.

\_\_\_\_\_  
\_\_\_\_\_  
\_\_\_\_\_  
\_\_\_\_\_ (4)