

RABHADH

Freagair gach ceist sna spásanna atá ann dóibh ar an bpáipéar seo.

Scríobh do Scrúduithe anseo.



Coimisiún na Scrúduithe Stáit

SCRÚDÚ AN TEASTAIS SHÓISEARAIGH, 2013

STAIÉAR IMSHAOIL AGUS SÓISIALTA

GNÁTHLEIBHÉAL

DÉ hAOINE, 7 MEITHEAMH – MAIDIN 9.30 - 11.30

Treoracha d'iarrthóirí:

Freagair GACH CEANN de na CÚIG cheist laistigh

- Ceist 1 ar na leathanaigh 2, 3, 4 agus 5
Freagair na codanna (A), (B) agus (C)
- Ceist 2 ar na leathanaigh 6, 7, 8 agus 9
Freagair cuid (A) nó (B)
- Ceist 3 ar na leathanaigh 10, 11, 12 agus 13
Freagair cuid (A). Ansin freagair cuid (B) nó (C)
- Ceist 4 ar na leathanaigh 14 agus 15
Freagair na codanna (A) agus (B)
- Ceist 5 ar leathanach 16
Déan deimhin de ar dtús go bhfuil an léarscáil agus an t-aerfótagraf agat. Freagair na ceisteanna go léir.

Don Scrúdaitheoir amháin:

Ceist	MARC
1	
2	
3	
4	
5	
IOMLÁN	
GRÁD	

CEIST 1

24 marc

Freagair GACH ceann de na TRÍ chuid – (A) agus (B) agus (C)

(A) CEISTEANNA ILROGHNACHA

(12 mharc)

Freagair 12 de na ceisteanna seo a leanas. Cuir tic (✓) sa bhosca ceart i ngach cás.

Sampla: Is í an chathair is mó in Éirinn ná:

- | | | | | |
|-----------------------|-------------------------------------|------------------|--------------------------|-----|
| (a) Gaillimh | <input type="checkbox"/> | (b) Béal Feirste | <input type="checkbox"/> | |
| (c) Baile Átha Cliath | <input checked="" type="checkbox"/> | (d) Port Láirge | <input type="checkbox"/> | (1) |

1. Tomhaistear teocht:

- | | | | | |
|------------------|--------------------------|-------------------|--------------------------|-----|
| (a) i milleabair | <input type="checkbox"/> | (b) i gcileagraim | <input type="checkbox"/> | |
| (c) i méadair | <input type="checkbox"/> | (d) i gcéimeanna | <input type="checkbox"/> | (1) |

2. Úsáidtear roth tomhais chun tomhas a dhéanamh:

- | | | | | |
|-------------------|--------------------------|--------------|--------------------------|-----|
| (a) ar fhána | <input type="checkbox"/> | (b) ar fhad | <input type="checkbox"/> | |
| (c) ar chéimeanna | <input type="checkbox"/> | (d) ar threo | <input type="checkbox"/> | (1) |

3. Tá Baile Átha Cliath, Corcaigh, Gaillimh, Luimneach, Sligeach, agus Port Láirge tógtha le hais:

- | | | | | |
|----------------|--------------------------|--------------|--------------------------|-----|
| (a) lochanna | <input type="checkbox"/> | (b) sléibhte | <input type="checkbox"/> | |
| (c) aibhneacha | <input type="checkbox"/> | (d) trána | <input type="checkbox"/> | (1) |

4. De ghnáth, is é a bhíonn le fáil i 'limistéar tráchtála' ná mórán:

- | | | | | |
|----------------|--------------------------|------------------------|--------------------------|-----|
| (a) crann | <input type="checkbox"/> | (b) tithe | <input type="checkbox"/> | |
| (c) monarchana | <input type="checkbox"/> | (d) oifigí agus siopaí | <input type="checkbox"/> | (1) |

5. Ar léarscáil na Suirbhéireachta Ordanáis, is í an tsiombail do bhrú óige ná:

- | | | | | |
|--------------------|--------------------------|-------------------------------------|--------------------------|-----|
| (a) triantán dearg | <input type="checkbox"/> | (b) ciorcal le cearnóg timpeall air | <input type="checkbox"/> | |
| (c) réalta ghorm | <input type="checkbox"/> | (d) an litir mhór 'H' | <input type="checkbox"/> | (1) |

6. Is é an t-ainm a tugadh ar mhanaigh a rinne taifead ar imeachta trína scríobh síos ná:

- | | | | | |
|------------------|--------------------------|----------------|--------------------------|-----|
| (a) scríobhaithe | <input type="checkbox"/> | (b) easpaig | <input type="checkbox"/> | |
| (c) poitigéirí | <input type="checkbox"/> | (d) cairdinéil | <input type="checkbox"/> | (1) |

7. Tháinig na Lochlannaigh go hÉirinn:

- | | | | | |
|---------------------------|--------------------------|----------------|--------------------------|-----|
| (a) de shiúl na gcos | <input type="checkbox"/> | (b) ar bhád | <input type="checkbox"/> | |
| (c) ar chapall agus cairt | <input type="checkbox"/> | (d) ar thraein | <input type="checkbox"/> | (1) |

8. Is ionaid iad páirceanna peile, cúirteanna leadóige agus cúrsaí gailf:

- | | | | | |
|---------------------------|--------------------------|-----------------|--------------------------|-----|
| (a) do chaitheamh aimsire | <input type="checkbox"/> | (b) d'airgeadas | <input type="checkbox"/> | |
| (c) do thaighde | <input type="checkbox"/> | (d) d'oideachas | <input type="checkbox"/> | (1) |

9. Is é seo an lógó atá ag grúpa ar a dtugtar:



- | | | | | |
|---------------------------|--------------------------|-----------------------------|--------------------------|-----|
| (a) Trócaire | <input type="checkbox"/> | (b) Cumann na Croise Deirge | <input type="checkbox"/> | |
| (c) Amnesty International | <input type="checkbox"/> | (d) Oxfam | <input type="checkbox"/> | (1) |

10. D'fhéadfaí an móta timpeall ar chaisleán a thrasnú ag úsáid:

- | | | | | |
|----------------------|--------------------------|---------------|--------------------------|-----|
| (a) túirín | <input type="checkbox"/> | (b) daingean | <input type="checkbox"/> | |
| (c) droichead tógála | <input type="checkbox"/> | (d) forbhalla | <input type="checkbox"/> | (1) |

11. Tháinig na Normannaigh:

- | | | | | |
|------------------|--------------------------|----------------------------|--------------------------|-----|
| (a) ón nGearmáin | <input type="checkbox"/> | (b) ón Normainn sa Fhrainc | <input type="checkbox"/> | |
| (c) ó hAlbain | <input type="checkbox"/> | (d) ón Spáinn | <input type="checkbox"/> | (1) |

12. Cé acu díobh seo a leanas atá mar fhoinse fuinnimh **IN-ATHNUAITE**?

- | | | | | |
|-------------------|--------------------------|---------|--------------------------|-----|
| (a) gual | <input type="checkbox"/> | (b) gás | <input type="checkbox"/> | |
| (c) tonnchumhacht | <input type="checkbox"/> | (d) ola | <input type="checkbox"/> | (1) |

13. Thosaigh an Réabhlóid Thionsclaíoch:

- | | | | | |
|------------------|--------------------------|-------------------------|--------------------------|-----|
| (a) sa Fhrainc | <input type="checkbox"/> | (b) sna Stáit Aontaithe | <input type="checkbox"/> | |
| (c) sa tSualainn | <input type="checkbox"/> | (d) sa Bhreatain | <input type="checkbox"/> | (1) |

14. Is é is cumhacht na gréine ann ná:

- | | | | | |
|------------------------|--------------------------|---------------------------------|--------------------------|-----|
| (a) cumhacht ón ngaoth | <input type="checkbox"/> | (b) cumhacht ó thonnta | <input type="checkbox"/> | |
| (c) cumhacht ó ola | <input type="checkbox"/> | (d) cumhacht ó sholas na gréine | <input type="checkbox"/> | (1) |

Féach ar an bpictiúr thíos agus freagair na ceisteanna ina dhiaidh.

Taispeánann an pictiúr araidí glasa ag fanacht lena mbailiú ar bhóthar i mBaile Átha Cliath.



Fótagraf ó O'Dea ag WikiCommons

1. Ainmnigh **DHÁ** chineál dramhaíl tí ar féidir iad a athchúrsáil.

(3)

2. Ainmnigh **DHÁ** chineál táirge a d'fhéadfadh a dhéanamh as ábhar athchúrsáilte.

(3)

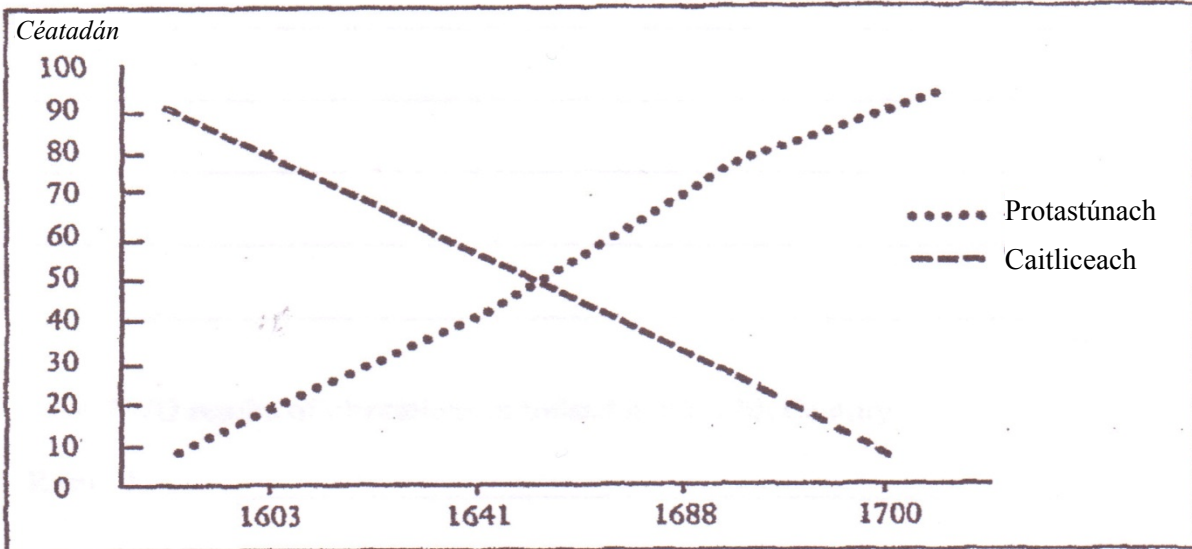
CEIST 2

24 marc

Freagair cuid (A) NÓ cuid (B)

(A) PLANDÁIL IN ÉIRINN SA 17ú hAOIS

(24 marc)



Déan staidéar ar an ngraf seo, a thaispeánann na hathruithe ar úinéireacht talún in Éirinn idir 1603 agus 1700. Ansin, freagair na ceisteanna seo a leanas.

1. I 1603, cén céatadán (%) den talamh a bhí faoi úinéireacht ag na:

Caitlicigh: _____ Protastúnaigh: _____ (2)

2. I 1700, cén céatadán (%) den talamh a bhí faoi úinéireacht ag na:

Caitlicigh: _____ Protastúnaigh: _____ (2)

3. Tabhair cúis **AMHÁIN** leis an hathruithe ar úinéireacht talún a thaispeántar sa ghráf.

(4)

Féach ar an eolas agus ar an bhfótagraf thíos agus freagair na ceisteanna ina dhiaidh.

Favela Rocinha, Rio de Janeiro



Fótagraf: Chensiyuan

Tá Rocinha ar an favela is mó agus ar cheann de na cinn is sine in Rio de Janeiro sa Bhrasaíl. Is anseo atá cónaí ar mhórán teaghlach le breis agus 30 bliain. Le linn na 1960daí agus 1970daí, b'as adhmaid nó cairtchlár a bhí formhór na dtithe déanta, ach anois, is as brící atá nach mór na tithe ar fad déanta agus tá soláthar uisce agus leictreachais acu.

Tharla na feabhsúcháin seo mar gheall ar ghrúpaí 'féinchabhrach'. Chuir an rialtas roinnt airgid ar fáil agus d'oibrigh daoine áitiúla le chéile iad féin chun a gceantar a fheabhsú. Tá mórán fadhbanna fós sna favelas, ach tá an tithíocht níos fearr, tá freastal scoile ag ardú, tá sé níos éasca teacht ar chúram sláinte agus tá an cháilíocht beatha i bhfad níos fearr ná mar a bhíodh sé.

1. Cén chathair ina bhfuil Rocinha? _____ (2)

2. Ainmnigh **DHÁ** ábhar a úsáideadh i dtithe i Rocinha sna 1960daí agus 1970daí.
_____ agus _____ (2)

3. Cad is grúpa 'féinchabhrach' ann?

_____ (4)

4. Aistríonn mórán daoine ó cheantair thuaithe sa Bhrasaíl chuig na cathracha móra. Tabhair **DHÁ** chúis a n-aistríonn daoine chuig na cathracha.

_____ (4)

Tá mórán de na favelas sa Bhrasaíl nach bhfuil chomh forbartha le Rocinha. Tá cuid de na favelas fós déanta as adhmaid agus cairtchlár. Is féidir leo a bheith an-dainséarach mar áiteanna cónaithe.

5. Tabhair **TRÍ** shampla den chaoi a bhféadfadh an saol a bheith dainséarach i **FAVELA**.

(6)



Fótagraf: Nate Cull



Fótagraf: Tetrakys

6. Scríobh faoi bhealaí a bhféadfadh daoine a chónaíonn i **FAVELA** áit chónaithe níos fearr a dhéanamh as.
Leideanna: oideachas, féinchabhair, bailiú bruscair, soláthar uisce, ionaid sláinte, 7rl.

(6)


CEIST 3

24 marc

Freagair cuid (A), agus ansin freagair cuid (B) nó (C)

(A) AN RÉABHLÓID THIONSCLAÍOCH

(12 mharc)



Páistí ag obair i monarchana



Athruithe i bhfeirmeoireacht/i dtalmhaíocht



Bailte móra le linn na Réabhlóide Tionsclaíche

FREAGAIR CUID (B) NÓ CUID (C)

(B) AN CHÉAD CHOAGADH DOMHANDA

(12 mharc)

Taispeánann na fótagraif seo saighdiúirí Briotanacha ag troid sa Chéad Chogadh Domhanda. Féach orthu agus freagair na ceisteanna thíos.



1. Ainmnigh **DHÁ** uirlis troda nua a úsáideadh sa Chéad Chogadh Domhanda.

_____ agus _____ (2)

2. Cad ba chiall le ‘Latrach an Áir’?

_____ (2)

3. Scríobh alt gearr faoi **CHEANN AMHÁIN** díobh seo a leanas:

- (a) Saighdiúirí Éireannacha sa Chéad Chogadh Domhanda;
- (b) Na cúiseanna a bhí leis an gCéad Chogadh Domhanda;
- (c) An saol sna Trinsí;
- (d) Suaitheadh catha.

_____ (8)

CEIST 4

24 marc

AN DOMHAN ÉAGOTHROM - OIDEACHAS

(12 mharc)


Féach ar an bhfótagraf agus freagair na ceistanna a leanann é:



Fótagraf: Nathan Kennedy, Carleton College, 2007, le caoinchead

Tógadh an pictiúr seo i scoil i Mailí san Afraic.

I Mailí, is minic a bhíonn fadhb ag scoileanna le freastal mar go mbíonn daltaí tinn ó bheith ag ól uisce salach, nó go dteastaíonn siad óna dtuismitheoirí chun dul faoi dhéin uisce glan a d'fhéadfadh a bheith na mílte ó bhaile. Ar cheann de na grúpaí a chabhraíonn le scoileanna i Mailí tá grúpa Gearmánach darb ainm Schule-Mali a chabhraíonn le daoine áitiúla toibreacha d'uisce glan a thógáil in aice lena gcuid scoileanna. De bharr na dtoibreacha nua tá daltaí níos sláintiúla agus is féidir leo freastal níos rialta a dhéanamh ar scoil ar feadh tréimhse níos faide. Dá fhad a fhanann páiste ag freastal ar an scoil is lú an seans go mbeidh siad ag maireachtáil i mbochtaineacht.



Fáisc-ealain ó wpclipart.com



Fótagraf – www.schule-mali.de

Taispeánann an fótagraf ar dheis ceann de na toibreacha a thóg 'Schule Mali' in aice le scoil.

1. Dá fhad a fhanann páiste ar scoil, is lú an seans go mbeidh siad ag maireachtáil i _____ (2)
2. Is é an t-ainm atá ar an ngrúpa Gearmánach a chabhraíonn le toibreacha a thógáil in aice le scoileanna i Mailí ná S _____ M _____ . (2)

3. Tabhair **DHÁ** chúis go mb'fhéidir nach ndéanfadh dalta i Mailí freastal rialta ar an scoil.

1. _____

2. _____ (2)

4. An smaoineamh maith é tobar a thógáil in aice le scoil? Tabhair cúis **AMHÁIN** le do fhreagra.

_____ (2)

5. Tabhair **DHÁ** chúis a bhfágann roinnt daltaí in Éirinn an scoil roimh an Ardeistiméireacht.

1. _____

2. _____ (2)

6. An dóigh leat go bhfaigheann mórán daltaí i Mailí an deis dul chuig coláiste nó ollscoil?

Is dóigh Ní dóigh Tabhair **DHÁ** chúis le do fhreagra.

_____ (2)

7. Scríobh faoi **CHEITHRE** dhifríocht idir do sheomra ranga féin agus an seomra ranga san fhótagraf thuas ar barr.

D'fhéadfá trealamh, leabhair, an líon daltaí sa rang, éide, deasca 7rl a lua.

_____ (8)

8. Mol bealach **AMHÁIN** a bhféadfadh do scoil cabhrú le scoil i Mailí.

_____ (4)

CEIST 5

24 marc

Déan deimhin go bhfuil léarscáil agus fótagraf agat sula bhfreagraíonn tú na ceisteanna seo.

Scrúdaigh an léarscáil 1: 50,000 de chuid na Suirbhéireachta Ordanáis agus an t-aerfótagraf a thagann leis an bpáipéar seo. Ansin freagair na ceisteanna thíos.

Taispeánann an léarscáil agus an fótagraf baile Chora Droma Rúisc agus an ceantar ina thimpeall.

1. Ainmnigh **DHÁ** bhóthar réigiúnach a thaispeántar ar an léarscáil.

_____ agus _____ (4)

2. Ó bheith ag féachaint ar an léarscáil, marcáil na ráitis seo **FÍOR** nó **BRÉAGACH** de réir mar is cuí.

a. Tá Cora Droma Rúisc suite cois abhann FÍOR BRÉAGACH

b. Tá Cora Droma Rúisc suite i gceantar an-sléibhtiúil FÍOR BRÉAGACH

c. Tá aerfort i gCora Droma Rúisc FÍOR BRÉAGACH

d. Tá stáisiún dóiteáin i gCora Droma Rúisc FÍOR BRÉAGACH

(4)

3. Ag úsáid na léarscáile, tabhair ainmneacha **DHÁ** loch sa cheantar.

_____ agus _____ (4)

4. Ag féachaint ar an **bhfótagraf**, cén fhianaise atá ann go n-úsáideann mórán daoine Cora Droma Rúisc mar bhunáit i gcomhair saoirí bádóireachta?

_____ (4)

5. Cad a bheadh le fáil agat ag G896 017?

_____ (4)

6. Tá turasóir a bhfuil suim aige/aici i **rothaíocht agus sa stair** ar cuairt i gCora Droma Rúisc. Ag úsáid na léarscáile agus an fhótagraif, cad iad na gníomhaíochtaí a d'fhéadfá a mholadh dóibh a dhéanamh sa cheantar?

Leid: G 97 02

_____ (4)