

RABHADH

Freagair gach ceist sna spásanna atá ann dóibh ar an bpáipéar seo.

Scríobh do Scrúduithe anseo.

**Coimisiún na Scrúduithe Stáit****SCRÚDÚ AN TEASTAIS SHÓISEARAIGH, 2011****STAIDEÁR IMSHAOIL AGUS SÓISIALTA****GNÁTHLEIBHÉAL****DÉ hAOINE, 10 MEITHEAMH – MAIDIN 9.30 – 11.30****Treoracha d'iarrthóirí:****Freagair GACH CEANN de na CÚIG Cheist laistigh**

- Ceist 1 ar na leathanaigh 2, 3, 4 agus 5
Freagair na codanna (A), (B) agus (C)
- Ceist 2 ar na leathanaigh 6, 7, 8 agus 9
Freagair cuid (A) nó (B)
- Ceist 3 ar na leathanaigh 10, 11, 12 agus 13
Freagair cuid (A). Ansin freagair cuid (B) nó (C)
- Ceist 4 ar na leathanaigh 14 agus 15
Freagair na codanna (A) agus (B)
- Ceist 5 ar leathanach 16
Déan deimhin de ar dtús go bhfuil an léarscáil agus an t-aerfótagraf agat. Freagair na ceistanna go léir.

Don Scrúdaitheoir amháin:

<i>Ceist</i>	MARC
1	
2	
3	
4	
5	
IOMLÁN	
GRÁD	

CEIST 1

24 marc

Freagair GACH ceann de na TRÍ chuid – (A) agus (B) agus (C)

(A) CEISTEANNA ILROGHNACHA

(12 mharc)

Freagair 12 de na ceisteanna seo a leanas. Cuir tic (✓) sa bhosca ceart i ngach cás.

Sampla: Is é an chathair is mó in Éirinn ná:

- | | | | | |
|-----------------------|-------------------------------------|------------------|--------------------------|-----|
| (a) Gaillimh | <input type="checkbox"/> | (b) Béal Feirste | <input type="checkbox"/> | |
| (c) Baile Átha Cliath | <input checked="" type="checkbox"/> | (d) Port Láirge | <input type="checkbox"/> | (1) |

1. Tomhaistear teocht:

- | | | | | |
|------------------|--------------------------|-------------------|--------------------------|-----|
| (a) i gcéimeanna | <input type="checkbox"/> | (b) i gcililitir | <input type="checkbox"/> | |
| (c) i méadair | <input type="checkbox"/> | (d) i gcileagraim | <input type="checkbox"/> | (1) |

2. Tomhaistear aerbhrú:

- | | | | | |
|------------------|--------------------------|------------------|--------------------------|-----|
| (a) i méadair | <input type="checkbox"/> | (b) i ngiúil | <input type="checkbox"/> | |
| (c) i gcéimeanna | <input type="checkbox"/> | (d) i milleabair | <input type="checkbox"/> | (1) |

3. Ba iad na Lochlannaigh na chéad daoine in Éirinn a bhunaigh:

- | | | | | |
|--------------------|--------------------------|-------------------|--------------------------|-----|
| (a) comharchumainn | <input type="checkbox"/> | (b) ceardchumainn | <input type="checkbox"/> | |
| (c) bailte | <input type="checkbox"/> | (d) mainistreacha | <input type="checkbox"/> | (1) |

4. Bhí otharlann i mainistir cosúil le:

- | | | | | |
|-----------------|--------------------------|--------------|--------------------------|-----|
| (a) leabharlann | <input type="checkbox"/> | (b) bialann | <input type="checkbox"/> | |
| (c) eaglais | <input type="checkbox"/> | (d) ospidéal | <input type="checkbox"/> | (1) |

5. Ar léarscáil na Suirbhéireachta Ordanáis, is í an tsiombail do Stáisiún Gardaí ná:

- | | | | | |
|----------------------------------|--------------------------|-----------------------|--------------------------|-----|
| (a) triantán dearg | <input type="checkbox"/> | (b) réalta ghorm | <input type="checkbox"/> | |
| (c) ciorcal le cearnóg thart air | <input type="checkbox"/> | (d) an litir mhór 'H' | <input type="checkbox"/> | (1) |

6. Ó 2007, is é an líon ballstát san Aontas Eorpach ná:


- | | | | | |
|--------|--------------------------|--------|--------------------------|-----|
| (a) 16 | <input type="checkbox"/> | (b) 50 | <input type="checkbox"/> | |
| (c) 27 | <input type="checkbox"/> | (d) 12 | <input type="checkbox"/> | (1) |

7. Is éard a chuireann comhrianta in iúl ar léarscáil ná:

- | | | | | |
|---|--------------------------|------------|--------------------------|-----|
| (a) abhainn | <input type="checkbox"/> | (b) cosáin | <input type="checkbox"/> | |
| (c) airde os cionn leibhéal na farraige | <input type="checkbox"/> | (d) teocht | <input type="checkbox"/> | (1) |

8. Is ionaid iad páirceanna, linnte snámha agus cúrsaí gailf:

- | | | | |
|----------------------------|--------------------------|-----------------------|--------------------------|
| (a) don chaitheamh aimsire | <input type="checkbox"/> | (b) don tionsclaíocht | <input type="checkbox"/> |
| (c) don airgeadas | <input type="checkbox"/> | (d) don oideachas | <input type="checkbox"/> |
- (1)



9. Spreagann an tsiombail seo daoine chun:

- | | | | |
|-------------------------|--------------------------|----------------------------|--------------------------|
| (a) páipéar a fhilleadh | <input type="checkbox"/> | (b) athchúrsáil a dhéanamh | <input type="checkbox"/> |
| (c) iompú timpeall | <input type="checkbox"/> | (d) olann a úsáid | <input type="checkbox"/> |
- (1)

10. Is é a tugadh ar an gcuid láidir lárnach de chaisleán ná:

- | | | | |
|--------------|--------------------------|---------------|--------------------------|
| (a) daingean | <input type="checkbox"/> | (b) cistin | <input type="checkbox"/> |
| (c) túirín | <input type="checkbox"/> | (d) forbhalla | <input type="checkbox"/> |
- (1)

11. Is é a tugadh ar na daoine a rinne ionradh ar Éirinn in 1169 ná:

- | | | | |
|------------------|--------------------------|----------------|--------------------------|
| (a) Lochlannaigh | <input type="checkbox"/> | (b) Ceiltigh | <input type="checkbox"/> |
| (c) Normannaigh | <input type="checkbox"/> | (d) Sacsanaigh | <input type="checkbox"/> |
- (1)

12. Is é is mó a bhíonn i limistéar cónaithe ná:

- | | | | |
|--------------------------|--------------------------|----------------|--------------------------|
| (a) monarchana | <input type="checkbox"/> | (b) tithe | <input type="checkbox"/> |
| (c) stáisiúin chumhachta | <input type="checkbox"/> | (d) feirmeacha | <input type="checkbox"/> |
- (1)

13. Cén tír inar cuireadh tús leis an Réabhlóid Thionsclaíoch?

- | | | | |
|------------------|--------------------------|-------------------------------|--------------------------|
| (a) Éire | <input type="checkbox"/> | (b) an Fhrainc | <input type="checkbox"/> |
| (c) an Bhreatain | <input type="checkbox"/> | (d) Stáit Aontaithe Mheiriceá | <input type="checkbox"/> |
- (1)

14. Sampla d'acmhainn inathnuaite ná:

- | | | | |
|---------------|--------------------------|----------|--------------------------|
| (a) an ghaoth | <input type="checkbox"/> | (b) gás | <input type="checkbox"/> |
| (c) ola | <input type="checkbox"/> | (d) gual | <input type="checkbox"/> |
- (1)

(B) MUINTIR AN tSEANSAOIL

AN tSEANRÓIMH, AN tSEANGHRÉIG, AN tSEANÉIGIPT NÓ DOMHAN NA nINCEACH

(6 mharc)

I gcás ceann **AMHÁIN** de na sibhialtachaí thuas, scríobh faoi cheann **AMHÁIN** de na topaicí seo a leanas:

- (a) Nósanna adhlactha
NÓ
- (b) Éadaí
NÓ
- (c) Tithe
NÓ
- (d) Saol mná ag an am sin

Is í an tsibhialtacht a scríobhfaidh mé fuithi ná: _____

(6)

(C) NA LOCHLANNAIGH NÓ NA CEILTIGH

(6 mharc)

Beidh mo fhreagra faoi na _____

1. Taobh amuigh d'Éirinn, ainmnigh **DHÁ** thír ar thaistil na daoine seo chucu.

_____ agus _____ (2)

2. Scríobh faoi na hairm a d'úsáideadh na daoine seo **NÓ** faoi na héadaí a chaithidís.

Is féidir leat sceitse a úsáid thíos má cheapann tú go gcabhróidh sé le do fhreagra.

_____ (4)

CEIST 2

24 marc

Freagair cuid (A) nó cuid (B).

(A) PLANDÁIL IN ÉIRINN SA 17ú hAOIS

(24 marc)

Déan staidéar ar an suirbhé thíos agus ansin freagair na ceistanna a leanann é.

Tuarascáil – Suirbhé 1613

Tá plandáil déanta ag an Iarla Abercorn, a dhéanann gealladh ar son sciartha an tSratha Bháin, Donnalong agus Skeep, [4500 acra san iomlán] ar na sciartha sin agus beagnach céad sealbhóir tí lena gcuid eallaigh lonnaithe aige iontu. Tá a bhformhór armáilte go maith. Tá teach mór ceann tuí tógtha aige thart ar chúirt chearnógach sa Srath Bán chun go gcónódh sé féin ann.

Níl ach 8 nó 9 de thionóntaí ag George Hamilton (Neamhchónaitheach) ar a sciar féin [1000 acra], seachas sin níl dada déanta aige.

SIR JOSIAS BODLEY

1. Cathain a rinneadh an suirbhé? _____ (1)
2. Cén jab a bhí ag an Iarla Abercorn? _____ (1)
3. Ainmnigh **DHÁ** limistéar a phlandáil an t-Iarla Abercorn.
a. _____ b. _____ (2)
4. Cá mhéad sealbhóir tí a lonnadh Iarla Abercorn ar a chuid sciartha féin?

_____ (1)
5. Ainmnigh **DHÁ** chineál bia a d'fhéadfadh na lonnaitheoirí a tháirgeadh.
a. _____ b. _____ (2)
6. Cén fáth a raibh na lonnaitheoirí armáilte? _____

_____ (2)

7. Cén cineál tí a thóg an t-Iarla Abercorn sa Srath Bán?

(2)

8. Tabhair **DHÁ** phiosa fianaise a thaispeánann nár éirigh le George Hamilton mar ghealltóir.

a. _____

b. _____

(2)

9. Cén t-ainm a bhí ar an bhfear a rinne an suirbhé?

(1)

10. Ainmnigh **DHÁ** arm a bhí in úsáid ag an am.

a. _____ b. _____

(2)

11. Tabhair fáth **AMHÁIN** a raibh tábhacht ag baint le gealltóirí chun go mbeadh rath ar Phlandáil Uladh.

(2)

12. Scríobh alt faoi **CHEANN** amháin díobh seo a leanas:

(a) Na fáthanna a bhí le Plandáil Uladh.

(b) Saol plandóra de chuid Plandáil Uladh.

(c) Comhlachtaí London.

(6)

NÓ

(B) AN BHRASAÍL SA 20Ú HAOIS (24 marc)

Léigh ‘Scéal Fabio agus Maria Barras’ thíos agus freagair na ceisteanna a leanann é.

Scéal Fabio agus Maria Barras

Feirmeoirí beaga in Para in oirthuaisceart na Brasaíle ba ea Fabio agus Maria Barras. D’fhás siad pónairí soighe, pónairí dearga, rís, arbhar agus caife san áit sin. D’fhás siad dóthain chun an teaghlach a chothú agus a choinneáil sláintiúil. I 1976, áfach, bhuail an mí-ádh iad.

Tháinig úinéir mór talún isteach agus ghlac sé seilbh ar a gcuid talún le cabhair ó na póilíní. Tháinig buíon fear armáilte agus ní dhearna siad ach Fabio agus a theaghlach a dhíbirt as an talamh ar leo ó cheart é. Tharla an rud céanna d’fheirmeoirí beaga eile. Ní raibh dada a d’fhéadfadh aon duine díobh a dhéanamh agus mar sin bhí orthu imeacht.

Thug Fabio agus Maria a gclann chuig cathair Sao Paulo. Cheap Fabio go bhfaigheadh sé obair i gceann de na monarchana móra, ach an chéad fhadhb a bhí ann ná áit chónaithe a fháil. Chuaigh siad chuig an favela nó an baile do bhochtáin darb ainm Vila Prudente. San áit sin, tháinig siad ar spás beag bídeach folamh idir dhá theach. Is anseo a thóg siad teach dóibh féin as adhmaid ó chásanna pacála.

Ní raibh príobháideacht, uisce reatha ná solas leictreach acu. Bhí séaraigh oscailte ann. Bhí na páistí i gcónaí tinn. B’fhuath le Maria an áit. Bhí a fhios ag Fabio go gcaithfeadh sé roinnt oiliúna a fháil dá mba mhian leis post a bheith aige.

Thosaigh sé ag foghlaim a cheirde mar fheisteoir. Go gairid tar éis dó cáiliú, fuair sé post i monarcha, ach bhí an pá agus na dálaí oibre an-dona. Bheartaigh Fabio ar thriail a bhaint as an mbríceadóireacht. Nuair a chríochnaíodh sé a chuid oibre sa mhonarcha ar an Aoine, chaitheadh sé an deireadh seachtaine ag bríceadóireacht. Shaothraíodh sé níos mó airgid thar an deireadh seachtaine ná mar a shaothraigh sé don tseachtain ar fad sa mhonarcha. Bheartaigh Fabio a bheith féinfhostaithe.

1. Cá raibh feirm bheag Fabio agus Maria? _____ (1)
2. An raibh a bpáistí sláintiúil agus cothaithe go maith sular bhog siad? Bhí Ní raibh (1)
3. Ainmnigh **DHÁ** bharr a chuireadh Fabio agus Maria ag fás.
_____ agus _____ (2)
4. Ainmnigh **DHÁ** ghrúpa a chabhraigh chun clann Barras a dhíbirt as a gcuid talún.
_____ agus _____ (2)
5. Cad é an **CHÉAD** fhadhb a bhí ag Fabio agus Maria nuair a shroich siad Sao Paulo?

_____ (2)
6. Cá bhfuair an chlann áit chónaithe?
_____ (2)

7. Cén fáth a raibh fuath ag Maria do Vila Prudente? _____

(2)

8. Tabhair **DHÁ** chúis a mbíodh na páistí i gcónaí tinn.

(2)

9. Tabhair **DHÁ** bhealach ar chuir Fabio feabhas ar a shaol.

(4)

10. Cad a d'fhéadfadh rialtas na Brasaíle a dhéanamh chun cabhrú le feirmeoirí beaga mar Fabio agus Maria?

(2)

Déan staidéar ar an bhfótagraf de Sao Paulo thíos agus ansin freagair an cheist ina dhiaidh:



11. Conas tá na foirgnimh atá chun tosaigh san fhótagraf difriúil leis na foirgnimh sin sa lár? Is féidir leat airde na bhfoirgneamh, ábhair tógála agus an úsáid a bhaintear astu a lua.

(4)

CEIST 3

24 marc

Freagair cuid (A), ansin freagair cuid (b) nó C

(A) AN RÉABHLÓID THIONSCLAÍOCH

(12 mharc)




Ionaclaíonn Edward Jenner páiste



Florence Nightingale



Bealaí nua chun bóithre a thógáil



Ceann de na chéad traenacha le carráistí do phaisinéirí

Bain úsáid as na pictiúir agus na léaráidí ar an leathanach thall agus scríobh oiread agus is féidir leat faoi cheann **AMHÁIN** díobh seo a leanas:

Na feabhsúcháin i gcúrsaí Iompair san 18ú agus sa 19ú haois.

Na feabhsúcháin i gcúrsaí Leighis san 18ú agus sa 19ú haois.

Scríobhfaidh mé faoi na Feabhsúcháin i gcúrsaí

(6)

Déan cur síos ar bhealach **AMHÁIN** a ndearna athruithe sa Réabhlóid Thionsclaíoch saol daoine níos fearr.

(3)

Déan cur síos ar bhealach **AMHÁIN** a ndearna athruithe sa Réabhlóid Thionsclaíoch saol daoine níos measa.

(3)

FREAGAIR CUID (B) NÓ CUID (C)

(B) AN CHÉAD CHOGLADH DOMHANDA

(12 mharc)



Ba dhochtúir óg Éireannach é an captaen Louis McKeever a chuaigh isteach in Arm na Breataine i mí Feabhra 1915.

Maraíodh é i 1917 agus é ag iarraidh cabhrú le fir ghonta le linn catha agus bronnadh bonn na Croise Míleata air as ucht a chuid crógachta.

Freagair na ceisteanna thíos.

1. Cén dáta ar bhásaigh an Captaen McKeever?

(2)




2. Cén fáth a ndeachaigh an-chuid Éireannach isteach in arm na Breataine chun troid sa Chéad Chogadh Domhanda?

(4)

3. Scríobh faoi **DHÁ** chineál arm nua a úsáideadh sa Chéad Chogadh Domhanda.

(6)

Le linn an Dara Cogadh Domhanda, bhí bia, éadaí agus ábhair eile gann. D'eisigh rialtais na Stát Aontaithe agus na Breataine póstaer chun a chur ina luí ar dhaoine nár chóir dóibh rudaí a chur amú.



1. Cé acu póstaer is éifeachtaí, dar leat, agus cén fáth?

(2)

2. Cad a chiallaíonn ‘níos lú solais – níos mó eitleán’?

(4)

3. Scríobh faoi **CHEANN** amháin díobh seo a leanas:

(a) Aslonnú

(b) Arm na Talún

(c) An Blitz

(6)

CEIST 4

24 marc

Freagair an DÁ chuid – (A) agus (B).

(A) AN DOMHAN FORBARTHA – BÁSMHAIREACHT NAÍONÁN

(12 mharc)

Léigh an t-eolas agus freagair na ceisteanna go léir thíos.

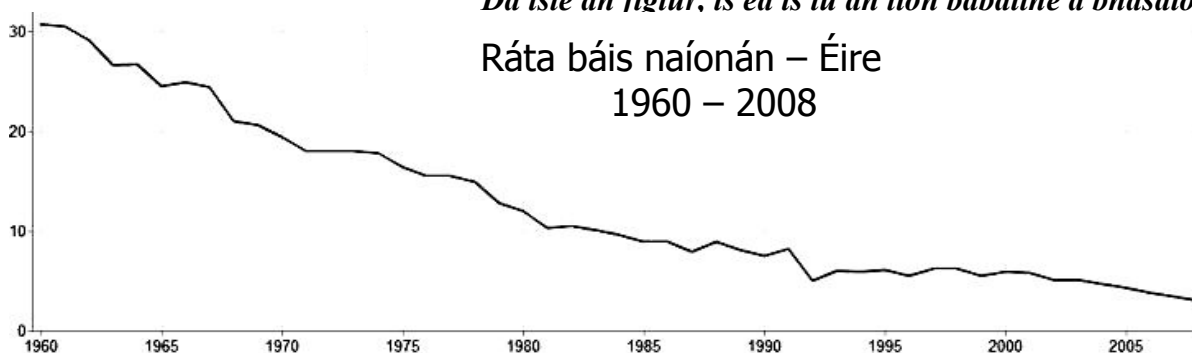


Íomhá: Suat Eman / FreeDigitalPhotos.net

Tír	Babaithe nár mhair go raibh a gcéad bhreithlá sroichte acu (as gach 1000 a rugadh) in 2008
An Ghearmáin	4
An Astráil	4
Éire	4
Ceanada	5
An Ríocht Aontaithe	5
Na Stáit Aontaithe	7

Dá ísle an figiúr, is ea is lú an líon babaithe a bhásaíonn.

Ráta báis naíonán – Éire
1960 – 2008



1. Ag úsáid an eolais, ainmnigh **DHÁ** thír a bhfuil ráta báis naíonán níos airde iontu ná mar atá in Éirinn.

(4)

2. Mol **DHÁ** chúis a bhfuil básmhaireacht naíonán tite go mór in Éirinn ó 1960.

(4)

3. Mol **DHÁ** chúis a bhfaigheann roinnt babaithe i dtíortha forbartha bás sula mbíonn siad bliain d'aois.

(4)

(B) AN DOMHAN I mBÉAL FORBARTHA – BÁSMHAIREACTH NAÍONÁN
Léigh an t-eolas agus freagair na ceistanna ar fad thíos.

(12 mharc)



Fótagraf le Teseum (Flickr)/Creative Commons

Tír	Babaithe nár mhair go raibh a gcéad bhreithlá sroichte acu (as gach 1000 a rugadh) in 2008
An Bhanglaidéis	41
Háítí	64
An tSaimbia	86
An tSomáil	109
Poblacht na hAfraice Láir	112
An Afganastáin	134

Dá airde an figiúr, is ea is mó páistí a bhásaíonn.

1. Ag úsáid an eolais, ainmnigh **DHÁ** thír a bhfuil ráta báis naíonán níos airde iontu ná mar atá sa tSaimbia.
_____ agus _____ (4)
2. Cén fáth, dar leat, a bhfuil ráta báis naíonán chomh hard sin ag an Afganastáin?
_____ (4)
3. Is féidir le básmhaireacht naíonán a bheith ard i dtíortha ina bhfuil sé deacair bia a fháil. Scríobh faoi **DHÁ** thoisce eile arbh fhéidir gurb iad is cúis go bhfaigheann níos mó babaithe bás sula mbíonn an chéad bhreithlá bainte amach acu.

_____ (4)

CEIST 5

24 marc

Déan deimhin de go bhfuil léarscáil agus fótagraf agat sula bhfreagraíonn tú na ceisteanna seo.

Scrúdaigh Léarscáil na Suirbhéireachta Ordanáis 1: 50,000 agus an t-aerfótagraf a thagann leis an bpáipéar seo. Ansin freagair na ceisteanna seo a leanas.

Taispeánann an léarscáil agus an fótagraf baile Charraig na Siúire agus an ceantar ina thimpeall.

1. Ainmnigh **DHÁ** Bhóthar Réigiúnach a thaispeántar ar an léarscáil
_____ agus _____ (4)
2. Ainmnigh **DHÁ** mhodh iompair a d'fhéadfá a úsáid chun taisteal go Carraig na Siúire
 - a. D'fhéadfainn taisteal go Carraig na Siúire ar _____.
Tuigim é sin mar, ar an léarscáil, is féidir liom
_____ a fheiceáil
 - b. D'fhéadfainn taisteal go Carraig na Siúire ar _____
Tuigim é sin mar, ar an léarscáil, is féidir liom
_____ a fheiceáil (4)
3. Agus tú ag úsáid na léarscáile, ainmnigh **DHÁ** abhainn sa cheantar.
_____ agus _____ (4)
4. Agus tú ag féachaint ar an bhfótagraf, cén fhianaise atá ann gur baile é Carraig na Siúire ar tháinig forás air le déanaí?

_____ (4)
5. Cén ghné a fhaightear ag S 373 265?
_____ (4)
6. Tá turasóir a bhfuil suim aige nó aici sa **stair agus sa tsiúlóid** ar cuairt i gCarraig na Siúire. Agus tú ag úsáid na léarscáile agus an fhótagraif, cad iad na gníomhaíochtaí a mholfá dóibh a dhéanamh sa cheantar?

_____ (4)